

정답

01 2	11 12	21 11
02 4	12 13	22 7
03 2	13 12	23 123
04 -56	14 4	24 14
05 3	15 7	25 16
06 5	16 -8	26 41
07 23	17 0	27 65
08 10	18 8	28 59
09 ⑤	19 81	29 45
10 8	20 26	30 108

01

$\lim_{x \rightarrow 3} f(x) = -\infty, \lim_{x \rightarrow 3} \{3f(x) + 4g(x)\} = 1$ 에서

$$\lim_{x \rightarrow 3} \frac{3f(x) + 4g(x)}{f(x)} = 0 \text{ 이므로}$$

$$\lim_{x \rightarrow 3} \left\{ 3 + \frac{4g(x)}{f(x)} \right\} = 0$$

$$\lim_{x \rightarrow 3} \frac{g(x)}{f(x)} = -\frac{3}{4}$$

따라서

$$\begin{aligned} \lim_{x \rightarrow 3} \frac{4f(x) - 2g(x)}{5f(x) + 3g(x)} &= \lim_{x \rightarrow 3} \frac{4 - \frac{2g(x)}{f(x)}}{5 + \frac{3g(x)}{f(x)}} \\ &= \frac{4 - 2 \times \left(-\frac{3}{4}\right)}{5 + 3 \times \left(-\frac{3}{4}\right)} \\ &= \frac{\frac{11}{2}}{\frac{11}{4}} \\ &= 2 \end{aligned}$$

02

$\lim_{x \rightarrow \infty} \frac{f(x) + x^2}{x - 1} = 6$ 을 만족시키는 다항함수 $f(x) + x^2$ 은 최고차항의 계수가 6

인 일차함수이므로

$$f(x) = -x^2 + 6x + b \text{ (단, } b \text{는 상수)} \dots \textcircled{1}$$

또한 $\lim_{x \rightarrow 1} \frac{f(x) - 8}{x - 1} = a$ 에서 $x \rightarrow 1$ 일 때 (분모) $\rightarrow 0$ 이고 극한값이 존재하

므로 (분자) $\rightarrow 0$ 이어야 한다.

즉, $\lim_{x \rightarrow 1} \{f(x) - 8\} = f(1) - 8 = 0$ 에서

$$f(1) = 8$$

①에서 $f(1) = -1^2 + 6 + b = 5 + b$ 이므로

$$5 + b = 8, b = 3$$

따라서

$$\begin{aligned} a &= \lim_{x \rightarrow 1} \frac{f(x) - 8}{x - 1} \\ &= \lim_{x \rightarrow 1} \frac{(-x^2 + 6x + 3) - 8}{x - 1} \\ &= \lim_{x \rightarrow 1} \frac{-x^2 + 6x - 5}{x - 1} \\ &= \lim_{x \rightarrow 1} \frac{-(x - 1)(x - 5)}{x - 1} \\ &= \lim_{x \rightarrow 1} \{-(x - 5)\} \\ &= -(1 - 5) \\ &= 4 \end{aligned}$$

$\{xf(x)\}^2 - 2f(x)g(x) + 4g(x) - 4x^2 = 0$ 에서 $x \neq 0$ 이면

$$\{f(x)\}^2 - \frac{2f(x)g(x)}{x^2} + \frac{4g(x)}{x^2} - 4 = 0$$

$$\{f(x)\}^2 - 4 = \frac{2g(x) \times \{f(x) - 2\}}{x^2}$$

$\lim_{x \rightarrow 0} f(x) = 1$ 이므로

$$\begin{aligned} \lim_{x \rightarrow 0} \frac{g(x)}{x^2} &= \lim_{x \rightarrow 0} \frac{1}{2} \times \frac{\{f(x)\}^2 - 4}{f(x) - 2} \\ &= \frac{1}{2} \times \frac{1^2 - 4}{1 - 2} \\ &= \frac{3}{2} \end{aligned}$$

따라서

$$\begin{aligned} \lim_{x \rightarrow 0} \frac{9x^2 f(x) - 2g(x)}{x^3 f(x) + 2g(x)} &= \lim_{x \rightarrow 0} \frac{9f(x) - \frac{2g(x)}{x^2}}{xf(x) + \frac{2g(x)}{x^2}} \\ &= \frac{9 \lim_{x \rightarrow 0} f(x) - 2 \lim_{x \rightarrow 0} \frac{g(x)}{x^2}}{\lim_{x \rightarrow 0} xf(x) + 2 \lim_{x \rightarrow 0} \frac{g(x)}{x^2}} \\ &= \frac{9 \times 1 - 2 \times \frac{3}{2}}{0 + 2 \times \frac{3}{2}} \\ &= 2 \end{aligned}$$

조건 (가)에서 $\lim_{x \rightarrow \infty} \frac{f(x) - 2x^3}{4x^2 + 3x} = 2$ 를 만족시키는 다항함수 $f(x) - 2x^3$ 은 최

고차항의 계수가 8인 이차함수이므로

$$f(x) = 2x^3 + 8x^2 + ax + b \quad (a, b \text{는 상수}) \cdots \textcircled{1}$$

으로 놓을 수 있다.

조건 (나)에서 $x \rightarrow -3$ 일 때 (분모) $\rightarrow 0$ 이고 극한값이 존재하므로

(분자) $\rightarrow 0$ 이어야 한다.

즉,

$$\lim_{x \rightarrow -3} f(x) = f(-3) = 0$$

이때 $f(x)$ 는 삼차함수이므로 $\lim_{x \rightarrow -3} \frac{f(x)}{(x+3)^k}$ 의 값이 존재하려면 $f(x)$ 는

$(x+3)^k$ 으로 나누어떨어져야 한다.

k 가 2 이상의 자연수이므로

$$k = 2 \text{ 또는 } k = 3$$

(i) $k = 2$ 일 때

$f(x)$ 는 $(x+3)^2$ 으로 나누어떨어져야 하고 이때 $f(x)$ 는 최고차항의 계수가 2인

삼차함수이므로

$$\begin{aligned} f(x) &= 2(x+3)^2(x+c) \\ &= 2x^3 + 2(c+6)x^2 + 6(2c+3)x + 18c \quad (c \text{는 상수}) \cdots \textcircled{2} \end{aligned}$$

으로 놓을 수 있다.

이때 ①, ②에서 x^2 의 계수를 비교하면

$$8 = 2(c+6)$$

$$c = -2$$

즉, $f(x) = 2(x+3)^2(x-2)$ 이므로

$$\begin{aligned} m &= \lim_{x \rightarrow -3} \frac{f(x)}{(x+3)^2} \\ &= \lim_{x \rightarrow -3} \frac{2(x+3)^2(x-2)}{(x+3)^2} \\ &= \lim_{x \rightarrow -3} 2(x-2) \\ &= -10 \end{aligned}$$

(ii) $k = 3$ 일 때

$f(x)$ 는 $(x+3)^3$ 으로 나누어떨어져야 하고 이때 $f(x)$ 는 최고차항의 계수가 2인

삼차함수이므로

$$f(x) = 2(x+3)^3 = 2x^3 + 18x^2 + 54x + 54$$

그러나 ①에서 $f(x)$ 의 x^2 의 계수는 8이므로 이는 불가능하다.

(i), (ii)에서 $f(x) = 2(x+3)^2(x-2)$, $m = -10$ 이므로

$$f\left(\frac{m}{2}\right) = f(-5) = 2 \times (-2)^2 \times (-7) = -56$$

05

조건 (가)에서 $x \rightarrow 1$ 일 때 (분모) $\rightarrow 1 + a$ 이므로 $a = -1$ 인 경우와 $a \neq -1$ 인 경우로 나누어 생각하자.

(i) $a = -1$ 인 경우

$$\begin{aligned} \lim_{x \rightarrow 1} \frac{x-1}{x^2-x} &= \lim_{x \rightarrow 1} \frac{x-1}{x(x-1)} \\ &= \lim_{x \rightarrow 1} \frac{1}{x} = 1 \end{aligned}$$

이므로

$$b = 1$$

조건 (나)에서

$$\lim_{x \rightarrow 0} \left| \frac{x^3 + ax^2 + bx}{x^k} \right| = \lim_{x \rightarrow 0} \left| \frac{x^3 - x^2 + x}{x^k} \right|$$

$k = 1$ 일 때

$$\lim_{x \rightarrow 0} \left| \frac{x^3 - x^2 + x}{x} \right| = \lim_{x \rightarrow 0} |x^2 - x + 1| = 1$$

이므로 조건 (나)를 만족시킨다.

$k \geq 2$ 일 때

$$\lim_{x \rightarrow 0} \left| \frac{x^3 - x^2 + x}{x^k} \right| = \infty$$

로 발산한다.

(ii) $a \neq -1$ 인 경우

조건 (가)에서 $\lim_{x \rightarrow 1} \frac{x-1}{x^2+ax} = \frac{1-1}{1^2+a} = 0$ 이므로

$$b = 0$$

$a \neq -1, b = 0$ 일 때

$$\lim_{x \rightarrow 0} \left| \frac{x^3 + ax^2 + bx}{x^k} \right| = \lim_{x \rightarrow 0} \left| \frac{x^3 + ax^2}{x^k} \right| \dots \textcircled{1}$$

이때 $a = 0$ 이면 $\textcircled{1}$ 은 $\lim_{x \rightarrow 0} \frac{x^3}{x^k}$ 이고

$k = 1$ 일 때

$$\lim_{x \rightarrow 0} \left| \frac{x^3}{x} \right| = \lim_{x \rightarrow 0} |x^2| = 0,$$

$k = 2$ 일 때

$$\lim_{x \rightarrow 0} \left| \frac{x^3}{x^2} \right| = \lim_{x \rightarrow 0} |x| = 0,$$

$k = 3$ 일 때

$$\lim_{x \rightarrow 0} \left| \frac{x^3}{x^3} \right| = \lim_{x \rightarrow 0} |1| = 1$$

로 각각 수렴하며

$k \geq 4$ 일 때

$$\lim_{x \rightarrow 0} \left| \frac{x^3}{x^k} \right| = \lim_{x \rightarrow 0} \left| \frac{1}{x^{k-3}} \right| = \infty$$

로 발산하므로 $\textcircled{1}$ 이 1로 수렴하는 경우는 $k = 3$ 이고 $a = 0$ 인 경우이다.

$a \neq 0$ 이면 $\textcircled{1}$ 은

$k = 1$ 일 때

$$\lim_{x \rightarrow 0} \left| \frac{x^3 + ax^2}{x} \right| = \lim_{x \rightarrow 0} |x^2 + ax| = 0,$$

$k = 2$ 일 때

$$\lim_{x \rightarrow 0} \left| \frac{x^3 + ax^2}{x^2} \right| = \lim_{x \rightarrow 0} |x + a| = |a|$$

로 각각 수렴하며

$k \geq 3$ 일 때

$$\lim_{x \rightarrow 0} \left| \frac{x^3 + ax^2}{x^k} \right| = \infty$$

로 발산한다.

즉, $\textcircled{1}$ 이 1로 수렴하는 경우는 $k = 2$ 이고 $a = 1$ 인 경우이다.

(i), (ii)에서 구하는 순서쌍 (a, b) 는

$$(-1, 1), (0, 0), (1, 0)$$

06

두 함수 $f(x) + g(x), f(x) - g(x)$ 가 모두 실수 전체의 집합에서 연속이므로 두 함수

$$f(x) = \frac{\{f(x) + g(x)\} + \{f(x) - g(x)\}}{2},$$

$$g(x) = \frac{\{f(x) + g(x)\} - \{f(x) - g(x)\}}{2}$$

도 모두 실수 전체의 집합에서 연속이다.

함수 $f(x)$ 가 $x = -2$ 에서 연속이므로 $\lim_{x \rightarrow -2^-} f(x) = \lim_{x \rightarrow -2^+} f(x) = f(-2)$ 이다.

$$\lim_{x \rightarrow -2^-} f(x) = \lim_{x \rightarrow -2^-} (-ax + 17) = 2a + 17,$$

$$\lim_{x \rightarrow -2^+} f(x) = \lim_{x \rightarrow -2^+} (x^2 + x + a^2) = 2 + a^2,$$

$$f(-2) = 2 + a^2$$

이므로

$$2a + 17 = 2 + a^2$$

$$a^2 - 2a - 15 = 0$$

$$(a + 3)(a - 5) = 0$$

$$a = -3 \text{ 또는 } a = 5 \dots \textcircled{1}$$

함수 $g(x)$ 가 $x = 2$ 에서 연속이므로 $\lim_{x \rightarrow 2^-} g(x) = \lim_{x \rightarrow 2^+} g(x) = g(2)$ 이다.

$$\lim_{x \rightarrow 2^-} g(x) = \lim_{x \rightarrow 2^-} \left(-\frac{5}{2}x^2 + a^2 \right) = a^2 - 10,$$

$$\lim_{x \rightarrow 2^+} g(x) = \lim_{x \rightarrow 2^+} (x^2 + 6x - 1) = 15,$$

$$g(2) = 15$$

이므로 $a^2 - 10 = 15$ 에서

$$a^2 = 25$$

$$a = 5 \text{ 또는 } a = -5 \dots \textcircled{2}$$

따라서 $\textcircled{1}, \textcircled{2}$ 에서 $a = 5$

모든 자연수 k 에 대하여 두 곡선 $y = x^3 + k$, $y = 4x^2 - 5x$ 는 한 점에서만 만나고 그 점의 x 좌표가 α_k 이므로 $f(x) = x^3 - 4x^2 + 5x + k$ 라 하면 방정식

$f(x) = 0$ 은 항상 단 한 개의 실근 α_k 를 갖는다.

이때 함수 $f(x)$ 는 닫힌구간 $[-2, -1]$ 에서 연속이므로 x 에 대한 방정식

$f(x) = 0$ 이 열린구간 $(-2, -1)$ 에서 오직 하나의 실근을 가지려면

$f(-2)f(-1) < 0$ 이어야 한다.

$$f(-2) = -8 - 16 - 10 + k = k - 34,$$

$$f(-1) = -1 - 4 - 5 + k = k - 10$$

이므로

$$(k - 34)(k - 10) < 0$$

$$10 < k < 34$$

따라서 자연수 k 의 값은 11, 12, 13, ..., 33이고 그 개수는 23이다.

함수 $f(x)$ 가 $x = -2$ 에서 연속이므로 $\lim_{x \rightarrow -2^-} f(x) = \lim_{x \rightarrow -2^+} f(x) = f(-2)$ 이다.

$$\lim_{x \rightarrow -2^+} f(x) = \lim_{x \rightarrow -2^+} \frac{x^3 + ax^2 + bx + 2}{x + 2} \dots \textcircled{\text{㉑}}$$

함수 $f(x)$ 는 $x = 2$ 에서 연속이므로

$$\begin{aligned} \lim_{x \rightarrow -2^-} f(x) &= \lim_{x \rightarrow -2^-} f(|x|) = \lim_{x \rightarrow 2^+} f(x) = f(2) \\ &= \frac{8 + 4a + 2b + 2}{2 + 2} \\ &= \frac{2a + b + 5}{2} \dots \textcircled{\text{㉒}} \end{aligned}$$

㉑, ㉒에서

$$\lim_{x \rightarrow -2^+} \frac{x^3 + ax^2 + bx + 2}{x + 2} = \frac{2a + b + 5}{2} \dots \textcircled{\text{㉓}}$$

이어야 한다.

㉓에서 $x \rightarrow -2$ -일 때 (분모) $\rightarrow 0$ 이고 극한값이 존재하므로 (분자) $\rightarrow 0$ 이어야 한다.

즉, $\lim_{x \rightarrow -2^+} (x^3 + ax^2 + bx + 2) = -8 + 4a - 2b + 2 = 0$ 에서

$$b = 2a - 3$$

$b = 2a - 3$ 을 ㉑에 대입하면

$$\begin{aligned} \lim_{x \rightarrow -2^+} \frac{x^3 + ax^2 + bx + 2}{x + 2} &= \lim_{x \rightarrow -2^+} \frac{x^3 + ax^2 + (2a - 3)x + 2}{x + 2} \\ &= \lim_{x \rightarrow -2^+} \frac{(x + 2)\{x^2 + (a - 2)x + 1\}}{x + 2} \\ &= \lim_{x \rightarrow -2^+} \{x^2 + (a - 2)x + 1\} \\ &= 4 - 2(a - 2) + 1 \\ &= 9 - 2a \end{aligned}$$

$b = 2a - 3$ 을 ㉒에 대입하면

$$\frac{2a + b + 5}{2} = \frac{2a + (2a - 3) + 5}{2} = 2a + 1$$

이때 ㉓에서 $9 - 2a = 2a + 1$ 이므로 $a = 2$ 이고 $b = 2a - 3 = 1$ 이다.

따라서

$$f(x) = \begin{cases} \frac{x^3 + 2x^2 + x + 2}{x + 2} & (x > -2) \\ f(|x|) & (x \leq -2) \end{cases}$$

이므로

$$f(-3) = f(3) = \frac{27 + 18 + 3 + 2}{3 + 2} = 10$$

$$\neg. \lim_{x \rightarrow 0^-} f(x) = \lim_{x \rightarrow 0^-} (x^2 - a) = -a, \lim_{x \rightarrow 0^+} f(x) = \lim_{x \rightarrow 0^+} (x + 2) = 2,$$

$$f(0) = 2 \text{이고 } a > 0 \text{이므로 } \lim_{x \rightarrow 0^-} f(x) \neq \lim_{x \rightarrow 0^+} f(x) \text{이다.}$$

따라서 함수 $f(x)$ 는 $x = 0$ 에서 불연속이다. (참)

ㄴ. $a = 2$ 이면 함수 $|f(x)|$ 는

$$|f(x)| = \begin{cases} |x^2 - 2| & (x < 0) \\ |x + 2| & (x \geq 0) \end{cases}$$

이고 $x \neq 0$ 일 때 연속이다.

$$\text{이때 } \lim_{x \rightarrow 0^-} |f(x)| = \lim_{x \rightarrow 0^-} |x^2 - 2| = 2, \lim_{x \rightarrow 0^+} |f(x)| = \lim_{x \rightarrow 0^+} |x + 2| = 2,$$

$$|f(0)| = 2 \text{이므로 함수 } |f(x)| \text{는 } x = 0 \text{에서 연속이다.}$$

따라서 $a = 2$ 이면 함수 $|f(x)|$ 는 실수 전체의 집합에서 연속이다. (참)

ㄷ. 함수 $xf(x)$ 는

$$xf(x) = \begin{cases} x(x^2 - a) & (x < 0) \\ x^2 + 2x & (x \geq 0) \end{cases}$$

이고 $x \neq 0$ 일 때 연속이다.

$$\text{이때 } a \text{의 값에 관계없이 } \lim_{x \rightarrow 0^-} xf(x) = \lim_{x \rightarrow 0^-} x(x^2 - a) = 0,$$

$$\lim_{x \rightarrow 0^+} xf(x) = \lim_{x \rightarrow 0^+} (x^2 + 2x) = 0, 0 \times f(0) = 0 \text{이므로 함수 } xf(x) \text{는}$$

$x = 0$ 에서 연속이다.

그러므로 함수 $xf(x)$ 는 a 의 값에 관계없이 실수 전체의 집합에서 연속이다. (참)

따라서 옳은 것은 ㄱ, ㄴ, ㄷ이다.

함수 $f(x)$ 가 실수 전체의 집합에서 연속이고 모든 실수 x 에 대하여 $f(x) > 0$ 이므로

$$|f(x)| = f(x)$$

조건 (가)에서 함수 $|f(x)g(x)| = f(x)|g(x)|$ 가 실수 전체의 집합에서 연속이고 연속함수 $f(x)$ 가 실수 전체의 집합에서 $f(x) > 0$ 이므로 함수

$$\frac{f(x)|g(x)|}{f(x)} = |g(x)| \text{도 실수 전체의 집합에서 연속이다.}$$

$$\text{즉, } \lim_{x \rightarrow 3^+} g(x) = a, \lim_{x \rightarrow 3^-} g(x) = b \text{라 할 때,}$$

$$\lim_{x \rightarrow 3^+} |g(x)| = |a|, \lim_{x \rightarrow 3^-} |g(x)| = |b| \text{이고 } |a| = |b| = |g(3)| \text{이다.}$$

$$\text{이때 } \lim_{x \rightarrow 3^+} g(x) > \lim_{x \rightarrow 3^-} g(x) \text{에서 } a > b \text{이므로 } a > 0 > b \text{이고}$$

$$b = -a \dots \textcircled{1}$$

한편, 조건 (나)에서

$$\begin{aligned} \lim_{x \rightarrow 3^-} f(x)g(x) &= \lim_{x \rightarrow 3^-} (-x^2 + 3x - 4) \\ &= -9 + 9 - 4 \\ &= -4 \end{aligned}$$

$$\text{즉, } \lim_{x \rightarrow 3^-} |f(x)g(x)| = 4 \text{이고 함수 } |f(x)g(x)| \text{는 } x = 3 \text{에서 연속이므로}$$

$$|f(3)g(3)| = f(3)|g(3)| = 4 \dots \textcircled{2}$$

또한

$$\begin{aligned} \lim_{x \rightarrow 3^+} \frac{g(x)}{f(x)} &= \lim_{x \rightarrow 3^+} (2x - 5) \\ &= 6 - 5 \\ &= 1 \end{aligned}$$

$$\text{즉, } \lim_{x \rightarrow 3^+} \frac{g(x)}{f(x)} = 1 \text{이고 함수 } \frac{g(x)}{f(x)} = \frac{|g(x)|}{f(x)} \text{는 } x = 3 \text{에서 연속이므로}$$

$$\frac{|g(3)|}{f(3)} = 1 \dots \textcircled{3}$$

$$\textcircled{2}, \textcircled{3} \text{에서 } |g(3)|^2 = 4 \text{이므로}$$

$$|g(3)| = 2$$

이것을 $\textcircled{3}$ 에 대입하면

$$f(3) = 2$$

또한 $|a| = |b| = 2$ 이므로 $\textcircled{1}$ 에서

$$a = 2, b = -2$$

따라서

$$\begin{aligned} f(3) \times \left\{ \lim_{x \rightarrow 3^+} g(x) - \lim_{x \rightarrow 3^-} g(x) \right\} &= 2 \times \{2 - (-2)\} \\ &= 8 \end{aligned}$$

11

$f(x) = x^2 + 6x$ 에서 $f'(x) = 2x + 6$ 이므로

$$\begin{aligned} & \lim_{x \rightarrow -3} \frac{(x+9)f'(x)}{x+3} \\ &= \lim_{x \rightarrow -3} \frac{(x+9)(2x+6)}{x+3} \\ &= \lim_{x \rightarrow -3} 2(x+9) \\ &= 2 \times 6 \\ &= 12 \end{aligned}$$

12

$f(x) = ax^2 + bx + c$ (a, b, c 는 상수, $a \neq 0$)이라 하고 조건 (가)에서 분모,

분자의 최고차항끼리만 비교하면

$$\begin{aligned} \lim_{x \rightarrow \infty} \frac{5ax^4}{2ax^4 + a^2x^4} &= \frac{5a}{2a + a^2} = 1 \\ 5a &= 2a + a^2 \\ a^2 - 3a &= 0 \end{aligned}$$

$a \neq 0$ 이므로

$$a = 3 \dots \textcircled{㉠}$$

또한 조건 (나)에서 $x \rightarrow 0$ 일 때 (분모) $\rightarrow 0$ 이고 극한값이 존재하므로

(분자) $\rightarrow 0$ 이어야 한다.

즉,

$$\lim_{x \rightarrow 0} \{f(x) - 1\} = f(0) - 1 = c - 1 = 0$$

$$c = 1 \dots \textcircled{㉡}$$

$$\begin{aligned} \lim_{x \rightarrow 0} \frac{f(x) - 1}{x} &= \lim_{x \rightarrow 0} \frac{f(x) - f(0)}{x - 0} \\ &= f'(0) = b = -5 \dots \textcircled{㉢} \end{aligned}$$

$\textcircled{㉠}, \textcircled{㉡}, \textcircled{㉢}$ 에서 $f(x) = 3x^2 - 5x + 1$ 이므로

$$f'(x) = 6x - 5$$

따라서

$$f'(3) = 13$$

13

조건 (나)에 의하여 함수 $f(x)$ 는 다음 세 가지 경우가 존재한다.

$$(i) f(x) = (x+1)^2(x-2)(x-3)$$

$$(ii) f(x) = (x+1)(x-2)^2(x-3)$$

$$(iii) f(x) = (x+1)(x-2)(x-3)^2$$

이때 $f'(x)$ 는 각각

$$\begin{aligned} f'(x) &= 2(x+1)(x-2)(x-3) \\ &\quad + (x+1)^2(x-3) + (x+1)^2(x-2) \\ f'(x) &= (x-2)^2(x-3) + 2(x+1)(x-2)(x-3) \\ &\quad + (x+1)(x-2)^2 \\ f'(x) &= (x-2)(x-3)^2 + (x+1)(x-3)^2 \\ &\quad + 2(x+1)(x-2)(x-3) \end{aligned}$$

이므로 조건 (가)를 만족시키는 경우는 (iii)의 경우이다.

따라서

$$\begin{aligned} f'(1) &= (-1) \times (-2)^2 + 2 \times (-2)^2 \\ &\quad + 2 \times 2 \times (-1) \times (-2) \\ &= 12 \end{aligned}$$

14

다항함수 $f(x)$ 는 실수 전체의 집합에서 미분가능하므로

$$\begin{aligned} & \lim_{h \rightarrow 0} \frac{f\left(x + \frac{h}{9}\right)f(h) - f(x)f(h)}{h^2} \\ &= \lim_{h \rightarrow 0} \left\{ \frac{f\left(x + \frac{h}{9}\right) - f(x)}{h} \times \frac{f(h)}{h} \right\} \\ &= \lim_{h \rightarrow 0} \frac{f\left(x + \frac{h}{9}\right) - f(x)}{h} \times \lim_{h \rightarrow 0} \frac{f(h)}{h} \\ &= \lim_{h \rightarrow 0} \frac{f\left(x + \frac{h}{9}\right) - f(x)}{\frac{h}{9}} \times \frac{1}{9} \times \lim_{h \rightarrow 0} \frac{f(0+h) - f(0)}{h} \\ &= f'(x) \times \frac{1}{9} \times f'(0) \end{aligned}$$

즉, 모든 실수 x 에 대하여 $f'(x) \times f'(0) \times \frac{1}{9} = x^2 - 3x + 1$ 이므로

$$f'(x) \times f'(0) = 9x^2 - 27x + 9$$

에서 우변은 x 에 대한 이차식이므로 $f(x) = x^3 + ax^2 + bx$ (a, b 는 상수)라 하면

$$(3x^2 + 2ax + b) \times b = 9x^2 - 27x + 9 \dots \textcircled{㉠}$$

이때 $\textcircled{㉠}$ 은 x 에 대한 항등식이므로 $3b = 9, 2ab = -27, b^2 = 9$ 에서

$$a = -\frac{9}{2}, b = 3$$

따라서 $f(x) = x^3 - \frac{9}{2}x^2 + 3x$ 이므로

$$f(4) = 4^3 - \frac{9}{2} \times 4^2 + 3 \times 4 = 4$$

15

임의의 두 실수 x_1, x_2 에 대하여 $x_1 < x_2$ 이면 $f(x_1) > f(x_2)$ 를 만족시키는 함수 $f(x)$ 는 실수 전체의 집합에서 감소하는 함수이므로 $f'(x) \leq 0$ 이어야 한다.

이때 $f'(x) = -3x^2 + 2ax + 2a$ 이므로 이차방정식 $f'(x) = 0$ 의 판별식을 D 라 하면

$$\frac{D}{4} = a^2 - (-3) \times 2a \leq 0$$

$$a(a + 6) \leq 0$$

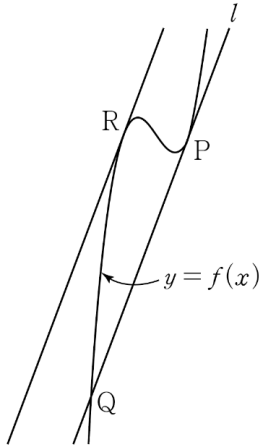
즉, $-6 \leq a \leq 0$ 일 때 함수 $f(x)$ 는 실수 전체의 집합에서 감소하는 함수이므로 구하는 모든 정수 a 의 개수는 7이다.

16

접선 l 은 두 점 P, Q 를 지나므로 접선 l 의 기울기는

$$\frac{-54 - (-6)}{-4 - 2} = 8$$

또한 주어진 조건을 만족시키는 곡선 $y = f(x)$ 와 접선 l 의 개형은 다음 그림과 같다.



따라서 점 $R(a, b)$ ($-4 < a < 2$)와 접선 l 사이의 거리가 최대가 되는 경우는 위의 그림과 같이 접선 l 과 평행한 직선이 곡선 $y = f(x)$ 와 점 R 에서 접할 때이다.

이때 $f'(x) = 3x^2 - 4$ 이므로 $3x^2 - 4 = 8$ 에서

$$x^2 = 4$$

$$x = -2 \text{ 또는 } x = 2$$

즉, $a = -2$ 이므로

$$b = (-2)^3 - 4 \times (-2) - 6 = -6$$

따라서

$$a + b = -2 + (-6) = -8$$

17

$f(x) = \frac{1}{3}x^3 + ax^2 + bx + c$ 에서

$$f'(x) = x^2 + 2ax + b$$

조건 (가)에 의하여

$$f'(4) = 16 + 8a + b = 0$$

$$8a + b = -16$$

$$b = -8a - 16 \dots \textcircled{1}$$

또한 조건 (나)에 의하여 이차방정식 $x^2 + 2ax + b = 0$ 의 판별식을 D 라 하면

$$\frac{D}{4} = a^2 - b \leq 0$$

즉,

$$a^2 \leq b \dots \textcircled{2}$$

①을 ②에 대입하여 정리하면

$$a^2 + 8a + 16 \leq 0$$

$$(a + 4)^2 \leq 0$$

a 는 실수이므로

$$a = -4$$

①에서

$$b = 16$$

또한 조건 (다)에 의하여 접선 l 의 방정식은

$$y - f(3) = f'(3)(x - 3)$$

$y - (c + 21) = x - 3$ 에서

$$y = x + c + 18$$

접선 l 이 점 $(0, -2)$ 를 지나므로

$$c + 18 = -2$$

$$c = -20$$

$P\left(t, \frac{1}{3}t^3 - 4t^2 + 16t - 20\right), Q(t, t - 2)$ 이므로

$$h(t) = \overline{PQ}$$

$$= (t - 2) - \left(\frac{1}{3}t^3 - 4t^2 + 16t - 20\right)$$

$$= -\frac{1}{3}t^3 + 4t^2 - 15t + 18$$

$h'(t) = -t^2 + 8t - 15 = -(t - 3)(t - 5)$ 이므로 $h'(t) = 0$ 을 만족시키는 해는

$$t = 3 \text{ 또는 } t = 5$$

함수 $h(t)$ 의 증가와 감소를 표로 나타내면 다음과 같다.

t	...	3	...	5	...
$h'(x)$	-	0	+	0	-
$h(x)$	↘	극소	↗	극대	↘

따라서 $t = 3$ 에서 함수 $h(t)$ 는 극소이므로 구하는 극솟값은

$$h(3) = -9 + 36 - 45 + 18 = 0$$

18

조건 (나)를 만족시키는 접선의 방정식은

$$y - f(1) = x - 1$$

즉,

$$y = x + f(1) - 1$$

이 직선이 점 $(-3, f(-3))$ 을 지나므로 함수 $f(x)$ 의 최고차항의 계수를 k 라 하면

$$f(x) - \{x + f(1) - 1\} = k(x - 1)^2(x + 3)$$

$$f(x) = k(x - 1)^2(x + 3) + x + f(1) - 1$$

$$f'(x) = 2k(x - 1)(x + 3) + k(x - 1)^2 + 1$$

이므로 조건 (가)에 의하여

$$f(-1) = 8k + f(1) - 2 = 0 \cdots \text{㉠}$$

$$f'(-1) = -8k + 4k + 1 = -4k + 1 = 0 \cdots \text{㉡}$$

㉠, ㉡에서

$$k = \frac{1}{4}, f(1) = 0$$

따라서 $f(x) = \frac{1}{4}(x - 1)^2(x + 3) + x - 1$ 이므로

$$f(3) = \frac{1}{4} \times 2^2 \times 6 + 3 - 1 = 8$$

19

$f(x) = 2x^3 - 3x^2 - 36x$ 라 하고, 닫힌구간 $[0, 5]$ 에서 함수 $f(x)$ 의 최댓값을 M , 최솟값을 m 이라 하자. 주어진 명제가 참이려면 $a \leq m$, $b \geq M$ 이어야 하므로 $b - a$ 는 $a = m$, $b = M$ 일 때 최솟값 $M - m$ 을 갖는다.

$f(x) = 2x^3 - 3x^2 - 36x$ 에서

$$f'(x) = 6x^2 - 6x - 36 = 3(x + 2)(x - 3)$$

$f'(x) = 0$ 에서

$$x = -2 \text{ 또는 } x = 3$$

닫힌구간 $[0, 5]$ 에서 함수 $f(x)$ 의 증가와 감소를 표로 나타내면 다음과 같다.

x	0	...	3	...	5
$f'(x)$		-		+	
$f(x)$	0	↘	-81	↗	-5

닫힌구간 $[0, 5]$ 에서 함수 $f(x)$ 는 $x = 0$ 일 때 최댓값 0을 갖고, $x = 3$ 일 때 최솟값 -81을 갖는다.

따라서 $M = 0$, $m = -81$ 이므로 $b - a$ 의 최솟값은

$$M - m = 0 - (-81) = 81$$

20

점 P의 시각 t ($t > 0$)에서의 속도, 가속도를 각각 $v(t)$, $a(t)$ 라 하면

$$v(t) = \frac{d}{dt}x(t) = 6t^2 - 10t$$

$$a(t) = \frac{d}{dt}v(t) = 12t - 10$$

시각 $t = p$ ($p > 0$)에서의 점 P의 속도가 24이므로 $v(p) = 24$ 에서

$$6p^2 - 10p = 24$$

$$3p^2 - 5p - 12 = 0, (3p + 4)(p - 3) = 0$$

$p > 0$ 이므로

$$p = 3$$

따라서 시각 $t = 3$ 에서의 점 P의 가속도는

$$a(3) = 12 \times 3 - 10 = 26$$

21

$f(x) = 5x^2$ 이라 하면 $f'(x) = 10x$ 이므로 직선 l 의 방정식은

$$\begin{aligned} y &= f'(t)(x-t) + 5t^2 \\ &= 10t(x-t) + 5t^2 \\ &= 10tx - 5t^2 \end{aligned}$$

두 점 A, B의 좌표는 각각 $(\frac{1}{2}t, 0)$, $(0, -5t^2)$ 이다.

직선 l 과 수직인 직선의 기울기는 $-\frac{1}{10t}$ 이므로 점 P를 지나고 직선 l 과 수직인 직선의 방정식은

$$\begin{aligned} y &= -\frac{1}{10t}(x-t) + 5t^2 \\ &= -\frac{1}{10t}x + 5t^2 + \frac{1}{10} \end{aligned}$$

두 점 C, D의 좌표는 각각 $(50t^3 + t, 0)$, $(0, 5t^2 + \frac{1}{10})$ 이다.

$0 < t < \frac{1}{5}$ 에서

$$\begin{aligned} \overline{AC} &= \left| (50t^3 + t) - \frac{1}{2}t \right| = \left| 50t^3 + \frac{1}{2}t \right| = 50t^3 + \frac{1}{2}t \\ \overline{BD} &= \left| \left(5t^2 + \frac{1}{10} \right) - (-5t^2) \right| = \left| 10t^2 + \frac{1}{10} \right| \\ &= 10t^2 + \frac{1}{10} \end{aligned}$$

이때 $\overline{AC} = 5t \times \overline{BD}$ 이고 $0 < 5t < 1$ 이므로 $\overline{AC} < \overline{BD}$ 이다.

즉, 선분 AC의 길이와 선분 BD의 길이의 차를 $g(t)$ 라 하면

$$\begin{aligned} g(t) &= \overline{BD} - \overline{AC} \\ &= \left(10t^2 + \frac{1}{10} \right) - \left(50t^3 + \frac{1}{2}t \right) \\ &= -50t^3 + 10t^2 - \frac{1}{2}t + \frac{1}{10} \\ g'(t) &= -150t^2 + 20t - \frac{1}{2} \\ &= -\frac{1}{2}(300t^2 - 40t + 1) \\ &= -\frac{1}{2}(30t - 1)(10t - 1) \end{aligned}$$

$g'(t) = 0$ 에서

$$t = \frac{1}{30} \text{ 또는 } t = \frac{1}{10}$$

열린구간 $(0, \frac{1}{5})$ 에서 함수 $g(t)$ 의 증가와 감소를 표로 나타내면 다음과 같다.

t	(0)	\dots	$\frac{1}{30}$	\dots	$\frac{1}{10}$	\dots	$(\frac{1}{5})$
$g'(x)$		$-$	0	$+$	0	$-$	
$g(x)$	$(\frac{1}{10})$	\searrow	$\frac{5}{54}$	\nearrow	$\frac{1}{10}$	\searrow	(0)

즉, 열린구간 $(0, \frac{1}{5})$ 에서 함수 $g(t)$ 는 $t = \frac{1}{10}$ 일 때 최댓값 $\frac{1}{10}$ 을 갖는다.

따라서 $p = 10$, $q = 1$ 이므로

$$p + q = 11$$

22

삼차함수 $f(x) = x^3 + (a+1)x^2 + (a+4)x$ 의 그래프와 이차함수

$g(x) = x^2 - 2x + b$ 의 그래프가 어떤 실수 b 에 대하여 서로 다른 세 점에서 만나기 위해서는 방정식 $x^3 + (a+1)x^2 + (a+4)x = x^2 - 2x + b$ 가 서로 다른 세 실근을 가져야 한다.

즉, 방정식 $b = x^3 + ax^2 + (a+6)x$ 의 실근이 3개 존재해야 한다.

함수 $y = x^3 + ax^2 + (a+6)x$ 의 극값이 존재해야 하므로

$y' = 3x^2 + 2ax + a + 6$ 에서 이차방정식 $3x^2 + 2ax + a + 6 = 0$ 의 판별식을

D 라 하면 $\frac{D}{4} = a^2 - 3a - 18 = (a+3)(a-6) > 0$ 이어야 한다.

따라서 $a < -3$ 또는 $a > 6$ 이므로 자연수 a 의 최솟값은 7이다.

23

$f(x) = \frac{1}{12}x^2(x-13)$ 에서

$$f'(x) = \frac{2}{12}x(x-13) + \frac{1}{12}x^2 = \frac{1}{12}x(3x-26)$$

$f'(x) = 0$ 에서

$$x = 0 \text{ 또는 } x = \frac{26}{3}$$

함수 $f(x)$ 의 증가와 감소를 표로 나타내면 다음과 같다.

x	\dots	0	\dots	$\frac{26}{3}$	\dots
$f'(x)$	$+$	0	$-$	0	$+$
$f(x)$	\nearrow	극대	\searrow	극소	\nearrow

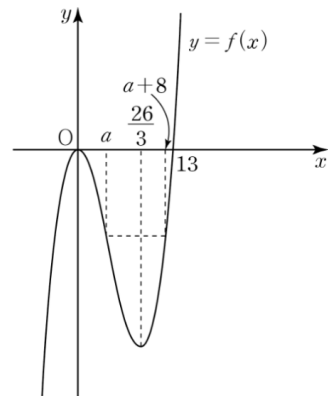
함수 $f(x)$ 는 $x = 0$ 일 때 극댓값, $x = \frac{26}{3}$ 일 때 극솟값을 갖는다.

$f(x) = 0$ 에서

$$\frac{1}{12}x^2(x-13) = 0$$

$$x = 0 \text{ 또는 } x = 13$$

그러므로 함수 $y = f(x)$ 의 그래프는 다음 그림과 같다.



$0 < x < \frac{26}{3}$ 에서 함수 $f(x)$ 는 감소하고 $\frac{26}{3} < x < 13$ 에서 함수 $f(x)$ 는 증가하

므로 $0 < a < \frac{26}{3}$ 이고 $\frac{26}{3} < a + 8 < 13$, 즉 $\frac{2}{3} < a < 5$ 일 때

$f(a) = f(a + 8)$ 인 실수 a 가 존재한다.

$f(a) = f(a + 8)$ 에서

$$\frac{1}{12}a^2(a - 13) = \frac{1}{12}(a + 8)^2(a - 5)$$

$$a^3 - 13a^2 = a^3 + 11a^2 - 16a - 320$$

$$24a^2 - 16a - 320 = 0$$

$$3a^2 - 2a - 40 = 0$$

$$(a - 4)(3a + 10) = 0$$

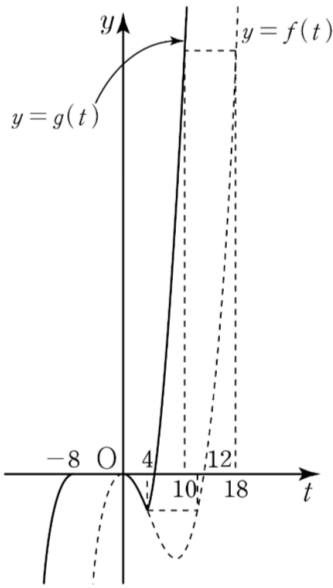
이때 $\frac{2}{3} < a < 5$ 이므로

$$a = 4$$

즉, 함수 $g(t)$ 는

$$g(t) = \begin{cases} f(t + 8) & (t < -8) \\ f(0) & (-8 \leq t < 0) \\ f(t) & (0 \leq t < 4) \\ f(t + 8) & (t \geq 4) \end{cases}$$

이고 함수 $y = g(t)$ 의 그래프는 다음 그림과 같다.



$0 < t < 4$ 일 때 함수 $g(t)$ 는 감소하고, $t > 4$ 일 때 함수 $g(t)$ 는 증가한다.

$$g(0) = f(0) = 0$$

$$g(4) = f(12) = \frac{1}{12} \times 12^2 \times (-1) = -12$$

$$g(10) = f(18) = \frac{1}{12} \times 18^2 \times 5 = 135$$

즉, $0 \leq t \leq 10$ 에서 함수 $g(t)$ 는 $t = 10$ 일 때 최댓값 135, $t = 4$ 일 때 최솟값 -12를 갖는다.

따라서 함수 $g(t)$ 의 최댓값과 최솟값의 합은

$$135 + (-12) = 123$$

24

$f(x) = x^2 + ax + b$ (a, b 는 상수)라 하면

$$f'(x) = 2x + a$$

$$\int_0^1 f(x)dx = \int_0^1 (x^2 + ax + b)dx$$

$$= \left[\frac{1}{3}x^3 + \frac{a}{2}x^2 + bx \right]_0^1$$

$$= \frac{1}{3} + \frac{a}{2} + b = 12 \cdots \textcircled{1}$$

$$\int_{-1}^2 f'(x)dx = \int_{-1}^2 (2x + a)dx$$

$$= \left[x^2 + ax \right]_{-1}^2$$

$$= (4 + 2a) - (1 - a)$$

$$= 3a + 3 = -5 \cdots \textcircled{2}$$

①, ②를 연립하여 풀면

$$a = -\frac{8}{3}, b = 13$$

따라서 $f(x) = x^2 - \frac{8}{3}x + 13$ 이므로

$$f(3) = 9 - 8 + 13 = 14$$

25

이차함수 $f(x)$ 의 최고차항의 계수가 1이므로

$$f(x) = x^2 + ax + b \quad (a, b \text{는 상수})$$

라 하면 조건 (가)에서

$$(1 + a + b) + (1 - a + b) = 0$$

$$2 + 2b = \frac{10}{3}, b = \frac{2}{3}$$

$$\int_0^1 f(x)dx = \int_0^1 \left(x^2 + ax + \frac{2}{3} \right) dx$$

$$= \left[\frac{1}{3}x^3 + \frac{1}{2}ax^2 + \frac{2}{3}x \right]_0^1$$

$$= \frac{1}{3} + \frac{1}{2}a + \frac{2}{3}$$

$$= \frac{1}{2}a + 1$$

조건 (나)에서 $-\frac{1}{2} \leq \frac{1}{2}a + 1 \leq 2$ 이므로

$$-3 \leq a \leq 2 \cdots \textcircled{1}$$

$$\int_1^3 f(x)dx = \int_1^3 \left(x^2 + ax + \frac{2}{3} \right) dx$$

$$= \left[\frac{1}{3}x^3 + \frac{1}{2}ax^2 + \frac{2}{3}x \right]_1^3$$

$$= \left(9 + \frac{9}{2}a + 2 \right) - \left(\frac{1}{3} + \frac{1}{2}a + \frac{2}{3} \right)$$

$$= 4a + 10$$

㉠에서

$$-2 \leq 4a + 10 \leq 18$$

따라서 $\int_1^3 f(x)dx$ 의 최댓값은 18이고 최솟값은 -2이므로 최댓값과 최솟값의 합은

$$18 + (-2) = 16$$

26

$G(t) = \int tf(t)dt$ 라 하면 $G'(t) = tf(t) = t(at^2 + b)$ 이므로

$$\begin{aligned} G(t) &= \int t(at^2 + b)dt = \int (at^3 + bt)dt \\ &= \frac{1}{4}at^4 + \frac{1}{2}bt^2 + C \quad (\text{단, } C \text{는 적분상수}) \dots \text{㉠} \end{aligned}$$

$$\lim_{x \rightarrow 3} \frac{1}{x-3} \int_0^x tf(t)dt = \lim_{x \rightarrow 3} \frac{G(x) - G(0)}{x-3} = 27 \text{에서 } x \rightarrow 3 \text{일 때}$$

(분모) $\rightarrow 0$ 이고 극한값이 존재하므로 (분자) $\rightarrow 0$ 이어야 한다.

즉, $\lim_{x \rightarrow 3} \{G(x) - G(0)\} = 0$ 이므로

$$\lim_{x \rightarrow 3} G(x) = G(0)$$

이때 함수 $G(x)$ 는 다항함수이므로

$$\lim_{x \rightarrow 3} G(x) = G(3) = G(0)$$

㉠에서

$$\frac{81}{4}a + \frac{9}{2}b + C = C$$

$$b = -\frac{9}{2}a$$

$$\lim_{x \rightarrow 3} \frac{G(x) - G(0)}{x-3} = \lim_{x \rightarrow 3} \frac{G(x) - G(3)}{x-3}$$

$$= G'(3) = 3f(3)$$

$$= 27$$

$f(3) = 9$ 이므로

$$9a + b = 9$$

$b = -\frac{9}{2}a$ 이므로

$$9a + \left(-\frac{9}{2}a\right) = \frac{9}{2}a = 9$$

즉,

$$a = 2, b = -9$$

따라서 $f(x) = 2x^2 - 9$ 이므로

$$f(5) = 50 - 9 = 41$$

27

$\lim_{x \rightarrow 0} \frac{f(x) - 8}{x} = 12$ 에서 $x \rightarrow 0$ 일 때 (분모) $\rightarrow 0$ 이고 극한값이 존재하므로 (분자) $\rightarrow 0$ 이어야 한다.

즉, $\lim_{x \rightarrow 0} \{f(x) - 8\} = f(0) - 8 = 0$ 에서

$$f(0) = 8$$

$$\begin{aligned} \lim_{x \rightarrow 0} \frac{f(x) - 8}{x} &= \lim_{x \rightarrow 0} \frac{f(x) - f(0)}{x} \\ &= f'(0) \\ &= 12 \end{aligned}$$

따라서 삼차함수 $f(x)$ 는 $f(0) = 8, f'(0) = 12$ 이므로

$$f(x) = ax^3 + bx^2 + 12x + 8 \quad (a, b \text{는 상수, } a \neq 0)$$

으로 놓을 수 있다.

$4F(x) = (x+2)f(x)$ 의 양변에 $x=0$ 을 대입하면 $4F(0) = 2f(0) = 16$, 즉

$$F(0) = 4$$

$$F(x) = \int f(x)dx$$

$$= \frac{a}{4}x^4 + \frac{b}{3}x^3 + 6x^2 + 8x + C \quad (\text{단, } C \text{는 적분상수})$$

$F(0) = 4$ 에서

$$C = 4$$

즉,

$$F(x) = \frac{a}{4}x^4 + \frac{b}{3}x^3 + 6x^2 + 8x + 4$$

모든 실수 x 에 대하여 $4F(x) = (x+2)f(x)$ 이므로

$$\begin{aligned} ax^4 + \frac{4b}{3}x^3 + 24x^2 + 32x + 16 \\ &= (x+2)(ax^3 + bx^2 + 12x + 8) \\ &= ax^4 + (b+2a)x^3 + (12+2b)x^2 + 32x + 16 \end{aligned}$$

에서

$$\frac{4b}{3} = b + 2a, 24 = 12 + 2b$$

따라서 $a = 1, b = 6$ 이므로

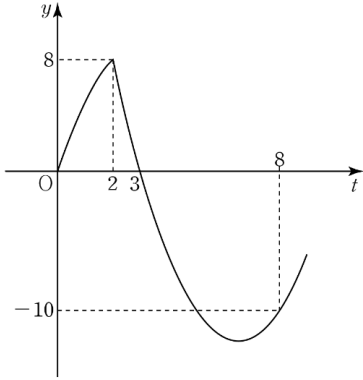
$$f(x) = x^3 + 6x^2 + 12x + 8$$

이때 $F(x) = \frac{1}{4}x^4 + 2x^3 + 6x^2 + 8x + 4$ 이므로

$$f(-1) + F(2) = 1 + 64 = 65$$

28

함수 $y = v(t)$ 의 그래프는 다음 그림과 같다.



점 P가 시간 $t = 0$ 에서 $t = 8$ 까지 움직인 거리는

$$\begin{aligned} & \int_0^8 |v(t)| dt \\ &= \int_0^2 (-t^2 + 6t) dt + \int_2^3 (t^2 - 13t + 30) dt \\ &+ \int_3^8 (-t^2 + 13t - 30) dt \\ &= \left[-\frac{1}{3}t^3 + 3t^2 \right]_0^2 + \left[\frac{1}{3}t^3 - \frac{13}{2}t^2 + 30t \right]_2^3 \\ &+ \left[-\frac{1}{3}t^3 + \frac{13}{2}t^2 - 30t \right]_3^8 \\ &= \frac{28}{3} + \frac{23}{6} + \frac{275}{6} \\ &= 59 \end{aligned}$$

29

$f(x) = x^3 - 4x^2 + 7x - 9$ 에서

$$f'(x) = 3x^2 - 8x + 7 = 3 \left(x - \frac{4}{3} \right)^2 + \frac{5}{3}$$

모든 실수 x 에 대하여 $f'(x) > 0$ 이므로 함수 $f(x)$ 는 실수 전체의 집합에서 증가한다.

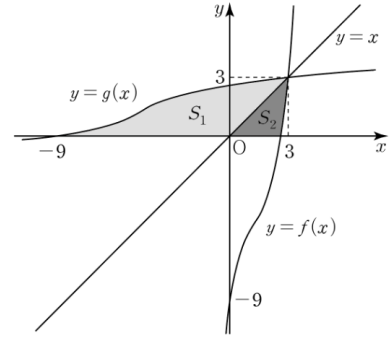
곡선 $y = f(x)$ 와 직선 $y = x$ 가 만나는 점의 x 좌표는 $x^3 - 4x^2 + 7x - 9 = x$ 에서

$$\begin{aligned} x^3 - 4x^2 + 6x - 9 &= 0 \\ (x-3)(x^2 - x + 3) &= 0 \end{aligned}$$

따라서

$$x = 3$$

두 곡선 $y = f(x)$, $y = g(x)$ 와 직선 $y = x$ 는 다음 그림과 같다.



곡선 $y = g(x)$ 와 x 축 및 직선 $y = x$ 로 둘러싸인 부분의 넓이를 S_1 , 곡선 $y = f(x)$ 와 x 축 및 직선 $y = x$ 로 둘러싸인 부분의 넓이를 S_2 라 하면 구하는 넓이 S 는

$$S = S_1 + S_2$$

두 곡선 $y = f(x)$ 와 $y = g(x)$ 는 직선 $y = x$ 에 대하여 대칭이므로

$$\begin{aligned} S_1 &= \int_0^3 \{x - f(x)\} dx \\ &= \int_0^3 \{x - (x^3 - 4x^2 + 7x - 9)\} dx \\ &= \int_0^3 (-x^3 + 4x^2 - 6x + 9) dx \\ &= \left[-\frac{1}{4}x^4 + \frac{4}{3}x^3 - 3x^2 + 9x \right]_0^3 \\ &= \frac{63}{4} \end{aligned}$$

$$\begin{aligned} S_2 &= \int_0^3 \{g(x) - x\} dx \\ &= \int_0^3 g(x) dx - \int_0^3 x dx \\ &= \int_0^3 g(x) dx - \left[\frac{1}{2}x^2 \right]_0^3 \\ &= \int_0^3 g(x) dx - \frac{9}{2} \end{aligned}$$

$$S = S_1 + S_2$$

$$\begin{aligned} &= \frac{63}{4} + \left\{ \int_0^3 g(x) dx - \frac{9}{2} \right\} \\ &= \frac{45}{4} + \int_0^3 g(x) dx \end{aligned}$$

따라서

$$4 \times \left(S - \int_0^3 g(x) dx \right) = 4 \times \frac{45}{4} = 45$$

30

$$g(x) = \begin{cases} 2f(x) & (f(x) > 0) \\ 0 & (f(x) \leq 0) \end{cases}$$

조건 (가)에서 $g(0) = 0$ 이므로

$$f(0) \leq 0$$

$f(0) < 0$ 이라 하면 열린구간 $(-c, 0)$ 에 속하는 모든 x 에 대하여

$f(x) < 0$, $g(x) = 0$ 인 양수 c 가 존재한다.

이때 열린구간 $(-c, 0)$ 에 속하는 모든 x 에 대하여 $\int_0^x g(t)dt = 0$ 이 되어 조건

(나)를 만족시키지 못한다.

따라서 $f(0) = 0$ 이어야 한다.

한편, $a < 0 < b$ 인 어떤 두 실수 a, b 에 대하여

(i) $a < x < 0$ 에서 $f(x) < 0$, $0 < x < b$ 에서 $f(x) > 0$ 이면 열린구간

$(a, 0)$ 에 속하는 모든 x 에 대하여 $g(x) = 0$ 이고 $\int_0^x g(t)dt = 0$ 이 되므로 조건

(나)를 만족시키지 못한다.

(ii) $a < x < 0$ 에서 $f(x) > 0$, $0 < x < b$ 에서 $f(x) < 0$ 이면 열린구간

$(0, b)$ 에 속하는 모든 x 에 대하여 $g(x) = 0$ 이고 $\int_0^x g(t)dt = 0$ 이 되므로 조건

(나)를 만족시키지 못한다.

(iii) $a < x < 0$ 에서 $f(x) < 0$, $0 < x < b$ 에서 $f(x) < 0$ 이면 열린구간

(a, b) 에 속하는 모든 x 에 대하여 $g(x) = 0$ 이고 $\int_0^x g(t)dt = 0$ 이 되므로 조건

(나)를 만족시키지 못한다.

따라서 $a < x < 0$ 에서 $f(x) > 0$, $0 < x < b$ 에서 $f(x) > 0$ 이어야 한다.

즉, 삼차함수 $f(x)$ 는 $x = 0$ 에서 극솟값 0을 가지므로

$f(x) = x^2(x + p)$ (p 는 양수)로 놓을 수 있다.

$f(-2) = 16$ 에서 $(-2)^2 \times (-2 + p) = 16$ 이므로

$$p = 6$$

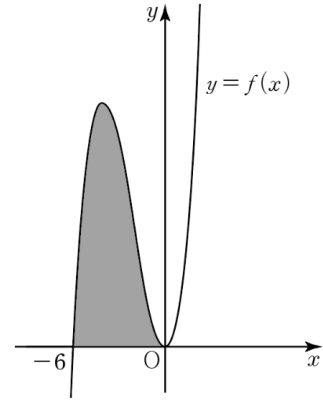
즉,

$$f(x) = x^2(x + 6)$$

곡선 $y = f(x)$ 와 x 축이 만나는 점의 x 좌표는 $x^2(x + 6) = 0$ 에서

$$x = 0 \text{ 또는 } x = -6$$

그러므로 곡선 $y = f(x)$ 는 다음 그림과 같다.



따라서 구하는 넓이는

$$\begin{aligned} \int_{-6}^0 |x^2(x + 6)|dx &= \int_{-6}^0 (x^3 + 6x^2)dx \\ &= \left[\frac{1}{4}x^4 + 2x^3 \right]_{-6}^0 \\ &= -(324 - 432) \\ &= 108 \end{aligned}$$