


# 모의 논술 - 2차

제한 시간: 90분

건축샘




[문제1]

동일한 편지 12통을 서로 다른 5개의 우체통에 넣으려고 한다. 다음 물음에 답하시오.

[1-1] 남는 편지 없이 모두 우체통에 넣는 경우의 수를 구하시오. (빈 우체통은 존재해도 된다.) [9점]

[1-2] 남는 편지가 없고 빈 우체통이 2개 이하가 되도록 편지를 넣는 경우의 수를 구하시오. [10점]

[1-3] 남는 편지와 빈 우체통이 존재해도 되도록 편지를 넣는 경우의 수를 구하시오. [13점]  
(단, 적어도 하나의 편지는 우체통에 들어가야 한다. )



[문제2]

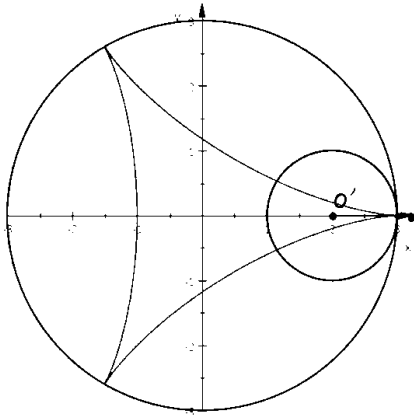
삼각함수의 덧셈 정리

$$\sin(\alpha \pm \beta) = \sin\alpha \cos\beta \pm \cos\alpha \sin\beta$$

$$\cos(\alpha \pm \beta) = \cos\alpha \cos\beta \mp \sin\alpha \sin\beta$$

$$\tan(\alpha \pm \beta) = \frac{\tan\alpha \pm \tan\beta}{1 \mp \tan\alpha \tan\beta}$$

이를 응용하면  $\cos(\alpha + \alpha) = \cos^2\alpha - \sin^2\alpha = 1 - 2\sin^2\alpha$ ,  $\sin^2\alpha = \frac{1 - \cos 2\alpha}{2}$  로 표현가능하다.




그림과 같이  $C_1 : x^2 + y^2 = 9$ ,  $C_2 : (x-2)^2 + y^2 = 1$ 을 만족하는 원  $C_1, C_2$ 가 존재한다. 이때 원  $C_2$ 위에 점  $P(3, 0)$ 이 있다. 이때 원  $C_2$ 가  $C_1$ 의 둘레를 따라  $C_1$ 의 내부를 반시계 방향으로 회전한다. 이때 점  $P$ 가 그리는 곡선은 그림과 같다.  $P$ 가 다시 초기 위치  $(3, 0)$ 으로 처음 돌아왔을 때 점  $P$ 가 그리는 곡선의 길이를 구하시오. [30점]

[문제3]

[3-1] 닫힌 구간  $[k, k+1]$  에서  $\ln k \leq \ln x \leq \ln(k+1)$ 임을 보여라. (단,  $k$ 는 자연수이다.)  
[10점]

[3-2]  $\ln(1 \times 2 \times 3 \times \cdots \times n) \leq (n+1)\ln(n+1) - n \leq \ln(1 \times 2 \times 3 \times \cdots \times (n+1))$ 임을 보여라.  
(단,  $n$ 은 자연수이다.) [13점]

[3-3]  $\sum_{k=1}^n \frac{\ln k + \ln(k+1)}{2} \leq \int_1^{n+1} \ln x dx \leq \sum_{k=1}^n \left\{ \frac{1}{2k} + \ln k \right\}$ 임을 보여라. (단,  $n$ 은 자연수이다.) [15점]



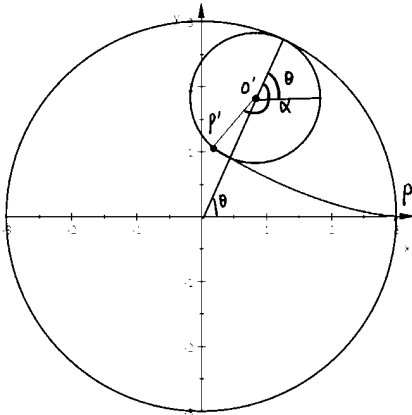
해설 - [문제1]

[1-1] 각 우체통에 들어 있는 편지의 수를 각각  $x, y, z, w, s$ 라고 하자. ( $x, y, z, w, s$ 는 음이 아닌 정수)  $x + y + z + w + s = 12$ 를 만족하는 순서쌍  $(x, y, z, w, s)$ 의 개수이므로  ${}_5H_{12} = {}_{16}C_4 = 1820$

[1-2] 빈 우체통이 2개인 경우  ${}_5C_2 \times {}_3H_9 = 10 \times {}_{11}C_2 = 550$   
빈 우체통이 1개인 경우  ${}_5C_1 \times {}_4H_8 = 5 \times {}_{11}C_3 = 825$   
빈 우체통이 0개인 경우  ${}_5H_7 = {}_{11}C_4 = 330$   
따라서  $550 + 825 + 330 = 1705$

[1-3] 보관함이 있다고 가정 하에 남은 편지를 전부 보관함에 담고 그 편지의 개수를  $P$ 라고 하자. ( $P$ 는 음이 아닌 정수)  $x + y + z + w + s + P = 12, P \neq 12$ 를 만족하므로 구하고자 하는 경우의 수는  ${}_6H_{12} - 1 = {}_{17}C_5 - 1 = 6188 - 1 = 6187$ 이다.

해설 - [문제2]



$$\begin{aligned}
 \alpha &= 3\theta \quad P'(x(\theta), y(\theta)) \\
 P'(2\cos\theta + \cos(2\pi - 2\theta), 2\sin\theta + \sin(2\pi - 2\theta)) \\
 P'(2\cos\theta + \cos 2\theta, 2\sin\theta - \sin 2\theta) \\
 x'(\theta) &= -2\sin\theta - 2\sin 2\theta \\
 y'(\theta) &= 2\cos\theta - 2\cos 2\theta \\
 \sqrt{(x'(\theta))^2 + (y'(\theta))^2} &= \sqrt{8 + 8\sin\theta \sin 2\theta - 8\cos\theta \cos 2\theta} \\
 &= 2\sqrt{2} \times \sqrt{1 - \cos 3\theta} = 4\sqrt{\sin^2 \frac{3\theta}{2}} \\
 \int_0^{2\pi} \sqrt{(x'(\theta))^2 + (y'(\theta))^2} d\theta &= 4 \int_0^{2\pi} \left( \sin \frac{3\theta}{2} \right) d\theta \\
 &= 4 \left( \int_0^{\frac{2}{3}\pi} \sin \frac{3\theta}{2} d\theta - \int_{\frac{2}{3}\pi}^{\frac{4}{3}\pi} \sin \frac{3\theta}{2} d\theta + \int_{\frac{4}{3}\pi}^{2\pi} \sin \frac{3\theta}{2} d\theta \right) \\
 &= 4 \left( \left[ -\frac{2}{3} \cos \frac{3\theta}{2} \right]_0^{\frac{2}{3}\pi} - \left[ -\frac{2}{3} \cos \frac{3\theta}{2} \right]_{\frac{2}{3}\pi}^{\frac{4}{3}\pi} + \left[ -\frac{2}{3} \cos \frac{3\theta}{2} \right]_{\frac{4}{3}\pi}^{2\pi} \right) \\
 &= 4 \left( \frac{4}{3} + \frac{4}{3} + \frac{4}{3} \right) = 16
 \end{aligned}$$

해설 - [문제3]

[3-1]  $y = \ln x$  ( $x > 0$ ),  $\frac{dy}{dx} = \frac{1}{x} > 0$ 이므로  $x > 0$ 에서 함수  $y = \ln x$ 는 증가함수이다. 닫힌 구간  $[k, k+1]$ 에서  $k \leq x \leq k+1$ 이므로  $\ln k \leq \ln x \leq \ln(k+1)$ 이 성립한다.

[3-2] [3-1]의 부등식에서  $\int_k^{k+1} \ln k dx \leq \int_k^{k+1} \ln x dx \leq \int_k^{k+1} \ln(k+1) dx$ 이 성립함을 알 수 있다.

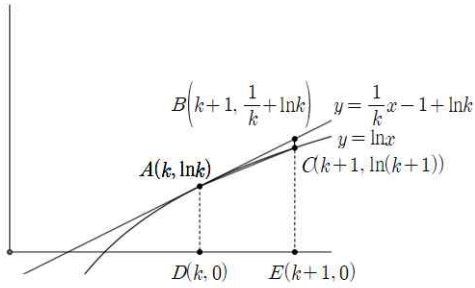
$\ln k \leq \int_k^{k+1} \ln x dx \leq \ln(k+1)$ 에  $k = 1, 2, 3, \dots, n$ 을 넣어보자.

$$\begin{array}{l}
 \ln 1 \leq \int_1^2 \ln x dx \leq \ln 2 \\
 \ln 2 \leq \int_2^3 \ln x dx \leq \ln 3 \\
 \ln 3 \leq \int_3^4 \ln x dx \leq \ln 4 \\
 \vdots \\
 \ln n \leq \int_n^{n+1} \ln x dx \leq \ln(n+1) \\
 + \hline
 \ln(1 \times 2 \times 3 \times \dots \times n) \leq \int_1^{n+1} \ln x dx \leq \ln(1 \times 2 \times 3 \times \dots \times (n+1))
 \end{array}$$

부등식의 각 항을 더하면 위 부등식이 성립함을 알 수 있고

$\int_1^{n+1} \ln x dx = (n+1)\ln(n+1) - n$ 이므로 주어진 부등식이 성립한다.

[3-3]



$y = \ln x (x > 0)$ 의 위의 점  $A(k, \ln k)$ 에서 접선의 방정식은  $\frac{dy}{dx} = \frac{1}{x}$ 이므로 다음과 같다.

$$y = \frac{1}{k}(x - k) + \ln k = \frac{1}{k}x - 1 + \ln k$$

좌측의 그래프에서 임의의 자연수  $k$ 에 대해

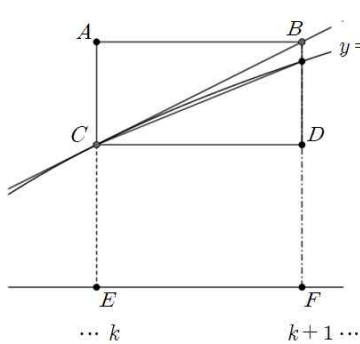
$$\square ACED \leq \int_k^{k+1} \ln x dx \leq \square ABED \quad \text{임을}$$

알 수 있다.

따라서 부등식  $\frac{\ln k + \ln(k+1)}{2} \leq \int_k^{k+1} \ln x dx \leq \frac{1}{2k} + \ln k$ 이 성립한다.  $k$ 에  $1, 2, 3, \dots, n$ 을 넣어보자.

$$\begin{aligned} & \frac{\ln 1 + \ln 2}{2} \leq \int_1^2 \ln x dx \leq \frac{1}{2} + \ln 1 \\ & \frac{\ln 2 + \ln 3}{2} \leq \int_2^3 \ln x dx \leq \frac{1}{2 \times 2} + \ln 2 \\ & \quad \vdots \\ & \frac{\ln n + \ln(n+1)}{2} \leq \int_n^{n+1} \ln x dx \leq \frac{1}{2 \times n} + \ln(n) \\ + & \frac{\sum_{k=1}^n \ln k + \ln(k+1)}{2} \leq \int_1^{n+1} \ln x dx \leq \sum_{k=1}^n \left\{ \frac{1}{2k} + \ln k \right\} \end{aligned}$$

부등식의 각 항을 더하면 주어진 부등식이 성립함을 알 수 있다.



$y = \ln x [3-1]$ 에서도  $\square CDFE \leq \int_k^{k+1} \ln x dx \leq \square ABFE$ 로 해결

가능합니다. 많이 나오는 개념이니 2가지 방법으로 다 풀어봅시다.