

일차변환 51문제 답안지

1) ①

원점을 중심으로 45° 만큼 회전이동한 다음 원점을 중심으로 $\frac{1}{2}$ 배로 축소하는 일차변환이므로

$$A = \begin{pmatrix} \frac{1}{2} & 0 \\ 0 & \frac{1}{2} \end{pmatrix} \begin{pmatrix} \cos 45^\circ & -\sin 45^\circ \\ \sin 45^\circ & \cos 45^\circ \end{pmatrix}$$

$$= \frac{1}{2} \begin{pmatrix} \cos 45^\circ & -\sin 45^\circ \\ \sin 45^\circ & \cos 45^\circ \end{pmatrix}$$

$$A^4 = \left(\frac{1}{2}\right)^4 \begin{pmatrix} \cos 180^\circ & -\sin 180^\circ \\ \sin 180^\circ & \cos 180^\circ \end{pmatrix}$$

$$= \frac{1}{16} \begin{pmatrix} -1 & 0 \\ 0 & -1 \end{pmatrix}$$

$$\therefore A^4 \begin{pmatrix} 1 \\ 1 \end{pmatrix} = \frac{1}{16} \begin{pmatrix} -1 & 0 \\ 0 & -1 \end{pmatrix} \begin{pmatrix} 1 \\ 1 \end{pmatrix}$$

$$= \frac{1}{16} \begin{pmatrix} -1 \\ -1 \end{pmatrix}$$

$$a = -\frac{1}{16}, \quad b = -\frac{1}{16}$$

$$\therefore \frac{a+bi}{1+i} = -\frac{1}{16} \cdot \frac{1+i}{1+i} = -\frac{1}{16}$$

2) 8개

f 는 원점을 중심으로 90° 만큼 회전하는 회전변환, g 는 y 축에 대한 대칭변환이다.

점 $P\left(\frac{\sqrt{3}}{2}, \frac{1}{2}\right)$ 은 x 축의 양의 방향과 이루는 각의 크기가 30° 인 단위원 위의 점이다.

따라서, 점 P 를 f 와 g 의 유한 번 합성변환에 의해 옮기면 8개의 점 하나로 옮겨진다.

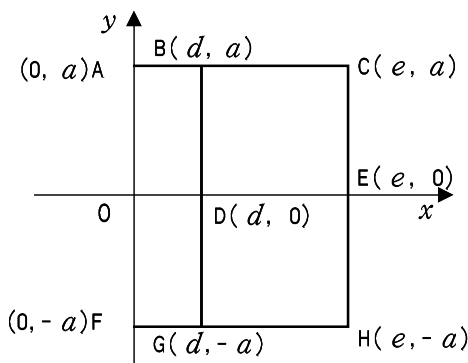
3) ④

ㄱ. 주어진 도형을 원점을 중심으로 180° 만큼 회전이동하면 얻어진다.

ㄷ 일차변환의 행렬 $\begin{pmatrix} a & b \\ c & d \end{pmatrix}$ 에서 $ad - bc = 0$ 인 경우 일차변환에 의해 좌표평면 위의 도형은 원점을 지나는 직선 또는 한 점으로 옮겨진다.

따라서 ㄱ, ㄷ만 가능하다.

4) ⑤



좌표를 그림과 같이 정하고 준 일차변환의 행렬을 P 라 하면 $P \begin{pmatrix} d & d \\ a & 0 \end{pmatrix} = \begin{pmatrix} e & 0 \\ 0 & a \end{pmatrix}$

$$\begin{aligned}
P &= \begin{pmatrix} e & 0 \\ 0 & a \end{pmatrix} \begin{pmatrix} d & d \\ a & 0 \end{pmatrix}^{-1} \\
&= -\frac{1}{ad} \begin{pmatrix} e & 0 \\ 0 & a \end{pmatrix} \begin{pmatrix} 0 & -d \\ -a & d \end{pmatrix} \\
&= -\frac{1}{ad} \begin{pmatrix} 0 & -de \\ -a^2 & ad \end{pmatrix} \\
&= \frac{1}{ad} \begin{pmatrix} 0 & de \\ a^2 & -ad \end{pmatrix}
\end{aligned}$$

$$\begin{aligned}
\therefore P \begin{pmatrix} 0 \\ a \end{pmatrix} &= \frac{1}{ad} \begin{pmatrix} 0 & de \\ a^2 & -ad \end{pmatrix} \begin{pmatrix} 0 \\ a \end{pmatrix} \\
&= \frac{1}{ad} \begin{pmatrix} ade \\ -a^2 d \end{pmatrix} = \begin{pmatrix} e \\ -a \end{pmatrix}
\end{aligned}$$

따라서, 점 A 는 점 H 로 옮겨진다.

(별해) 주어진 일차변환을 f 라 하면

$$\begin{aligned}
\overrightarrow{OB} &= \overrightarrow{OA} + \overrightarrow{OD} \text{이고, } f(\overrightarrow{OB}) = \overrightarrow{OE}, f(\overrightarrow{OD}) = \overrightarrow{OA} \text{이므로 } f(\overrightarrow{OB}) = f(\overrightarrow{OA}) + f(\overrightarrow{OD}) \\
&= f(\overrightarrow{OA}) + \overrightarrow{OA} = \overrightarrow{OE}
\end{aligned}$$

$$\therefore f(\overrightarrow{OA}) = \overrightarrow{OE} - \overrightarrow{OA} = \overrightarrow{AE} = \overrightarrow{OH}$$

따라서, 점 A 는 점 H 로 옮겨진다.

5) 0

6) 12

7) ②

8) ①

9) ②

10) ③

11) ②

12) $b = \frac{5}{4}$

13) ②

일차변환 $A = \begin{pmatrix} 1 & a \\ 0 & 1 \end{pmatrix}$ 에 의해 점 (x, y) 가 점 (x', y') 로 옮겨진다고 하자.

$$\begin{pmatrix} 1 & a \\ 0 & 1 \end{pmatrix} \begin{pmatrix} x \\ y \end{pmatrix} = \begin{pmatrix} x' \\ y' \end{pmatrix}$$

$$x + ay = x', \quad y = y'$$

$$y = y', \quad x = x' - ay'$$

따라서, $x + y - 1 = 0$ 에 대입하여 정리하면

$$x' + (1 - a)y' = 1$$

$x - y - 1 = 0$ 과 일치할 조건은

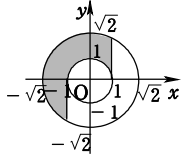
$$\frac{1}{1} = \frac{1-a}{-1} = \frac{-1}{-1}$$

$$1-a = -1$$

$$\therefore a = 2$$

14) ①

행렬 A 는 180° 회전변환이므로 선분을 180° 회전시키면 지나가는 영역은 오른쪽 그림과 같다. 따라서, 넓이가 같은 것은 ① 이다.



15) ⑤

일차변환은 이동 후의 점 (x', y') 이 이동 전의 점 (x, y) 에 대한 일차식으로 나타나고 상수항은 0 인 변환을 일차변환이라 하므로 각 변환은 다음과 같이 나타낼 수 있으므로 ⑤ 는 일차변환이 아니다.

$$\textcircled{1} \begin{cases} x' = x = 1 \cdot x + 0 \cdot y \\ y' = 0 = 0 \cdot x + 0 \cdot y \end{cases}$$

$$\textcircled{2} \begin{cases} x' = 0 = 0 \cdot x + 0 \cdot y \\ y' = y = 0 \cdot x + 1 \cdot y \end{cases}$$

$$\textcircled{3} \begin{cases} x' = -x = (-1) \cdot x + 0 \cdot y \\ y' = -y = 0 \cdot x + (-1) \cdot y \end{cases}$$

$$\textcircled{4} \begin{cases} x' = -y = 0 \cdot x + (-1) \cdot y \\ y' = -x = (-1) \cdot x + 0 \cdot y \end{cases}$$

$$\textcircled{5} \begin{cases} x' = 2a - x = (-1) \cdot x + 0 \cdot y + 2a \\ y' = 2b - y = 0 \cdot x + (-1) \cdot y + 2b \end{cases}$$

16) ①

$f \circ g$ 를 나타내는 행렬은

$$\begin{pmatrix} 1 & 2 \\ 2 & 3 \end{pmatrix} \begin{pmatrix} 2 & -3 \\ 1 & -2 \end{pmatrix} = \begin{pmatrix} 4 & -1 \\ 7 & 0 \end{pmatrix}$$

따라서, 점 $(1, 1)$ 이 이동하는 점을 (a, b) 라 하면

$$\begin{pmatrix} a \\ b \end{pmatrix} = \begin{pmatrix} 4 & -1 \\ 7 & 0 \end{pmatrix} \begin{pmatrix} 1 \\ 1 \end{pmatrix} = \begin{pmatrix} 3 \\ 7 \end{pmatrix}$$

17) 72

합성변환 $f \circ g$ 에 의하여 점 (x, y) 가 점 (y, x) 로 옮겨지므로

$f \circ g$ 는 $y = x$ 에 대한 대칭이동을 나타내는 변환이다.

따라서, $f \circ g$ 를 나타내는 행렬은 $\begin{pmatrix} 0 & 1 \\ 1 & 0 \end{pmatrix}$

$$\therefore A \begin{pmatrix} 2 & 3 \\ 3 & 4 \end{pmatrix} = \begin{pmatrix} 0 & 1 \\ 1 & 0 \end{pmatrix}$$

$$\therefore A = \begin{pmatrix} 0 & 1 \\ 1 & 0 \end{pmatrix} \begin{pmatrix} 2 & 3 \\ 3 & 4 \end{pmatrix}^{-1}$$

$$= \begin{pmatrix} 0 & 1 \\ 1 & 0 \end{pmatrix} \begin{pmatrix} -4 & 3 \\ 3 & -2 \end{pmatrix}$$

$$= \begin{pmatrix} 3 & -2 \\ -4 & 3 \end{pmatrix}$$

따라서, 모든 성분의 곱은 72 이다.

18) 답 : ⑤

$$A = \begin{pmatrix} 1 & -\sqrt{3} \\ \sqrt{3} & 1 \end{pmatrix} = 2 \begin{pmatrix} \frac{1}{2} & -\frac{\sqrt{3}}{2} \\ \frac{\sqrt{3}}{2} & \frac{1}{2} \end{pmatrix}$$

$$= \begin{pmatrix} \cos 60^\circ & -\sin 60^\circ \\ \sin 60^\circ & \cos 60^\circ \end{pmatrix}$$

$$\therefore A^6 = 2^6 \begin{pmatrix} \cos 360^\circ & -\sin 360^\circ \\ \sin 360^\circ & \cos 360^\circ \end{pmatrix}$$

$$= \begin{pmatrix} 1 & 0 \\ 0 & 1 \end{pmatrix}$$

$$\therefore \begin{pmatrix} a \\ b \end{pmatrix} = \begin{pmatrix} 2^6 & 0 \\ 0 & 2^6 \end{pmatrix} \begin{pmatrix} -\frac{1}{2} \\ \frac{1}{4} \end{pmatrix} = \begin{pmatrix} -32 \\ 16 \end{pmatrix}$$

$$\therefore a + b = -16$$

19) 답 : 2

$$\begin{pmatrix} x \\ y \end{pmatrix} = \begin{pmatrix} 5 & -2 \\ 3 & -1 \end{pmatrix}^{-1} \begin{pmatrix} x' \\ y' \end{pmatrix}$$

$$= \begin{pmatrix} -1 & 2 \\ -3 & 5 \end{pmatrix} \begin{pmatrix} x' \\ y' \end{pmatrix}$$

이므로

$$x = -x' + 2y', \quad y = -3x' + 5y'$$

그런데 점 (x, y) 가 직선 $y = 2x + 1$ 위에 있으므로

$$-3x' + 5y' = 2(-x' + 2y') + 1$$

$$\therefore y' = x' + 1$$

따라서, $a = 1, b = 1$ 이므로 $a + b = 2$

20) ④

일차변환 f 를 나타내는 행렬을 $\begin{pmatrix} a & b \\ c & d \end{pmatrix}$ 라 놓으면

$$\begin{pmatrix} a & b \\ c & d \end{pmatrix} \begin{pmatrix} 1 \\ 0 \end{pmatrix} = \begin{pmatrix} 2 \\ 4 \end{pmatrix}, \quad \begin{pmatrix} a & b \\ c & d \end{pmatrix} \begin{pmatrix} 0 \\ 1 \end{pmatrix} = \begin{pmatrix} 1 \\ 2 \end{pmatrix}$$

$$\text{에서 } \begin{pmatrix} a & b \\ c & d \end{pmatrix} \begin{pmatrix} 1 & 0 \\ 0 & 1 \end{pmatrix} = \begin{pmatrix} 2 & 1 \\ 4 & 2 \end{pmatrix}$$

$$\therefore \begin{pmatrix} a & b \\ c & d \end{pmatrix} = \begin{pmatrix} 2 & 1 \\ 4 & 2 \end{pmatrix}$$

$$\neg. \begin{pmatrix} 2 & 1 \\ 4 & 2 \end{pmatrix} \begin{pmatrix} 1 \\ 1 \end{pmatrix} = \begin{pmatrix} 3 \\ 6 \end{pmatrix}$$

∴ $\begin{pmatrix} 2 & 1 \\ 4 & 2 \end{pmatrix}$ 의 역행렬이 존재하지 않으므로 $(3, 6)$ 으 로 옮겨지는

점은 $(1, 1)$ 뿐이 아닐 수 있다.

$$\text{즉, } \begin{pmatrix} 2 & 1 \\ 4 & 2 \end{pmatrix} \begin{pmatrix} 2 \\ -1 \end{pmatrix} = \begin{pmatrix} 3 \\ 6 \end{pmatrix},$$

$$\begin{pmatrix} 2 & 1 \\ 4 & 2 \end{pmatrix} \begin{pmatrix} -3 \\ 3 \end{pmatrix} = \begin{pmatrix} 3 \\ 6 \end{pmatrix}$$

에서 알 수 있듯이 직선 $2x + y = 3$ 위의 모든 점은 점 $(3, 6)$ 으로 옮겨진다.

$$\text{ㄷ. } \begin{pmatrix} 2 & 1 \\ 4 & 2 \end{pmatrix} \begin{pmatrix} x \\ y \end{pmatrix} = \begin{pmatrix} 2x + y \\ 4x + 2y \end{pmatrix} \text{ 에서}$$

$$x' = 2x + y, \quad y' = 4x + 2y$$

즉, $y' = 2x'$ 이므로 좌표평면 위의 모든 점들은 직선 $y = 2x$ 위의 점으로 옮겨진다.
따라서, 옳은 것은 ㄱ, ㄷ이다.

21) ①

주어진 일차변환의 행렬로부터 일차변환 f 는 원점을 중심으로 θ 만큼 회전 이동시킨 후,
원점을 중심으로 $\frac{1}{2}$ 배 축소시키는 것임을 알 수 있다.

따라서, 원 C' 의 반지름의 길이는 $\frac{1}{2}$ 이다.

또, 원 C' 의 중심의 좌표는

$$\frac{1}{2} \begin{pmatrix} \cos \theta & -\sin \theta \\ \sin \theta & \cos \theta \end{pmatrix} \begin{pmatrix} 4 \\ 0 \end{pmatrix} = \begin{pmatrix} 2 \cos \theta \\ 2 \sin \theta \end{pmatrix} \text{ 로부터}$$

$(2 \cos \theta, 2 \sin \theta)$ 이다.

원 C' 이 y 축에 접하므로 $|2 \cos \theta| = \frac{1}{2}$

$$\therefore \cos^2 \theta = \frac{1}{16}$$

22) 정답 ③

일차변환 f 와 g 는 각각 x 축에 대한 대칭 이동과 직선 $y = x$ 에 대한 대칭 이동을 나타낸다.

점 $A(2, 1)$ 과 직선 $y = x$ 에 대하여 대칭 이동인 점을 B , 점 B 와 x 축에 대칭인 점을 C ,

점 C 와 직선 $y = x$ 에 대하여 대칭인 점을 D , 점 D 와 x 축에 대하여 대칭인 점을 E, \dots

이와 같이 찾아보면 집합 S 는 위의 그림과 같은 8 개의 점 $A \sim H$ 를 원소로 가진다.

23) 정답 ③

일차변환 f 의 행렬은

$$\begin{pmatrix} -\frac{1}{2} & -\frac{\sqrt{3}}{2} \\ \frac{\sqrt{3}}{2} & -\frac{1}{2} \end{pmatrix} \text{ 이다.}$$

즉, $\begin{pmatrix} \cos 120^\circ & -\sin 120^\circ \\ \sin 120^\circ & \cos 120^\circ \end{pmatrix}$ 이므로 f 는 원점을 중심으로 120°

회전 이동시키는 일차변환을 나타낸다.

24) 정답 : -10

$$\begin{pmatrix} 1 & a \\ 3 & b \end{pmatrix} \begin{pmatrix} 3 \\ 1 \end{pmatrix} = \begin{pmatrix} 2 \\ 7 \end{pmatrix} \text{ 에서 } \begin{pmatrix} 3 + a \\ 9 + b \end{pmatrix} = \begin{pmatrix} 2 \\ 7 \end{pmatrix}$$

$$\therefore a = -1, \quad b = -2$$

$$\begin{pmatrix} 1 & -1 \\ 3 & -1 \end{pmatrix} \begin{pmatrix} c \\ d \end{pmatrix} = \begin{pmatrix} -1 \\ -1 \end{pmatrix} \text{ 에서}$$

$$\begin{pmatrix} c \\ d \end{pmatrix} = \begin{pmatrix} 1 & -1 \\ 3 & -2 \end{pmatrix} \begin{pmatrix} 1 \\ -1 \end{pmatrix}$$

$$= \begin{pmatrix} -2 & 1 \\ -3 & 1 \end{pmatrix} \begin{pmatrix} 1 \\ -1 \end{pmatrix} = \begin{pmatrix} -3 \\ -4 \end{pmatrix}$$

$$\therefore c = -3, d = -4$$

$$\therefore a + b + c + d = -1 - 2 - 3 - 4 = -10$$

25) 정답 ②

일차변환 f 를 나타내는 행렬은

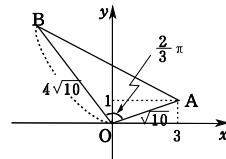
$$2 \begin{pmatrix} -\frac{1}{\sqrt{3}} & -\sqrt{3} \\ \sqrt{3} & -1 \end{pmatrix} = 4 \begin{pmatrix} \cos \frac{2}{3}\pi & -\sin \frac{2}{3}\pi \\ \sin \frac{2}{3}\pi & \cos \frac{2}{3}\pi \end{pmatrix}$$

이므로 f 는 원점을 중심으로 $\frac{2}{3}\pi$ 만큼 회전한 다음 4 배 확대하는 회전변환과 닮음변환의 합성변환이다.

$$\text{이 때, } \overline{OA} = \sqrt{10}, \overline{OB} = 4\sqrt{10} \quad \angle AOB = \frac{2}{3}\pi \text{ 이므로}$$

$\triangle OAB$ 의 넓이는

$$\frac{1}{2} \times \sqrt{10} \times 4\sqrt{10} \times \sin \frac{2}{3}\pi = 10\sqrt{3}$$



26) 정답 ②

직선 $y = kx$ 위의 임의의 점을 (x, kx) 라 하면

$$\begin{pmatrix} 2 & 3 \\ 1 & 1 \end{pmatrix} \begin{pmatrix} x \\ kx \end{pmatrix} = \begin{pmatrix} 2x + 3kx \\ x + kx \end{pmatrix}$$

이 때, 점 $(2x + 3kx, x + kx)$ 는 직선 $y = kx$ 위의 점이므로

$$x + kx = k(2x + 3kx)$$

$$(3k^2 + k - 1)x = 0$$

모든 실수 x 에 대하여 성립하므로

$$3k^2 + k - 1 = 0$$

이 방정식의 모든 실근의 합은 근과 계수와의 관계에 의하여 $-\frac{1}{3}$ 이다.

27) 정답 -7

행렬 A 의 역행렬이 존재하지 않으므로

$$(b - t)a - 3(t + 4) = 0$$

$$ab - at - 3t - 12 = 0$$

$$(a + 3)t - ab + 12 = 0 \quad \text{..... ㉠}$$

㉠ 이 t 에 대한 항등식이므로

$$a + 3 = 0, \quad -ab + 12 = 0$$

$$\therefore a = -3, \quad b = -4$$

$$\therefore a + b = -7$$

28) 정답 ⑤

일차변환 f 는 원점을 중심으로 2 배 확대한 변환이고,

$$g : \frac{1}{2} \begin{pmatrix} -\frac{1}{\sqrt{3}} & \sqrt{3} \\ 1 & 1 \end{pmatrix} = \begin{pmatrix} \cos(-60^\circ) & -\sin(-60^\circ) \\ \sin(-60^\circ) & \cos(-60^\circ) \end{pmatrix}$$

이므로 원점을 중심으로 -60° 회전한 변환이다.

$\triangle ABC$ 의 넓이는 1 이므로 일차변환 f 에 의해서 넓이가 4인 삼각형으로 옮겨지고, 회전변환 g 에 의해서는 삼각형의 넓이는 변하지 않는다.

따라서, 옮겨진 삼각형의 넓이는 4이다.

29) 52

$$\begin{pmatrix} x' \\ y' \end{pmatrix} = \begin{pmatrix} 0 & 3 \\ 2 & 0 \end{pmatrix} \begin{pmatrix} x \\ y \end{pmatrix} \text{에서}$$

$$x' = 3y, \quad y' = 2x \Leftrightarrow x = \frac{1}{2}y', \quad y = \frac{1}{3}x'$$

이 값을 $x^2 + y^2 = 1$ 에 대입하면

$$\frac{x'^2}{3^2} + \frac{y'^2}{2^2} = 1$$

즉, 타원의 방정식은 $\frac{x^2}{3^2} + \frac{y^2}{2^2} = 1$ 이므로

$$p = 6, \quad q = 4$$

$$\therefore p^2 + q^2 = 36 + 14 = 52$$

30) 정답 ⑤

행렬 A 로 나타내어지는 일차변환을 f 라 할 때, 좌표평면 위의 서로 다른 두 점 P, Q 의 일차변환 f 에 의한 상을 $f(P) = P', f(Q) = Q'$ 이라 하자.

① 직선 PQ 위의 임의의 점 R 는

$R = P + (1-t)Q$ (단, t 는 실수)로 표현할 수 있다.

$$\begin{aligned} f(R) &= f\{tP + (1-t)Q\} \\ &= tf(P) + (1-t)f(Q) \\ &= tP' + (1-t)Q' \end{aligned}$$

② 선분 PQ 의 중점 M 은 $M = \frac{P+Q}{2}$ 이므로

$$\begin{aligned} f(M) &= f\left(\frac{P+Q}{2}\right) = \frac{f(P)+f(Q)}{2} \\ &= \frac{P'+Q'}{2} \end{aligned}$$

따라서, 일차변환 f 에 의한 선분 PQ 의 중점 M 은 $P'Q'$ 의 중점으로 옮겨진다.

③, ④ $\square PQRS$ 에서 $\overrightarrow{PQ} \parallel \overrightarrow{RS}$ 이면 $\overrightarrow{RS} = k\overrightarrow{PQ}$

$$\begin{aligned} f(\overrightarrow{RS}) &= f(k\overrightarrow{PQ}) = kf(\overrightarrow{PQ}) \\ \therefore \overrightarrow{P'Q'} &\parallel \overrightarrow{R'S'} \end{aligned}$$

따라서, 평행한 직선은 평행한 직선으로 옮기고 평행사변형은 평행사변형으로 옮긴다.

⑤ $A = \begin{pmatrix} 2 & 0 \\ 0 & 1 \end{pmatrix}$, $O(0, 0)$, $P(1, 0)$, $Q(0, 1)$ 이라

하면 $\triangle OPQ$ 는 직각이등변삼각형이지만 $P'(2, 0)$,

$Q'(0, 1)$ 이므로 $\triangle OP'Q'$ 은 직각이등변삼각형이 아니다. 즉, 삼각형의 상은 삼각형이지만 닮은꼴은 아니다.

31) 정답 ⑤

일차변환 f 에 의해 점 $(1, 0)$ 이 점 $(2, 1)$ 로, 점 $(0, 1)$ 이 점 $(0, 2)$ 로 옮겨지므로 일차변환 f 의 행렬을 A 라 하면

$$A \begin{pmatrix} 1 \\ 0 \end{pmatrix} = \begin{pmatrix} 2 \\ 1 \end{pmatrix}, \quad A \begin{pmatrix} 0 \\ 1 \end{pmatrix} = \begin{pmatrix} 0 \\ 2 \end{pmatrix}$$

$$\therefore A \begin{pmatrix} 1 & 0 \\ 0 & 1 \end{pmatrix} = \begin{pmatrix} 2 & 0 \\ 1 & 2 \end{pmatrix}$$

$$\therefore A = \begin{pmatrix} 2 & 0 \\ 1 & 2 \end{pmatrix}$$

점 B 의 좌표는 $(1, 1)$ 이므로

$$A \begin{pmatrix} 1 \\ 1 \end{pmatrix} = \begin{pmatrix} 2 & 0 \\ 1 & 2 \end{pmatrix} \begin{pmatrix} 1 \\ 1 \end{pmatrix} = \begin{pmatrix} 2 \\ 3 \end{pmatrix}$$

즉, 일차변환 f 에 의해 점 B 는 점 Z 로 옮겨진다.

32) 정답 ①

$P(x, y)$, $Q(x', y')$, $R(x'', y'')$ 이라 하면

$$\begin{pmatrix} x' \\ y' \end{pmatrix} = \begin{pmatrix} 0 & 1 \\ 1 & 0 \end{pmatrix} \begin{pmatrix} x \\ y \end{pmatrix} = \begin{pmatrix} y \\ x \end{pmatrix} \text{ 이고}$$

$$\begin{pmatrix} x'' \\ y'' \end{pmatrix} = \begin{pmatrix} -1 & 0 \\ 0 & 1 \end{pmatrix} \begin{pmatrix} x' \\ y' \end{pmatrix} = \begin{pmatrix} -x' \\ y' \end{pmatrix} \text{ 이므로}$$

$$\begin{aligned} \begin{pmatrix} x'' \\ y'' \end{pmatrix} &= \begin{pmatrix} -1 & 0 \\ 0 & 1 \end{pmatrix} \begin{pmatrix} x' \\ y' \end{pmatrix} \\ &= \begin{pmatrix} -1 & 0 \\ 0 & 1 \end{pmatrix} \begin{pmatrix} 0 & 1 \\ 1 & 0 \end{pmatrix} \begin{pmatrix} x \\ y \end{pmatrix} \\ &= \begin{pmatrix} 0 & -1 \\ 1 & 0 \end{pmatrix} \begin{pmatrix} x \\ y \end{pmatrix} \end{aligned}$$

따라서, 구하는 행렬은 $\begin{pmatrix} 0 & -1 \\ 1 & 0 \end{pmatrix}$ 이다.

33) 정답 ②

좌표평면 위의 모든 점이 일차변환에 의하여 원점을 지나는 직선 $y = mx$ 위의

점으로 옮겨지므로 행렬 $\begin{pmatrix} a & 1 \\ 6 & -3 \end{pmatrix}$ 은 역행렬을 갖지 않는다.

따라서, $-3a - 6 = 0$ 에서 $a = -2$ 이다.

$$\text{또, } \begin{pmatrix} x' \\ y' \end{pmatrix} = \begin{pmatrix} -2 & 1 \\ 6 & -3 \end{pmatrix} \begin{pmatrix} x \\ y \end{pmatrix} = \begin{pmatrix} -2x + y \\ 6x - 3y \end{pmatrix}$$

$$\text{즉, } \begin{cases} x' = -2x + y \\ y' = 6x - 3y \end{cases} \text{ 이므로 } y' = -3x'$$

따라서, 행렬 $\begin{pmatrix} -2 & 1 \\ 6 & -3 \end{pmatrix}$ 으로 나타나는 일차변환에 의하여 좌표평면 위의 모든 점은 직선 $y = -3x$ 위의 점으로 옮겨진다.

$$\therefore m = -3$$

$$\therefore a + m = (-2) + (-3) = -5$$

34) 정답 ②

일차변환 f 는 두 점 A_2, A_5 를 지나는 직선에 대하여 대칭이동시킨 변환이다.

따라서, A_2 가 옮겨지는 점은 A_2 자신이다.

35) 정답 10

$\begin{pmatrix} 4 & 2 \\ 1 & 3 \end{pmatrix} \begin{pmatrix} x \\ y \end{pmatrix} = k \begin{pmatrix} x \\ y \end{pmatrix}$ 인 점 $P(x, y)$ 가 존재한다.

(단, $\begin{pmatrix} x \\ y \end{pmatrix} \neq \begin{pmatrix} 0 \\ 0 \end{pmatrix}$)

$$\begin{pmatrix} 4 & 2 \\ 1 & 3 \end{pmatrix} \begin{pmatrix} x \\ y \end{pmatrix} - k \begin{pmatrix} 1 & 0 \\ 0 & 1 \end{pmatrix} \begin{pmatrix} x \\ y \end{pmatrix} = \begin{pmatrix} 0 \\ 0 \end{pmatrix}$$

$$\begin{pmatrix} 4-k & 2 \\ 1 & 3-k \end{pmatrix} \begin{pmatrix} x \\ y \end{pmatrix} = \begin{pmatrix} 0 \\ 0 \end{pmatrix}$$

$\begin{pmatrix} x \\ y \end{pmatrix} \neq \begin{pmatrix} 0 \\ 0 \end{pmatrix}$ 이므로 행렬 $\begin{pmatrix} 4-k & 2 \\ 1 & 3-k \end{pmatrix}$ 는 역행렬을 가질 수 없다.

$$\therefore (4-k)(3-k) = 0$$

$$k^2 - 7k + 10 = 0$$

따라서, 두 근의 곱은 10 이다.

36) ②

$\begin{pmatrix} x' \\ y' \end{pmatrix} = \begin{pmatrix} 1 & 3 \\ 1 & 2 \end{pmatrix} \begin{pmatrix} x \\ y \end{pmatrix}$ 에서

$$\begin{pmatrix} x \\ y \end{pmatrix} = \begin{pmatrix} 1 & 3 \\ 1 & 2 \end{pmatrix}^{-1} \begin{pmatrix} x' \\ y' \end{pmatrix} = \begin{pmatrix} -2 & 3 \\ 1 & -1 \end{pmatrix} \begin{pmatrix} x' \\ y' \end{pmatrix} = \begin{pmatrix} -2x' + 3y' \\ x' - y' \end{pmatrix}$$

$x = -2x' + 3y'$, $y = x' - y'$ 을 $x + 2y = 1$ 에 대입하면

$$(-2x' + 3y') + 2(x' - y') = 1 \Leftrightarrow y' = 1$$

따라서 직선 l 의 방정식은 $y = 1$

직선 $y = 1$ 이 포물선 $y = x^2 + 2x + a$ 에 접하므로

방정식 $1 = x^2 + 2x + a$ 즉, $x^2 + 2x + a - 1 = 0$ 이 증근을

갖는다.

$$\text{판별식 } \frac{D}{4} = 1 - a + 1 = 0 \quad \therefore a = 2$$

37) ⑤

(i) 일차변환은 원점을 원점으로 옮기므로 ①, ②, ③ 은 될 수 없다.

(ii) 일차변환은 선분을 선분으로 옮기므로 ④ 가 될 수 없다,

(iii) 일차변환의 행렬 $\begin{pmatrix} a & b \\ c & d \end{pmatrix}$ 가 영행렬이 아니고

$ad - bc = 0$ 이면 원점을 포함한 영역은 원점을 포함하는 선분으로 옮겨질 수 있다.

38) 정답 ⑤

직선 $x + y = 1$ 위의 점 (x, y) 가 주어진 일차변환에 의하여 옮겨지는 점을 (x', y') 이라고 하면

$$\begin{pmatrix} 1 & -1 \\ 0 & 1 \end{pmatrix} \begin{pmatrix} x \\ y \end{pmatrix} = \begin{pmatrix} x' \\ y' \end{pmatrix}$$

$$\begin{aligned} \begin{pmatrix} x \\ y \end{pmatrix} &= \begin{pmatrix} 1 & -1 \\ 0 & 1 \end{pmatrix}^{-1} \begin{pmatrix} x' \\ y' \end{pmatrix} \\ &= \begin{pmatrix} 1 & 1 \\ 0 & 1 \end{pmatrix} \begin{pmatrix} x' \\ y' \end{pmatrix} \\ &= \begin{pmatrix} x' + y' \\ y' \end{pmatrix} \end{aligned}$$

$$\therefore x = x' + y', \quad y = y'$$

이것을 $x + y = 1$ 에 대입하여 정리하면

$$x' + 2y' = 1$$

따라서, 옮겨지는 직선의 방정식은 $x + 2y = 1$ 이다.

$$\therefore a = 1, \quad b = 2$$

$$\therefore a + b = 3$$

39) ④

영역 D 에 속하는 임의의 점을 $P(x, y)$ 라고 하면 $y < 2x$ 이고 $y > \frac{1}{2}x$

주어진 일차변환에 의한 점 P 의 상을 P' 이라 할 때,

$$\begin{pmatrix} 2-1 \\ 1-2 \end{pmatrix} \begin{pmatrix} x \\ y \end{pmatrix} = \begin{pmatrix} 2x-y \\ x-2y \end{pmatrix}$$

$$\therefore P'(2x-y, x-2y)$$

그러나 위에서 $2x-y > 0$ 이고 $x-2y < 0$ 이므로 점 P' 은 제4 사분면 위의 점이다.

40) 정답 ①

일차변환 f 의 행렬을 A 라 하면

$$A \begin{pmatrix} 1 \\ 0 \end{pmatrix} = \begin{pmatrix} -1 \\ -1 \end{pmatrix}, \quad A \begin{pmatrix} -1 \\ 1 \end{pmatrix} = \begin{pmatrix} 0 \\ 0 \end{pmatrix} \text{ 이므로}$$

$$A \begin{pmatrix} 1 & -1 \\ 0 & 1 \end{pmatrix} = \begin{pmatrix} -1 & 0 \\ -1 & 0 \end{pmatrix}$$

$$\therefore A = \begin{pmatrix} -1 & 0 \\ -1 & 0 \end{pmatrix} \begin{pmatrix} 1 & -1 \\ 0 & 1 \end{pmatrix}^{-1}$$

$$= \begin{pmatrix} -1 & 0 \\ -1 & 0 \end{pmatrix} \begin{pmatrix} 1 & 1 \\ 0 & -1 \end{pmatrix}$$

$$= \begin{pmatrix} -1 & -1 \\ -1 & -1 \end{pmatrix}$$

직선 OQ 의 방정식이 $y = -x$ 이므로 직선 OQ 위의 임의의 점

$\begin{pmatrix} t \\ -t \end{pmatrix}$ 의 일차변환 f 에 의한 상은

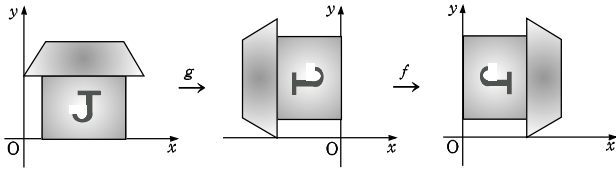
$$A \begin{pmatrix} t \\ -t \end{pmatrix} = \begin{pmatrix} -1 & -1 \\ -1 & -1 \end{pmatrix} \begin{pmatrix} t \\ -t \end{pmatrix} = \begin{pmatrix} 0 \\ 0 \end{pmatrix}$$

즉, 직선 OQ 의 일차변환 f 에 의한 상은 원점 O 이다.

41) 정답 ①

일차변환 f 는 y 축에 대한 대칭변환이고, 일차변환 g 는 원점을 중심으로 90° 회전 이동하는 변환이다.

따라서, 합성변환 $f \circ g$ 에 의하여 주어진 그림은 다음과 같이 이동한다.



42) 정답 ①

f 는 직선 $y=x$ 위의 점 (x, y) 를 자기 자신 (x, y) 로 옮기는 일차변환이므로

일차변환 f 를 나타내는 행렬을 $A = \begin{pmatrix} a & b \\ c & d \end{pmatrix}$ 라 하면

$$\begin{pmatrix} a & b \\ c & d \end{pmatrix} \begin{pmatrix} x \\ y \end{pmatrix} = \begin{pmatrix} x \\ y \end{pmatrix}$$

$$\begin{pmatrix} a-1 & b \\ c & d-1 \end{pmatrix} \begin{pmatrix} x \\ y \end{pmatrix} = \begin{pmatrix} 0 \\ 0 \end{pmatrix}$$

연립방정식이 $x=0, y=0$ 이외의 해를 가져야 하므로

$$(a-1)(d-1) - bc = 0$$

즉, $ad - (a+d) + 1 - bc = 0 \dots\dots\dots \textcircled{1}$

그런데, f 의 역변환이 존재하지 않으므로 행렬 A 의 역행렬이 존재하지 않는다.

즉, $ad - bc = 0$

$\textcircled{1}$ 에서 $-(a+d) + 1 = 0$

$$\therefore a + d = 1$$

43) 4

$$\begin{pmatrix} x' \\ y' \end{pmatrix} = \begin{pmatrix} 2 & 1 \\ 0 & a \end{pmatrix} \begin{pmatrix} x \\ y \end{pmatrix} \text{에서 } \begin{pmatrix} x \\ y \end{pmatrix} = \frac{1}{2a} \begin{pmatrix} a & -1 \\ 0 & 2 \end{pmatrix} \begin{pmatrix} x' \\ y' \end{pmatrix}$$

$$\therefore x = \frac{1}{2a}(ax' - y'), y = \frac{1}{2a} \cdot 2y' = \frac{y'}{a}$$

따라서 위 식을 직선 $y = 2x + 5$ 에 대입하여 정리하면

$$y' = \frac{1}{2}ax' + \frac{5a}{2}$$

이 직선이 $y = 2x + 5$ 와 평행하므로 $\frac{1}{2}a = 2$ 에서 $a = 4$

44) ① [출제의도] 합성변환을 활용할 수 있다.

일차변환을 나타내는 행렬을 A 라 하고, 점 P, Q 의 좌표를 $P(a, b), Q(c, d)$ 라고 하면

$$A \begin{pmatrix} a \\ b \end{pmatrix} = \begin{pmatrix} c \\ d \end{pmatrix}, A \begin{pmatrix} c \\ d \end{pmatrix} = \begin{pmatrix} 0 \\ 0 \end{pmatrix}$$

또, 합성변환 $f \circ f$ 를 나타내는 행렬은 A^2 이고

$$A^2 \begin{pmatrix} a \\ b \end{pmatrix} = A \begin{pmatrix} c \\ d \end{pmatrix} = \begin{pmatrix} 0 \\ 0 \end{pmatrix}, A^2 \begin{pmatrix} c \\ d \end{pmatrix} = A \begin{pmatrix} 0 \\ 0 \end{pmatrix} = \begin{pmatrix} 0 \\ 0 \end{pmatrix}$$

$$\text{즉, } A^2 \begin{pmatrix} a & c \\ b & d \end{pmatrix} = \begin{pmatrix} 0 & 0 \\ 0 & 0 \end{pmatrix}$$

한편, 세 점 O, P, Q 는 일직선 위에 있지 않으므로

$$\frac{b}{a} \neq \frac{d}{c}, \quad ad - bc \neq 0,$$

즉, 행렬 $\begin{pmatrix} a & c \\ b & d \end{pmatrix}$ 의 역행렬 $\begin{pmatrix} a & c \\ b & d \end{pmatrix}^{-1}$ 이 존재한다.

$$\therefore A^2 = \begin{pmatrix} 0 & 0 \\ 0 & 0 \end{pmatrix} \begin{pmatrix} a & c \\ b & d \end{pmatrix}^{-1} = \begin{pmatrix} 0 & 0 \\ 0 & 0 \end{pmatrix}$$

따라서, 합성변환 $f \circ f$ 에 의하여 원 C 는 원점 O 로 옮겨진다.

45) ㉠ 3

일차변환 f 를 나타내는 행렬을 A 라 하면

$$A = \begin{pmatrix} a \\ b \end{pmatrix} = \begin{pmatrix} 1 \\ -1 \end{pmatrix}, \quad A = \begin{pmatrix} c \\ d \end{pmatrix} = \begin{pmatrix} -1 \\ 0 \end{pmatrix}$$

$$\begin{aligned} A &= \begin{pmatrix} 2a - 3c \\ 2b - 3d \end{pmatrix} = A \left(2 \begin{pmatrix} a \\ b \end{pmatrix} - 3 \begin{pmatrix} c \\ d \end{pmatrix} \right) \\ &= 2A \begin{pmatrix} a \\ b \end{pmatrix} - 3A \begin{pmatrix} c \\ d \end{pmatrix} \\ &= 2 \begin{pmatrix} 1 \\ -1 \end{pmatrix} - 3 \begin{pmatrix} -1 \\ 0 \end{pmatrix} \\ &= \begin{pmatrix} 5 \\ -2 \end{pmatrix} = \begin{pmatrix} e \\ f \end{pmatrix} \end{aligned}$$

$$\therefore e + f = 5 + (-2) = 3$$

46) ㉡ [출제의도] 주어진 일차변환을 이해하고 이를 도형에 적용할 수 있다.

$$\begin{aligned} \begin{pmatrix} 1 & -1 \\ 1 & 1 \end{pmatrix} &= \sqrt{2} \begin{pmatrix} \frac{1}{\sqrt{2}} & -\frac{1}{\sqrt{2}} \\ \frac{1}{\sqrt{2}} & \frac{1}{\sqrt{2}} \end{pmatrix} \\ &= \sqrt{2} \begin{pmatrix} \cos \frac{\pi}{4} & -\sin \frac{\pi}{4} \\ \sin \frac{\pi}{4} & \cos \frac{\pi}{4} \end{pmatrix} \end{aligned}$$

이므로 일차변환 f 는 원점을 중심으로 $\frac{\pi}{4}$ 회전시킨 회전변환과 원점을 중심으로 $\sqrt{2}$ 배 확대시킨 닮음변환의 합성변환이다.

따라서 점 P_1, P_2, P_3, P_4, P_5 를 좌표평면에 나타내면 위의 그림과 같다.

\therefore (오각형 $P_1P_2P_3P_4P_5$ 의 넓이)

$$\begin{aligned} &= \triangle OP_1P_2 + \triangle OP_2P_3 + \triangle OP_3P_4 + \triangle OP_4P_5 \\ &= 1 + 2 + 4 + 8 = 15 \end{aligned}$$

47) $\left(\frac{1}{2}, -\frac{\sqrt{3}}{2} \right)$

$$\begin{pmatrix} \frac{1}{2} & -\frac{\sqrt{3}}{2} \\ \frac{\sqrt{3}}{2} & \frac{1}{2} \end{pmatrix} = \begin{pmatrix} \cos \frac{\pi}{3} & -\sin \frac{\pi}{3} \\ \sin \frac{\pi}{3} & \cos \frac{\pi}{3} \end{pmatrix} \text{이므로 일차변환 } f \text{는 원점을}$$

중심으로 60° 만큼 회전이동시키는 회전변환이므로

$$f^{2003} \text{은 } 2003 \times \frac{\pi}{3} = 333 \times 2\pi + \frac{5}{3}\pi \text{에서 원점을 중심으로 } \frac{5}{3}\pi \text{만큼 회전이동시킨 회전변환이다.}$$

따라서
$$\begin{pmatrix} \cos \frac{5}{3}\pi & -\sin \frac{5}{3}\pi \\ \sin \frac{5}{3}\pi & \cos \frac{5}{3}\pi \end{pmatrix} \begin{pmatrix} 1 \\ 0 \end{pmatrix} = \begin{pmatrix} \frac{1}{2} & \frac{\sqrt{3}}{2} \\ -\frac{\sqrt{3}}{2} & \frac{1}{2} \end{pmatrix} \begin{pmatrix} 1 \\ 0 \end{pmatrix} = \begin{pmatrix} \frac{1}{2} \\ -\frac{\sqrt{3}}{2} \end{pmatrix}$$

48) ③ [출제의도] 합성변환에 의하여 이동되는 도형의 식을 구할 수 있다.

$g \circ f$ 를 나타내는 행렬

$$\begin{pmatrix} 1 & -1 \\ -2 & 2 \end{pmatrix} \begin{pmatrix} 3 & 1 \\ 0 & 3 \end{pmatrix} = \begin{pmatrix} 3 & -2 \\ -6 & 4 \end{pmatrix}$$

직선 $3x - 2y = 1$ 위의 점 (x, y) 가 일차변환 $g \circ f$ 에 의하여

(x', y') 으로 이동된다면

$$\begin{pmatrix} x' \\ y' \end{pmatrix} = \begin{pmatrix} 3 & -2 \\ -6 & 4 \end{pmatrix} \begin{pmatrix} x \\ y \end{pmatrix} = \begin{pmatrix} 3x - 2y \\ -6x + 4y \end{pmatrix}$$

$3x - 2y = 1$ 이므로 $x' = 1$

또, $y' = -6x + 4y = -2(3x - 2y) = -2$

\therefore 이동된 도형은 $(1, -2)$ 가 된다.

49) ④

$$A = \begin{pmatrix} \frac{1}{2} & 0 \\ 0 & \frac{1}{2} \end{pmatrix}, B = \begin{pmatrix} \cos \frac{\pi}{3} & -\sin \frac{\pi}{3} \\ \sin \frac{\pi}{3} & \cos \frac{\pi}{3} \end{pmatrix}$$

라 하면

$$\begin{aligned} \begin{pmatrix} x_n \\ y_n \end{pmatrix} &= (BA)^{n-1} \begin{pmatrix} 32 \\ 0 \end{pmatrix} = (B(\frac{1}{2}E))^{n-1} 2^5 \begin{pmatrix} 1 \\ 0 \end{pmatrix} \\ &= \left(\frac{1}{2}\right)^{n-1} \cdot 2^5 B^{n-1} \begin{pmatrix} 1 \\ 0 \end{pmatrix} \\ &= 2^{-n+1+5} \begin{pmatrix} \cos \frac{(n-1)\pi}{3} & -\sin \frac{(n-1)\pi}{3} \\ \sin \frac{(n-1)\pi}{3} & \cos \frac{(n-1)\pi}{3} \end{pmatrix} \begin{pmatrix} 1 \\ 0 \end{pmatrix} \\ &= 2^{-n+6} \begin{pmatrix} \cos(n-1)\frac{\pi}{3} \\ \sin(n-1)\frac{\pi}{3} \end{pmatrix} \end{aligned}$$

그런데 $P_n(x_n, y_n)$ 이 그림의 어두운 부분에 속하기 위해서는 $2^{-n+6} \leq 1 \leftrightarrow n \geq 6$ (1)

$$2k\pi + \frac{\pi}{2} \leq (n-1)\frac{\pi}{3} \leq 2k\pi + \pi \quad \dots\dots (2)$$

$$(k=0, 1, 2, \dots)$$

(2)에서

ㄱ) $k=0$ 일 때, $n=3, 4$ 이것은 (1)에서 모순

ㄴ) $k=1$ 일 때, $n=9, 10$

ㄷ) $k=2$ 일 때, $n=15, 16$

⋮

따라서 구하는 자연수 n 의 최솟값은 9이다.

50) 41 이해력- 일차변환과 행렬

점 P 의 좌표를 (a, β) 라 놓으면

$$A^{2004} \begin{pmatrix} a \\ \beta \end{pmatrix} = \begin{pmatrix} 4 \\ -7 \end{pmatrix} \text{이므로}$$

$$A^{2004} \begin{pmatrix} a \\ \beta \end{pmatrix} = A^{-1} \begin{pmatrix} 4 \\ -7 \end{pmatrix} = \begin{pmatrix} 2 & -1 \\ -3 & 2 \end{pmatrix} \begin{pmatrix} 4 \\ -7 \end{pmatrix} = \begin{pmatrix} 15 \\ -26 \end{pmatrix}$$

$$\therefore a = 15, \quad b = -26 \quad \therefore a - b = 41$$

51) 8개

일차변환 f 가 나타내는 행렬을 $A = \begin{pmatrix} a & b \\ c & d \end{pmatrix}$ 라 하면

$$\begin{pmatrix} x' \\ y' \end{pmatrix} = \begin{pmatrix} a & b \\ c & d \end{pmatrix} \begin{pmatrix} x \\ y \end{pmatrix} \text{에서 } \begin{cases} x' = ax + by \\ y' = cx + dy \end{cases}$$

이 때, 점 (x', y') 가 $x'^2 + y'^2 = 1$ 을 만족하므로

$$(ax + by)^2 + (cx + dy)^2 = 1$$

$$\therefore (a^2 + c^2)x^2 + (b^2 + d^2)y^2 + 2(ab + cd)xy = 1$$

이 식이 $x^2 + y^2 = 1$ 을 만족해야 하므로

$$a^2 + c^2 = 1, \quad b^2 + d^2 = 1 \quad \dots \textcircled{1}$$

$$ab + cd = 0 \quad \dots \textcircled{2}$$

이 때, a, b, c, d 는 정수이므로 $\textcircled{1}$ 에서

$$(a, c) = (0, 1), (0, -1), (1, 0), (-1, 0) \quad \dots \textcircled{3}$$

$$(b, d) = (0, 1), (0, -1), (1, 0), (-1, 0)$$

그런데, $\textcircled{3}$ 에서 $a = 0$ 이면 $c \neq 0$ 이므로, $\textcircled{2}$ 에서 $d = 0$ 이다.

따라서, $(a, c) = (0, 1)$ 에 대하여

$(b, d) = (1, 0), (-1, 0)$ 이 $\textcircled{2}$ 를 만족한다.

같은 방법으로 (a, c) 의 4가지 각각의 해에 대하여 (b, d) 의 해가 2가지씩 존재하므로

구하는 일차변환 f 의 개수는 8개다.

- | | | | |
|----------|-----------|-----------|----------|
| 1. 답 ③ | 2. 답 ④ | 3. 답 18 | 4. 답 14 |
| 5. 답 ② | 6. 답 ② | 7. 답 ① | 8. 답 ② |
| 9. 답 ② | 10. 답 ⑤ | 10. 답 ⑤ | 12. 답 ③ |
| 13. 답 60 | 14. 답 7 | 15. 답 ② | 16. 답 ① |
| 17. 답 ⑤ | 18. 답 4 | 19. 답 29 | 20. 답 ② |
| 21. 답 12 | 22. 답 ① | 23. 답 ⑤ | 24. 답 ⑤ |
| 25. 답 ⑤ | 26. 답 ② | 27. 답 ③ | 28. 답 ② |
| 29. 답 ② | 30. 답 288 | 31. 답 ④ | 32. 답 ① |
| 33. 답 ④ | 34. 답 40 | 35. 답 ⑤ | 36. 답 20 |
| 36. 답 20 | 38. 답 ① | 39. 답 ① | 40. 답 ③ |
| 41. 답 ③ | 42. 답 12 | 43. 답 ⑤ | 44. 답 ③ |
| 45. 답 ③ | 46. 답 15 | 47. 답 ③ | 48. 답 ① |
| 49. 답 ⑤ | 50. 답 3 | 51. 답 ③ | 51. 답 ③ |
| 53. 답 ① | 54. 답 ⑤ | 55. 답 ⑤ | 56. 답 ⑤ |
| 57. 답 ① | 58. 답 ② | 59. 답 ③ | 60. 답 ③ |
| 61. 답 10 | 62. 답 ② | 63. 답 141 | 64. 답 ② |
| 65. 답 ① | 66. 답 ② | 67. 답 ② | 68. 답 ③ |
| 69. 답 ① | 70. 답 ② | 71. 답 ③ | 72. 답 ③ |
| 73. 답 ④ | 74. 답 ① | 75. 답 ④ | 76. 답 ④ |

1. 답 ③

[해설]

주어진 포물선의 방정식은 $x^2 = 4 \times 2y = 8y$ 이다.
이 포물선이 점 $(a, 2)$ 를 지나므로

$$a^2 = 16$$

$$\therefore a = 4 (\because a > 0)$$

2. 답 ④

[해설]

$$y^2 = 8x = 4 \cdot 2 \cdot x \text{에서 } p = 2$$

즉, 포물선 $y^2 = 8x$ 의 초점의 좌표는 $(2, 0)$ 이므로

$$\alpha = 2$$

또, 준선의 방정식은 $x = -2$ 이므로

$$\beta = -2$$

$$\therefore \alpha\beta = 2 \times (-2) = -4$$

3. 답 18

[해설]

포물선 $x^2 = 4y$ 의 초점의 좌표는 $(0, 1)$ 이므로 포물선 $(x-1)^2 = 4y$ 의 초점 F_1 의 좌표는 $F_1(0+1, 1)$, 즉 $F_1(1, 1)$ 이다.

또한, 포물선 $y^2 = 4 \times (-2)x = -8x$ 의 초점의 좌표는 $(-2, 0)$ 이므로 포물선 $(y+2)^2 = -8x$ 의 초점 F_2 의 좌표는 $F_2(-2, 0-2)$, 즉 $F_2(-2, -2)$ 이다.

$$\therefore \overline{F_1F_2}^2 = (-3)^2 + (-3)^2 = 18$$

4. 답 14

[해설]

포물선 $y^2 = a(x+3) = 4 \cdot \frac{a}{4}(x+3)$ 의 초점의 좌표는

$$\left(\frac{a}{4}-3, 0\right)$$

포물선 $x^2 = -8(y-b) = 4 \cdot (-2)(y-b)$ 의 초점의 좌표는

$$(0, -2+b)$$

두 초점의 좌표가 일치하므로

$$\frac{a}{4}-3=0, -2+b=0$$

$$\therefore a=12, b=2$$

$$\therefore a+b=14$$

5. 답 ②

[해설] 점 P 의 좌표를 (a, b) 라 하면 $b(a+2) = 39$ 이고 $b^2 = 8a$

$$\therefore b\left(\frac{b^2}{8}+2\right) = 39, b^3+16b-312=0$$

$$(b-6)(b^2+6b+52)=0$$

$$\therefore b=6, a=\frac{9}{2}$$

$$F(2, 0) \text{이므로 } \tan\theta = \frac{6}{\frac{9}{2}-2} = \frac{12}{5}$$

6. 답 ②

[해설]

포물선 $y^2 = 4 \cdot \frac{1}{x}$ 의 초점의 좌표는

$$\left(\frac{1}{2}, 0\right), \text{준선의 방정식은 } x = -\frac{1}{2} \text{이다.}$$

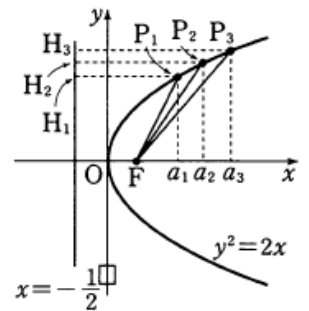
점 P_n 에서 준선에 내린 수선의 발을 H_n 이라 하면

$$\overline{FP_n} = \overline{H_nP_n} = \frac{1}{2} + a_n$$

$$= \frac{1}{2} + 1 + (n-1) \cdot \frac{1}{2} = \frac{n}{2} + 1$$

$$\therefore \sum_{n=1}^{20} \overline{FP_n} = \sum_{n=1}^{20} \left(\frac{n}{2} + 1\right)$$

$$= \frac{1}{2} \times \frac{20 \cdot 21}{2} + 20 = 125$$



7. 답 ①

[해설]

직선 $y = 3x + 2$ 를 x 축의 방향으로 k 만큼 평행이동시킨 직선의 방정식

$$\text{은 } y = 3(x-k) + 2, \text{ 즉 } x = \frac{y+3k-2}{3}$$

이 식을 포물선 $y^2 = 4x$ 에 대입하여 정리하면

$$3y^2 - 4y + 8 - 12k = 0 \dots \text{㉠}$$

직선이 포물선과 접하므로 ㉠의 판별식 $D = 0$ 이다.

$$\frac{D}{4} = 4 - 3(8 - 12k) = 0$$

$$\therefore k = \frac{5}{9}$$

다른 풀이

포물선 $y^2 = 4x$ 에 접하고 기울기 $m = 3$ 인 접선의 방정식은

$$y = mx + \frac{p}{m} \text{에서 } y = 3x + \frac{1}{3} \quad \dots\dots \textcircled{1}$$

$y = 3x + 2$ 를 x 축의 방향으로 k 만큼 평행이동시키면

$$y = 3(x - k) + 2 = 3x - 3k + 2 \quad \dots\dots \textcircled{2}$$

$\textcircled{1}, \textcircled{2}$ 에서

$$-3k + 2 = \frac{1}{3} \quad \therefore k = \frac{5}{9}$$

8. 답 ㉔

[해설]

직선 $y = -4x + 3$ 을 x 축의 방향으로 m 만큼 평행이동한 직선의 방정식은

$$y = -4(x - m) + 3$$

$$\therefore y = -4x + 4m + 3 \quad \dots\dots \textcircled{1}$$

포물선 $y^2 = 16x$ 에 접하고 기울기가 -4 인 접선의 방정식은

$$y = -4x + \frac{4}{-4}$$

$$\therefore y = -4x - 1 \quad \dots\dots \textcircled{2}$$

$\textcircled{1}, \textcircled{2}$ 이 일치해야 하므로

$$4m + 3 = -1$$

$$\therefore m = -1$$

9. 답 ㉔

[해설]

$$y^2 + 4y + 4x - 4 = 0 \text{을 변형하면}$$

$$(y^2 + 4y + 4) + 4(x - 2) = 0, (y + 2)^2 = -4(x - 2)$$

이때, 주어진 방정식이 나타내는 도형은 포물선 $y^2 = -4x$ 의 그래프를 x 축의 방향으로 2만큼, y 축의 방향으로 -2 만큼 평행이동한 포물선이다.

$y^2 = -4x = 4 \cdot (-1) \cdot x$ 에서 초점의 좌표는 $(-1, 0)$ 이므로 주어진 포물선의 초점의 좌표는

$$(-1, 0) \rightarrow (-1 + 2, 0 - 2) = (1, -2)$$

점 $(1, -2)$ 의 직선 $y = x$ 에 대하여 대칭인 점의 좌표는 $(-2, 1)$ 이므로 포물선 $x^2 + 2ax + by + a^2 = 0$ 의 초점의 좌표는 $(-2, 1)$ 이다.

$$x^2 + 2ax + by + a^2 = 0 \text{을 변형하면}$$

$$(x^2 + 2ax + a^2) + by = 0, (x + a)^2 = -by$$

이때, 주어진 방정식이 나타내는 도형은 포물선 $x^2 = -by$ 의 그래프를 x 축의 방향으로 $-a$ 만큼 평행이동한 포물선이다.

$$x^2 = -by = 4 \cdot \left(-\frac{b}{4}\right) y \text{에서 초점의 좌표는 } \left(0, -\frac{b}{4}\right) \text{이므로 주어진}$$

포물선의 초점의 좌표는

$$\left(0, -\frac{b}{4}\right) \rightarrow \left(-a, -\frac{b}{4}\right)$$

$$\text{즉, } -a = -2, -\frac{b}{4} = 1 \text{ 이므로}$$

$$a = 2, b = -4 \therefore a + b = -2$$

10. 답 ㉔

[해설]

$\therefore y^2 = \frac{1}{2}x = 4 \cdot \frac{1}{8} \cdot x$ 에서 초점의 좌표는 $\left(\frac{1}{8}, 0\right)$, 준선의 방정식은 $x = -\frac{1}{8}$ 이므로 초점과 준선 사이의 거리는 $2 \times \frac{1}{8} = \frac{1}{4}$ 이다. 그런데

포물선 $y^2 = 2x = 4 \cdot \frac{1}{2} \cdot x$ 에서 초점의 좌표는 $\left(\frac{1}{2}, 0\right)$, 준선의 방정식은 $x = -\frac{1}{2}$ 이므로 초점과 준선 사이의 거리는 $2 \times \frac{1}{2} = 1$ 이다.

따라서 두 그래프는 평행이동 또는 대칭이동하여 겹쳐질 수 없다.

ㄴ. 포물선 $y^2 = \frac{1}{2}x$ 를 직선 $y = x$ 에 대하여 대칭이동하면

$$x^2 = \frac{1}{2}y, \text{ 즉, } y = 2x^2 \text{이 된다.}$$

$$\text{ㄷ. } y^2 = \frac{1}{2}(x + y) \text{에서}$$

$$y^2 - \frac{1}{2}y = \frac{1}{2}x, y^2 - \frac{1}{2}y + \frac{1}{16} = \frac{1}{2}x + \frac{1}{16}$$

$$\therefore \left(y - \frac{1}{4}\right)^2 = \frac{1}{2}\left(x + \frac{1}{8}\right)$$

따라서 주어진 방정식이 나타내는 도형은 포물선 $y^2 = \frac{1}{2}x$ 를 x 축의 방향으로 $-\frac{1}{8}$ 만큼, y 축의 방향으로 $\frac{1}{4}$ 만큼 평행이동한 것이다.

그러므로 평행이동 또는 대칭이동하여 겹쳐질 수 있는 것은 ㄴ, ㄷ이다.

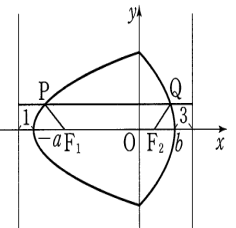
참고

평면에서 도형을 평행이동하거나 대칭이동하면 원래의 도형과는 합동이고 그 위치만 달라진다. 따라서 포물선 $y^2 = 4px$ 를 평행이동하거나 대칭이동한 도형은 $y^2 = 4px$ 의 도형과 합동이므로 초점과 준선사이의 거리는 변하지 않는다.

11. 답 12

[해설]

오른쪽 그림과 같이 꼭짓점의 좌표는 각각 $(-a, 0), (b, 0)$ 이고 꼭짓점에서 준선까지의 거리는 각각 1, 3이므로 준선의 방정식은 각각 $x = -a - 1, x = b + 3$ 이다. 초점과 준선의 성질을 이용하면 선분 PF_1 은 점 P 에서 준선 $x = -a - 1$ 까지의 거리가 되며 선분 QF_2 는 점 Q 에서 준선



$x = b + 3$ 까지의 거리가 되므로 $\overline{F_1P} + \overline{PQ} + \overline{QF_2}$ 는 두 준선 사이의 거리가 된다.

$$b + 3 - (-a - 1) = a + b + 4 = 12 \quad \dots\dots \textcircled{1}$$

또한 두 포물선의 교점은 y 축 위에 놓이므로

$$4a = 12b \quad \therefore a = 3b \quad \dots\dots \textcircled{2}$$

$$\textcircled{1}, \textcircled{2} \text{에서 } a = 6, b = 2$$

$$\therefore ab = 6 \times 2 = 12$$

12. 답 ㉔

[해설] 점 P 의 좌표를 (a, b) 라 하면 직선 l 의 방정식은 $y - b = 8(x - a)$

직선 l 과 포물선의 교점의 y 좌표를 α, β 라 하면 α, β 는

$$y^2 = 2(y - b) + 16a \text{의 두 근이므로}$$

$$\alpha + \beta = 2, \alpha\beta = 2b - 16a$$

그런데 점 P 의 y 좌표는 $\frac{\alpha+\beta}{2}=1$ 이고 이 값은 a, b 의 값과 관계가 없으므로 구하는 도형 D 의 방정식은 $y=1(x > \frac{1}{16})$ 이다.
따라서 주어진 점들 중 도형 D 위의 점인 것은 ③이다.

13. 답 60

[해설]

포물선 $y^2=4px(p>0)$ 가 점

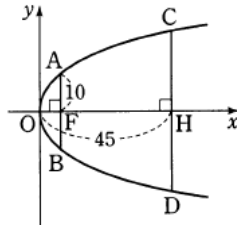
$A(p, 10)$ 을 지나므로

$$100=4p^2 \quad \therefore p=5$$

점 C 의 좌표를 $(45, c)(c>0)$ 라 하면

$$c^2=4 \cdot 5 \cdot 45 \quad \therefore c=30$$

$$\therefore \overline{CD}=2c=60$$

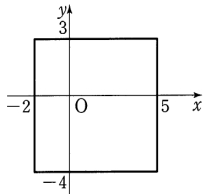


14. 답 7

[해설]

포물선 $(y+m)^2=8(x-n)$ 은 포물선 $y^2=4 \cdot 2x$ 의 그래프를 x 축의 방향으로 n 만큼, y 축의 방향으로 $-m$ 만큼 평행이동시킨 것이다.

포물선 $y^2=4 \cdot 2x$ 의 초점의 좌표는 $(2, 0)$ 이고 준선의 방정식은 $x=-2$ 이므로 포물선 $(y+m)^2=8(x-n)$ 의 초점의 좌표는 $(2+n, -m)$ 준선의 방정식은 $x=-2+n$ 이다.



초점이 위의 그림의 정사각형의 내부에 있으므로

$$-2 < 2+n < 5 \text{ 이고 } -4 < -m < 3$$

$$\therefore -4 < n < 3 \text{ 이고 } -3 < m < 4 \quad \dots\dots \textcircled{1}$$

준선이 정사각형과 만나지 않으므로

$$-2+n < -2 \text{ 또는 } -2+n < 5$$

$$\therefore n < 0 \text{ 또는 } n > 7 \quad \dots\dots \textcircled{2}$$

①, ②에서 $-4 < n < 0, -3 < m < 4$

따라서 정수 m, n 에 대하여 $m+n$ 의 최댓값은 $\alpha=3-1=2$,

최솟값은 $\beta=-2-3=-5$ 이므로

$$\alpha-\beta=2-(-5)=7$$

15. 답 ②

[해설]

초점이 $F(p, 0)$, 준선의 방정식이 $x=-p$ 이므로

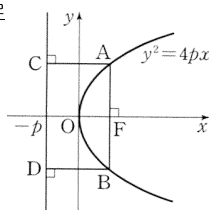
$$\overline{AF}=\overline{AC}=\overline{BF}=\overline{BD}=2p$$

이 때, 사각형 $ACDB$ 의 넓이는

$$2p \times 4p=8p^2=120$$

$$\therefore p=\sqrt{15}$$

따라서 초점의 x 좌표는 $\sqrt{15}$ 이다.



16. 답 ①

[해설]

$$y=\log_2(x+a)+b \text{의 점근선은 } x=-a,$$

$$\text{포물선 } y^2=x \text{의 준선은 } x=-\frac{1}{4} \text{이므로 } a=\frac{1}{4}$$

$y=\log_2(x+a)+b$ 의 그래프가 포물선 $y^2=x$ 의 초점 $(\frac{1}{4}, 0)$ 을 지나므로

$$0=\log_2\left(\frac{1}{4}+\frac{1}{4}\right)+b=\log_2\frac{1}{2}+b=-1+b$$

$$\therefore b=1$$

$$\therefore a+b=\frac{5}{4}$$

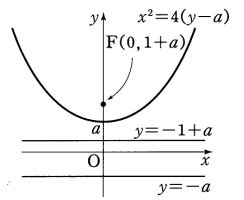
17. 답 ㉞

[해설]

포물선 $x^2=4(y-a)$ 의 초점의 좌표는

$F(0, 1+a)$ 이고 준선의 방정식은 $y=-1+a$ 이다.

\therefore 포물선 $x^2=4(y-a)$ 는 포물선 $x^2=4y$ 를 y 축의 방향으로 a 만큼 평행이동시킨 것이다.



따라서 $x^2=4(y-a)$ 의 꼭짓점의 좌표는 $(0, a)$ 이다. (참)

\therefore 위의 그림에서 초점과 준선 사이의 거리는 $1+a-(-1+a)=2$ 이다. (참)

\therefore 점 P 에서 초점까지의 거리가 a 이므로 점 P 에서 준선 $y=-1+a$ 까지의 거리는 a 이다. 또한, 준선 $y=-1+a$ 와 직선 $y=-a$ 사이의 거리는 $-1+a-(-a)=2a-1$ 이다.

따라서 점 P 에서 직선 $y=-a$ 까지의 거리는

$$a+2a-1=3a-1 \text{이다. (참)}$$

그러므로 보기 중 옳은 것은 $\therefore, \textcircled{2}, \textcircled{4}$ 이다.

18. 답 4

[해설]

초점이 $F(2p, 0)$ 이고 준선의 방정식이 $x=-p$ 인 포물선의 꼭짓점의 좌표는 $(\frac{p}{2}, 0)$ 이고 꼭짓점과 초점 사이의 거리는 $|\frac{3p}{2}|$ 이다.

따라서 초점이 $F(2p, 0)$ 이고 준선의 방정식이 $x=-p$ 인 포물선은 $y^2=4 \cdot \frac{3}{2}px$ 의 그래프를 x 축의 방향으로 $\frac{p}{2}$ 만큼 평행이동시킨 것이다.

포물선 $y^2=4 \cdot \frac{3}{2}px$ 에 접하고 기울기가 3인 접선의 방정식은

$$y=3x+\frac{3p}{3}=3x+\frac{p}{2} \quad \dots\dots \textcircled{1}$$

①을 x 축의 방향으로 $\frac{p}{2}$ 만큼 평행이동시키면

$$y=3\left(x-\frac{p}{2}\right)+\frac{p}{2}$$

이 식이 $y=3x-4$ 와 일치하므로

$$-p=-4 \quad \therefore p=4 (\because p \neq 0)$$

다른 풀이

초점이 $F(2p, 0)$ 이고 준선의 방정식이 $x=-p$ 인 포물선의 방정식은 $y^2=6p\left(x-\frac{p}{2}\right)$ 이다.

직선 $y = 3x - 4$ 를 이 포물선의 방정식에 대입하여 정리하면

$$9x^2 - 2(12 + 3p)x + (16 + 3p^2) = 0$$

이 이차방정식의 판별식을 D 라 하면

$$\frac{D}{4} = (12 + p)^2 - 9(16 + 3p^2) = 0$$

$$-18p^2 + 72p = 0$$

$$-18p(p - 4) = 0 \quad \therefore p = 4$$

19. 답 29

[해설]

포물선 $y^2 = -4x$ 위의 점 $A(-4, 4)$ 에서의 접선의 방정식은

$$4y = -2(x - 4)$$

$$\therefore x + 2y - 4 = 0 \quad \text{ⓐ}$$

준선의 방정식은 $x = 1$ 이므로 접선과 준선의 교

점 B 의 좌표는 $(1, \frac{3}{2})$ 이다.

$$\therefore \overline{AB} = \sqrt{5^2 + (\frac{5}{2})^2} = \frac{5\sqrt{5}}{2}$$

초점 $F(-1, 0)$ 과 점 A 사이의 거리는

$$\frac{|-1 + 0 - 4|}{\sqrt{1^2 + 2^2}} = \sqrt{5}$$

따라서 삼각형 ABF 의 넓이는

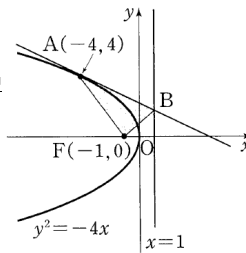
$$\frac{1}{2} \times \frac{5\sqrt{5}}{2} \times \sqrt{5} = \frac{25}{4}$$

$$\therefore p + q = 4 + 25 = 29$$

참고 (점과 직선 사이의 거리)

좌표평면 위의 한 점 (x_1, y_1) 과 직선 $ax + by + c = 0$ 사이의 거리 d 는

$$d = \frac{|ax_1 + by_1 + c|}{\sqrt{a^2 + b^2}}$$



20. 답 ㉔

[해설] $y = \frac{4}{x+3}$ 의 점근선은 x 축과 직선 $x = -3$ 이다. 그런데 포물선

$y^2 = ax$ 의 준선과 점근선이 서로 같으므로 포물선의 준선의 방정식은 $x = -3$ 이다.

즉, $y^2 = ax$ 에서 $a = 4 \times 3 = 12$

$y = 1$ 이면 $1 \leq x \leq 8$ 에서 격자점의 개수는 8

$y = 2$ 이면 $\frac{4}{12} \leq x \leq 8$ 에서 격자점의 개수는 8

$y = 3$ 이면 $\frac{9}{12} \leq x \leq 8$ 에서 격자점의 개수는 8

$y = 4$ 이면 $\frac{16}{12} \leq x \leq 8$ 에서 격자점의 개수는 7

$y = 5$ 이면 $\frac{25}{12} \leq x \leq 8$ 에서 격자점의 개수는 6

$y = 6$ 이면 $3 \leq x \leq 8$ 에서 격자점의 개수는 6

$y = 7$ 이면 $\frac{49}{12} \leq x \leq 8$ 에서 격자점의 개수는 4

$y = 8$ 이면 $\frac{64}{12} \leq x \leq 8$ 에서 격자점의 개수는 3

$y = 9$ 이면 $\frac{81}{12} \leq x \leq 8$ 에서 격자점의 개수는 2

따라서 구하는 격자점의 개수는

$$8 + 8 + 8 + 7 + 6 + 6 + 4 + 3 + 2 = 52$$

21. 답 12

[해설]

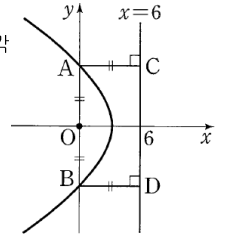
두 점 A, B 에서 준선 $x = 6$ 에 내린 수선의 발을 각각

C, D 라 하면 포물선의 정의에 의하여

$$\overline{AO} = \overline{AC} = 6, \quad \overline{BO} = \overline{BD} = 6$$

$$\therefore \overline{AB} = \overline{AO} + \overline{BO}$$

$$= 6 + 6 = 12$$



22. 답 ㉑

[해설]

포물선 $y^2 = x$ 의 초점은 $F(\frac{1}{4}, 0)$ 이고,

준선의 방정식은 $x = -\frac{1}{4}$ 이다.

점 P 에서 준선에 내린 수선의 발을 H 라 하면 포물선의 정의에 의하여

$$\overline{PF} = \overline{PH} = 4$$

점 Q 에서 준선에 내린 수선의 발을 R , 준선과 x 축의 교점을 S 라 하면 사각형 $FQRS$ 는 사다리꼴이다.

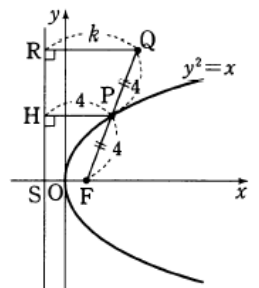
이 때, $\overline{QR} = k$ 라 하면 두 점 P, H 는 각각

두 선분 FQ, SR 의 중점이고, $\overline{FS} = \frac{1}{2}$ 이므로

$$\frac{k + \frac{1}{2}}{2} = 4 \quad \therefore k = \frac{15}{2}$$

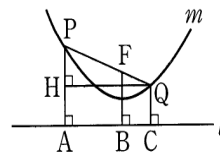
따라서 점 Q 의 x 좌표는

$$\frac{15}{2} - \frac{1}{4} = \frac{29}{4}$$



23. 답 ㉓

[해설]



ㄱ. 포물선의 정의에 의하여 $\overline{PA} = \overline{PF}$, $\overline{QC} = \overline{QF}$ 이고

$$\overline{PF} : \overline{QF} = 2 : 1 \text{이므로}$$

$$\overline{PA} : \overline{QC} = 2 : 1 \text{ (참)}$$

ㄴ. 점 Q 에서 선분 PA 에 내린 수선의 발을 H 라 하자.

$$\overline{PA} = \overline{PF} = 2k, \quad \overline{QC} = \overline{QF} = k \text{ (} k \text{는 상수)라 하면}$$

$$\overline{PH} = \overline{PA} - \overline{QC} = k$$

직선 PQ 와 직선 l 이 이루는 예각의 크기를 θ 라 하면

$\angle PQH = \theta$ 이므로

$$\sin \theta = \frac{\overline{PH}}{\overline{PQ}} = \frac{k}{2k + k} = \frac{1}{3}$$

그러므로 포물선 m 의 모양에 관계없이 직선 PQ 와 직선 l 이 이루는 각은 일정하다. (참)

∴ $\overline{PF} : \overline{QF} = 2 : 1$ 이고 $\overline{PA} = 2k$, $\overline{QC} = k$ 이므로

$$\overline{FB} = \frac{2 \cdot k + 1 \cdot 2k}{2 + 1} = \frac{4k}{3} = 4$$

∴ $k = 3$

△ PHQ 에서 $\overline{HQ} = \sqrt{\overline{PQ}^2 - \overline{PH}^2} = \sqrt{9^2 - 3^2} = 6\sqrt{2}$

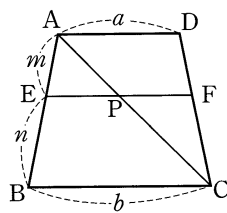
$$\begin{aligned} \therefore \square PACQ &= \frac{1}{2} \cdot (\overline{PA} + \overline{QC}) \cdot \overline{HQ} \\ &= \frac{1}{2} \cdot (6 + 3) \cdot 6\sqrt{2} \\ &= 27\sqrt{2} \quad (\text{참}) \end{aligned}$$

따라서 보기 중 옳은 것은 ㄱ, ㄴ, ㄷ이다.

참고

오른쪽 그림의 사다리꼴 $ABCD$ 에서

$$\begin{aligned} \overline{EF} &= \overline{EP} + \overline{FP} \\ &= \frac{m}{m+n}b + \frac{n}{m+n}a \\ &= \frac{mb + na}{m+n} \end{aligned}$$



24. 답 ㉔

[해설]

$A(x_1, y_1)$, $B(x_2, y_2)$, $C(x_3, y_3)$ 이라 하고, 세 점 A, B, C 에서 준선 $x = -p$ 에 내린 수선의 발을 각각 H_1, H_2, H_3 이라 하면 포물선의 정의에서 $\overline{AF} = \overline{AH_1}$, $\overline{BF} = \overline{BH_2}$, $\overline{CF} = \overline{CH_3}$ 이다.

ㄱ. 포물선은 x 축에 대하여 대칭이므로 \overline{AF} , \overline{BF} , \overline{CF} 의 값 중 2개는 같을 수 있지만 세 개는 같을 수 없다. (거짓)

ㄴ. △ ABC 의 무게중심이 F 이므로

$$\frac{x_1 + x_2 + x_3}{3} = p \quad \therefore x_1 + x_2 + x_3 = 3p$$

$$\therefore \overline{AF} + \overline{BF} + \overline{CF} = \overline{AH_1} + \overline{BH_2} + \overline{CH_3}$$

$$= (x_1 + p) + (x_2 + p) + (x_3 + p)$$

$$= (x_1 + x_2 + x_3) + 3p = 6p \quad (\text{참})$$

ㄷ. $\overline{AO} = \overline{OB}$ 가 성립하려면 $x_1 = x_2$, $y_1 = -y_2$ ($y_1 > 0$)

이 때, $\overline{AB} = 2y_1$ 이므로 $\overline{AO} = \overline{AB}$ 에서

$$x_1^2 + y_1^2 = 4y_1^2 \quad \dots \textcircled{1}$$

$$\text{또한, } y_1^2 = 4px_1 \quad \dots \textcircled{2}$$

①, ②에서 $x_1 = 12p$

그러므로 $\overline{AO} = \overline{OB} = \overline{AB}$ 인 서로 다른 두 점 A, B 가 존재한다. (참)

따라서 보기 중 옳은 것은 ㄴ, ㄷ이다.

25. 답 ㉔

[해설]

포물선 $x^2 = 4py$ 에서 초점 F 의 좌표는 $(0, p)$ 이고 준선의 방정식은 $y = -p$ 이다.

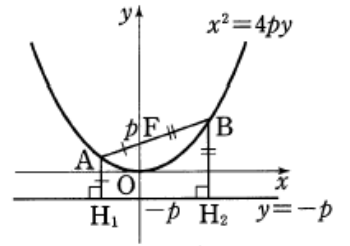
포물선 위의 두 점 A, B 에서 포물선의 준선에 내린 수선의 발을 각각 H_1, H_2 라 하면 포물선의 정의에 의하여

$$\overline{AF} = \overline{AH_1}, \quad \overline{BF} = \overline{BH_2}$$

세 점 A, B, F 가 한 직선 위에 있으려면 $\overline{AF} + \overline{BF} = \overline{AB}$ 이다.

따라서 $\overline{AB} = k$ 이므로 $(y_1 + p) + (y_2 + p) = k$

$$\therefore y_1 + y_2 = k - 2p$$



26. 답 ㉔

[해설]

직선 $y = m(x - 1)$ 은 포물선

$y^2 = 4x$ 의 초점 $F(1, 0)$ 을 지난다.

$y = m(x - 1)$ 을 포물선의 방정식

$y^2 = 4x$ 에 대입하면

$$\{m(x - 1)\}^2 = 4x$$

위 식을 정리하면

$$m^2x^2 - (2m^2 + 4)x + m^2 = 0$$

점 P 에서 준선 $x = -1$ 에 내린

수선의 발을 H_1 , 점 Q 에서 준선에

내린 수선의 발을 H_2 라 하고 직선과 포물선의 교점의 x 좌표를 각각

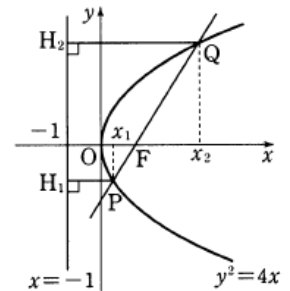
x_1, x_2 ($x_1 < x_2$)라 하면

$$\overline{PQ} = \overline{PH_1} + \overline{QH_2}$$

$$= (x_1 + 1) + (x_2 + 1) = (x_1 + x_2) + 2$$

$$= \frac{2m^2 + 4}{m^2} + 2 = 10$$

$$6m^2 = 4 \quad \therefore m = \frac{\sqrt{6}}{3} \quad (\because m > 0)$$



27. 답 ㉔

[해설]

$y^2 = 8x = 4 \cdot 2 \cdot x$ 에서 초점은 $F(2, 0)$, 준선의 방정식은 $x = -2$ 이다.

두 점 A, B 에서 준선 $x = -2$ 에 내린 수선의 발을 각각 A', B' 이라 하면 포물선의 정의에 의하여

$$\overline{AA'} = \overline{AC} + 1 = \overline{AF}, \quad \overline{BB'} = \overline{BD} + 1 = \overline{BF}$$

$$\therefore \overline{AB} = \overline{AF} + \overline{BF} = (\overline{AC} + 1) + (\overline{BD} + 1)$$

$$= \overline{AC} + \overline{BD} + 2$$

$$= 8 + 2 = 10$$

28. 답 ㉔

[해설]

점 A 에서 준선에 내린 수선의 발을 H' , 이 수선과 포물선의 교점을 P' 이라 하자.

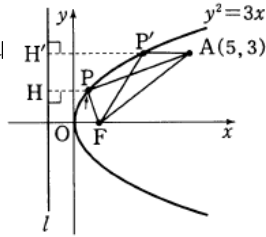
또한 점 P 에서 준선에 내린 수선의 발을 H 라 하면

$$\overline{AP} + \overline{PF} = \overline{AP} + \overline{PH}$$

$$\geq \overline{AP'} + \overline{P'H}$$

$$= \overline{AP'} + \overline{P'F}$$

이므로 $\overline{AP} + \overline{PF}$ 가 최소일 때의 점 P의 y좌표는 3이다.
 점 P의 좌표를 (a, 3)으로 놓으면
 $3^2 = 3a$ 에서 $a = 3$

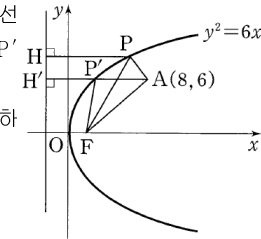


$$\therefore \triangle APF = \frac{1}{2} \cdot \overline{AP} \cdot 3 = \frac{1}{2} \cdot 2 \cdot 3 = 3$$

29. 답 ㉔

[해설]

점 A에서 포물선 $y^2 = 6x$ 의 준선에 내린 수선의 발을 H', 이 수선과 포물선의 교점을 P'이라 하자.



또, 점 P에서 준선에 내린 수선의 발을 H라 하면

$$\begin{aligned} \overline{AP} + \overline{PF} &= \overline{AP} + \overline{PH} \\ &\geq \overline{AP'} + \overline{P'H'} \\ &= \overline{AP'} + \overline{P'F} \end{aligned}$$

이므로 $\overline{AP} + \overline{PF}$ 가 최소일 때의 점 P의 y좌표는 6이다.

점 P의 좌표를 (a, 6)으로 놓으면

$$\begin{aligned} 6^2 &= 6a \\ \therefore a &= 6 \end{aligned}$$

이 때, $\triangle APF$ 에서 선분 AF의 길이가 일정하므로 $\overline{AP} + \overline{PF}$ 가 최소일 때, $\triangle APF$ 의 둘레의 길이도 최소이다.

30. 답 288

[해설]

$y^2 = 12x = 4 \cdot 3x$ 에서 이 포물선의 초점의 좌표는 F(3, 0), 준선의 방정식은 $x = -3$ 이다.

포물선의 정의에 의하여 선분 AF의 길이는 점 A에서 준선에 내린 수선의 길이와 같으므로

$$\overline{AF} = x_1 + 3,$$

같은 방법으로

$$\overline{BF} = x_2 + 3, \quad \overline{CF} = x_3 + 3, \quad \overline{DF} = x_4 + 3$$

$$\overline{AF} + \overline{BF} + \overline{CF} + \overline{DF} = 36 \text{이므로}$$

$$x_1 + x_2 + x_3 + x_4 + 12 = 36$$

$$\therefore x_1 + x_2 + x_3 + x_4 = 24$$

네 점 A, B, C, D는 포물선 $y^2 = 12x$ 위의 점이므로

$$\begin{aligned} y_1^2 + y_2^2 + y_3^2 + y_4^2 &= 12x_1 + 12x_2 + 12x_3 + 12x_4 \\ &= 12(x_1 + x_2 + x_3 + x_4) \\ &= 12 \times 24 \\ &= 288 \end{aligned}$$

31. 답 ㉔

$$(y+1)^2 = 2(x-2)$$

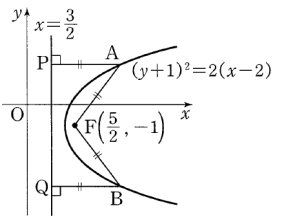
주어진 포물선은 포물선 $y^2 = 2x$ 를 x축의 방향으로 2만큼, y축의 방향으로 -1만큼 평행이동한 것이다.

포물선 $y^2 = 2x$ 의 초점의 좌표는 $(\frac{1}{2}, 0)$, y 축 $x = \frac{3}{2}$

준선의 방정식은 $x = -\frac{1}{2}$ 이므로 주어진 포

물선의 초점의 좌표는 $(\frac{5}{2}, -1)$, 준선의

방정식은 $x = \frac{3}{2}$ 이다.



A, B에서 준선에 내린 수선의 발을 각각 P, Q라 하면

$$\overline{AP} = \overline{AF} = 4, \quad \overline{BQ} = \overline{BF} = 4$$

이 때, 두 점 A, B에서 y축에 이르는 거리는 각각 $4 + \frac{3}{2}$ 이므로 구하는 거리의 합은

$$2\left(4 + \frac{3}{2}\right) = 11$$

32. 답 ㉑

[해설]

포물선 $y^2 = 4x$ 와 직선 $y = mx + 1$ 사이의 최단 거리는

포물선 $y^2 = 4x$ 의 접선 중 기울기가 m인 직선과 직선 $y = mx + 1$ 사이의 거리와 같다.

포물선 $y^2 = 4x$ 에서 기울기가 m인 접선의 방정식은

$y = mx + \frac{1}{m}$ 이므로 직선 $mx - y + \frac{1}{m} = 0$ 과 직선 $y = mx + 1$ 위의

점 (0, 1)과의 거리는

$$\frac{\left| -1 + \frac{1}{m} \right|}{\sqrt{m^2 + 1}} = 1 \quad \dots\dots \textcircled{1}$$

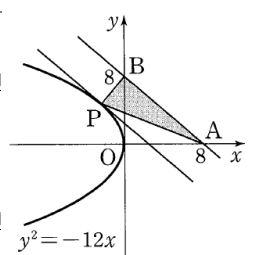
㉑의 양변을 제곱하여 정리하면

$$\begin{aligned} \left(-1 + \frac{1}{m}\right)^2 &= m^2 + 1, \quad m^4 = -2m + 1 \\ \therefore m^4 + 2m &= 1 \end{aligned}$$

33. 답 ㉔

[해설]

$\triangle ABP$ 에서 밑변의 길이 $\overline{AB} = 8\sqrt{2}$ 에 대하여 높이가 최소일 때, $\triangle ABP$ 의 넓이는 최소이다. 즉, 오른쪽 그림과 같이 점 P가 직선 AB에 평행한 접선의 접점이 될 때, $\triangle ABP$ 의 넓이가 최소이다.



두 점 A(8, 0), B(0, 8)을 지나는 직선의 기울기는 -1이므로 포물선

$y^2 = -12x = 4 \cdot (-3) \cdot x$ 에 접하고 기울기가 -1인 접선의 방정식은

$$\begin{aligned} y &= -x + \frac{-3}{-1} \\ \therefore y &= -x + 3 \quad \dots\dots \textcircled{1} \end{aligned}$$

직선 ㉑ 위의 한 점 (3, 0)과 직선 AB, 즉 $x + y - 8 = 0$ 사이의 거리는

$$\frac{|3 + 0 - 8|}{\sqrt{1^2 + 1^2}} = \frac{5\sqrt{2}}{2}$$

따라서 $\triangle ABP$ 의 넓이의 최솟값은

$$\frac{1}{2} \cdot 8\sqrt{2} \cdot \frac{5\sqrt{2}}{2} = 20$$

34. 답 40

[해설]

$\triangle ABP$ 에서 밑변의 길이 $\overline{AB} = 10\sqrt{2}$ 에 대하여 높이가 최소일 때, $\triangle ABP$ 의 넓이는 최소이다.

즉, 그림과 같이 점 P 가 직선 AB 에 평행한 접선과 접점이 될 때, $\triangle ABP$ 의 넓이가 최소이다.

두 점 $A(10, 0)$, $B(0, 10)$ 을 지나는 직선의 기울기는 -1 이므로 포물선 $y^2 = 4 \cdot (-2)x$ 에 접하고 기울기가 -1 인 접선의 방정식은

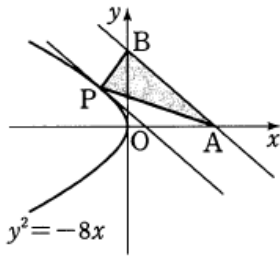
$$y = -x + \frac{-2}{-1} \quad \therefore y = -x + 2 \quad \dots \textcircled{7}$$

직선 $\textcircled{7}$ 위의 한 점 $(2, 0)$ 에서 직선 AB , 즉 $x + y - 10 = 0$ 에 이르는 거리는

$$\frac{|2 + 0 - 10|}{\sqrt{1^2 + 1^2}} = \frac{8}{\sqrt{2}} = 4\sqrt{2}$$

따라서 구하는 $\triangle ABP$ 의 넓이의 최솟값을 S 라 하면

$$S = \frac{1}{2} \times 10\sqrt{2} \times 4\sqrt{2} = 40$$



35. 답 ⑥

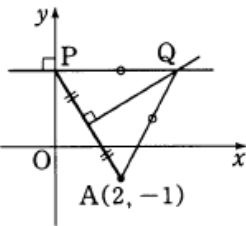
[해설]

오른쪽 그림에서 점 Q 는 선분 AP 의 수직 이등분선 위의 점이므로 삼각형 APQ 는 이등변삼각형이다.

$$\therefore \overline{AQ} = \overline{PQ}$$

그런데 점 P 는 y 축 위의 점이므로 점 Q 는 점 $A(2, -1)$ 을 초점으로 하고 직선 $x = 0$ (y 축)을 준선으로 하는 포물선 위의 점이다. 이 포물선은 초점의 좌표가 $(1, 0)$ 이고, 준선의 방정식이 $x = -1$ 인 포물선 $y^2 = 4x$ 를 x 축의 방향으로 1만큼, y 축의 방향으로 -1 만큼 평행이동한 것이므로 구하는 점 Q 가 나타내는 도형의 방정식은

$$(y + 1)^2 = 4(x - 1)$$



36. 답 20

[해설]

원 $(x - 3)^2 + y^2 = 1$ 에 외접하고 y 축에 접하는 원의 중심을 $P(x, y)$ 라 하자. 오른쪽 그림과 같이 원 $(x - 3)^2 + y^2 = 1$ 의 중심을 C , 점 P 에서 y 축에 내린 수선의 발을 H 라 하면

$$\overline{CP} = \overline{PH} + 1$$

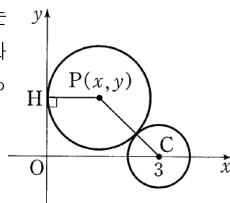
$$\therefore \sqrt{(x - 3)^2 + y^2} = x + 1$$

양변을 제곱하면

$$x^2 - 6x + 9 + y^2 = x^2 + 2x + 1$$

$$y^2 = 8x - 8 = 4 \cdot 2 \cdot (x - 1)$$

이 때, 포물선 $y^2 = 8x$ 의 초점의 좌표가 $(2, 0)$, 준선의 방정식이 $x = -2$ 이므로 포물선 $y^2 = 4 \cdot 2 \cdot (x - 1)$ 의 초점의 좌표는 $(3, 0)$, 준선의 방정식은 $x = -1$ 이다.



$$\therefore 10(a + b + c) = 10(3 + 0 - 1) = 20$$

참고

반지름의 길이가 각각 r_1, r_2 인 두 원이 외접하면 두 원의 중심 사이의 거리 d 는 두 원의 반지름의 길이의 합과 같다. 즉,

$$d = r_1 + r_2$$

37. 답 ①

[해설] 점 P 의 좌표를 (x, y) 라 하면 직선 $x = -1$ 에 접하고 있으므로 반지름의 길이는 $x + 1$ 이다.

또, 원 $(x - 2)^2 + y^2 = 1$ 에 외접하고 있으므로 반지름의 길이는

$$\sqrt{(x - 2)^2 + y^2} - 1$$

따라서 $\sqrt{(x - 2)^2 + y^2} - 1 = x + 1$ 에서

$$(x - 2)^2 + y^2 = (x + 2)^2 \quad \therefore y^2 = 8x$$

즉, 점 P 가 그리는 도형의 방정식은 $y^2 = 8x$ 이므로 준선의 방정식은 $x = -2$ 이다.

38. 답 ①

[해설] 점 P 의 좌표를 (a, b) 라 하면 $b^2 = 8a$ 이고 이 점에서 점선의 방정식은 $by = 4(x + a) \dots \textcircled{7}$, 초점 F 는 $(2, 0)$ 이다.

직선 FP 에 수직인 직선의 기울기는 $-\frac{a-2}{b}$ 이므로 점 F 를 지나고

직선 FP 에 수직인 직선의 방정식은

$$y = -\frac{a-2}{b}(x-2) \dots \textcircled{8}$$

직선 $\textcircled{7}$ 과 점선 $\textcircled{8}$ 의 교점 Q 의 x 좌표는

$$b \times \left(-\frac{a-2}{b}\right)(x-2) = 4(x+a) \text{에서}$$

$$(a+2)x = -2(a+2)$$

$$\therefore x = -2$$

이 식은 y 의 값에 관계없이 항상 성립하므로 점 Q 가 그리는 도형은 직선 $x = -2$ 이다.

39. 답 ①

[해설]

$y = -x + k$ 를 $y^2 = 2x$ 에 대입하면

$$(-x + k)^2 = 2x \text{에서}$$

$$x^2 - (k+1)x + k^2 = 0 \dots \textcircled{9}$$

포물선과 직선이 만나지 않으려면 이차방정식 $\textcircled{9}$ 이 허근을 가져야 하므로

$\textcircled{9}$ 의 판별식 $D < 0$ 이어야 한다.

$$\frac{D}{4} = (k+1)^2 - k^2 = 2k+1 < 0$$

$$\therefore k < -\frac{1}{2}$$

따라서 정수 k 의 최댓값은 -1 이다.

40. 답 ③

[해설]

$\left(y - \frac{3}{2}\right)^2 = 8(x+2)$ 는 $y^2 = 8x$ 의 그래프를 x 축과 y 축의 방향으로

각각 $-2, \frac{3}{2}$ 만큼 평행이동한 것이다.

$y^2 = 8x$ 의 초점의 좌표가 $(2, 0)$ 이므로 $(y - \frac{3}{2})^2 = 8(x + 2)$ 의 초점의 좌표는 $(0, \frac{3}{2})$ 이다.

조건에서 구하는 포물선은 준선이 $y = -\frac{3}{2}$ 이므로 포물선 P 의 방정식은

$$x^2 = 4 \cdot \frac{3}{2}y, \text{ 즉 } x^2 = 6y \text{이다.}$$

$y = -x + k$ 를 $x^2 = 6y$ 에 대입하여 정리하면

$$x^2 + 6x - 6k = 0 \quad \dots \textcircled{7}$$

$\textcircled{7}$ 의 판별식을 D 라 하면

$$\frac{D}{4} = 3^2 + 6k = 0 \quad \therefore k = -\frac{3}{2}$$

41. 답 ㉓

[해설]

$y = -2x + 5$ 를 x 축의 방향으로 m 만큼 평행이동한 직선의 방정식은

$$y = -2(x - m) + 5$$

$$\text{즉, } y = -2x + 2m + 5 \quad \dots \textcircled{7}$$

포물선 $y^2 = 8x$ 에 접하고 기울기가 -2 인 접선의 방정식은

$$y = -2x + \frac{2}{-2} \text{ 즉, } y = -2x - 1 \quad \dots \textcircled{8}$$

$\textcircled{7}, \textcircled{8}$ 이 일치하므로 $2m + 5 = -1$

$$\therefore m = -3$$

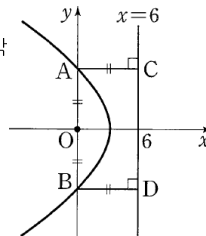
42. 답 12

[해설]

두 점 A, B 에서 준선 $x = 6$ 에 내린 수선의 발을 각각 C, D 라 하면 포물선의 정의에 의하여

$$\overline{AO} = \overline{AC} = 6, \quad \overline{BO} = \overline{BD} = 6$$

$$\therefore \overline{AB} = \overline{AO} + \overline{BO} = 6 + 6 = 12$$



43. 답 ㉓

[해설]

교점 A, B 에서 준선에 내린 수선의 발을 각각 H_1, H_2 라 하면

$$\overline{AH_1} : \overline{BH_2} = \overline{AF} : \overline{BF} = 2 : 3$$

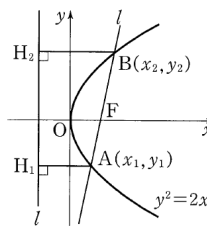
$$\overline{AH_1} = 2k, \quad \overline{BH_2} = 3k \text{라 하면}$$

$$x_2 - x_1 = \overline{BH_2} - \overline{AH_1} = 3k - 2k = k$$

$\overline{AB} = 5k$ 이므로 직선 l 의 기울기는

$$\frac{\sqrt{(5k)^2 - k^2}}{k} = \sqrt{24} = 2\sqrt{6}$$

그림 짚람



44. 답 ㉓

[해설]

$n(A \cap B) = 2$ 가 되려면 직선 $y = 2x - k$ 와 포물선 $y^2 = 2x$ 가 서로 다른 두 점에서 만나야 한다.

$y = 2x - k$ 를 $y^2 = 2x$ 에 대입하여 정리하면

$$(2x - k)^2 = 2x \text{에서}$$

$$4x^2 - 2(2k + 1)x + k^2 = 0 \quad \dots \textcircled{7}$$

$\textcircled{7}$ 의 판별식을 D 라고 하면

$$\frac{D}{4} = (2k + 1)^2 - 4k^2 > 0$$

$$4k + 1 > 0 \quad \therefore k > -\frac{1}{4}$$

45. 답 ㉓

[해설]

포물선 $y^2 = 12x$ 의 초점의 좌표는 $(3, 0)$ 이고,

준선의 방정식은 $x = -3$ 이다. 또, 직선

$y = m(x - 3)$ 은 m 의 값에 관계없이 초점

$(3, 0)$ 을 지나는 직선이다. 두 점 P, Q 의 x 좌

표를 각각 x_1, x_2 라 하고 두 점 P, Q 에서 준

선에 내린 수선의 발을 각각 P', Q' 이라 하면

$$\overline{PF} = \overline{PP'} = x_1 + 3$$

$$\overline{QF} = \overline{QQ'} = x_2 + 3$$

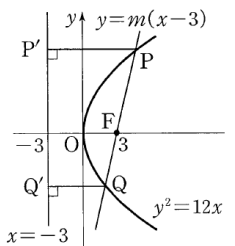
한편, $\overline{PQ} = \overline{PF} + \overline{QF} = 11$ 이므로

$$(x_1 + 3) + (x_2 + 3) = 11$$

$$\therefore x_1 + x_2 = 5$$

따라서 선분 PQ 의 중점의 x 좌표는

$$\frac{x_1 + x_2}{2} = \frac{5}{2}$$



46. 답 15

[해설]

직선 $y = x + p$ 에서 $x = y - p$

이를 포물선의 방정식 $x^2 = 4py$ 에 대입하면

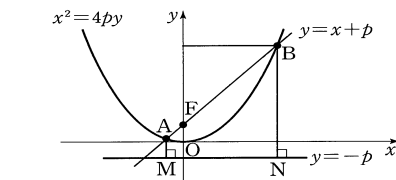
$$y^2 - 2py + p^2 - 4py = 0, \quad y^2 - 6py + p^2 = 0$$

두 교점의 y 좌표를 각각 α, β 라 하면

$$\alpha + \beta = 6p$$

또한 점 A 에서 준선 $y = -p$ 에 내린 수선의 발을 M , 점 B 에서 준선에

내린 수선의 발을 N 이라 하자.



$$\overline{AB} = \overline{AF} + \overline{BF} = \overline{AM} + \overline{BN}$$

$$= (\alpha + p) + (\beta + p) = \alpha + \beta + 2p$$

$$= 6p + 2p = 8p$$

따라서 $30 < 8p < 50$ 을 만족하는 양의 정수 p 의 값은 4, 5, 6이므로

그 합은 15이다.

47. 답 ㉓

[해설]

직선 l 의 방정식을 $y = -x + k$ 라 하고 두 점 A, B 의 좌표를 각각 $(\alpha^2, \alpha), (\beta^2, \beta)$ 라 하자.

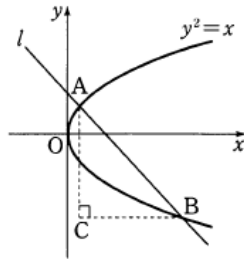
직선의 방정식 $x = -y + k$ 를 포물선의 방정식 $y^2 = x$ 에 대입하면 $y^2 + y - k = 0 \dots \textcircled{1}$

따라서 방정식 $\textcircled{1}$ 의 두 근이 α, β 이므로

$$(\alpha - \beta)^2 = (\alpha + \beta)^2 - 4\alpha\beta = 1 + 4k$$

$$\therefore |\alpha - \beta| = \sqrt{1 + 4k} \dots \textcircled{2}$$

오른쪽 그림과 같이 두 점 A, B 에서 각각 x 축, y 축에 수직인 직선을 그려 그 교점을 C 라 하면 삼각형 ACB 는 직각이등변삼각형이다.



즉, $\overline{AB} = 5\sqrt{2}$ 이므로 $\overline{AC} = 5 \dots \textcircled{3}$

$\textcircled{2}, \textcircled{3}$ 에서

$$\sqrt{1 + 4k} = 5, 1 + 4k = 25$$

$$\therefore k = 6$$

다른 풀이

직선 l 의 방정식은 $y = -x + k$ 라 하고

두 점 A, B 의 좌표를 각각 $(\alpha^2, \alpha), (\beta^2, \beta)$ 라 하자.

직선의 방정식 $x = -y + k$ 를 포물선의 방정식 $y^2 = x$ 에 대입하면 $y^2 + y - k = 0 \dots \textcircled{1}$

따라서 방정식 $\textcircled{1}$ 의 두 근이 α, β 이므로

$$\alpha + \beta = -1, \alpha\beta = -k$$

$$\begin{aligned} \therefore \overline{AB}^2 &= (\alpha^2 - \beta^2)^2 + (\alpha - \beta)^2 \\ &= (\alpha^2 + \beta^2)^2 - 4\alpha^2\beta^2 + (\alpha + \beta)^2 - 4\alpha\beta \\ &= \{(\alpha + \beta)^2 - 2\alpha\beta\}^2 - 4\alpha^2\beta^2 + (\alpha + \beta)^2 - 4\alpha\beta \\ &= (1 + 2k)^2 - 4k^2 + 1 + 4k = 8k + 2 = 50 \end{aligned}$$

$$\therefore k = 6$$

48. 답 ㉑

[해설] $y = x - 1$ 에서 $x = y + 1$ 이므로 $y^2 + 6y - k = 4x$ 에 대입하면

$$y^2 + 6y - k = 4y + 4$$

$$\therefore y^2 + 2y - k - 4 = 0$$

위 이차방정식의 두 근을 α, β 라 하면 교점은 $(\alpha + 1, \alpha), (\beta + 1, \beta)$ 이고 이차방정식의 근과 계수의 관계에 의하여

$$\alpha + \beta = -2, \alpha\beta = -k - 4$$

$$\overline{PQ} = 6 \text{이므로 } 2(\beta - \alpha)^2 = 36, \text{ 즉 } (\beta - \alpha)^2 = 18$$

$$(\alpha + \beta)^2 - 4\alpha\beta = 4 - 4(-k - 4) = 18$$

$$\therefore k = -\frac{1}{2}$$

$$\therefore m + n = 1 + 2 = 3$$

49. 답 ㉕

[해설] 직선 PQ 가 초점 $(2, 0)$ 을 지나므로 $y = \frac{d-b}{c-a}(x-2)$ 이다.

이 직선은 점 (a, b) 를 지나므로 $bc - ba = ad - ab - 2d + 2b$ 에서 $ad - bc = 2(d - b)$

l 과 l' 의 방정식을 구하면 각각 $by = 4(c + a), dy = 4(x + c)$ 이다.

$\therefore 4d(x + a) = 4b(x + c)$ 이므로

$$4(d - b)x = 4(bc - ad) = -8(d - b)$$

그러므로 교점의 x 좌표는 -2 이다. (참)

$\therefore ad - bc = 2(d - b)$ 이고 $b^2 = 8a, d^2 = 8c$ 이므로 a, c 를 소거하면

$$\frac{b^2 d}{8} - \frac{bd^2}{8} = 2(d - b)$$

$$\therefore bd = -16 \text{ (참)}$$

\therefore 두 직선 l, l' 의 기울기가 각각 $\frac{4}{b}$ 와 $\frac{4}{d}$ 이고

$$\frac{4}{b} \times \frac{4}{d} = \frac{16}{bd} = \frac{16}{-16} = -1$$

이므로 두 직선 l, l' 은 수직으로 만난다.

$$\therefore \cos\theta = 0 \text{ (참)}$$

따라서 보기에서 옳은 것은 \neg, \cup, \cap 이다.

50. 답 3

[해설]

오른쪽 그림의 원 C 의 넓이가 $\frac{81}{16}\pi$ 이므로

$$\overline{PF} = \frac{9}{4}$$

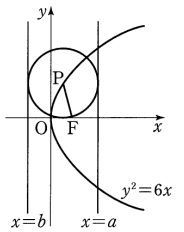
원 C 가 $x = b$ ($b < 0$)와 접한다고 하면 $x = b$ 는 포물선의 준선의 방정식이 된다.

한편, 포물선 $y^2 = 6x = 4 \cdot \frac{3}{2}x$ 의 준선은

$$x = -\frac{3}{2} \text{이므로 } b = -\frac{3}{2}$$

$$a - b = 2 \cdot \frac{9}{4} \text{이므로 } a + \frac{3}{2} = \frac{9}{2}$$

$$\therefore a = 3$$



51. 답 ㉓

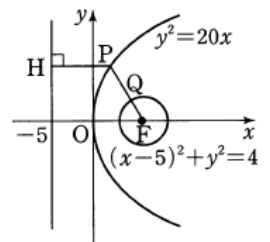
[해설]

직선 $y = -2x + 10$ 이 포물선 $y^2 = 20x$ 의 초점의 좌표 $F(5, 0)$ 을 지난다.

또한 포물선 $y^2 = 20x$ 의 준선의 방정식은 $x = -5$ 이므로 포물선의 정의에 의하여

$$\overline{PH} = \overline{PF}$$

$$\therefore \overline{PH} - \overline{PQ} = \overline{PF} - \overline{PQ} = \overline{QF} = 2$$



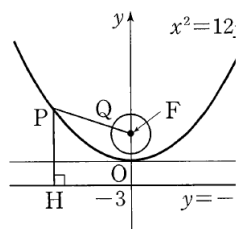
52. 답 ㉓

[해설]

원 $x^2 + (y - 3)^2 = 5$ 의 중심 $(0, 3)$ 은 포물선 $x^2 = 12y$ 의 초점 $F(0, 3)$ 이다. 또, 이 포물선의 준선의 방정식은 $y = -3$ 이므로 포물선의 정의에 의하여

$$\overline{PH} = \overline{PF}$$

$$\begin{aligned} \therefore \overline{PH} - \overline{PQ} &= \overline{PF} - \overline{PQ} \\ &= \overline{QF} = \sqrt{5} \end{aligned}$$



53. 답 ①

[해설]

포물선 $y^2 = -16x = 4 \cdot (-4) \cdot x$ 의 초점의 좌표는 $F(-4, 0)$ 이므로 원

$(x+4)^2 + y^2 = 3$ 의 중심과 일치한다.

점 P에서 포물선의 준선에 내린 수선의 발을 H라 하면

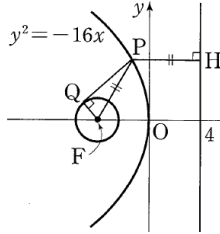
$$\begin{aligned} \overline{PQ} &= \sqrt{\overline{PF}^2 - \overline{FQ}^2} \\ &= \sqrt{\overline{PH}^2 - 3} \end{aligned}$$

$$(\because \overline{PF} = \overline{PH}, \overline{FQ} = \sqrt{3})$$

\overline{PH} 가 최소일 때, \overline{PQ} 도 최소이므로

$$\overline{PQ} \geq \sqrt{4^2 - 3} = \sqrt{13} \quad (\because \overline{PH} \geq 4)$$

따라서 선분 PQ의 길이의 최솟값은 $\sqrt{13}$ 이다.



참고

포물선 위의 점 P가 포물선의 꼭짓점에 있을 때, 포물선에서 준선에 이르는 거리가 최소이다.

54. 답 ⑤

[해설]

포물선 $y^2 = 4 \cdot \frac{5}{2}x$ 에서 초점의 좌표는 $F(\frac{5}{2}, 0)$ 이므로

두 점 A, B의 좌표를 $A(x_1, y_1), B(x_2, y_2)$ 로 놓으면

$$\overline{AF} + \overline{BF} = \left(x_1 + \frac{5}{2}\right) + \left(x_2 + \frac{5}{2}\right) = 8 \text{에서}$$

$$x_1 + x_2 = 3$$

$$\therefore S_1 + S_2 = \pi \overline{AC}^2 + \pi \overline{BD}^2$$

$$= \pi y_1^2 + \pi y_2^2 = 10\pi(x_1 + x_2) \quad (\because y_1^2 = 10x_1, y_2^2 = 10x_2)$$

$$= 30\pi$$

55. 답 ⑥

[해설]

ㄱ. 포물선 $x^2 = 4y$ 의 초점의 좌표는 $(0, 1)$ 이다.

원의 반지름의 길이를 r 라 하면 원의 중심의 좌표는

$(0, 1+r)$ 이므로 원의 방정식은

$$x^2 + \{y - (r+1)\}^2 = r^2 \quad \dots \textcircled{1}$$

$x^2 = 4y$ 를 ㉠에 대입하여 정리하면

$$y^2 - 2(r-1)y + 2r + 1 = 0 \quad \dots \textcircled{2}$$

원이 곡선에 접하므로

$$\frac{D}{4} = (r-1)^2 - 2r - 1 = 0$$

$$r^2 - 4r = 0$$

$$\therefore r = 4 \quad (\because r \neq 0)$$

따라서 중심 C의 좌표는 $(0, 1+4)$, 즉 $(0, 5)$ 이다. (거짓)

ㄴ. $r = 4$ 를 ㉠에 대입하여 정리하면

$$y^2 - 6y + 9 = 0, (y-3)^2 = 0 \quad \therefore y = 3$$

점 P에서 준선 $y = -1$ 에 내린 수선의 발을 H라 하면

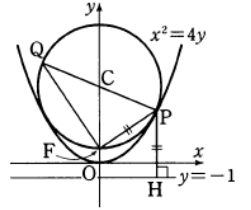
$$\overline{PF} = \overline{PH} = 3 + 1 = 4$$

ㄷ. $\overline{CF} = \overline{CP} = \overline{PF} = 4$ 이므로 $\triangle CFP$ 는 정삼각형이다.

따라서 $\angle FCP = 60^\circ$ 이므로

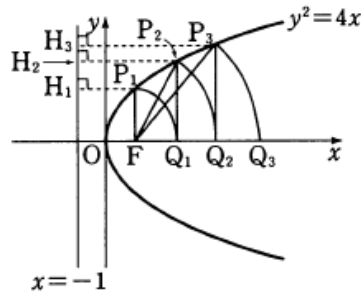
$$\angle FQP = \frac{1}{2} \angle FCP = 30^\circ$$

그러므로 보기 중 옳은 것은 ㄴ, ㄷ이다.



56. 답 ⑥

[해설]



포물선 $y^2 = 4x$ 의 초점의 좌표는 $(1, 0)$, 준선의 방정식은 $x = -1$ 이다.

점 P_n 에서 준선에 내린 수선의 발을 H_n 이라 하면

$$\overline{P_1F} = \overline{H_1P_1} = 1 + 1 = 2, \overline{FQ_1} = \overline{P_1F} = 2$$

$$\overline{P_2F} = \overline{H_2P_2} = \overline{FQ_1} + 2 = 4, \overline{FQ_2} = \overline{P_2F} = 4$$

$$\overline{P_3F} = \overline{H_3P_3} = \overline{FQ_2} + 2 = 6, \overline{FQ_3} = \overline{P_3F} = 6$$

⋮

$$\therefore \overline{P_nF} = 2n, \overline{FQ_n} = 2n$$

따라서 직각삼각형 P_nFQ_{n-1} 에서

$$\cos(\angle P_nFQ_{n-1}) = \frac{\overline{FQ_{n-1}}}{\overline{P_nF}} = \frac{2n-2}{2n}$$

$$\text{이고 } \lim_{n \rightarrow \infty} \frac{\overline{FQ_{n-1}}}{\overline{P_nF}} = \lim_{n \rightarrow \infty} \frac{2n-2}{2n} = 1 \text{ 이므로}$$

$$\lim_{n \rightarrow \infty} (\angle P_nFQ_n) = 0$$

57. 답 ①

[해설] 원 C의 중심은 $(3, 0)$ 이고 반지름의 길이가 1이므로 원의 방정식은 $(x-3)^2 + y^2 = 1$

\overline{PC} 와 점 P에서 준선까지의 거리가 같으므로

$$\overline{PC} = a + 3$$

피타고라스의 정리에 의하여 $\overline{PQ}^2 = \overline{PC}^2 - 1$ 이므로

$$\overline{PQ}^2 = (a+3)^2 - 1$$

$$\triangle PCQ = \frac{1}{2} \times \overline{PQ} \times \overline{CQ} = \frac{1}{2} \overline{PQ} = \frac{1}{2} \sqrt{(a+3)^2 - 1}$$

따라서 삼각형 PCQ의 넓이의 최솟값은 $a = 0$ 일 때

$$\frac{1}{2} \times 2 \times \sqrt{2} \times 1 = \sqrt{2}$$

$$\therefore m + S = 0 + \sqrt{2} = \sqrt{2}$$

58. 답 ②

[해설]

포물선 $x^2 = \frac{1}{4}y = 4 \cdot \frac{1}{16} \cdot y$ 위의 점 (x_1, y_1) 에서의 접선의 방정식은

$$x_1 x = 2 \cdot \frac{1}{16} \cdot (y + y_1)$$

이 때, $x_1 = -1, y_1 = 4$ 이므로

$$-x = \frac{1}{8}(y + 4)$$

$$\therefore y = -8 - 4$$

위 식에 $y = 0$ 을 대입하면

$$0 = -8x - 4 \quad \therefore x = -\frac{1}{2}$$

따라서 접선의 x 절편은 $-\frac{1}{2}$ 이다.

59. 답 ㉓

[해설]

포물선 $y^2 = 16x = 4 \cdot 4x$ 에서 $p = 4$ 이므로

포물선 $y^2 = 16x$ 위의 점 $(4, 8)$ 에서 그은 접선의 방정식은

$$8y = 8(x + 4)$$

$$\therefore y = x + 4 \quad \dots\dots \textcircled{1}$$

직선 $\textcircled{1}$ 에 수직인 직선의 기울기 $m = -1$ 이므로 구하는 직선의 방정식은

$$y = mx + \frac{p}{m} = -x + \frac{4}{(-1)} = -x - 4$$

따라서 직선의 y 절편은 -4 이다.

60. 답 ㉓

[해설]

포물선 $y^2 = 4x$ 위의 접점을 (x_1, y_1) 이라 하면 접선의 방정식은

$$y_1 y = 2(x + x_1)$$

이 접선이 점 $(-2, 1)$ 을 지나므로

$$y_1 = 2(x_1 - 2) \quad \dots\dots \textcircled{1}$$

또, 접점은 포물선 위의 점이므로

$$y_1^2 = 4x_1 \quad \dots\dots \textcircled{2}$$

$\textcircled{1}, \textcircled{2}$ 을 연립하여 풀면

$$x_1 = 1, y_1 = -2 \text{ 또는 } x_1 = 4, y_1 = 4$$

$\therefore P(1, -2), Q(4, 4)$ 라 하면 P, Q 의 중점의 좌표는

$$\left(\frac{1+4}{2}, \frac{-2+4}{2} \right)$$

즉, $\left(\frac{5}{2}, 1 \right)$ 이다. (참)

\therefore 두 점 P, Q 를 지나는 직선의 방정식은

$$y + 2 = \frac{4+2}{4-1}(x-1), y = 2x - 4$$

$$\therefore 2x - y - 4 = 0 \text{ (참)}$$

$$\therefore \overline{PQ} = \sqrt{(4-1)^2 + (4+2)^2} = 3\sqrt{5}$$

점 $A(-2, 1)$ 과 직선 $2x - y - 4 = 0$ 사이의 거리는

$$\frac{|-4 - 1 - 4|}{\sqrt{2^2 + 1^2}} = \frac{9\sqrt{5}}{5}$$

이므로 삼각형 APQ 의 넓이는

$$\frac{1}{2} \times 3\sqrt{5} \times \frac{9\sqrt{5}}{5} = \frac{27}{2} \text{ (거짓)}$$

따라서 보기에서 옳은 것은 \neg, \neg 이다.

참고

두 점 $(x_1, y_1), (x_2, y_2)$ 를 지나는 방정식은

$$y - y_1 = \frac{y_2 - y_1}{x_2 - x_1}(x - x_1) \text{ (단, } x_1 \neq x_2)$$

61. 답 10

[해설]

점 $P(a, b)$ 가 직선 $y = x + 4$ 위의 점이므로

$$b = a + 4$$

직선 $y = x + 4$ 위의 점 $(a, a + 4)$ 에서 포물선 $y^2 = 4x$ 에 그은 접선의 기울기를 m 이라 하면 접선의 방정식은

$$y - (a + 4) = m(x - a)$$

$y^2 = 4x$ 와 연립하여 x 를 소거하면

$$my^2 - 4y - 4am + 4a + 16 = 0 \quad \dots\dots \textcircled{1}$$

포물선과 직선이 접할 때, $\textcircled{1}$ 의 판별식 $D = 0$ 이므로

$$\frac{D}{4} = 4 - m(-4am + 4a + 16) = 0$$

$$\therefore am^2 - (a + 4)m + 1 = 0 \quad \dots\dots \textcircled{2}$$

이 때, m 에 대한 이차방정식 $\textcircled{2}$ 의 두 근을 α, β 라 하면, α, β 는 두 접선의 기울기이고, 두 접선이 서로 수직이므로 기울기의 곱 $\alpha\beta = -1$ 이다.

$\textcircled{2}$ 에서 이차방정식의 근과 계수의 관계에 의하여

$$\alpha\beta = \frac{1}{a} = -1$$

$$\therefore a = -1, b = 3$$

$$\therefore a^2 + b^2 = 10$$

62. 답 ㉒

[해설]

포물선 $y^2 = 4x$ 위의 점 $P(a, b)$ 에서의 접선의 방정식은 $by = 2(x + a)$ 이므로 점 Q 의 좌표는 $(-a, 0)$ 이다.

또한, $b^2 = 4a$ 이므로

$$\overline{PQ} = \sqrt{4a^2 + b^2} = \sqrt{4a^2 + 4a} = 4\sqrt{5}$$

$$4a^2 + 4a = 80, a^2 + a - 20 = 0$$

$$(a + 5)(a - 4) = 0$$

$$\therefore a = 4 \quad (\because a > 0)$$

따라서 $b^2 = 16$ 이므로

$$a^2 + b^2 = 32$$

63. 답 141

[해설]

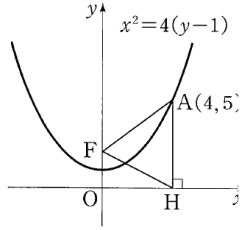
포물선 $x^2 = 4(y - 1)$ 은 포물선 $x^2 = 4y$ 를 y 축의 방향으로 1만큼 평행이동한 것이다.

포물선 $x^2 = 4y$ 의 초점의 좌표가 $(0, 1)$, 준선의 방정식이 $y = -1$ 이므로 주어진 포물선의 초점은 $F(0, 2)$, 준선의 방정식은 $y = 0$, 즉 x 축이다.

$$\therefore \overline{AF} = \overline{AH} = 5$$

점 H의 좌표는 (4, 0)이므로

$$\begin{aligned} FH &= \sqrt{2^2 + 4^2} = 2\sqrt{5} \\ \therefore \sin(\angle FHA) &= \sin(90^\circ - \angle FHO) \\ &= \cos(\angle FHO) \\ &= \frac{4}{2\sqrt{5}} = \frac{2}{\sqrt{5}} \end{aligned}$$



이 때, 삼각형 AFH의 외접원의 반지름의 길이를 R라 하면 사인법칙에 의하여

$$\begin{aligned} 2R &= \frac{AF}{\sin(\angle FHA)} = 5 \times \frac{\sqrt{5}}{2} \\ \therefore R &= \frac{5\sqrt{5}}{4} \end{aligned}$$

따라서 삼각형 AFH의 외접원의 넓이는

$$\begin{aligned} \pi \times \left(\frac{5\sqrt{5}}{4}\right)^2 &= \frac{125\pi}{16} \\ \therefore a + b &= 16 + 125 = 141 \end{aligned}$$

참고 (사인법칙)

삼각형 ABC의 외접원의 반지름의 길이를 R라 하면

$$\frac{a}{\sin A} = \frac{b}{\sin B} = \frac{c}{\sin C} = 2R$$

64. 답 ㉔

[해설]

점 P에서의 접선은 $by = 5(x+a)$ 이다.

접선의 기울기가 $\frac{5}{b}$ 이므로 점 P를 지나고

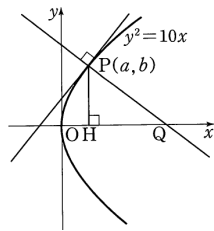
접선에 수직인 직선은

$$y - b = -\frac{b}{5}(x - a)$$

$y = 0$ 으로 놓으면 $x = a + 5$

따라서 $Q(a+5, 0)$ 이고 $H(a, 0)$ 이므로

$$\overline{HQ} = 5$$



65. 답 ㉑

[해설]

점 P의 좌표를 $P(x_1, y_1)$ 이라 하면

$$\overline{OP} = x_1^2 + y_1^2 = x_1^2 + 3x_1 = 4 \text{에서}$$

$$(x_1 - 1)(x_1 + 4) = 0$$

$$\therefore x_1 = 1, y_1 = -\sqrt{3} \text{ (}\because x_1 > 0, y_1 < 0\text{)}$$

따라서 점 $P(1, -\sqrt{3})$ 에서의 접선의 방정식은

$$y_1 y = \frac{3}{2}(x + x_1) \text{에서}$$

$$-\sqrt{3} y = \frac{3}{2}(x + 1)$$

$$\therefore y = -\frac{\sqrt{3}}{2}(x + 1) = -\frac{\sqrt{3}}{2}x - \frac{\sqrt{3}}{2}$$

$$\therefore ab = \left(-\frac{\sqrt{3}}{2}\right) \cdot \left(-\frac{\sqrt{3}}{2}\right) = \frac{3}{4}$$

66. 답 ㉔

[해설] 포물선의 꼭짓점은 원점이므로 직선 l의 방정식은 $y = \frac{1}{2}x$

직선 l'의 기울기는 -2이므로 직선 l'의 방정식은 $y = -2x$

직선 $y = -2x$ 와 포물선 $y^2 = 2x$ 의 교점은 $4x^2 = 2x$ 에서 $x = \frac{1}{2}$

그러므로 점 Q의 좌표는 $\left(\frac{1}{2}, -1\right)$

직선 PQ의 방정식은

$$y - 4 = \frac{4+1}{8-\frac{1}{2}}(x-8) = \frac{2}{3}(x-8)$$

따라서 구하는 교점의 x좌표는 2이다.

67. 답 ㉔

[해설]

점 P의 좌표를 (x_1, y_1) 이라고 하면 점선의 방정식은

$$y_1 y = \frac{1}{2}(x + x_1)$$

이 식에 $y = 0$ 을 대입하면 교점 T의 좌표는 $(-x_1, 0)$ 이다.

$y^2 = 4 \cdot \frac{1}{4}x$ 에서 초점 F의 좌표는 $\left(\frac{1}{4}, 0\right)$ 이므로

$$\overline{FT} = x_1 + \frac{1}{4}$$

$$\text{한편, } \overline{FP} = \sqrt{\left(x_1 - \frac{1}{4}\right)^2 + y_1^2}$$

$$= \sqrt{\left(x_1 - \frac{1}{4}\right)^2 + x_1} \text{ (}\because y_1^2 = x_1\text{)}$$

$$= \sqrt{\left(x_1 + \frac{1}{4}\right)^2} = x_1 + \frac{1}{4}$$

따라서 $\overline{FP} = \overline{FT}$ 이다.

68. 답 ㉓

[해설] 점 P에서 그은 점선 l의 방정식은 $by = 4(x+a)$ 이므로 $y = 0$ 일 때 $x = -a$ 이다. 즉, $a = 8$

그런데 점 P에서 초점까지의 거리는 점 P에서 준선 $x = -2$ 까지의 거리와 같으므로 $8 - (-2) = 10$ 이다.

따라서 점 P에서 초점까지의 거리는 10이다.

69. 답 ㉑

[해설]

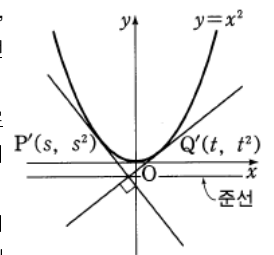
포물선 $y = x^2$ 위의 두 점 $P(s, s^2)$,

$Q'(t, t^2)$ 에서 각각 그은 이 포물선의 점선은 수직이다. (단, $s < 0 < t$)

∴ 두 점선의 교점은 준선 위의 점이므로 s가 증가하면 준선 위의 교점이 x축의 양의 방향으로 이동하므로 t도 증가한다. (참)

∴ ∴ 포물선과 점선으로 둘러싸인 도형의 넓이는 일정하므로 a, b의 변화는 넓이에 영향을 미치지 않는다. (거짓)

따라서 보기 중 옳은 것은 ㄱ뿐이다.



70. 답 ㉔

[해설]

점점을 $P(x_1, y_1)$ 이라 하면 구하는 접선의 방정식은

$$y_1 y = 4(x + x_1) \quad \dots\dots \textcircled{1}$$

접선 ㉔이 점 $(-1, 1)$ 을 지나므로

$$y_1 = 4(x_1 - 1) \quad \dots\dots \textcircled{2}$$

또한 점 P 는 포물선 위의 점이므로

$$y_1^2 = 8x_1 \quad \dots\dots \textcircled{3}$$

㉔을 ㉓에 대입하여 정리하면

$$2x_1^2 - 5x_1 + 2 = 0, (x_1 - 2)(2x_1 - 1) = 0$$

$$\therefore x_1 = 2 \text{ 또는 } x_1 = \frac{1}{2}$$

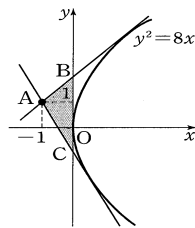
$$\therefore x_1 = 2, y_1 = 4 \text{ 또는 } x_1 = \frac{1}{2}, y_1 = -2$$

구하는 접선의 방정식은 ㉔으로부터

$$y = x + 2 \text{ 또는 } y = -2x - 1$$

따라서 두 직선의 y 절편은 2와 -1이므로 오른쪽 그림에서

$$\triangle ABC = \frac{1}{2} \cdot 3 \cdot 1 = \frac{3}{2}$$



71. 답 ㉓

[해설]

포물선 $y^2 = 12x$ 위의 점 $P(3, 6)$ 에서의 접선의 방정식은

$$6y = 6(x + 3)$$

즉, $y = x + 3$ 이므로 $Q(-3, 0)$

$$y^2 = 12x = 4 \cdot 3 \cdot x \text{에서 } F(3, 0)$$

따라서 삼각형 PQF 의 넓이는

$$\frac{1}{2}(3+3) \cdot 6 = 18$$

72. 답 ㉓

[해설]

$$\because \theta = 90^\circ \text{ 이면 } \overline{PH} = p, \overline{PF} = 2p$$

$$\therefore \triangle FPH = \frac{1}{2} \cdot p \cdot 2p = p^2 \text{ (참)}$$

ㄴ. $\overline{PH} < \overline{PF}$ 이므로 $\triangle FPH$ 는 정삼각형이 될 수 없다. (거짓)

ㄷ. 점 P 의 x 좌표를 α , 점 P 에서 x 축에 내린 수선의 발을 P' 이라하면

$$\overline{PF} = \alpha + p, \overline{FP'} = \alpha - p$$

$$\cos \theta = \frac{1}{3} \text{ 이므로}$$

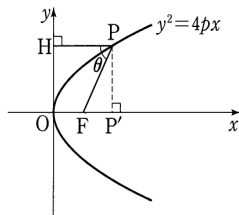
$$\frac{\alpha - p}{\alpha + p} = \frac{1}{3}$$

$$3(\alpha - p) = \alpha + p \quad \therefore \alpha = 2p$$

이 때, $\overline{OF} = \overline{FP'}$ 이므로 $\overline{HF} = \overline{PF}$

그러므로 $\triangle FPH$ 는 이등변 삼각형이다. (참)

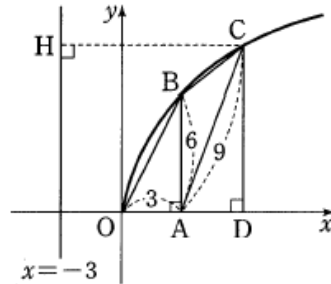
따라서 보기 중 옳은 것은 ㄱ, ㄷ이다.



73. 답 ㉔

[해설]

주어진 조건과 그림을 점 O 를 원점, 직선 OA 를 x 축으로 하는 좌표평면 위에 나타내면 다음 그림과 같다.



포물선의 방정식을 $y^2 = 4px$ 로 놓으면

$\overline{OA} = 3, \overline{AB} = 6$ 에서 점 B 의 좌표는 $B(3, 6)$ 이므로

$$36 = 4p \cdot 3 \quad \therefore p = 3$$

따라서 포물선의 방정식은 $y^2 = 12x$ 이고, $y^2 = 4 \cdot 3 \cdot x$ 에서 초점의 좌표는 $A(3, 0)$, 준선의 방정식은 $x = -3$ 이다.

점 C 에서 준선에 내린 수선의 발을 H 라 하면

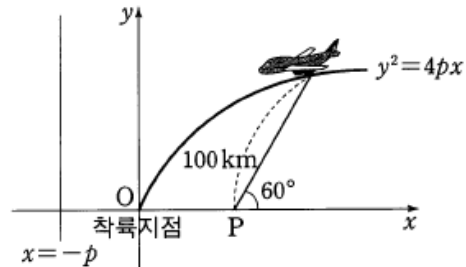
$$\overline{OD} = \overline{HC} - 3 = \overline{CA} - 3 = 6, \overline{AD} = 3$$

$$\text{또한, } \overline{DC} = \sqrt{9^2 - 3^2} = 6\sqrt{2}$$

$$\therefore \square ABCD = \frac{1}{2}(6 + 6\sqrt{2}) \cdot 3 = 9 + 9\sqrt{2}$$

74. 답 ㉑

[해설]



위의 그림과 같이 착륙지점을 원점, 점 P 의 좌표를 $(p, 0)$ 으로 하는 좌표평면을 도입하면 포물선의 방정식은 $y^2 = 4px$ 이다.

점 P 에서 100km 떨어진 비행물체의 x 좌표는

$$p + 100\cos 60^\circ = p + 50$$

이므로 비행물체에서 준선 $x = -p$ 까지의 거리는 $(2p + 50)$ km이다.

포물선의 정의에 의하여 $2p + 50 = 100$ 이므로 $p = 25$ (km)

75. 답 ㉔

[해설]

오른쪽 그림과 같이 포물선궤도에 좌표평면을 도입하면 포물선의 방정식은

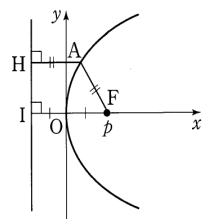
$y^2 = 4px$ ($p > 0$)이다. 점 $(p, 6 \times 10^{12})$ 이 포물선 위의 점이므로

$$36 \times 10^{24} = 4p^2 \quad \therefore p = 3 \times 10^{12}$$

포물선의 정의에 의하여 오른쪽 그림에서

$$\overline{FA} = \overline{HA} \geq \overline{IO} = \overline{OF}$$

이므로 초점 F 와 포물선 위의 점 사이의 최소 거리는 \overline{OF} 이다.



따라서 구하는 최소 거리는

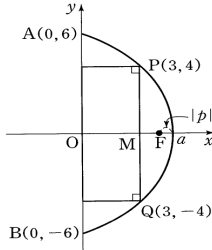
$$p = 3 \times 10^{12} (km)$$

76. 답 ④

[해설]

포물선의 축이 해안가와 수직이고 P, Q 는 해안가에서 같은 거리에 있으므로 포물선의 축은 선분 PQ 의 중점 M 을 지난다.

오른쪽 그림과 같이 선분 AB 를 y 축으로, 포물선의 축을 x 축으로 하는 좌표평면을 도입하여 $10m$ 를 1 의 눈금으로 하면 포물선은 두 점 $A(0, 6), P(3, 4)$ 를 지난다.



이때, 포물선의 방정식을

$y^2 = 4p(x - a)$ ($p < 0$)라 하면 이 포물선은 두 점 $A(0, 6), P(3, 4)$ 를 지나므로

$$36 = -4pa \quad \dots\dots \textcircled{1}$$

$$16 = 4p(3 - a) \quad \dots\dots \textcircled{2}$$

①, ②을 연립하여 풀면 $p = -\frac{5}{3}, a = \frac{27}{5}$

$$\therefore \overline{OF} = \frac{27}{5} - \frac{5}{3} = \frac{56}{15}$$

따라서 초점 F 가 해안가에서 떨어져 있는 거리는

$$\frac{56}{15} \times 10 = \frac{112}{3} (m) \text{이다.}$$

9. 타원과 쌍곡선

- 1. 답 ② 2. 답 ③ 3. 답 ③ 4. 답 ④
- 5. 답 ④ 6. 답 25 7. 답 ② 8. 답 ③
- 9. 답 ③ 10. 답 ② 11. 답 ③ 12. 답 ①
- 13. 답 25 14. 답 ② 15. 답 39 16. 답 ⑤
- 17. 답 ① 18. 답 112 19. 답 135 20. 답 ⑤
- 21. 답 ③ 22. 답 28 23. 답 72 24. 답 4.25
- 25. 답 ⑤ 26. 답 17 27. 답 ⑤ 28. 답 ②
- 29. 답 ⑤ 30. 답 ① 31. 답 ③ 32. 답 ②
- 33. 답 ④ 33. 답 ④ 35. 답 12 36. 답 ⑤
- 37. 답 ② 38. 답 ③ 39. 답 ③ 40. 답 ⑤
- 41. 답 36 42. 답 ③ 43. 답 ⑤ 44. 답 11
- 45. 답 ② 46. 답 ④ 47. 답 ④ 48. 답 4
- 49. 답 ② 50. 답 ③ 51. 답 100 52. 답 ③
- 53. 답 ④ 54. 답 15 55. 답 2 56. 답 ③
- 57. 답 ② 58. 답 ④ 59. 답 ④ 60. 답 ③
- 61. 답 ③ 62. 답 16 63. 답 ③ 64. 답 ①
- 65. 답 ② 66. 답 ③ 67. 답 ④ 68. 답 80
- 69. 답 68 70. 답 ③ 71. 답 64 72. 답 ⑤
- 73. 답 ④ 74. 답 ① 75. 답 ④ 76. 답 ④
- 77. 답 ③ 78. 답 ③ 79. 답 304 80. 답 ⑤
- 81. 답 ⑤ 82. 답 ③ 83. 답 6 84. 답 22
- 85. 답 ④ 86. 답 75 87. 답 ⑤ 88. 답 ④
- 89. 답 ⑤ 90. 답 ④ 91. 답 8 92. 답 ③
- 93. 답 ① 94. 답 ② 95. 답 ④ 96. 답 ⑤
- 97. 답 ④ 98. 답 ④ 99. 답 ④ 100. 답 ⑤
- 101. 답 ④ 102. 답 ③ 103. 답 ③ 104. 답 ②
- 105. 답 ① 106. 답 8 107. 답 169 108. 답 ④
- 109. 답 ③ 110. 답 ⑤ 111. 답 ① 112. 답 ③
- 113. 답 13 114. 답 ④ 115. 답 60 116. 답 ④
- 117. 답 19 118. 답 ③ 119. 답 ⑤ 120. 답 32
- 121. 답 ③ 122. 답 ④ 123. 답 ③ 124. 답 ③
- 125. 답 ① 126. 답 ① 127. 답 ③ 128. 답 38
- 129. 답 ⑤ 130. 답 ② 131. 답 16 132. 답 ⑤
- 133. 답 ① 134. 답 ④ 135. 답 90 136. 답 11
- 137. 답 ⑤ 138. 답 ② 139. 답 ⑤ 140. 답 34
- 141. 답 ① 142. 답 ② 142. 답 ② 144. 답 ④
- 145. 답 68 146. 답 ⑤ 147. 답 ① 148. 답 ④
- 149. 답 ⑤

1. 답 ②

[해설] 점 P를 중심으로 가지는 원의 반지름의 길이를 r라고 하면

$$\sqrt{(a+1)^2 + b^2} = r+1$$

$$\sqrt{(a-1)^2 + b^2} = 5-r$$

이므로 $\sqrt{(a+1)^2 + b^2} + \sqrt{(a-1)^2 + b^2} = 6$
 그러므로 점 P(a, b)에서 두 점 (-1, 0)과 (1, 0)까지의 거리의 합이 6으로 일정하다.
 즉, 점 P가 그리는 도형은 장축의 길이가 6이고 초점이 (±1, 0)인 타원이다.
 타원의 방정식을 $\frac{x^2}{a^2} + \frac{y^2}{b^2} = 1$ 이라 하면 2a = 6이므로 a = 3

$$b^2 = 3^2 - 1^2 = 8$$

$$\therefore \frac{x^2}{9} + \frac{y^2}{8} = 1$$

2. 답 ⑤

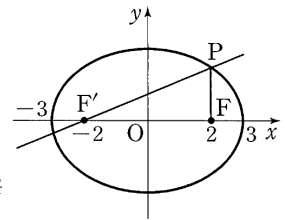
[해설]
 중심이 점 (0, 0)이고, 초점이 x축 위에 있으므로 타원의 방정식의 꼴은 $\frac{x^2}{a^2} + \frac{y^2}{b^2} = 1$ 이다.
 장축의 길이가 6이므로 2a = 6
 $\therefore a = 3$
 초점이 $(\sqrt{5}, 0), (-\sqrt{5}, 0)$ 이므로
 $b = \sqrt{3^2 - (\sqrt{5})^2} = 2$
 따라서 구하는 타원의 방정식은 $\frac{x^2}{3^2} + \frac{y^2}{2^2} = 1$
 이고, 단축의 길이는 2·2 = 4이다.

3. 답 ③

[해설]
 $3x^2 + 4y^2 - 12x + 8y + 4 = 0$ 을 정리하면
 $3(x-2)^2 + 4(y+1)^2 = 12$
 $\therefore \frac{(x-2)^2}{4} + \frac{(y+1)^2}{3} = 1$
 따라서 장축의 길이는 4이고, 중심의 좌표는 (2, -1)이다.
 $\therefore l+m+n = 4+2+(-1) = 5$

4. 답 ①

두 정점까지의 거리의 합이 일정한 점이 나타내는 도형은 타원이다. 중심이 원점이고 두 초점이 x축 위에 있으므로 타원의 방정식 $\frac{x^2}{a^2} + \frac{y^2}{b^2} = 1$ ($a > b > 0$)
 에서 $a^2 - b^2 = 2^2$ 이고 2a = 6
 $\therefore a^2 = 9, b^2 = 5$
 즉, 주어진 타원의 방정식은 $\frac{x^2}{9} + \frac{y^2}{5} = 1$ 이다.



$x = 2$ 를 타원 $\frac{x^2}{9} + \frac{y^2}{5} = 1$ 에 대입하면 $\frac{4}{9} + \frac{y^2}{5} = 1$, 즉 $y = \pm \frac{5}{3}$ 에서 점 P의 좌표는 $(2, \frac{5}{3})$ 이다.
 따라서 직선 PF'의 기울기는 $\frac{\overline{PF}}{\overline{F'F}} = \frac{\frac{5}{3}}{4} = \frac{5}{12}$

5. 답 ①

두 정점까지의 거리의 합이 일정한 점이 나타내는 도형은 타원이다. 중심이 원점이고 두 초점이 x축 위에 있으므로 타원의 방정식

$$\frac{x^2}{a^2} + \frac{y^2}{b^2} = 1 \quad (a > b > 0)$$

에서 $a^2 - b^2 = 2^2$ 이고 $2a = 6$

$$\therefore a^2 = 9, \quad b^2 = 5$$

즉, 주어진 타원의 방정식은 $\frac{x^2}{9} + \frac{y^2}{5} = 1$ 이다.

$x = 2$ 를 타원 $\frac{x^2}{9} + \frac{y^2}{5} = 1$ 에 대입하면 $\frac{4}{9} + \frac{y^2}{5} = 1$, 즉 $y = \pm \frac{5}{3}$ 에서 점

P의 좌표는 $(2, \frac{5}{3})$ 이다.

따라서 직선 PF'의 기울기는

$$\frac{\overline{PF}}{\overline{F'F}} = \frac{\frac{5}{3}}{4} = \frac{5}{12}$$

6. 답 25

[해설]

타원 $\frac{x^2}{36} + \frac{y^2}{20} = 1$ 의 초점의 좌표는

$$(\pm \sqrt{36-20}, 0)$$

이므로 초점이 $(\pm 4, 0)$ 이고, 장축의 길이가 10인 타원의 방정식은

$$\frac{x^2}{25} + \frac{y^2}{9} = 1$$

점 P(a, b)가 타원 $\frac{x^2}{25} + \frac{y^2}{9} = 1$ 위의 점이므로

$$3 \leq \sqrt{a^2 + b^2} \leq 5$$

$$\therefore 9 \leq a^2 + b^2 \leq 25$$

따라서 $a^2 + b^2$ 의 최댓값은 25이다.

참고

타원 $\frac{x^2}{a^2} + \frac{y^2}{b^2} = 1$ ($a > b > 0$) 위의 임의의 점 P와 원점 O를 이은 선분을

\overline{OP} 라 할 때,

$$b \leq \overline{OP} \leq a, \quad \text{즉 } b^2 \leq \overline{OP}^2 \leq a^2$$

7. 답 ②

[해설]

타원 $\frac{x^2}{9} + \frac{y^2}{5} = 1$ 은 오른쪽 그림과 같고 타원의

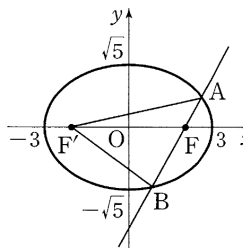
정의에 의하여

$$\overline{AF} + \overline{AF'} = 2 \times 3 = 6$$

$$\overline{BF} + \overline{BF'} = 2 \times 3 = 6$$

따라서 삼각형 ABF'의 둘레의 길이는

$$(\overline{AF} + \overline{AF'}) + (\overline{BF} + \overline{BF'}) = 6 + 6 = 12$$



8. 답 ③

[해설]

점 P(2, 3)은 타원 위의 점이므로

$\overline{PF} + \overline{PF'} = \sqrt{0^2 + 3^2} + \sqrt{4^2 + 3^2} = 8$ 에서 장축의 길이가 8임을 알 수 있다. 주어진 조건을 만족하는 타원의 방정식을

$$\frac{x^2}{a^2} + \frac{y^2}{b^2} = 1 \quad (a > b > 0) \text{로 놓으면}$$

$$2a = 8, \quad 2^2 = a^2 - b^2$$

$$\therefore a = 4, \quad b^2 = 12 \quad \therefore b = 2\sqrt{3}$$

$$\therefore \overline{AB} = 4\sqrt{3}$$

9. 답 ③

[해설] 타원의 방정식은 $\frac{x^2}{2^2} + \frac{y^2}{1^2} = 1$ 이므로

$$c = \sqrt{2^2 - 1^2} = \sqrt{3} \quad \therefore F(\sqrt{3}, 0)$$

$x = \sqrt{3}$ 을 타원의 방정식에 대입하면

$$\frac{3}{4} + y^2 = 1 \quad \therefore y = \pm \frac{1}{2}$$

$$\therefore \overline{PQ} = \frac{1}{2} - \left(-\frac{1}{2}\right) = 1$$

따라서 삼각형 OPQ의 넓이 S는

$$S = \frac{1}{2} \times \sqrt{3} \times 1 = \frac{\sqrt{3}}{2}$$

10. 답 ②

[해설]

삼각형 ABC를 오른쪽 그림과 같이 좌표축 위에 놓고 타원의 방정식을

$$\frac{x^2}{a^2} + \frac{y^2}{b^2} = 1 \quad (a > b > 0)$$

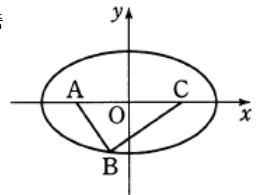
로 놓으면 $\overline{AB} + \overline{BC} = 3 + 4 = 7$ 에서

$$2a = 7 \quad \therefore a = \frac{7}{2}$$

$$\overline{AC} = 5 \text{이므로 초점 } C \text{의 } x \text{좌표 } c = \frac{5}{2}$$

$$\therefore b = \sqrt{a^2 - c^2} = \sqrt{\left(\frac{7}{2}\right)^2 - \left(\frac{5}{2}\right)^2} = \sqrt{6}$$

따라서 구하는 타원의 단축의 길이는 $2\sqrt{6}$ 이다.



11. 답 ③

[해설] 장축의 길이가 10이므로

$$\overline{AF} + \overline{AF'} = \overline{BF} + \overline{BF'} = \overline{CF} + \overline{CF'} = \overline{DF} + \overline{DF'} = 10$$

두 초점 F, F'을 지나는 두 직선이 평행하므로 삼각형 PFF'과 삼각형

QF'F가 합동이다. 즉, $\overline{PF} + \overline{PF'} = \overline{QF} + \overline{QF'}$ 이다.

그런데 삼각형 PFF'의 둘레의 길이가 14이고

$$\overline{FF'} = 2\sqrt{25-9} = 8 \text{이므로 } \overline{PF} + \overline{PF'} = \overline{QF} + \overline{QF'} = 6$$

따라서 구하는 육각형 ABQDCP의 둘레의 길이는

$$\begin{aligned} & \{(\overline{AF} + \overline{AF'}) + (\overline{BF} + \overline{BF'}) + (\overline{CF} + \overline{CF'}) + (\overline{DF} + \overline{DF'})\} \\ & - \{(\overline{PF} + \overline{PF'}) + (\overline{QF} + \overline{QF'})\} \\ & = 40 - 12 = 28 \end{aligned}$$

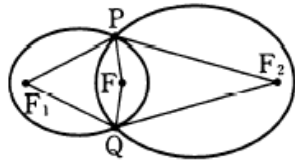
12. 답 ①

[해설] 오른쪽 그림에서 타원의 정의를 이용하면

$$\overline{PF} + \overline{PF_1} = 16,$$

$$\overline{PF} + \overline{PF_2} = 24$$

이므로 $|\overline{PF_1} - \overline{PF_2}| = 8$
 마찬가지로 $\overline{QF_1} + \overline{QF_2} = 16$,
 $\overline{QF_1} + \overline{QF_2} = 24$ 이므로
 $|\overline{QF_1} - \overline{QF_2}| = 8$
 $\therefore |\overline{PF_1} - \overline{PF_2}| + |\overline{QF_1} - \overline{QF_2}| = 16$



13. 답 25

[해설]

타원 $\frac{x^2}{5^2} + \frac{y^2}{4^2} = 1$ 의 초점의 좌표를 $(c, 0), (-c, 0)$ ($c > 0$)으로 놓으면
 $c^2 = 5^2 - 4^2 = 3^2$
 즉, 초점의 좌표는 $(3, 0), (-3, 0)$ 이므로 두 점 A, B는 타원의 초점이다.
 타원의 정의에 의하여
 $\overline{PA} + \overline{PB} = 2 \times 5 = 10$
 $\therefore \overline{PA} \cdot \overline{PB} = \overline{PA} \cdot (10 - \overline{PA})$
 $= -\overline{PA}^2 + 10\overline{PA}$
 $= -(\overline{PA} - 5)^2 + 25$
 $2 \leq \overline{PA} \leq 8$ 이므로 $\overline{PA} = 5$ 일 때, $\overline{PA} \cdot \overline{PB}$ 의 최댓값은 25이다.

다른 풀이

타원의 정의에 의하여 $\overline{PA} + \overline{PB} = 10, \overline{PA} > 0, \overline{PB} > 0$ 이므로 산술평균과 기하평균의 대소관계에 의하여
 $10 = \overline{PA} + \overline{PB} \geq 2\sqrt{\overline{PA} \cdot \overline{PB}}$ (단, 등호는 $\overline{PA} = \overline{PB} = 5$ 일 때 성립한다.)
 $\sqrt{\overline{PA} \cdot \overline{PB}} \leq 5$
 $\therefore \overline{PA} \cdot \overline{PB} \leq 25$

참고

산술평균과 기하평균의 대소관계

$a > 0, b > 0$ 일 때,

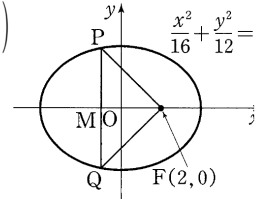
$$\frac{a+b}{2} \geq \sqrt{ab} \quad (\text{단, 등호는 } a=b \text{일 때 성립한다.})$$

14. 답 ㉔

[해설] 타원 - 추론능력

타원 $\frac{x^2}{16} + \frac{y^2}{12} = 1$ 의 초점의 좌표를 $F(c, 0), F'(-c, 0)$ ($c > 0$)이라 하면
 $c = \sqrt{16 - 12} = 2$ 이므로 $F(2, 0)$ 이다.
 삼각형 FPQ의 무게중심이 원점 O가 되려면 세 점 F, P, Q의 y좌표의 합은 0이므로 두 점 P, Q는 x축에 대하여 대칭이다.
 즉, 선분 PQ의 중점 M은 x축 위에 있다.
 오른쪽 그림에서 $\overline{OF} = 2$ 이므로 $\overline{OM} = 1$ 이고 점 M의 x좌표는 -1이다.
 $\frac{x^2}{16} + \frac{y^2}{12} = 1$ 에 $x = -1$ 을 대입하면
 $y^2 = \frac{45}{4} \quad \therefore y = \pm \frac{3\sqrt{5}}{2}$

따라서 $P\left(-1, \frac{3\sqrt{5}}{2}\right), Q\left(-1, -\frac{3\sqrt{5}}{2}\right)$
 이므로
 $\overline{PQ} = 3\sqrt{5}$



참고 삼각형의 무게중심

삼각형 ABC의 무게중심 G는 세 중선의 교점이다.

이 때, 점 G는 각 중선을 2 : 1로 내분한다.

15. 답 39

[해설]

타원의 방정식 $\frac{x^2}{36} + \frac{y^2}{20} = 1$ 에서

$$a^2 - b^2 = 36 - 20 = 16$$

이므로 두 초점 F, F'의 좌표는 각각 $F(4, 0), F'(-4, 0)$ 이다.

$\overline{PF} = t$ 로 놓으면 타원의 정의에 의하여

$\overline{PF'} = 12 - t$ 이므로 $\triangle PFF'$ 에서 제이코사인법칙을 이용하면

$$(12 - t)^2 = t^2 + 8^2 - 2 \cdot 8 \cdot t \cdot \cos \frac{\pi}{3}$$

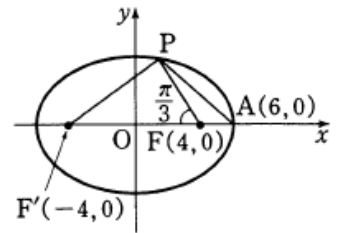
$$t^2 - 24t + 144 = t^2 + 64 - 8t$$

$$16t = 80 \quad \therefore t = 5$$

또, $\triangle PFA$ 에서 $\angle PFA = \frac{2}{3}\pi$ 이므로 제이코사인법칙을 이용하면

$$\overline{PA}^2 = 2^2 + 5^2 - 2 \cdot 2 \cdot 5 \cos \frac{2}{3}\pi$$

$$= 4 + 25 + 10 = 39$$



16. 답 ㉔

[해설]

$\angle OQA$ 의 이등분선이 선분 OA와 만나는 점을 B라 하자. $\overline{AP} \parallel \overline{BQ}$ 이므로

$\angle AQB = \angle QAP, \angle OQB = \angle QPA$

$$\therefore \angle AQP = \angle QPA$$

그러므로 $\triangle QAP$ 는 $\overline{QA} = \overline{QP}$ 인 이등변삼각형이고,

$$\overline{OQ} + \overline{QA} = \overline{OQ} + \overline{QP} = \overline{OP} = 6$$

즉, 점 Q는 두 점 O, A에 이르는 거리의 합이 6으로 일정하다.

점 Q의 좌표를 (x, y) 라 하면

$$\overline{OQ} + \overline{QA} = \sqrt{x^2 + y^2} + \sqrt{(x-4)^2 + y^2} = 6$$

$$\sqrt{(x-4)^2 + y^2} = 6 - \sqrt{x^2 + y^2}$$

양변을 제곱하여 정리하면

$$x^2 - 8x + 16 + y^2 = 36 - 12\sqrt{x^2 + y^2} + x^2 + y^2$$

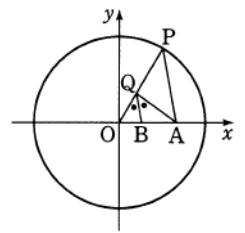
$$3\sqrt{x^2 + y^2} = 2x + 5$$

또, 양변을 제곱하여 정리하면

$$9x^2 + 9y^2 = 4x^2 + 20x + 25$$

$$5(x-2)^2 + 9y^2 = 45$$

따라서 점 Q의 자취는



$$\frac{(x-2)^2}{9} + \frac{y^2}{5} = 1 \quad (\text{단, } y \neq 0) \text{ 이므로}$$

$$X \subset \left\{ (x, y) \mid \frac{(x-2)^2}{9} + \frac{y^2}{5} = 1 \right\}$$

17. 답 ①

[해설]

ㄱ. 두 초점이 F, F_1 인 타원의 장축의 길이를 $2a$ 라 하고 두 초점이 F, F_2 인 타원의 장축의 길이를 $2c$ 라 하면 타원의 정의에 의하여

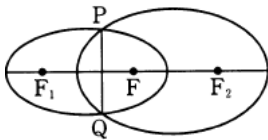
$$\overline{PF} + \overline{PF_1} = 2a \quad \dots \text{㉠}$$

$$\overline{PF} + \overline{PF_2} = 2c \quad \dots \text{㉡}$$

그런데 $\overline{PF_1} = \overline{PF_2}$ 이므로 ㉠-㉡에서 $2a - 2c = 0$

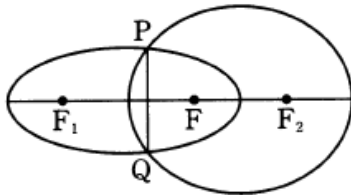
따라서 두 타원의 장축의 길이는 서로 같다. (참)

ㄴ. (반례) $\overline{FF_1} = \overline{FF_2}$ 이므로 두 타원의 중심에서 초점까지의 거리는 서로 같다.



그런데 위 그림과 같이 오른쪽 타원의 장축의 길이가 더 길면 선분 PQ와 선분 F_1F_2 가 점 F가 아닌 점에서 만난다. 즉 세 점 P, F, Q는 한 직선 위에 있지 않다. (거짓)

ㄷ. (반례) 그림과 같이 장축의 길이가 서로 같은 두 타원에서 오른쪽 타원의 단축의 길이가 더 길면 오른쪽 타원의 두 초점 사이의 거리가 더 짧다. ($\because c = \sqrt{a^2 - b^2}$) 이 때, 선분 PQ는 선분 FF_1 과 만난다. (거짓)



그러므로 보기 중 옳은 것은 ㄱ뿐이다.

18. 답 112

[해설]

초점의 좌표를 $F(c, 0), F(-c, 0)$ ($c > 0$) 이라 놓으면 $\overline{FF'} = 8$ 에서 $2c = 8 \quad \therefore c = 4$

또, 타원의 정의에 의하여

$$\overline{AF} + \overline{AF'} = 2a = 16 \quad \therefore a = 8$$

$$c^2 = a^2 - b^2 \text{에서 } b^2 = a^2 - c^2 = 64 - 16 = 48$$

$$\therefore a^2 + b^2 = 64 + 48 = 112$$

19. 답 135

[해설]

삼각형 $AF'B$ 가 정삼각형이면 $\overline{F'A} = 12, \overline{F'A} = 6$ 이므로

$$\overline{F'A} + \overline{FA} = 18 = 2a, \quad a = 9$$

$$\therefore a^2 = 9^2 = 81$$

한편, 삼각형 $AF'F$ 는 직각삼각형이므로

$$\overline{F'F} = \sqrt{12^2 - 6^2} = 6\sqrt{3}$$

이고, 초점 F, F'의 좌표는

$$F(3\sqrt{3}, 0), F'(-3\sqrt{3}, 0)$$

이 때, $\sqrt{a^2 - b^2} = \sqrt{81 - b^2} = 3\sqrt{3}$ 이므로

$$b^2 = 81 - 27 = 54$$

$$\therefore a^2 + b^2 = 81 + 54 = 135$$

20. 답 ⑤

[해설]

타원 $\frac{x^2}{25} + \frac{y^2}{9} = 1$ 에서 $c^2 = 25 - 9 = 16$ 이므로 초점의 좌표는

$$F(4, 0), F'(-4, 0)$$

$$\therefore \overline{FF'} = 8$$

한편, $\overline{PF} + \overline{PF'} = 10$ 이고 $\overline{PF} : \overline{PF'} = 3 : 2$ 이므로

$$\overline{PF} = 6, \overline{PF'} = 4$$

$\triangle PFF'$ 에서 $\angle FPF' = \theta$ 로 놓으면

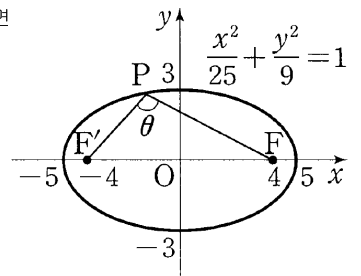
제이코사인법칙에 의하여

$$\cos \theta = \frac{6^2 + 4^2 - 8^2}{2 \cdot 6 \cdot 4} = -\frac{1}{4}$$

$$\sin \theta = \sqrt{1 - \left(-\frac{1}{4}\right)^2} = \frac{\sqrt{15}}{4}$$

따라서 삼각형 PFF' 의 넓이는

$$\frac{1}{2} \cdot 6 \cdot 4 \cdot \sin \theta = 12 \cdot \frac{\sqrt{15}}{4} = 3\sqrt{15}$$



21. 답 ③

[해설]

$\overline{PF} = a, \overline{PF'} = b$ 로 놓으면 타원의 정의에 의하여

$$\overline{PF} + \overline{PF'} = a + b = 8$$

$\sqrt{16 - 7} = 3$ 이므로 두 초점의 좌표는 $F(3, 0), F'(-3, 0)$ 이고, $\overline{FF'} = 6$ 이다.

삼각형 PFF' 에서 제이코사인법칙을 적용하면

$$6^2 = a^2 + b^2 - 2ab \cos 60^\circ$$

$$a^2 + b^2 - 2ab = 36$$

$$(a + b)^2 - 3ab = 36$$

$a + b = 8$ 이므로 $64 - 3ab = 36$ 에서 $ab = \frac{28}{3}$

따라서 삼각형 PFF' 의 넓이는

$$\frac{1}{2} ab \sin 60^\circ = \frac{1}{2} \cdot \frac{28}{3} \cdot \frac{\sqrt{3}}{2} = \frac{7\sqrt{3}}{3}$$

참고 제이코사인법칙

삼각형의 세 변 a, b, c 와 세 각 A, B, C에 대하여

$$(1) a^2 = b^2 + c^2 - 2bc \cos A$$

$$(2) b^2 = c^2 + a^2 - 2ca \cos B$$

$$(3) c^2 = a^2 + b^2 - 2ab \cos C$$

22. 답 28

[해설]

$\overline{PF} = a, \overline{PF'} = b$ 로 놓으면 타원의 정의에 의하여

$$\overline{PF} + \overline{PF'} = a + b = 8 \text{이 성립한다.}$$

9. 타원과 쌍곡선

또한, $\overline{FF'} = 2\sqrt{16-7} = 6$ 이다.

삼각형 $PF'F$ 에서 제이코사인법칙을 적용하면

$$6^2 = a^2 + b^2 - 2ab \cdot \cos \frac{\pi}{3}$$

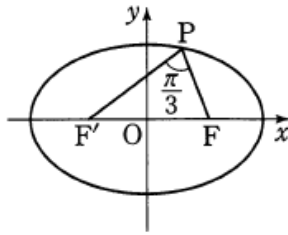
$$a^2 + b^2 - ab = 36$$

$$a^2 + b^2 + 2ab - 2ab - ab = 36$$

$$(a+b)^2 - 3ab = 36$$

$$a+b = 8 \text{ 이므로 } 64 - 3ab = 36 \quad \therefore 3ab = 28$$

$$\therefore 3\overline{PF'} \cdot \overline{PF} = 28$$



23. 답 72

[해설]

점 P에서의 접선의 방정식은 $\frac{ax}{16} + \frac{by}{7} = 1$ 이므로

$$y=0 \text{ 을 대입하면 } x = \frac{16}{a}$$

$$\therefore A\left(\frac{16}{a}, 0\right)$$

$\triangle PF'F : \triangle PFA = 2 : 3$ 에서 두 삼각형의 높이가 같으므로

$$\overline{F'F} = 6, \overline{FA} = \frac{16}{a} - 3$$

$$\text{즉, } 6 : \left(\frac{16}{a} - 3\right) = 18 \quad \therefore a = \frac{4}{3}$$

한편, 점 $P(a, b)$ 는 타원 위의 점이므로

$$\left(\frac{4}{3}\right)^2 + \frac{b^2}{7} = 1 \text{ 에서 } \frac{1}{9} + \frac{b^2}{7} = 1$$

$$b^2 = \frac{8}{9} \times 7 = \frac{56}{9} \quad \therefore b = \frac{2\sqrt{14}}{3}$$

$$\therefore 9(a^2 + b^2) = 9\left(\frac{16}{9} + \frac{56}{9}\right) = 72$$

24. 답 4.25

[해설]

단면을 나타내는 타원의 방정식은

$$\frac{x^2}{6^2} + \frac{y^2}{5^2} = 1$$

철제빔의 길이가 6m 이므로 철제빔까지의 높이를 h m 라 하면 $(3, h)$ 는 타원 위의 점이므로

$$\frac{3^2}{6^2} + \frac{h^2}{5^2} = 1$$

$$\therefore h = \frac{5\sqrt{3}}{2} = 4.25$$

25. 답 ㉞

[해설]

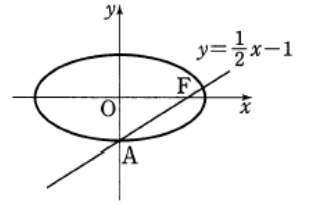
오른쪽 그림과 같이 A와 F는 직선 $y = \frac{1}{2}x - 1$ 이 x축, y축과 만나는 점이므로 $A(0, -1), F(2, 0)$ 이다.

타원 $\frac{x^2}{a^2} + \frac{y^2}{b^2} = 1$ 에서 초점 $F(2, 0)$ 이고 $b = 1$ 이다.

$$4 = a^2 - 1 \text{ 이므로 } a^2 = 5$$

$a > 0$ 이므로 $a = \sqrt{5}$

$$\therefore (\text{장축의 길이}) = 2a = 2\sqrt{5}$$



26. 답 17

[해설]

타원 $\frac{x^2}{a^2} + \frac{y^2}{b^2} = 1$ 의 초점의 좌표가 $(\pm b, 0)$ 이므로

$$a^2 - b^2 = b^2 \quad \therefore a^2 = 2b^2 \quad \dots \text{㉠}$$

또, 타원 $\frac{x^2}{a^2} + \frac{y^2}{b^2} = 1$ 에 접하고 기울기가 $\frac{1}{2}$ 인 접선의 y절편이 ± 1 이므로

$$\pm \sqrt{\frac{a^2}{4} + b^2} = \pm 1 \quad \dots \text{㉡}$$

㉠, ㉡을 연립하여 풀면

$$a^2 = \frac{4}{3}, b^2 = \frac{2}{3}$$

$$\therefore a^2 b^2 = \frac{8}{9}$$

$$\therefore p + q = 17$$

27. 답 ㉞

[해설]

$\overline{AF} = \overline{AF'}$ 이고, $\overline{AF} + \overline{AF'} = 2a$ 이므로 $\overline{AF} = a$

$\angle AFO = 60^\circ$ 이므로 $\overline{AO} = b = \frac{\sqrt{3}}{2}a$

$$\therefore \frac{b}{a} = \frac{\sqrt{3}}{2}$$

28. 답 ㉡

[해설] 주어진 타원의 방정식을 표준형으로 고치면

$$4(x^2 - 6x + 9) + 16(y^2 - 4y + 4) = -99 + 36 + 64$$

$$4(x-3)^2 + 16(y-2)^2 = 1$$

$$\frac{(x-3)^2}{\left(\frac{1}{2}\right)^2} + \frac{(y-2)^2}{\left(\frac{1}{4}\right)^2} = 1$$

이므로 그 그래프는 오른쪽 그림과 같다.

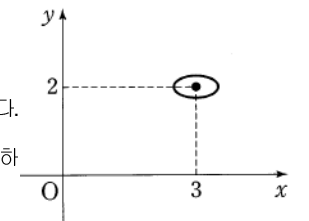
$\therefore \frac{1}{2} > \frac{1}{4}$ 이므로 장축은 x축과 평행하다. (거짓)

$\therefore \frac{x^2}{\left(\frac{1}{2}\right)^2} + \frac{y^2}{\left(\frac{1}{4}\right)^2} = 1$ 의 초점의 좌표를 $(k, 0), (-k, 0)$ 이라 하면

$$k = \sqrt{\left(\frac{1}{2}\right)^2 - \left(\frac{1}{4}\right)^2} = \frac{\sqrt{3}}{4}$$

그러므로 초점의 좌표는 $\left(\frac{\sqrt{3}}{4}, 0\right), \left(-\frac{\sqrt{3}}{4}, 0\right)$ 이고 두 초점 사이의

거리는 $\frac{\sqrt{3}}{4} - \left(-\frac{\sqrt{3}}{4}\right) = \frac{\sqrt{3}}{2}$ 이다. (참)

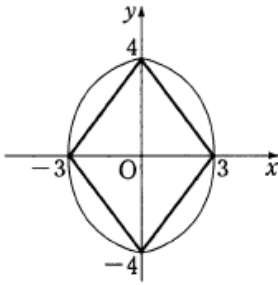


ㄷ. 장축의 양 끝점의 좌표가 $(\frac{5}{2}, 2), (\frac{7}{2}, 2)$ 이고 단축의 양 끝점의 좌표가 $(3, \frac{7}{4}), (3, \frac{9}{4})$ 이므로 타원의 내부에 있는 점 중에서 x 좌표와 y 좌표가 모두 정수인 것은 $(3, 2)$ 뿐이다. (거짓)
따라서 보기 중 옳은 것은 \sim 뿐이다.

29. 답 ㉞

[해설]

오른쪽 그림과 같이 도형 $4|x+3|y|=12$ 가 x 축 및 y 축과 만나는 점은 $(3, 0), (-3, 0), (0, 4), (0, -4)$ 이다. 이 네 점을 꼭짓점으로 갖는 타원 $\frac{x^2}{a^2} + \frac{y^2}{b^2} = 1 (b > a > 0)$ 의 단축의 길이는 $2a=6$, 장축의 길이는 $2b=8$ 이다.



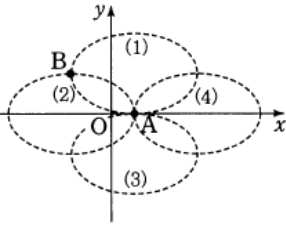
즉, $a=3, b=4$ 이므로 두 초점 F, F' 의 좌표를 각각 $(0, c), (0, -c)$ 라 하면 $c^2 = b^2 - a^2 = 7$

따라서 구하는 초점의 좌표는 $(0, -\sqrt{7}), (0, \sqrt{7})$ 이다.

30. 답 ㉠

[해설]

ㄱ. 점 $A(2, 0)$ 을 한 꼭짓점으로 하는 타원은 오른쪽 그림과 같은 4가지 경우이다.



그런데 점 $B(-3, 3)$ 이 다른 한 꼭짓점이므로 (1), (2)만 가능하다. (참)

ㄴ. 그림에서 장축의 길이는 $2 \cdot \{2 - (-3)\} = 10$, 단축의 길이는 $2 \cdot \{3 - 0\} = 6$ 이므로 그 합은 16이다. (거짓)

ㄷ. (2)인 경우 타원의 초점은 x 축 위에 놓인다.

(1)인 경우 타원의 중심의 좌표는 $(2, 3)$ 이고 장축의 길이는 10, 단축의 길이는 6이므로 타원의 초점의 좌표는 $\pm \sqrt{5^2 - 3^2} = \pm 4$ 에서 $(-2, 3), (6, 3)$ 이다.

즉, 타원의 한 초점은 제 2사분면에 존재한다. (거짓)

따라서 보기 중 옳은 것은 \sim 뿐이다.

31. 답 ㉢

[해설] 타원 - 이해능력

장축의 길이가 단축의 길이의 $\sqrt{3}$ 배이면 $a^2 = 3b^2$ 이므로 타원의 방정식은

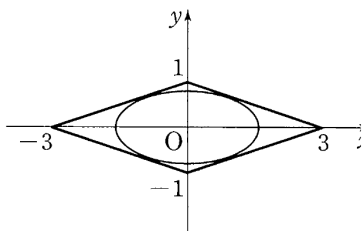
$$\frac{x^2}{3b^2} + \frac{y^2}{b^2} = 1 \text{로 놓을 수 있다.}$$

오른쪽 그림에서 타원

$$\frac{x^2}{3b^2} + \frac{y^2}{b^2} = 1 \text{에 접하고 기울기}$$

가 $\frac{1}{3}$ 인 직선의 방정식은

$$y = \frac{1}{3}x \pm \sqrt{3b^2 \cdot \frac{1}{9} + b^2}$$



이 직선이 $y = \frac{1}{3}x \pm 1$ 과 같으므로

$$\sqrt{\frac{b^2}{3} + b^2} = \sqrt{\frac{4}{3}b^2} = 1 \text{에서 } b^2 = \frac{3}{4}$$

따라서 $a^2 = \frac{9}{4}$ 이므로 장축의 길이는

$$2 \times \frac{3}{2} = 3$$

32. 답 ㉡

[해설]

초점이 같은 두 타원의 방정식을 각각

$$\frac{x^2}{a^2} + \frac{y^2}{b^2} = 1 (a > b > 0), \frac{x^2}{c^2} + \frac{y^2}{d^2} = 1 (c > d > 0) \text{로 놓는다.}$$

ㄱ. $a > c$ 라고 하면

$$a^2 - b^2 = c^2 - d^2 \text{에서 } a^2 - c^2 = b^2 - d^2 \dots \textcircled{1}$$

$\therefore b > d$

즉, 초점이 같은 두 타원에서 한 타원이 다른 타원보다 장축의 길이가 더 길면, 단축의 길이도 더 길다.

ㄴ, ㄷ. $\textcircled{1}$ 에서

$$(a+c)(a-c) = (b+d)(b-d)$$

그런데 $a+c > b+d$ 이므로 $a-c < b-d$ 이다.

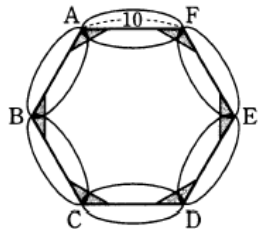
즉, 두 타원의 단축의 길이의 차가 장축의 길이의 차보다 크다.

따라서 보기 중 옳은 것은 \sim 뿐이다.

33. 답 ㉣

[해설]

색칠한 6개의 삼각형은 서로 합동인 이등변 삼각형이다. 정육각형의 한 내각의 크기는 120° 이므로 이등변삼각형에서 길이가 같은 두 변의 길이를 a 라 하면 6개의 이등변삼각형의 넓이의 합은

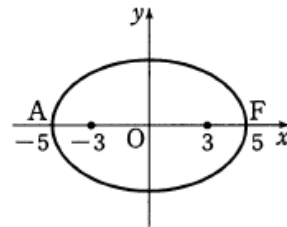


$$6 \times \frac{1}{2} \times a^2 \times \sin 120^\circ = 6\sqrt{3}$$

$$\frac{3\sqrt{3}}{2}a^2 = 6\sqrt{3}, a^2 = 4$$

$\therefore a = 2$

이 때, 두 초점 사이의 거리는 $10 - 2 \cdot 2 = 6$ 이므로 두 꼭짓점 A, F 를 장축의 양 끝점으로 하는 타원의 중심이 원점에 오도록 좌표평면 위에 나타내면 다음과 같다.



타원의 방정식을 $\frac{x^2}{5^2} + \frac{y^2}{b^2} = 1 (b > 0)$ 로 놓으면

초점의 좌표가 $(3, 0), (-3, 0)$ 이므로

$$5^2 - b^2 = 3^2 \text{에서 } b^2 = 16$$

$\therefore b = 4$

따라서 단축의 길이는 $2b = 8$ 이다.

34. 답 ㉓

[해설] $y^2 - \frac{4^a - 2}{2}x^2 = 8a - 1$ 의 양변을 $8a - 1$ 로 나누면

$$\frac{x^2}{\frac{2(8a-1)}{4^a-2}} + \frac{y^2}{8a-1} = 1$$

이 때, 이 방정식의 두 초점이 모두 x 축 위에 있는 타원이 되려면

$$-\frac{2(8a-1)}{4^a-2} > 8a-1 > 0$$

이 성립해야 한다.

먼저, $8a - 1 > 0$ 에서 $a > \frac{1}{8} \dots \textcircled{1}$

또한, $\textcircled{1}$ 의 범위에서

$$-\frac{2(8a-1)}{4^a-2} > 8a-1, \quad -\frac{2}{4^a-2} > 1$$

$$\frac{2}{4^a-2} + 1 < 0, \quad \frac{4^a}{4^a-2} < 0$$

이 때, $4^a - 2 < 0$ 이므로

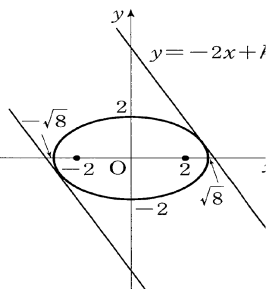
$$a < \frac{1}{2} \dots \textcircled{2}$$

$\textcircled{1}, \textcircled{2}$ 에서 $\frac{1}{8} < a < \frac{1}{2}$

35. 답 12

[해설]

$2x + y = k$ 로 놓으면 $y = -2x + k$ 이므로 기울기가 -2 이고 y 절편이 k 인 직선이다 따라서 오른쪽 그림과 같이 직선과 타원이 제 1사분면에서 접할 때 k 는 최대이고, 제 3사분면에서 접할 때 k 는 최소이다.



타원 $\frac{x^2}{8} + \frac{y^2}{4} = 1$ 에 접하고 기울기가

-2 인 직선의 방정식은

$$y = -2x \pm \sqrt{8 \cdot 4 + 4} = -2x \pm 6$$

따라서 $2x + y$ 의 최댓값 $M = 6$, 최솟값 $m = -6$ 이므로

$$M - m = 6 - (-6) = 12$$

36. 답 ㉓

[해설]

타원 $x^2 + 2y^2 = 6$ 에서 $\frac{x^2}{6} + \frac{y^2}{3} = 1 \dots \textcircled{1}$

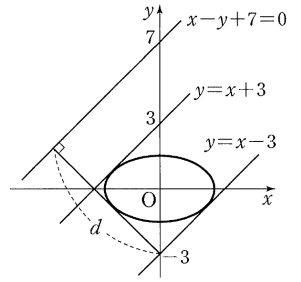
$\textcircled{1}$ 에 접하고 기울기가 1 인 직선의 방정식은

$$y = x \pm \sqrt{6 \cdot 1 + 3}$$

$$\therefore y = \pm 3$$

오른쪽 그림에서 최대 거리는 평행한 두 직선 $y = x - 3$ 과 $x - y + 7 = 0$ 사이의 거리이므로 직선 $y = x - 3$ 위의 점 $(0, -3)$ 에서 직선 $x - y + 7 = 0$ 에 이르는 거리 d 는

$$d = \frac{|0 + 3 + 7|}{\sqrt{1^2 + (-1)^2}} = \frac{10}{\sqrt{2}} = 5\sqrt{2}$$



37. 답 ㉓

[해설]

타원의 방정식을 $\frac{x^2}{a^2} + \frac{y^2}{b^2} = 1$ ($a > b > 0$)이라 하면 초점의 좌표가

$(\sqrt{3}, 0), (-\sqrt{3}, 0)$ 이므로 $b^2 = a^2 - c^2$ 에서

$$b^2 = a^2 - (\pm\sqrt{3})^2 = a^2 - 3$$

또한, 타원이 $(0, 1)$ 을 지나므로 $\frac{1}{b^2} = 1$

$$\therefore b^2 = 1, \quad a^2 = b^2 + 3 = 4$$

따라서 타원의 방정식은 $\frac{x^2}{4} + y^2 = 1$

이다.

$x + y = k$ 로 놓으면 $y = -x + k$ 가 오른쪽 그림과 같을 때 최댓값을 갖는다.

즉, 직선이 타원과 접할 때이므로

$$\frac{x^2}{4} + (-x + k)^2 = 1$$

$$\frac{x^2}{4} + x^2 - 2kx + k^2 = 1$$

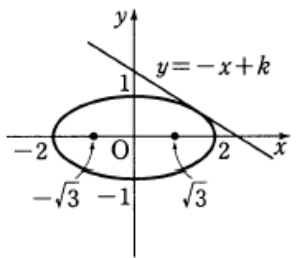
$$5x^2 - 8kx + 4k^2 - 4 = 0$$

이 방정식의 판별식을 D 라 하면

$$\frac{D}{4} = 16k^2 - 5(4k^2 - 4) = 0$$

$$4k^2 = 20, \quad k^2 = 5$$

$$\therefore k = \sqrt{5} \quad (\because k > 0)$$



38. 답 ㉓

[해설] $x + y = k$ 로 놓고 오른쪽 그림과 같이 직선 $y = -x + k$ 와 타원

$\frac{x^2}{15} + \frac{y^2}{10} = 1$ 이 제3사분면에서 접할 때

의 k 의 값을 구하면 된다.

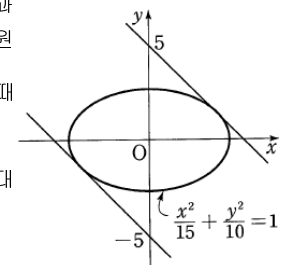
$y = -x + k$ 를 $2x^2 + 3y^2 - 30 = 0$ 에 대입하여 정리하면

$$5x^2 - 6kx + 3k^2 - 30 = 0$$

$$\frac{D}{4} = (-3k)^2 - 5(3k^2 - 30) = 0$$

$$k^2 = 25 \quad \therefore k = \pm 5$$

따라서 구하는 $x + y$ 의 최솟값은 -5 이다.



39. 답 ㉓

[해설] $\triangle ABP$ 의 넓이가 최대하려면 점 P 에서의 접선이 직선 AB 에

9. 타원과 쌍곡선

평행하여야 한다. 직선 AB의 기울기가 3이므로 점 P에서의 접선이 기울기도 3이다.

한편 타원 $x^2 + \frac{y^2}{9} = 1$ 에 접하고 기울기가

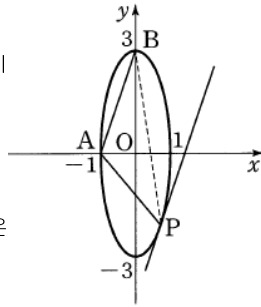
가 3인 접선의 방정식은

$$y = 3x \pm \sqrt{1^2 \cdot 3^2 + 3^2}$$

$$\therefore y = 3x \pm 3\sqrt{2}$$

따라서 점 P에서의 접선의 방정식은

$$y = 3x - 3\sqrt{2}$$



40. 답 ㉔

[해설] $y = \sqrt{27(1 - \frac{x^2}{36})}$ 의 양변을

제곱하여 정리하면

$$\frac{x^2}{36} + \frac{y^2}{27} = 1 \quad (y \geq 0)$$

인 타원의 일부이므로 타원의 초점의

좌표는 $F(3, 0), F'(-3, 0)$ 이다.

반원의 방정식도 제공하여 표준형으로 고치면 각각

$$(x-3)^2 + y^2 = 9, \quad (x+3)^2 + y^2 = 9$$

가 됨을 알 수 있다.

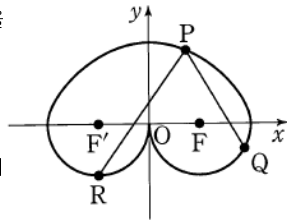
타원의 정의에 의하여 $\overline{PF} + \overline{PF'} = 12$

$$\text{또, } \overline{PQ} \leq \overline{PF} + \overline{FQ} = \overline{PF} + 3$$

$$\overline{PR} \leq \overline{PF} + \overline{RF} = \overline{PF} + 3 \text{ 이므로}$$

$$\overline{PQ} + \overline{PR} \leq (\overline{PF} + 3) + (\overline{PF} + 3)$$

$$= (\overline{PF} + \overline{PF'}) + 6 = 12 + 6 = 18$$



참고

점 F와 점 F'을 지날 때 $\overline{PQ} + \overline{PR}$ 의 길이는 최대이다.

41. 답 36

[해설] 타원 - 내적해결능력

장축과 단축이 각각 x축, y축 위에 있고 타원의 중심이 원점에 오도록 타원을 좌표평면 위에 놓으면 타원의 방정식은

$$\frac{x^2}{16} + \frac{y^2}{9} = 1$$

이 때, A(-4, 0), B(0, -3) 이라 하면 삼각형 PAB의 넓이가 최대가 되려면 점 P가 직선 AB에 평행하면서 제 1사분면에서 접하는 접선의 접점이 될 때이다.

직선 AB의 방정식은

$$y = -\frac{3}{4}x - 3$$

$$\therefore 3x + 4y + 12 = 0 \quad \dots\dots \textcircled{1}$$

직선 ㉑의 기울기는 $-\frac{3}{4}$ 이므로 기울기가 $-\frac{3}{4}$ 이면서 제 1사분면에서 타원

에 접하는 접선의 방정식은

$$y = -\frac{3}{4}x + \sqrt{16 \cdot \left(-\frac{3}{4}\right)^2 + 9}$$

$$\therefore y = -\frac{3}{4}x + 3\sqrt{2} \quad \dots\dots \textcircled{2}$$

직선 ㉒위의 한 점 $(0, 3\sqrt{2})$ 에서 직선 ㉑까지의 거리는

$$\frac{|4 \times 3\sqrt{2} + 12|}{\sqrt{3^2 + 4^2}} = \frac{12 + 12\sqrt{2}}{5}$$

한편, $\overline{AB} = \sqrt{4^2 + (-3)^2} = 5$ 이므로 삼각형 PAB의 넓이의 최댓값은

$$\frac{1}{2} \times 5 \times \frac{12 + 12\sqrt{2}}{5} = 6 + 6\sqrt{2}$$

$$\therefore ab = 36$$

42. 답 ㉓

[해설]

직사각형의 한 꼭짓점을 $A(x_1, y_1)$ 이라 하고, 점 A에서 타원에 기울기가 m인 접선을 그으면 접선의 방정식은 점 A의 위치에 따라 $y = mx + \sqrt{4m^2 + 1}$ 또는 $y = mx - \sqrt{4m^2 + 1}$ 이다. 이 접선의 점 A를 지나므로

$$y_1 = mx_1 + \sqrt{4m^2 + 1} \quad \text{또는} \quad y_1 = mx_1 - \sqrt{4m^2 + 1}$$

이항하여 양변을 제곱하면

$$(y_1 - mx_1)^2 = 4m^2 + 1$$

$$(x_1^2 - 4)m^2 - 2x_1y_1m + y_1^2 - 1 = 0$$

점 A에서 그은 두 접선이 수직이므로 두 직선의 기울기의 곱은 -1이다.

두 접선의 기울기를 m_1, m_2 라 하면 ㉑

에서 근과 계수의 관계에 의하여

$$m_1m_2 = \frac{y_1^2 - 1}{x_1^2 - 4} = -1$$

$$\therefore x_1^2 + y_1^2 = 5$$

즉, 타원에 외접하는 직사각형의 네 꼭짓점은 원 $x^2 + y^2 = 5$ 위의 점이다.

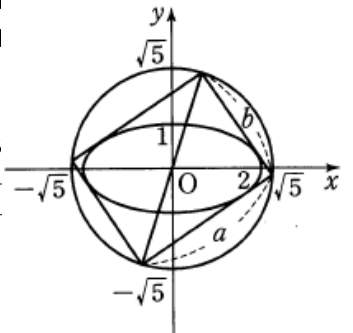
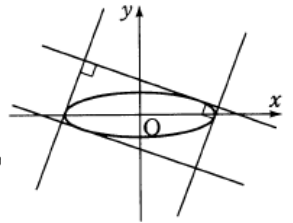
따라서 타원에 내접하는 직사각형의 대각선의 길이는 원 $x^2 + y^2 = 5$ 의 지름의 길이인 $2\sqrt{5}$ 이다. 직사각형의 가로, 세로의 길이를 각각 a, b라하면

$$a^2 + b^2 = (2\sqrt{5})^2$$

산술평균과 기하평균의 관계에 의하여

$$a^2 + b^2 \geq 2ab \text{ 이므로 } 20 \geq 2ab, \quad 10 \geq ab$$

등호는 $a = b = \sqrt{10}$ 일 때, 성립하므로 직사각형의 넓이 ab의 최댓값은 10이다.



43. 답 ㉔

[해설]

$\overline{AC}, \overline{AB}, \overline{BC}$ 가 이 순서대로 등차수열을 이루므로

$$\overline{AC} + \overline{BC} = 2 \times \overline{AB} = 8$$

따라서 점 C는 두 점 A, B에서 거리의 합이 8인 점이므로 점 C의 자취는 장축의 길이가 8인 타원이다.

$$\frac{x^2}{a^2} + \frac{y^2}{b^2} = 1 \text{ 에서 } 2a = 8, \quad 2^2 = a^2 - b^2 \text{ 이므로}$$

$$a^2 = 16, \quad b^2 = 12$$

따라서 점 C의 자취는

$$\frac{x^2}{16} + \frac{y^2}{12} = 1 \quad (y \neq 0)$$

점 P의 좌표를 (x, y)라 하면

$x > 0, y > 0$ 이고

$$\frac{x^2}{16} + \frac{y^2}{12} = 1$$

이 때, 직각삼각형 PQR의 넓

이를 S라 하면

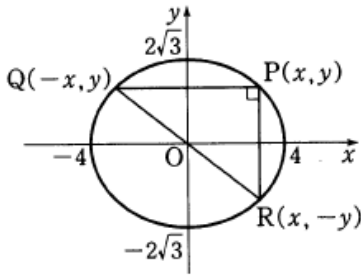
$$S = \frac{1}{2} \cdot 2x \cdot 2y = 2xy \quad \dots \textcircled{1}$$

산술평균과 기하평균의 관계에서

$$1 = \frac{x^2}{16} + \frac{y^2}{12} \geq 2\sqrt{\frac{x^2}{16} \cdot \frac{y^2}{12}} = 2 \cdot \frac{1}{8} \cdot \frac{1}{\sqrt{3}} \cdot xy$$

$$\therefore xy \leq 4\sqrt{3}$$

즉, ①에서 $S \leq 8\sqrt{3}$ 이므로 구하는 넓이의 최댓값은 $8\sqrt{3}$ 이다.



의 방정식은

$$y = \sqrt{3}x \pm \sqrt{2 \cdot 3 + 3}$$

$$\therefore y = \sqrt{3}x \pm 3$$

따라서 P(0, 3), Q(0, -3)이라 하면

$$\overline{PQ} = 6$$

47. 답 ④

[해설]

오른쪽 그림과 같이 타원 $\frac{x^2}{9} + \frac{y^2}{3} = 1$

과 제 3사분면에서 접하는 직선의 기울

기는 $-\frac{1}{3}$ 이다.

이 때, $y = -\frac{1}{3}x \pm \sqrt{9 \cdot \left(-\frac{1}{3}\right)^2 + 3}$

에서 제 3사분면을 지나는 접선의 방정식은

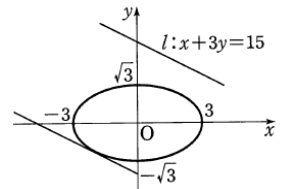
$$y = -\frac{1}{3}x - 2$$

그런데 직선 $l: x + 3y = 15$ 를 y축의 방향으로 n만큼 평행이동하면

$$x + 3(y - n) = 15, \text{ 즉 } y = -\frac{1}{3}x + n + 5$$

이 직선이 $y = -\frac{1}{3}x - 2$ 와 일치해야 하므로

$$n + 5 = -2 \quad \therefore n = -7$$



48. 답 4

[해설] 타원 $\frac{x^2}{10} + y^2 = 1$ 에 접하고, 기울기가 $2\sqrt{2}$ 이며 y절편이 양수인

접선의 방정식 l은

$$y = 2\sqrt{2}x + \sqrt{10 \cdot 8 + 1} = 2\sqrt{2}x + 9 \quad \dots \textcircled{1}$$

타원의 꼭짓점 A(0, 1)에서 외접하는 원의 중심의 좌표를 C(0, a)라

하면 점 C에서 직선 l까지의 거리는 점 C에서 꼭짓점 A까지의 거리와

같다. 즉, $\frac{|-a + 9|}{\sqrt{(2\sqrt{2})^2 + 1}} = a - 1$ 이므로 양변을 제곱하여 정리하면

$$-a + 9 = 3a - 3 \text{에서 } a = 3$$

따라서 구하는 원의 반지름의 길이는 $3 - 1 = 2$ 이므로 원의 넓이 S는 4π

$$\therefore \frac{S}{\pi} = 4$$

49. 답 ②

타원 위의 점 (1, -2) 위에서의 접선의 방정식은

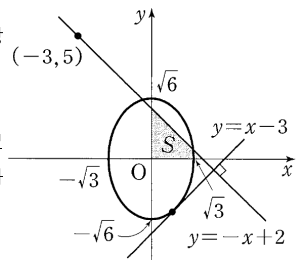
$$2x - 2y = 6 \quad \therefore y = x - 3$$

이 직선에 수직인 직선의 기울기는 -1이므로 기울기가 -1이고 점 (-3, 5)를 지나

$$\text{는 직선의 방정식은 } y - 5 = -(x + 3) \quad \therefore y = -x + 2$$

따라서 구하는 삼각형의 넓이를 S라 하면

$$S = \frac{1}{2} \times 2 \times 2 = 2$$



44. 답 11

[해설]

타원 $\frac{x^2}{8} + \frac{y^2}{4} = 1$ 에서 $x^2 + 2y^2 = 8$ 이므로 $y = 2x + k$ 를 대입하여 정리하면

$$9x^2 + 8kx + 2k^2 - 8 = 0 \quad \dots \textcircled{1}$$

타원 $\frac{x^2}{8} + \frac{y^2}{4} = 1$ 과 직선 $y = 2x + k$ 가 서로 다른 두 점에서 만나려면 이차 방정식 ①이 서로 다른 두 실근을 가져야 하므로 ①의 판별식 $D > 0$ 이어야 한다.

$$\frac{D}{4} = (4k)^2 - 9(2k^2 - 8) = -2k^2 + 72 > 0$$

$$k^2 < 36, (k + 6)(k - 6) < 0$$

$$\therefore -6 < k < 6$$

따라서 정수 k는 -5, -4, -3, ..., 5 이므로 그 개수는 11개다.

45. 답 ②

[해설]

$$\begin{cases} y = 2x + a & \dots \textcircled{1} \\ x^2 + \frac{y^2}{2} = 1 & \dots \textcircled{2} \end{cases}$$

①을 ②에 대입하여 정리하면

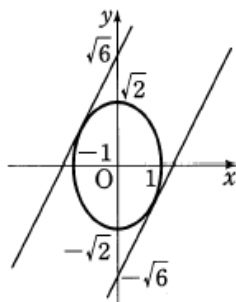
$$x^2 + \frac{(2x + a)^2}{2} - 1 = 0$$

$$6x^2 + 4ax + a^2 - 2 = 0$$

$$\frac{D}{4} = 4a^2 - 6a^2 + 12 = -2(a^2 - 6) < 0$$

$$\therefore a < -\sqrt{6} \text{ 또는 } a > \sqrt{6}$$

그런데 $-3 < -\sqrt{6} < -2$ 이므로 구하는 음의 정수 a의 최댓값은 -3이다.



46. 답 ④

[해설]

타원 $3x^2 + 2y^2 = 6$ 에서 $\frac{x^2}{2} + \frac{y^2}{3} = 1$ 이 타원에 접하고 기울기가 인 직선

50. 답 ㉓

[해설]

타원 위의 점 $(1, -2)$ 에서의 접선의 방정식은

$$4x - 2y = 8 \quad \therefore y = 2x - 4$$

이 직선에 수직인 직선의 기울기는

$$-\frac{1}{2} \text{이므로}$$

기울기가 $-\frac{1}{2}$ 이고 점 $(-4, 3)$ 을 지

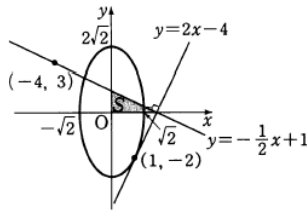
나는 직선의 방정식은

$$y - 3 = -\frac{1}{2}(x + 4)$$

$$\therefore y = -\frac{1}{2}x + 1$$

따라서 구하는 삼각형의 넓이 S 는

$$S = \frac{1}{2} \times 2 \times 1 = 1$$



51. 답 100

[해설] 점 P 를 (x_1, y_1) 이라고 하자.

선분 PF 에 수직이고 점 F 를 지나는 직선의 방정식은

$$y = -\frac{x_1 - 8}{y_1 - 0}(x - 8)$$

점 P 에서의 접선 l 의 방정식은

$$\frac{x_1x}{100} + \frac{y_1y}{36} = 1$$

두 직선의 교점의 x 좌표는

$$\frac{36x_1x}{100} - 36 = (x_1 - 8)x - 8x_1 + 64$$

$$800x_1 - 100^2 = (64x_1 - 800)x$$

$$x = \frac{100(8x_1 - 100)}{8(8x_1 - 100)} = \frac{100}{8}$$

$$\therefore 8a = 100$$

52. 답 ㉓

[해설] \neg . 타원 위의 점 $P(x_1, y_1)$ 에서의 접선의 방정식

$$\frac{x_1x}{27} + \frac{y_1y}{2} = 1$$

이 접선의 x 절편이 $\frac{27}{x_1}$ 이므로 $Q(\frac{27}{x_1}, 0)$ (참)

$$\therefore \overline{FQ} = \left| \frac{27}{x_1} - 5 \right|, \overline{F'Q} = \left| \frac{27}{x_1} + 5 \right| \text{ 이므로}$$

$$\overline{FQ} : \overline{F'Q} = |27 - 5x_1| : |27 + 5x_1| \quad (\text{거짓})$$

\therefore 두 점 F, F' 에서 직선 PQ 에 내린 수선의 발을 각각 H, H' 이라 하면 $\triangle PFH \sim \triangle PF'H'$ (AA 닮음)이므로

$$\frac{\overline{FP}}{\overline{F'P}} = \frac{\overline{FH}}{\overline{F'H'}} = \frac{\left| \frac{5x_1 - 1}{27} - 1 \right|}{\left(\frac{x_1}{27} \right)^2 + \left(\frac{y_1}{2} \right)^2} : \frac{\left| -\frac{5x_1 - 1}{27} - 1 \right|}{\left(\frac{x_1}{27} \right)^2 + \left(\frac{y_1}{2} \right)^2}$$

$$= |5x_1 - 27| : |5x_1 + 27|$$

$$\therefore \overline{FQ} : \overline{F'Q} = \overline{FP} : \overline{F'P} \quad (\text{참})$$

따라서 보기에서 옳은 것은 \neg, \ominus 이다.

53. 답 ㉔

[해설] 점점을 (x_1, y_1) 이라 하면 $x_1^2 + 4y_1^2 = 4 \dots \textcircled{A}$

이고 접선의 방정식은 $x_1x + 4y_1y = 4$

이 접선이 점 $(8, 2)$ 를 지나므로

$$8x_1 + 8y_1 = 4 \text{에서 } 2x_1 + 2y_1 = 1 \dots \textcircled{B}$$

$\textcircled{A}, \textcircled{B}$ 에서 y_1 을 소거하면

$$x_1^2 + (1 - 2x_1)^2 = 4$$

$$\therefore 5x_1^2 - 4x_1 - 3 = 0 \dots \textcircled{C}$$

이 방정식의 두 근을 α, β 라 하면 α, β 는 두 점점 P, Q 의 x 좌표이므로 삼각형 OPQ 의 무게중심의 x 좌표는

$$\frac{0 + \alpha + \beta}{3} = \frac{\alpha + \beta}{3} \text{이다.}$$

따라서 이차방정식 \textcircled{C} 에서 근과 계수의 관계에 의하여

$$\frac{\alpha + \beta}{3} = \frac{4}{15}$$

54. 답 15

[해설] $Q(x_1, y_1)$ 이라 하면 접선의 방정식은 $\frac{x_1x}{9} + y_1y = 1$ 이다.

이 접선의 y 절편이 k 이므로 $ky_1 = 1$

$$Q(x_1, y_1) \text{은 타원 위의 점이므로 } \frac{x_1^2}{9} + y_1^2 = 1$$

$$\overline{PQ} = \overline{OP} \text{이므로 } x_1^2 + (y_1 - k)^2 = k^2$$

$$9 - 9y_1^2 + y_1^2 - 2 = 0$$

$$y_1 = \pm \frac{\sqrt{14}}{4}$$

$$\therefore k = \pm \frac{4}{\sqrt{14}}$$

따라서 $k^2 = \frac{8}{7}$ 에서 $m + n = 15$

55. 답 2

[해설] 점 Q 는 타원 위의 점이므로

$Q(x_1, y_1)$ 이라 하면

$$\frac{x_1^2}{8} + \frac{y_1^2}{2} = 1 \dots \textcircled{A}$$

점 Q 에서의 접선의 방정식은

$$\frac{x_1x}{8} + \frac{y_1y}{2} = 1$$

이 접선이 점 $P(0, p)$ 를 지나므로 $y_1p = 2$

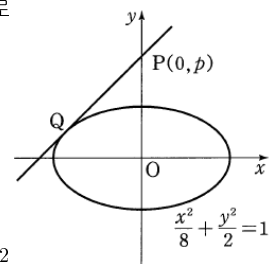
$$\text{에서 } y_1 = \frac{2}{p}$$

$$\text{이것을 } \textcircled{A} \text{에 대입하면 } x_1^2 = 8 \left(1 - \frac{2}{p^2} \right)$$

$$\therefore \overline{PQ}^2 = x_1^2 + (y_1 - p)^2 = 8 \left(1 - \frac{2}{p^2} \right) + \left(\frac{2}{p} - p \right)^2$$

$$= 4 - \frac{12}{p^2} + p^2$$

$$\overline{OP}^2 = p^2 \text{이므로 } \overline{PQ} \geq \overline{OP} \text{에서}$$



$$4 - \frac{12}{p^2} + p^2 \geq p^2, \frac{12}{p^2} \leq 4$$

이때, $p^2 \geq 3$ 이므로 자연수 p 의 최솟값은 2이다.

56. 답 ㉓

[해설] 점 P 가 그리는 도형을 구하여 만족하는 점을 찾아보자.

(i) 기울기가 $m \neq 0$ 인 경우

점 P 를 지나는 직선의 방정식은 $y = mx \pm \sqrt{64m^2 + 36}$ 이고 점 P 를 지나고 이 직선과 수직이면서 타원에 접하는 직선의 방정식은

$$y = -\frac{1}{m}x \pm \sqrt{64\left(\frac{1}{m}\right)^2 + 36}$$

이때, $ma - b = \pm \sqrt{64m^2 + 36}$, $a + mb = \pm \sqrt{64 + 36m^2}$

각 변을 제곱하여 두 식을 더하면

$$(m^2 + 1)(a^2 + b^2) = 100(m^2 + 1)$$

(ii) 기울기가 $m = 0$ 인 경우

점 P 는 $(8, \pm 6)$ 또는 $(-8, \pm 6)$ 이다.

(i), (ii)에 의하여 점 P 가 그리는 도형은 원 $x^2 + y^2 = 100$ 이다.

주어진 점 중에서 이 식을 만족하는 점은 $(8, 6)$, $(5, 5\sqrt{3})$, $(\sqrt{35}, \sqrt{65})$ 이다.

따라서 점 P 가 될 수 있는 것은 3개다.

57. 답 ㉔

[해설] $\overline{PF'} + \overline{PF} = 8$ 이므로 $\overline{PF} = x$ 라 하면 $\overline{PF'} = 8 - x$

삼각형 $PF'F$ 는 직각삼각형이므로

$$x^2 + (8 - x)^2 = 6^2$$

$$2x^2 - 16x + 28 = 0$$

$$x^2 - 8x + 14 = 0$$

따라서 삼각형 $PF'F$ 의 넓이는

$$\frac{1}{2} \times x(8 - x) = \frac{1}{2}(8x - x^2) = \frac{1}{2} \times 14 = 7$$

다른 풀이

타원 T 의 방정식은 $\frac{x^2}{16} + \frac{y^2}{7} = 1 \dots \textcircled{1}$

원 C 의 방정식은 $x^2 + y^2 = 9 \dots \textcircled{2}$

$\textcircled{1}$, $\textcircled{2}$ 에서

$$\frac{9 - y^2}{16} + \frac{y^2}{7} = 1, \frac{9}{112}y^2 = \frac{7}{16}, y^2 = \frac{49}{9}$$

$$\therefore y = \pm \frac{7}{3}$$

$$\Delta PFF' = \frac{1}{2} \times 6 \times \frac{7}{3} = 7$$

58. 답 ㉔

타원 $x^2 + 5y^2 = 20$, 즉 $\frac{x^2}{20} + \frac{y^2}{4} = 1$ 의 초점의 좌표는 $c^2 = 20 - 4 = 16$ 에서 $(4, 0)$, $(-4, 0)$ 이므로 점 Q 는 타원의 한 초점이다.

한편, 포물선 $y^2 = 16x = 4 \cdot 4 \cdot x$ 에서 포물선의 초점은 $(4, 0)$ 이고 준선의 방정식은 $x = -4$ 이다.

따라서 점 $(4, 0)$ 을 F 라 하면 포물선의 정의에 의하여

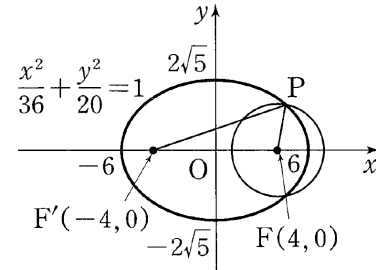
$$\overline{PF} = \overline{PH}$$

또, 타원의 정의에 의하여 $\overline{PQ} + \overline{PH} = \overline{PQ} + \overline{PF} = 2\sqrt{20} = 4\sqrt{5}$

59. 답 ㉔

[해설]

$c^2 = 36 - 20 = 16$ 이므로 타원의 초점은 $F(4, 0)$, $F'(-4, 0)$ 이다.



이 때, 타원의 정의에 의하여

$$\overline{PF} + \overline{PF'} = 2 \times 6 = 12$$

한편, 선분 PF 의 길이는 원의 반지름의 길이 3과 같다.

$$\therefore \overline{PF'} = 12 - \overline{PF} = 12 - 3 = 9$$

60. 답 ㉓

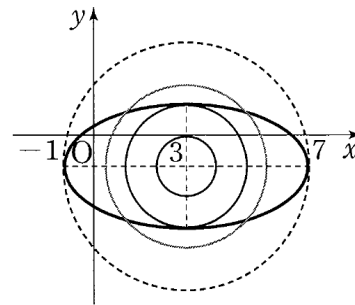
[해설]

$$x^2 - 6x + 4y^2 + 8y - 3 = 0 \text{에서}$$

$$(x - 3)^2 + 4(y + 1)^2 = 16$$

$$\therefore \frac{(x - 3)^2}{4^2} + \frac{(y + 1)^2}{2^2} = 1$$

주어진 이차곡선은 타원 $\frac{x^2}{4^2} + \frac{y^2}{2^2} = 1$ 을 x 축의 방향으로 3만큼, y 축의 방향으로 -1 만큼 평행이동한 것으로 그래프는 다음 그림과 같다.



ㄱ. $a = 1$ 이면 원과 타원은 만나지 않으므로 $f(1) = 0$ 이다. (참)

ㄴ. 원과 타원이 서로 다른 두 점에서 만나려면 a 의 값은 2 또는 4이어야 하므로 $f(a) = 2$ 를 만족하는 a 의 값의 합은 6이다. (참)

ㄷ. 원과 타원이 서로 다른 네 점에서 만나려면 $2 < a < 4$ 이어야 하므로 $f(a) = 4$ 를 만족하는 a 값의 범위는 $2 < a < 4$ 이다. (거짓)

따라서 보기에서 옳은 것은 ㄱ, ㄴ이다.

61. 답 ㉓

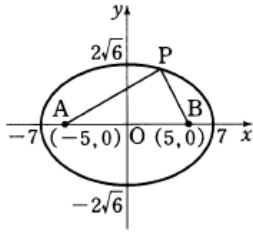
[해설]

타원의 초점의 좌표는 $c^2 = 49 - 24 = 25$ 에서 $(5, 0)$, $(-5, 0)$ 이므로 두 점 A, B 는 타원의 초점이다.

또한, $\overline{PA} + \overline{PB} = 2 \cdot 7 = 14$ 이고 $2 \leq \overline{PA} \leq 12$ 이다.

$$\overline{PA} \cdot \overline{PB} = \overline{PA}(14 - \overline{PA}) = -(\overline{PA} - 7)^2 + 49$$

이므로 최댓값은 $\overline{PA}=7$ 일 때, 49이고,
 최솟값은 $\overline{PA}=2$ 또는 $\overline{PA}=12$ 일 때 24
 이다.
 따라서 최댓값과 최솟값의 합은
 $49 + 24 = 73$



62. 답 16

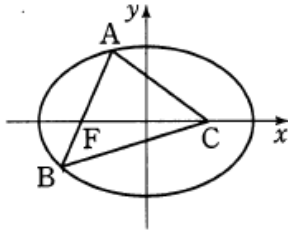
[해설]

타원 $\frac{x^2}{16} + \frac{y^2}{7} = 1$ 에서 $\sqrt{16-7} = 3$

이므로 초점의 좌표가
 $(-3, 0), (3, 0)$ 이다.

$F(-3, 0)$ 이라 하면
 $\overline{AC} + \overline{AF} = 8, \overline{FB} + \overline{BC} = 8$

$$\begin{aligned} \therefore \overline{AB} + \overline{BC} + \overline{CA} &= \overline{AF} + \overline{FB} + \overline{BC} + \overline{CA} \\ &= (\overline{AF} + \overline{CA}) + (\overline{FB} + \overline{BC}) = 8 + 8 = 16 \end{aligned}$$



63. 답 ㉠

[해설] 교점의 좌표를 (x_1, y_1) ($x_1 y_1 \neq 0$) 이라 하면 점선의 방정식은
 각각 $x_1 x + a y_1 y = 1, y_1 y = 4(x + x_1)$
 그런데 두 직선이 서로 수직으로 만나므로 기울기의 곱이 -1 이다.

$$\text{즉, } -\frac{x_1}{a y_1} \cdot \frac{4}{y_1} = -1 \text{ 이므로}$$

$$a y_1^2 = 4 x_1$$

점 (x_1, y_1) 은 포물선 위의 점이므로 $y_1^2 = 8 x_1$

$$\text{따라서 } 8 a x_1 = 4 x_1 \text{ 이므로 } a = \frac{1}{2}$$

64. 답 ㉠

[해설]

원의 반지름의 길이를 r 라 하면 삼각형 $AF'F$ 의 넓이는

$$\frac{1}{2} \cdot 2r \cdot r = r^2 = 9 \quad \therefore r = 3$$

타원의 장축의 길이가 8 이므로

$$\overline{BF} + \overline{BF'} = 8 \dots\dots \textcircled{1}$$

선분 FF' 이 원의 지름이므로 $\angle FBF' = 90^\circ$

또, $F(3, 0), F'(-3, 0)$ 이므로 $\overline{FF'} = 6$

삼각형 $BF'F$ 에서 피타고라스의 정리에 의하여

$$\overline{BF}^2 + \overline{BF'}^2 = \overline{FF'}^2 = 36 \dots\dots \textcircled{2}$$

㉠, ㉡에서

$$\overline{BF}^2 + \overline{BF'}^2 = (\overline{BF} + \overline{BF'})^2 - 2 \cdot \overline{BF} \cdot \overline{BF'}$$

이므로 $36 = 64 - 2\overline{BF} \cdot \overline{BF'}$ 에서

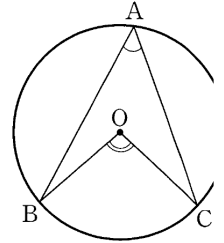
$$\overline{BF} \cdot \overline{BF'} = 7$$

참고

원주각과 중심각의 관계

원의 중심을 O 라 할 때, 호 BC 에 대한 원주각의 크기는 중심각의 크기의

$\frac{1}{2}$ 이다. 즉, $\angle BAC = \frac{1}{2} \angle BOC$



65. 답 ㉡

[해설]

타원 $\frac{x^2}{16} + \frac{y^2}{9} = 1$ 에 접하고 기울기가 1인 점선의 방정식은

$$y = x \pm \sqrt{16+9} = x \pm 5$$

그런데 점선이 원과 접하므로 직선 l 의 방정식은

$$y = x + 5$$

직선 l 에 접하면서 타원 위의 점 $A(0, 3)$ 에 외접하는 원의 중심의 좌표를
 $C(0, a)$ 라 하면 중심 C 에서 직선 l 까지의 거리는 중심 C 에서 점 A 까지의
 거리와 같다.

$$\text{즉, } \frac{|-a+5|}{\sqrt{1^2+(-1)^2}} = a-3 \text{ 이므로 양변을 제곱하여 정리하면}$$

$$a^2 - 2a - 7 = 0$$

$$\therefore a = 1 + 2\sqrt{2} \quad (\because a > 0)$$

따라서 구하는 원의 반지름의 길이는

$$a - 3 = 2\sqrt{2} - 2$$

66. 답 ㉢

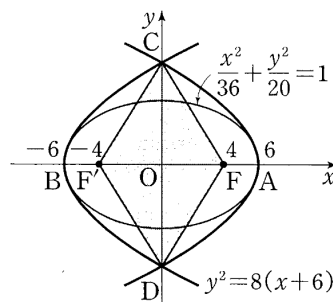
[해설] 포물선과 타원 - 내적문제해결능력

타원 $\frac{x^2}{36} + \frac{y^2}{20} = 1$ 의 초점의 좌표는 $F(4, 0), F'(-4, 0)$ 이고 x 축과 만나
 는 두 점의 좌표는 $A(6, 0), B(-6, 0)$ 이다.

이 때, 점 F' 이 초점이고 점 B 가 꼭짓점인 포물선은 초점이 $(2, 0)$ 이고 원점을
 지나는 포물선을 x 축의 방향으로 -6 만큼 평행이동한 것이므로

$$y^2 = 8x \text{ 에서}$$

$$y^2 = 8(x+6)$$



점 F 가 초점이고 점 A 가 꼭짓점인 포물선은 점 F' 이 초점이고 점 B 가 꼭짓
 점인 포물선과 y 축에 대하여 대칭이므로 두 포물선의 교점의 좌표는 y 축
 위에 존재한다.

$x = 0$ 일 때, $y^2 = 48$ 이므로

$$y = \pm 4\sqrt{3}$$

따라서 $C(0, 4\sqrt{3}), D(0, -4\sqrt{3})$ 이므로 사각형 $CF'DF$ 의 넓이는

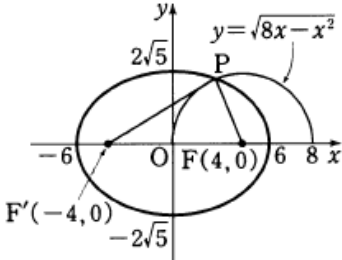
$$4 \times \frac{1}{2} \times 4 \times 4\sqrt{3} = 32\sqrt{3}$$

67. 답 ④

[해설]

타원 $\frac{x^2}{36} + \frac{y^2}{20} = 1$ 의 두 초점 F, F' 의 좌표를 각각 $(c, 0), (-c, 0)$

$(c > 0)$ 이라 하면 $c = \sqrt{36 - 20} = 4$
 $\therefore F(4, 0), F'(-4, 0)$



타원 $\frac{x^2}{36} + \frac{y^2}{20} = 1$ 에서 장축의 길이가 12이므로

$$\overline{PF} + \overline{PF'} = 12$$

또한, $y = \sqrt{8x - x^2} \Leftrightarrow x^2 + y^2 - 8x = 0 \quad (y \geq 0)$

$$\Leftrightarrow (x - 4)^2 + y^2 = 4^2 \quad (y \geq 0)$$

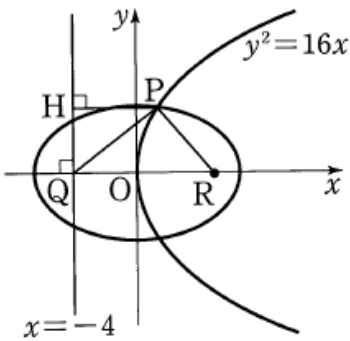
이고, \overline{PF} 의 길이는 반원의 반지름의 길이 4이므로

$$\overline{PF'} = 12 - \overline{PF} = 8$$

$$\therefore \overline{PF} \cdot \overline{PF'} = 4 \cdot 8 = 32$$

68. 답 80

[해설] 타원 $\frac{x^2}{20} + \frac{y^2}{4} = 1$ 의 초점의 좌표는 $c^2 = 20 - 4 = 16$ 에서 $(4, 0), (-4, 0)$ 이므로 점 Q 는 타원의 한 초점이다.



한편, $y^2 = 4 \cdot 4 \cdot x$ 에서 포물선의 초점은 $(4, 0)$ 이고, 준선의 방정식은 $x = -4$ 이다.

따라서 점 $(4, 0)$ 을 R 라 하면 포물선의 정의에 의하여

$$\overline{PR} = \overline{PH}$$

또, 타원에서 $\overline{PQ} + \overline{PR} = 2\sqrt{20} = 4\sqrt{5}$ 이므로

$$\overline{PQ} + \overline{PH} = \overline{PQ} + \overline{PR} = 4\sqrt{5}$$

$$\therefore (\overline{PQ} + \overline{PH})^2 = 80$$

69. 답 68

[해설] 타원의 초점을 $F(c, 0), F'(-c, 0)$ 이라 하면

$\triangle AA'P = 3\triangle FQF'$ 에서

$$2a = 3 \cdot 2c$$

$$\therefore a = 3c \quad \text{--- ㉠}$$

또, 삼각형 FQF' 의 둘레의 길이가 16이므로

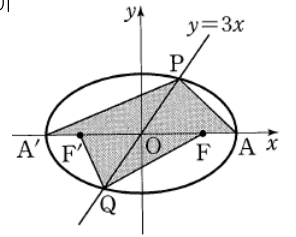
$$\overline{QF} + \overline{QF'} + \overline{FF'} = 2a + 2c = 16$$

$$\therefore a + c = 8 \quad \text{--- ㉡}$$

$$\text{㉠, ㉡에서 } a = 6, c = 2$$

그런데 $c^2 = a^2 - b^2$ 이므로 $b^2 = 32$

$$\therefore a^2 + b^2 = 36 + 32 = 68$$



70. 답 ㉢

[해설]

삼각형 FPF' 에서 $\overline{OF} = \overline{OF'}$ 이고

$$\overline{PQ} = \overline{FQ}$$
이므로

$$\overline{OQ} = \frac{1}{2}\overline{PF} = 6$$

$$\therefore \overline{PF} = 12$$

또, 타원의 정의로부터 $\overline{PF} + \overline{PF'} = (\text{장축의 길이})$ 이고

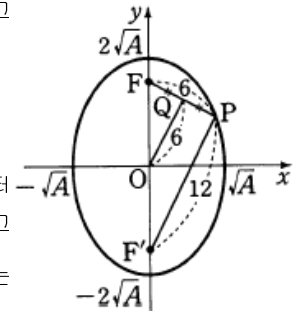
$$\frac{x^2}{A} + \frac{y^2}{4A} = 1$$
에서 장축의 길이는

$$2 \times \sqrt{4A} \text{이다.}$$

$$\therefore 2 \times \sqrt{4A} = 18, \quad \sqrt{A} = \frac{9}{2}$$

$$\therefore 2 \times \sqrt{4A} = 18, \quad \sqrt{A} = \frac{9}{2}$$

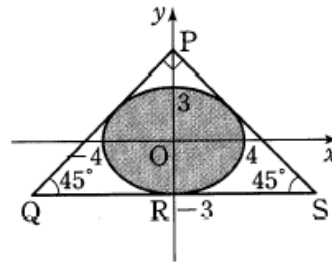
따라서 주어진 타원의 단축의 길이는 $2\sqrt{A} = 9$ 이다.



71. 답 64

[해설]

타원의 중심을 원점으로, 장축과 단축을 각각 x 축, y 축 위에 놓으면 다음 그림과 같다.



이 때 타원의 방정식은 $\frac{x^2}{4^2} + \frac{y^2}{3^2} = 1$ 이다.

$\angle PQR = \angle PSR = 45^\circ$ 이므로 직선 PQ 와 직선 PS 의 기울기는 각각 1, -1이다.

즉, 기울기가 1인 타원의 접선 중 위쪽에 있는 방정식은

$$y = x + \sqrt{4^2 \cdot 1^2 + 3^2} = x + 5 \quad \text{--- ㉠}$$

이므로 점 P 의 좌표는 $(0, 5)$ 이다.

또한, 직선 $y = x + 5$ 와 직선 $y = -3$ 의 교점의 좌표는 $(-8, -3)$ 이다.

따라서 구하는 직각이등변삼각형의 넓이 S 는

$$S = \frac{1}{2} \times \overline{QS} \times \overline{PR} = \frac{1}{2} \times 16 \times 8 = 64$$

72. 답 ㉤

[해설] 타원 $\frac{x^2}{15^2} + \frac{y^2}{9^2} = 1$ 의 장축의 길이는 $2 \times 15 = 30$ 이다.

또, 두 초점의 좌표는 $c^2 = 15^2 - 9^2 = 12^2$ 에서 $F(-12, 0), F'(12, 0)$ 이므로 두 점 H_4, H_{28} 은 이 타원의 초점이다.

이때, $\overline{H_4P_4} = \overline{H_{28}P_{28}}, \overline{H_4P_5} = \overline{H_{28}P_{27}}, \dots, \overline{H_4P_{15}} = \overline{H_{28}P_{17}}$ 이므로

$$\begin{aligned} \sum_{k=4}^{28} \overline{H_4P_k} &= (\overline{H_4P_4} + \overline{H_4P_{28}}) + (\overline{H_4P_5} + \overline{H_4P_{27}}) + \dots \\ &+ (\overline{H_4P_{15}} + \overline{H_4P_{17}}) + \overline{H_4P_{16}} \\ &= (\overline{H_{28}P_{28}} + \overline{H_4P_{28}}) + (\overline{H_{28}P_{27}} + \overline{H_4P_{27}}) + \dots \\ &+ (\overline{H_{28}P_{17}} + \overline{H_4P_{17}}) + \overline{H_4P_{16}} \\ &= 30 \times 12 + 15 = 375 \end{aligned}$$

73. 답 ④

[해설] $\overline{F'Q} = 6$ 이고 장축의 길이가 10이므로

$$\overline{FQ} = 4$$

$\angle QF'F = \theta$ 라 하면 삼각형 $QF'F$ 에서

$$\cos \theta = \frac{6^2 + 6^2 - 4^2}{2 \times 6 \times 6} = \frac{7}{9}$$

그런데 $\frac{b}{a+3} = \tan \theta$ 이므로

$$\tan^2 \theta = \left(\frac{9}{2}\right)^2 - 1 = \frac{32}{49}$$

$$\therefore \left(\frac{b}{a+3}\right)^2 = \frac{32}{49}$$

74. 답 ①

[해설] $t = \overline{OP}^2 = x_1^2 + y_1^2$ 이고 $\frac{x_1^2}{2} + y_1^2 = 1$ 이므로

$$x_1^2 = 2(t-1), y_1^2 = 2-t$$

접선의 방정식은 $\frac{x_1x}{2} + y_1y = 1$ 이므로 원점에서 접선까지의 거리는

$$\frac{1}{\sqrt{\frac{x_1^2}{4} + y_1^2}} = \frac{2}{\sqrt{x_1^2 + 4y_1^2}} = \frac{2}{\sqrt{2(t-1) + 4(2-t)}} = \frac{2}{\sqrt{6-2t}}$$

따라서 피타고라스의 정의에 의하여

$$\overline{PQ}^2 = t - \frac{4}{6-2t} = t + \frac{2}{t-3}$$

$$\therefore S^2 = \frac{1}{4} \times \left(t + \frac{2}{t-3}\right) \times \frac{2}{3-t} = \frac{-t^2 + 3t - 2}{2(t-3)^2}$$

75. 답 ④

[해설] 오른쪽 그림에서

$P(x_1, y_1), Q(x, y)$ 로 놓으면

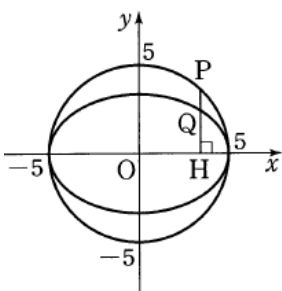
$$x_1^2 + y_1^2 = 25 \dots \textcircled{1}$$

$$x = x_1, y = \frac{3}{5}y_1 \dots \textcircled{2}$$

②을 ①에 대입하여 x_1, y_1 을 소거하면

$$x^2 + \left(\frac{5}{3}y\right)^2 = 25,$$

$$9x^2 + 25y^2 = 9 \cdot 25$$



$$\therefore \frac{x^2}{25} + \frac{y^2}{9} = 1 \quad (y \neq 0)$$

76. 답 ④

[해설] 두 점 P, Q 는 타원 위의 점이므로 $P(\alpha, \beta), Q(-\alpha, -\beta)$ 라고 하면

$$\frac{\alpha^2}{10} + \frac{\beta^2}{6} = 1 \dots \textcircled{1}$$

$\triangle PQR$ 는 정삼각형이고 점 O 는 선분 PQ 의 중점이므로

$$\angle POR = \frac{\pi}{2}, \overline{OR} = \sqrt{3} \cdot \overline{OP}$$

이때, 점 $R(x, y)$ 라 하면

$$x = \pm \sqrt{3}\beta, y = \mp \sqrt{3}\alpha \text{ (복부호동순)}$$

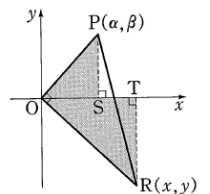
$$\beta = \pm \frac{x}{\sqrt{3}}, \alpha = \mp \frac{y}{\sqrt{3}} \text{ 를 } \textcircled{1} \text{에 대입하면}$$

$$\frac{1}{10} \left(\mp \frac{y}{\sqrt{3}}\right)^2 + \frac{1}{6} \left(\pm \frac{x}{\sqrt{3}}\right)^2 = 1$$

따라서 구하는 타원의 방정식은 $\frac{x^2}{18} + \frac{y^2}{30} = 1$ 이므로 초점의 좌표는 $(0, \pm 2\sqrt{3})$ 이다.

참고

오른쪽 그림에서 두 삼각형 OPS 와 ROT 는 닮은 도형이고 그 길이의 비가 $1 : \sqrt{3}$ 이므로 $x = \sqrt{3}\beta, y = -\sqrt{3}\alpha$ 이다.



77. 답 ③

[해설] 점 $P(a, b)$ 에서 x 축에 내린 수선의 발 H 의 좌표는 $H(a, 0)$ 이다. 그런데 점 Q 는 \overline{PH} 를 $1 : 4$ 로 내분하는 점이므로 점 Q 의 좌표는 $(a, \frac{4}{5}b)$ 이다.

그러므로 $x = a, y = \frac{4}{5}b$ 로 놓으면 $a^2 + b^2 = 25$ 에서

$$x^2 + \frac{25}{16}y^2 = 25$$

즉, 도형 S 는 타원이다.

따라서 이 도형을 x 축의 둘레로 회전시킬 때 생기는 입체의 부피는

$$\pi \int_{-5}^5 \left(16 - \frac{16}{25}x^2\right) dx = 2\pi \int_0^5 \left(16 - \frac{16}{25}x^2\right) dx$$

$$= 2\pi \left[16x - \frac{16}{75}x^3\right]_0^5 = \frac{320}{3}\pi$$

78. 답 ③

[해설]

쌍곡선 위의 점을 $P(x, y)$ 라 하고 점 P 에서 직선 $x = \frac{9}{4}$ 에 내린 수선의

발을 H 라 하면 $3\overline{PF} = 4\overline{PH}$ 이므로

$$3\sqrt{(x-4)^2 + y^2} = |4x-9|$$

위의 식의 양변을 제곱하여 정리하면

9. 타원과 쌍곡선

$$7x^2 - 9y^2 = 63$$

$$\therefore \frac{x^2}{9} - \frac{y^2}{7} = 1 \quad \dots\dots \textcircled{1}$$

ㄱ. 점근선의 방정식은

$$y = \pm \frac{\sqrt{7}}{3}x \text{이다. (참)}$$

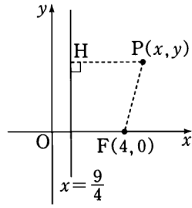
ㄴ. 두 점 (3, 0), (-3, 0)을 잇는 선분이 주축이므로 주축의 길이는 6이다. (거짓)

ㄷ. ㉑에 (4, a)를 대입하면 $a^2 = \frac{49}{9}$, $a = \pm \frac{7}{3}$

구하는 거리를 d라 하면 두 점 (4, 0), (-4, 0)이 쌍곡선의 초점이므로 쌍곡선의 정의에 의하여

$$d - \frac{7}{3} = 6 \quad \therefore d = \frac{25}{3} \text{(참)}$$

따라서 보기 중 옳은 것은 ㄱ, ㄷ이다.



79. 답 304

[해설] 쌍곡선 - 내적문제해결능력

두 점 A(-6, 0), B(6, 0) 으로부터 거리의 차가 8인 곡선의 방정식을

$$\frac{x^2}{a^2} - \frac{y^2}{b^2} = 1 \quad (a > 0, b > 0)$$

이라 하면 $a^2 + b^2 = 6^2$, $2a = 8$ 이므로

$$a = 4, b = 2\sqrt{5}$$

즉, 쌍곡선의 방정식은

$$\frac{x^2}{16} - \frac{y^2}{20} = 1$$

점 C의 좌표를 (0, k)라 하면 점 C가 선분 AP를 1:2로 내분하는 점이므로

$$C\left(\frac{1 \cdot p + 2 \cdot (-6)}{1+2}, \frac{1 \cdot q + 2 \cdot 0}{1+2}\right)$$

즉, $\frac{p-12}{3} = 0, \frac{q}{3} = k$ 이므로

$$p = 12, q = 3k$$

$$\therefore P(12, 3k)$$

점 P는 쌍곡선 위의 점이므로

$$\frac{144}{16} - \frac{9k^2}{20} = 1, k^2 = \frac{160}{9}$$

$$\therefore k = \frac{4\sqrt{10}}{3}$$

따라서 P(12, $4\sqrt{10}$)이므로

$$p^2 + q^2 = 144 + 160 = 304$$

80. 답 ㉑

[해설]

$\triangle ABP$ 에서 제인코사인법칙에 의하여

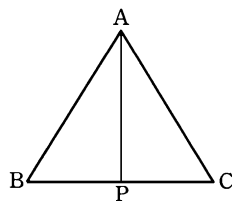
$$\overline{AP}^2 = \overline{AB}^2 + \overline{BP}^2 - 2 \cdot \overline{AB} \cdot \overline{BP} \cos 60^\circ$$

$$\{f(x)\}^2 = 1 + (x-1)^2$$

$$- 2 \cdot (x-1) \cdot \frac{1}{2}$$

$$= x^2 - 3x + 3$$

$f(x) = y$ 로 놓으면 $y^2 = x^2 - 3x + 3$



$$\left(x - \frac{3}{2}\right)^2 - y^2 = -\frac{3}{4} \quad (1 \leq x \leq 2)$$

따라서 쌍곡선의 일부가 된다.

81. 답 ㉑

[해설]

오른쪽 그림과 같이 원 P의 반지름의 길이를 γ 라하면

원 P가 원 A와 외접하고 원 B와 내접할 때,

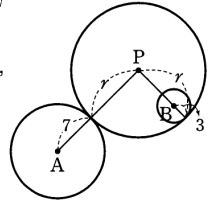
$$\overline{PA} = \gamma + 7, \overline{PB} = \gamma - 3 \quad \dots\dots \textcircled{1}$$

원 P가 원 A와 내접하고 원 B와 외접할 때

$$\overline{PA} = \gamma - 7, \overline{PB} = \gamma + 3 \quad \dots\dots \textcircled{2}$$

㉑, ㉒에서 $|\overline{PA} - \overline{PB}| = 10$ 이므로 점 P는

두 점 A, B를 초점으로 하고 주축의 길이가 10인 쌍곡선이다.



82. 답 ㉓

[해설]

두 점 P, Q는 각각 직선

$y = 2x$ 와 $y = -2x$ 위의 점이므로

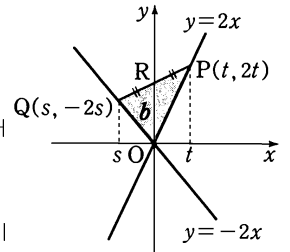
$P(t, 2t), Q(s, -2s)$ 라고 하자.

삼각형 OPQ의 넓이는 점 P와 점 Q에서

x축 또는 y축에 수선의 발을 내려

사다리꼴을 만들어서 구한다.

오른쪽 그림에서는 s, t의 부호가 반대이므로



$$\triangle OPQ = \frac{1}{2}(-2s + 2t)(t - s)$$

$$= -\left\{\frac{1}{2} \times (-s) \times (-2s) + \frac{1}{2} \times t \times 2t\right\}$$

$$= -2st$$

$$12 = \triangle OPQ = -2st, st = -6$$

선분 PQ의 중점을 $R(x, y)$

$$R(x, y) = \left(\frac{s+t}{2}, \frac{-2s+2t}{2}\right) = \left(\frac{s+t}{2}, -s+t\right)$$

$$\frac{s+t}{2} = x, -s+t = y \text{이므로}$$

$$s = x - \frac{y}{2}, t = x + \frac{y}{2}$$

따라서 $st = -6$ 이므로 $x^2 - \frac{y^2}{4} = -6$

$$\therefore \frac{x^2}{6} - \frac{y^2}{24} = -1$$

83. 답 6

[해설]

점 P가 나타내는 도형은 두 점 F, F'을 초점으로 하는 쌍곡선이므로

$$|\overline{PF} - \overline{PF'}| = 2a = 4$$

$$\therefore a = 2$$

초점이 $F(\sqrt{6}, 0), F'(-\sqrt{6}, 0)$ 이므로

$$(\sqrt{6})^2 = a^2 + b^2 \text{에서 } b^2 = 6 - 4 = 2$$

$$\therefore a^2 + b^2 = 4 + 2 = 6$$

84. 답 22

[해설]

쌍곡선 $\frac{x^2}{4} - \frac{y^2}{6} = 1$ 에서 $\frac{x^2}{2^2} - \frac{y^2}{(\sqrt{6})^2} = 1$ 이므로 두 꼭짓점의 좌표는

$(2, 0), (-2, 0)$ 이다.

$\therefore a = 4$

한편, 점근선의 방정식은 $y = \pm \frac{\sqrt{6}}{2}x$ 이므로 기울기가 양인 점근선의 방정

식은 $y = \frac{\sqrt{6}}{2}x$ 이다.

$\therefore b = \sqrt{6}$

$\therefore a^2 + b^2 = 4^2 + (\sqrt{6})^2 = 22$

85. 답 ④

[해설]

타원 $\frac{x^2}{6} + \frac{y^2}{15} = 1$ 의 두 초점의 좌표는 $(0, 3), (0, -3)$ 이다.

따라서 쌍곡선 $\frac{x^2}{a^2} - \frac{y^2}{b^2} = -1$ 에서

$a^2 + b^2 = 9, 2b = 4$ 이므로

$b = 2, a = \sqrt{5}$

$\therefore \frac{x^2}{5} - \frac{y^2}{4} = -1$

86. 답 75

[해설]

쌍곡선 $\frac{x^2}{4} - \frac{y^2}{8} = 1$ 의 두 초점의 좌표는 $F(2\sqrt{3}, 0), F'(-2\sqrt{3}, 0)$ 이다.

쌍곡선의 정의에 의하여 $\overline{PF'} - \overline{PF} = 4$ 이므로

$8 - \overline{PF} = 4 \therefore \overline{PF} = 4$

또, $\overline{FF'} = 4\sqrt{3}$ 이므로 $\triangle PF'F$ 에서 제이코사인법칙에 의하여

$$\cos \theta = \frac{4^2 + 8^2 - (4\sqrt{3})^2}{2 \cdot 4 \cdot 8} = \frac{1}{2}$$

$$\therefore \sin^2 \theta = 1 - \cos^2 \theta = 1 - \frac{1}{4} = \frac{3}{4}$$

$$\therefore 100 \sin^2 \theta = 100 \times \frac{3}{4} = 75$$

87. 답 ⑤

[해설]

오른쪽 그림에서 타원과 쌍곡선의 정의에 의하여

$$\overline{PF'} + \overline{PF} = 10$$

$$\overline{PF'} - \overline{PF} = 2$$

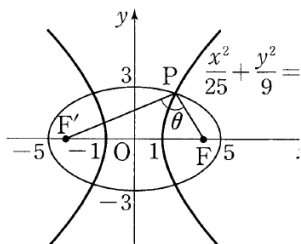
두 식을 연립하여 풀면

$$\overline{PF'} = 6, \overline{PF} = 4$$

한편, $F(c, 0), F'(-c, 0) (c > 0)$ 이라 하면

$$c = \sqrt{25 - 9} = 4$$

$$\therefore \overline{FF'} = 8$$



따라서 $\triangle PF'F$ 에서 제이코사인법칙에 의하여

$$\cos \theta = \frac{6^2 + 4^2 - 8^2}{2 \cdot 6 \cdot 4} = -\frac{1}{4}$$

88. 답 ①

타원의 방정식에서 초점이 x 축 위에 있으므로 쌍곡선의 방정식을

$\frac{x^2}{a^2} - \frac{y^2}{b^2} = 1 (a > 0, b > 0)$ 이라 하면 주축의 길이는 $2a$ 이고, 한 점근선의

방정식이 $y = \sqrt{3}x$ 이므로

$$\frac{b}{a} = \sqrt{3} \dots \dots \textcircled{1}$$

또한, 타원과 쌍곡선의 초점이 같으므로

$$a^2 + b^2 = 36 - 16 = 20 \dots \dots \textcircled{2}$$

①에서 $b = \sqrt{3}a$ 를 ②에 대입하면

$$a^2 + 3a^2 = 20 \therefore a = \sqrt{5}$$

따라서 이 쌍곡선의 두 꼭짓점 사이의 길이는

$$2a = 2\sqrt{5}$$

89. 답 ⑤

[해설]

$|\overline{PF} - \overline{PF'}| = 8$ 이므로

$$2a = 8 \therefore a = 4$$

또, 점근선의 방정식이 $y = \pm \sqrt{3}x$ 이므로

$$\frac{b}{a} = \sqrt{3} \therefore b = \sqrt{3}a = 4\sqrt{3}$$

이 때, 두 초점의 좌표를 $F(c, 0), F'(-c, 0) (c > 0)$ 이라 하면

$$c^2 = a^2 + b^2 = 16 + 48 = 64$$

$$\therefore c = 8$$

이 때, 두 초점 사이의 거리는

$$2c = 16$$

90. 답 ④

[해설] 쌍곡선 - 이해능력

쌍곡선 $5x^2 - 4y^2 = 20$ 의 두 꼭짓점의 좌표는 각각 $A(-2, 0), B(2, 0)$ 이고, 점 P 의 좌표를 (a, b) 라 하면 점 Q 의 좌표는 $(a, 0)$ 이다.

$$\therefore \overline{PQ} = b, \overline{AQ} = a + 2, \overline{BQ} = a - 2$$

이 때, 점 $P(a, b)$ 는 쌍곡선 위의 점이므로

$$5a^2 - 4b^2 = 20$$

$$\therefore \overline{AQ} \cdot \overline{BQ} = (a + 2)(a - 2) = a^2 - 4$$

$$= \frac{1}{5}(4b^2 + 20) - 4 = \frac{4}{5}b^2$$

$$\therefore \frac{\overline{AQ} \cdot \overline{BQ}}{\overline{PQ}^2} = \frac{\frac{4}{5}b^2}{b^2} = \frac{4}{5}$$

91. 답 8

[해설] 점 $P(4, -2)$ 가 제4사분면에서 점근선 $y = -\frac{1}{2\sqrt{2}}x$ 의 아랫부

분에 있으므로 쌍곡선의 방정식을 $\frac{x^2}{a^2} - \frac{y^2}{b^2} = -1$ 로 놓을 수 있다.

$$\frac{b}{a} = \frac{1}{2\sqrt{2}} \text{에서 } a = 2\sqrt{2}b$$

$$\text{또, 점 } P(4, -2) \text{를 대입하면 } \frac{4^2}{(2\sqrt{2}b)^2} - \frac{(-2)^2}{b^2} = -1 \text{에서}$$

$$a^2 = 16, b^2 = 2$$

따라서 구하는 쌍곡선의 방정식은 $\frac{x^2}{16} - \frac{y^2}{2} = -1$ 이므로

$$\text{주축의 길이 } l \text{은 } l = 2\sqrt{2} \quad \therefore l^2 = 8$$

다른 풀이

두 점근선이 $\frac{1}{2\sqrt{2}}x + y = 0, \frac{1}{2\sqrt{2}}x - y = 0$ 이므로 쌍곡선의 방정식

$$\text{은 } \left(\frac{1}{2\sqrt{2}}x + y\right)\left(\frac{1}{2\sqrt{2}}x - y\right) = k$$

$$\therefore \frac{1}{8}x^2 - y^2 = k$$

이 쌍곡선이 점 $(4, -2)$ 를 지나므로

$$\frac{1}{8} \cdot 4^2 - (-2)^2 = k \quad \therefore k = -2$$

따라서 구하는 쌍곡선의 방정식은 $\frac{x^2}{8} - y^2 = -2$, 즉

$$\frac{x^2}{16} - \frac{y^2}{2} = -1 \text{이므로 주축의 길이 } l \text{은 } l = 2\sqrt{2} \quad \therefore l^2 = 8$$

92. 답 ㉓

[해설] 쌍곡선 $\frac{x^2}{16} - \frac{y^2}{20} = 1$ 의 두 초점 F, F' 의 좌표는

$$F(6, 0), F'(-6, 0)$$

$$\therefore \overline{FF'} = 2 \times 6 = 12$$

$\overline{PF} : \overline{PF'} = 2 : 1$ 에서

$\overline{PF} = 2k, \overline{PF'} = k (k > 0)$ 라 하면

쌍곡선의 정의에 의하여

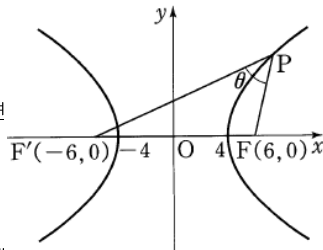
$$\overline{PF'} - \overline{PF} = k = 2a = 8$$

$$\therefore k = 8, \overline{PF'} = 16, \overline{PF} = 8$$

따라서 한 점 P 와 두 초점 F, F' 에

대하여 $\angle F'PF = \theta$ 이므로 제이코사인법칙에 의하여

$$\cos\theta = \frac{16^2 + 8^2 - 12^2}{2 \cdot 16 \cdot 8} = \frac{11}{16}$$



93. 답 ㉑

[해설]

쌍곡선 $9x^2 - 4y^2 - 16y - 52 = 0$ 에서

$$9x^2 - 4(y+2)^2 = 36$$

$$\therefore \frac{x^2}{4} - \frac{(y+2)^2}{9} = 1 \quad \dots\dots \textcircled{1}$$

한편, 쌍곡선 $\frac{x^2}{4} - \frac{y^2}{9} = 1 \quad \dots\dots \textcircled{2}$ 에서

$c = \sqrt{4+9} = \sqrt{13}$ 이므로 쌍곡선의 두 초점의 좌표는 $(\sqrt{13}, 0), (-\sqrt{13}, 0)$ 이다.

그런데 쌍곡선 ㉑은 쌍곡선 ㉒을 y 축의 방향으로 -2 만큼 평행이동한 것이므로 구하는 두 초점의 좌표는 $(\sqrt{13}, -2), (-\sqrt{13}, -2)$ 이다.

$$\therefore a+b = \sqrt{13}-2, c+d = -\sqrt{13}-2$$

따라서 두 실수 $\sqrt{13}-2, -\sqrt{13}-2$ 를 두 근으로 하는 이차방정식은 $x^2 - \{(\sqrt{13}-2) + (-\sqrt{13}-2)\}x$

$$+ (\sqrt{13}-2)(-\sqrt{13}-2) = 0$$

$$\therefore x^2 + 4x - 9 = 0$$

94. 답 ㉒

[해설]

쌍곡선의 방정식을 $\frac{x^2}{a^2} - \frac{y^2}{b^2} = 1 (a > 0, b > 0)$ 로 놓으면 점근선의 방정

식이 $y = \pm \sqrt{2}x$ 이므로 $\frac{b}{a} = \sqrt{2}$

또한, 주축의 길이가 6이므로 $2a = 6$

$$\therefore a = 3, b = 3\sqrt{2}$$

따라서 조건을 만족하는 쌍곡선의 방정식은 $\frac{x^2}{9} - \frac{y^2}{18} = 1$

이고, 이 쌍곡선의 두 초점 F', F 의 좌표는

각각 $(-3\sqrt{3}, 0),$

$(3\sqrt{3}, 0)$ 이다.

점 O 는 선분 $F'F$ 의 중점이므로

삼각형 FPF' 에서 중선의 정리를

이용하면

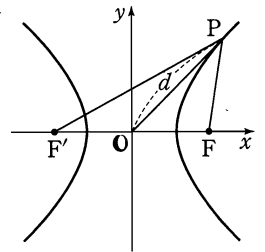
$$\begin{aligned} \overline{PF'}^2 + \overline{PF}^2 \\ = 2\{(3\sqrt{3})^2 + d^2\} \end{aligned}$$

그런데

$$\begin{aligned} \overline{PF'}^2 + \overline{PF}^2 \\ = (\overline{PF'} - \overline{PF})^2 + 2\overline{PF'} \cdot \overline{PF} \end{aligned}$$

이고, $|\overline{PF'} - \overline{PF}| = 6$ 이므로

$$\begin{aligned} 54 + 2d^2 = 36 + 2\overline{PF'} \cdot \overline{PF} \\ \therefore \overline{PF'} \cdot \overline{PF} = 9 + d^2 \end{aligned}$$



95. 답 ㉔

[해설]

쌍곡선 $x^2 - y^2 = a$ 위의 점 (x_1, y_1) 에서의 접선의 방정식은

$$x_1x - y_1y = a$$

초점의 좌표는 $c = \sqrt{a+a} = \sqrt{2a}$ 에서

$F(\sqrt{2a}, 0), F'(-\sqrt{2a}, 0)$ 이므로

$$\overline{FP} = \frac{|\sqrt{2a} \cdot x_1 - a|}{\sqrt{x_1^2 + y_1^2}}, \overline{F'Q} = \frac{|-\sqrt{2a} \cdot x_1 - a|}{\sqrt{x_1^2 + y_1^2}}$$

한편, 점 (x_1, y_1) 이 쌍곡선 위의 점이므로

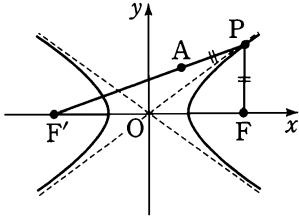
$$x_1^2 - y_1^2 = a$$

$$\begin{aligned} \therefore \overline{FP} \cdot \overline{F'Q} &= \frac{|-2ax_1^2 + a^2|}{x_1^2 + y_1^2} \\ &= \frac{a|-2x_1^2 + a|}{2x_1^2 - a} = a \end{aligned}$$

96. 답 ㉕

[해설]

9. 타원과 쌍곡선



ㄱ. 쌍곡선 $\frac{x^2}{a^2} - \frac{y^2}{b^2} = 1$ 의 점근선의 방정식은 $y = \pm \frac{b}{a}x$ 이다. (참)

ㄴ. $\overline{PF'} - \overline{PF} = \overline{PF'} - \overline{PA} = \overline{AF'} = 2a$ (참)

ㄷ. 오른쪽 그림과 같이 점 A가 y축 위에 있다고 하자.

삼각형 AF'O에서

$$\overline{AF'} = 2a, \overline{F'O} = \sqrt{a^2 + b^2}$$

이므로

$$\overline{AO} = \sqrt{3a^2 - b^2}$$

이때, 직선 AF'의 기울기는

$$\frac{\sqrt{3a^2 - b^2}}{\sqrt{a^2 + b^2}} \text{ 이고}$$

점근선의 기울기 $\frac{b}{a}$ 보다 작아야 한다.

$$\frac{\sqrt{3a^2 - b^2}}{\sqrt{a^2 + b^2}} < \frac{b}{a} \text{ 에서 양변을 제곱하면}$$

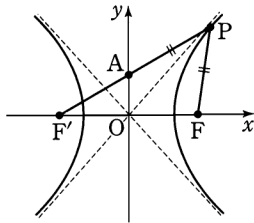
$$\frac{3a^2 - b^2}{a^2 + b^2} < \frac{b^2}{a^2}$$

$$\frac{3a^2 - b^2}{a^2 + b^2} - \frac{b^2}{a^2} < 0, \frac{(3a^2 - b^2)a^2 - (a^2 + b^2)b^2}{(a^2 + b^2)a^2} < 0$$

$$\frac{(3a^2 + b^2)(a^2 - b^2)}{(a^2 + b^2)a^2} < 0$$

$$\therefore a < b \text{ (참)}$$

따라서 보기 중 옳은 것은 ㄱ, ㄴ, ㄷ이다.



$$\therefore \frac{x^2}{2} - \frac{(y-2)^2}{4} = -1$$

즉, 쌍곡선 $\frac{x^2}{2} - \frac{y^2}{4} = -1$ 을 y축의 방향으로 2만큼 평행이동한 것이다.

ㄱ. 쌍곡선 $\frac{x^2}{2} - \frac{y^2}{4} = -1$ 의 점근선의 방정식은 $y = \pm \sqrt{2}x$ 이므로 주어진

쌍곡선의 점근선의 방정식은 $y = \pm \sqrt{2}x + 2$ 이다. (참)

ㄴ. 직선 $y = \sqrt{2}x$ 은 이 쌍곡선의 점근선과 평행하므로 쌍곡선과의 교점의 개수는 1개다. (거짓)

ㄷ. 점 (0, 2)를 지나고 기울기

가 m인 직선이 이 쌍곡선과 $y = -\sqrt{2}x + 2$

만나지 않으려면

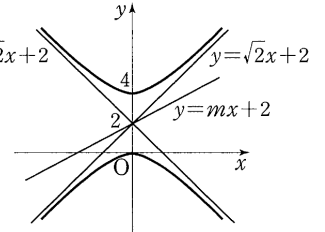
$$-\sqrt{2} \leq m \leq \sqrt{2} \text{ 이 어야}$$

하므로 정수 m은 -1, 0, 1

의 3개이다. (참)

따라서 보기에서 옳은 것은 ㄱ,

ㄷ이다.



참고

쌍곡선 $\frac{x^2}{a^2} - \frac{y^2}{b^2} = 1$ 을 x축의 방향으로 m만큼, y축의 방향으로 n만큼 평행

이동한 쌍곡선의 방정식은

$$\frac{(x-m)^2}{a^2} - \frac{(y-n)^2}{b^2} = 1$$

이다. 이 때, 초점은 $(\sqrt{a^2 + b^2} + m, n)$, $(-\sqrt{a^2 + b^2} + m, n)$ 이고, 점근

선의 방정식은 $y = \pm \frac{b}{a}(x-m) + n$ 이다.

99. 답 ④

[해설] 두 점근선의 방정식을 연립하여 풀면 교점의 좌표는 (1, 1)이므로 주어진 쌍곡선을 x축의 방향으로 -1만큼, y축의 방향으로 -1만큼 평행 이동한 쌍곡선을 C라 하자.

이때, 원점은 (-1, -1)로 옮겨진다.

그러면 쌍곡선 C는 점 (-1, -1)을 지나고 두 직선 $y = 3x$, $y = -3x$ 를 점근선으로 하는 쌍곡선이므로 쌍곡선 C의 방정식은

$$x^2 - \frac{y^2}{9} = a$$

로 놓을 수 있다. 이 쌍곡선이 점 (-1, -1)을 지나므로 $a = \frac{8}{9}$ 즉, 쌍곡

선 C의 방정식은 $x^2 - \frac{y^2}{9} = \frac{8}{9}$ 이므로 원래의 쌍곡선의 방정식은

$$(x-1)^2 - \frac{(y-1)^2}{9} = \frac{8}{9}$$

$y = 0$ 을 대입하면 $x = 0$ 또는 $x = 2$ 이므로 두 교점 중에서 원점이 아닌 점은 P(2, 0)이다.

또한 점 P에서 주어진 쌍곡선에 접하는 접선은 점 (1, -1)에서 쌍곡선 C에 접하는 접선을 x축의 방향으로 1만큼, y축의 방향으로 1만큼 평행 이동한 것이므로 점 (1, -1)에서의 쌍곡선 C의 접선의 방정식을 먼저 구하면

$$1 \cdot x - \frac{(-1) \cdot y}{9} = \frac{8}{9} \quad \therefore 9x + y = 8$$

따라서 구하는 접선의 방정식은

$$9(x-1) + (y-1) = 6 \quad \therefore 9x + y = 16$$

97. 답 ④

[해설]

쌍곡선 $\frac{x^2}{8} - \frac{y^2}{4} = 1$ 에서 $x^2 - 2y^2 = 8$ 이므로 $y = x + k$ 를 대입하여 정리하

면

$$x^2 + 4kx + 2k^2 + 8 = 0 \quad \dots \dots \textcircled{1}$$

쌍곡선 $\frac{x^2}{8} - \frac{y^2}{4} = 1$ 과 직선 $y = x + k$ 가 서로 만나지 않으려면 이차방정식

①이 허근을 가져야 하므로 ①의 판별식 $D < 0$ 이어야 한다.

$$\frac{D}{4} = (2k)^2 - (2k^2 + 8) = 2k^2 - 8 < 0$$

$$k^2 < 4, (k+2)(k-2) < 0$$

$$\therefore -2 < k < 2$$

따라서 정수 k의 최댓값은 1이다.

98. 답 ④

[해설]

쌍곡선 $2x^2 - y^2 + 4y = 0$ 에서 $2x^2 - (y-2)^2 = -4$

100. 답 ⑤

[해설]

쌍곡선 $\frac{x^2}{2} - \frac{y^2}{18} = 1$ 의 점근선의 방정식은 $y = \pm 3x$ 이다.

- ㄱ. $a = -4, b = 0$ 이면 교점이 0개다. (참)
 - ㄴ. $a = 3, b > 0$ 이면 점근선과 평행이므로 교점이 1개다. (참)
 - ㄷ. $a = \frac{1}{3}, b < 0$ 이면 교점이 2개다. (참)
- 따라서 보기 중 옳은 것은 ㄱ, ㄴ, ㄷ이다.

101. 답 ④

[해설]

쌍곡선 $\frac{x^2}{9} - \frac{y^2}{16} = 1$ 의 초점의 좌표를 $F(c, 0), F'(-c, 0)$ ($c > 0$)이라 하면

$$c = \sqrt{9+16} = 5$$

이므로 $F(5, 0), F'(-5, 0)$ 이다.

이 쌍곡선에 접하고 기울기가 2인 접선의 방정식은

$$y = 2x \pm \sqrt{9 \cdot 4 - 16}, \text{ 즉 } y = 2x \pm 2\sqrt{5}$$

제 1사분면에서 쌍곡선에 접하는 접선 l 의 y 절편은 음수이므로 l 의 방정식은

$$2x - y - 2\sqrt{5} = 0$$

$$\therefore \overline{FP} = \frac{|2 \cdot 5 - 0 - 2\sqrt{5}|}{\sqrt{2^2 + (-1)^2}} = 2\sqrt{5} - 2$$

$$\overline{F'Q} = \frac{|2 \cdot (-5) - 0 - 2\sqrt{5}|}{\sqrt{2^2 + (-1)^2}} = 2\sqrt{5} + 2$$

$$\therefore \overline{FP} + \overline{F'Q} = 4\sqrt{5}$$

102. 답 ③

[해설]

ㄱ. 쌍곡선 $\frac{x^2}{a^2} - \frac{y^2}{b^2} = 1$ 의 점근선의 방정식은

$$y = \pm \frac{b}{a}x \text{ 이므로 쌍곡선 } x^2 - y^2 = 1 \text{의 점근선의 방정식은}$$

$$y = \pm x \text{ 이다, (참)}$$

ㄴ. 쌍곡선의 두 점근선과 평행한 직선은 모두 그 쌍곡선과 한 점에서 만나며, 쌍곡선과 접할 수 없다. (거짓)

ㄷ. $y^2 = 4px$ ($p \neq 0$)과 $x^2 - y^2 = 1$ 을 연립하면

$$x^2 - 4px - 1 = 0 \quad \dots \textcircled{1}$$

이때, 이차방정식 ①의 판별식을 D 라 하면

$$\frac{D}{4} = 4p^2 + 1 > 0$$

이므로 ①은 서로 다른 두 실근을 갖는다.

따라서 포물선 $y^2 = 4px$ 와 쌍곡선 $x^2 - y^2 = 1$ 은 항상 두 점에서 만난다. (참)

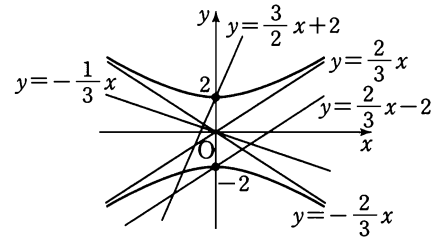
그러므로 보기 중 옳은 것은 ㄱ, ㄷ이다.

103. 답 ③

[해설]

$$4x^2 - 9y^2 = -36 \text{ 에서 } \frac{x^2}{9} - \frac{y^2}{4} = -1$$

꼭짓점의 좌표가 $(0, 2), (0, -2)$ 이고 점근선의 방정식이 $y = \pm \frac{2}{3}x$ 이므로 쌍곡선의 그래프는 다음 그림과 같다.



따라서 위의 그림과 같이 직선 $f(x) = \frac{2}{3}x - 2$ 는 쌍곡선과 한 개의 점에서 만나고, 직선 $g(x) = -\frac{1}{3}x$ 는 쌍곡선과 만나지 않으며 직선

$$h(x) = \frac{3}{2x} + 2 \text{는 쌍곡선과 두 개의 점에서 만난다.}$$

$$\therefore a + 2b + 3c = 1 + 0 + 6 = 7$$

104. 답 ②

[해설]

$$\begin{cases} y = 3x + k & \dots \textcircled{1} \\ x^2 - \frac{y^2}{6} = 1 & \dots \textcircled{2} \end{cases}$$

①을 ②에 대입하여 정리하면

$$x^2 - \frac{(3x+k)^2}{6} - 1 = 0$$

$$6x^2 - 9x^2 - 6kx - k^2 = 0$$

$$3x^2 + 6kx + k^2 + 6 = 0$$

$\dots \textcircled{3}$

$M \cap N \neq \emptyset$ 이려면 ③이 실근을 가져야한다.

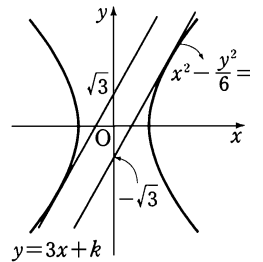
x 에 대한 이차방정식 ③의 판별식을 D 라 하면

$$\frac{D}{4} = 9k^2 - 3(k^2 + 6) = 6(k^2 - 3) \geq 0$$

$$\therefore k \geq \sqrt{3} \text{ 또는 } k \leq -\sqrt{3}$$

따라서 구하는 양수 k 의 값의 범위는

$$k \geq \sqrt{3}$$



105. 답 ①

[해설]

쌍곡선 $x^2 - \frac{y^2}{3} = 1$ 위의 점 $(2, 3)$ 에서의 접선의 방정식은

$$2x - \frac{3y}{3} = 1 \quad \therefore y = 2x - 1$$

이 접선의 x 절편은 $\frac{1}{2}$, y 절편은 -1 이므로 구하는 넓이는

$$\frac{1}{2} \times \frac{1}{2} \times 1 = \frac{1}{4}$$

106. 답 8

[해설]

쌍곡선 $2x^2 - y^2 = 1$ 위의 점 $A(5, 7)$ 에서의 접선의 방정식은

$$10x - 7 = 1 \dots\dots \textcircled{1}$$

쌍곡선 $2x^2 - y^2 = 1$ 위의 점 $B(-1, 1)$ 에서의 접선의 방정식은

$$-2x - y = 1 \dots\dots \textcircled{2}$$

$\textcircled{1}, \textcircled{2}$ 을 연립하여 풀면

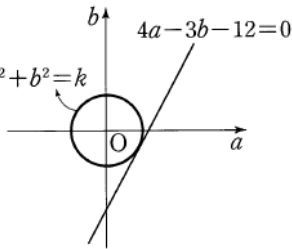
$$x = -\frac{1}{4}, y = -\frac{1}{2}$$

따라서 점 P의 좌표는 $(-\frac{1}{4}, -\frac{1}{2})$ 이므로

$$\frac{1}{ab} = 8$$

107. 답 169

[해설] 쌍곡선 $3x^2 - 4y^2 = -1$ 위의 점 $(-1, 1)$ 에서의 접선의 방정식은 $-3x - 4y = -1$, 즉 $a^2 + b^2 = k$



$3x + 4y = 1$
이므로 이 접선에 수직인 직선의 기울기를 m 이라 하면

$$m \cdot \left(-\frac{3}{4}\right) = -1 \text{에서 } m = \frac{4}{3} \text{이다.}$$

따라서 구하는 직선의 방정식은 $y = \frac{4}{3}x - 4$

조건에서 점 (a, b) 가 이 직선을 지나므로

$$4a - 3b - 12 = 0$$

이때, $a^2 + b^2 = k$ 로 놓으면 오른쪽 그림과 같이 직선 $4a - 3b - 12 = 0$ 과 원 $a^2 + b^2 = k$ 가 접할 때 k 는 최소가 된다.

$$\frac{|-12|}{\sqrt{4^2 + (-3)^2}} = \sqrt{k} \therefore k = \frac{144}{25}$$

$$\therefore m + n = 25 + 144 = 169$$

108. 답 ④

[해설] 쌍곡선 $xy = 8$ 위의 한 점 $P(x_1, y_1)$ 에서의 접선의 기울기를 m 이라 하면 접선의 방정식은 $y - y_1 = m(x - x_1)$

$xy = 8$ 에서 y 를 소거하고 정리하면

$$mx^2 - (mx_1 - y_1)x - 8 = 0 \dots\dots \textcircled{1}$$

점 P가 접점이므로 방정식 $\textcircled{1}$ 은 중근을 갖는다.

즉, $\textcircled{1}$ 의 판별식을 D라 하면

$$D = (mx_1 - y_1)^2 + 32m = 0$$

∴ 점 $P(x_1, y_1)$ 은 쌍곡선 위의 점이므로

$$x_1 y_1 = 8, \text{ 즉 } x_1 = \frac{8}{y_1} \text{ (참)}$$

∴ $x_1 y_1 = 8$ 을 $(mx_1 - y_1)^2 + 32m = 0$ 에 대입하여 정리하면

$$(mx_1 + y_1)^2 = 0$$

$$\therefore m = -\frac{y_1}{x_1} \text{ (거짓)}$$

$$\therefore y - y_1 = -\frac{y_1}{x_1}(x - x_1) \text{에서}$$

$$y_1 x + x_1 y = 2x_1 y_1 = 16 \text{ (참)}$$

따라서 보기에서 옳은 것은 ∴, ≡이다.

109. 답 ③

[해설]

접점의 좌표를 (x_1, y_1) 이라 하면 접선의 방정식은

$$x_1 x - y_1 y = 4$$

이 직선이 점 $(2, 1)$ 을 지나므로

$$2x_1 - y_1 = 4 \dots\dots \textcircled{1}$$

또, 점 (x_1, y_1) 은 쌍곡선 $x^2 - y^2 = 4$ 위의 점이므로

$$x_1^2 - y_1^2 = 4 \dots\dots \textcircled{2}$$

$\textcircled{1}, \textcircled{2}$ 을 연립하여 풀면

$$3x_1^2 - 16x_1 + 20 = 0$$

$$(3x_1 - 10)(x_1 - 2) = 0$$

$$\therefore x_1 = 2 \text{ 또는 } x_1 = \frac{10}{3}$$

이것을 $\textcircled{1}$ 에 대입하면

$$y_1 = 0 \text{ 또는 } y_1 = \frac{8}{3}$$

$$\therefore P(2, 0), Q\left(\frac{10}{3}, \frac{8}{3}\right)$$

이 때, 두 점 P, Q를 지나는 직선의 방정식은

$$y = 2x - 4$$

따라서 직선 PQ와 x축, y축으로 둘러싸인 삼각형의 넓이는

$$\frac{1}{2} \times 2 \times 4 = 4$$

참고

쌍곡선 $\frac{x^2}{a^2} - \frac{y^2}{b^2} = \pm 1$ 밖의 한 점 (a, b) 에서 쌍곡선에 그은 접선의 방정식은

은 다음과 같은 방법으로 구한다.

(1) 구하는 접선의 점점의 좌표를 (x_1, y_1) 로 놓고, 공식을 이용하여 접선의

방정식 $\frac{x_1 x}{a^2} - \frac{y_1 y}{b^2} = \pm 1$ 을 구한다.

(2) (1)에서 구한 접선이 점 (a, b) 를 지나고, 점 (x_1, y_1) 이 쌍곡선위에 있음을 이용하여 점점의 좌표 (x_1, y_1) 을 구한다.

(3) (2)에서 구한 점점의 좌표 (x_1, y_1) 을 (1)에서 구한 접선의 방정식에 대입한다.

110. 답 ⑤

[해설]

접선의 기울기를 m 이라 하면 접선의 방정식은

$$y = mx \pm \sqrt{20m^2 - 4}$$

점 P(a, b)는 접선 위의 점이므로

$$b = ma \pm \sqrt{20m^2 - 4}$$

$$b - ma = \pm \sqrt{20m^2 - 4}$$

양변을 제곱하면

$$b^2 - 2abm + a^2 m^2 = 20m^2 - 4$$

$$(a^2 - 20)m^2 - 2abm + b^2 + 4 = 0 \dots\dots \textcircled{1}$$

m에 대한 이차방정식 $\textcircled{1}$ 의 두 근을 m_1, m_2 라 하면 두 접선이 수직이므로

$$m_1 m_2 = -1 \text{이다. 즉, 이차방정식의 근과 계수의 관계에 의하여}$$

$$\frac{b^2 + 4}{a^2 - 20} = -1, b^2 + 4 = -a^2 + 20$$

$\therefore a^2 + b^2 = 16$

따라서 점 P(a, b)가 나타내는 도형은 중심이 원점이고 반지름의 길이가 4인 원이므로 그 길이는 8π 이다.

111. 답 ①

[해설]

좌표평면에서 두 점으로부터의 거리의 차가 일정한 점들의 집합은 쌍곡선이다.

두 점정이 x축 위에 있으므로 쌍곡선의 방정식을

$$\frac{x^2}{a^2} - \frac{y^2}{b^2} = 1 \quad (a > 0, b > 0) \text{ 이라 하면}$$

$$2a = 2 \quad \therefore a = 1$$

또, F($\sqrt{5}$, 0), F'($-\sqrt{5}$, 0)에서

$$b^2 = c^2 - a^2 = 5 - 1 = 4 \quad \therefore b = 2$$

그러므로 조건을 만족하는 쌍곡선의 방정식은

$$x^2 - \frac{y^2}{4} = 1 \quad \dots\dots \textcircled{1}$$

이때, 점정의 좌표를 (x_1, y_1)이라 하면 점정의 방정식은

$$x_1x - \frac{y_1y}{4} = 1$$

이고, 이 점선이 점 P(0, 2)를 지나므로

$$-\frac{2y_1}{4} = 1 \quad \therefore y_1 = -2$$

또, 점 (x_1, y_1)은 쌍곡선 ①

위의 점이므로

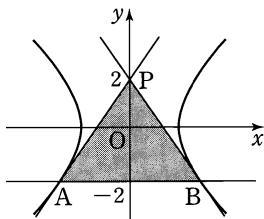
$$x_1^2 - \frac{y_1^2}{4} = 1 \quad \dots\dots \textcircled{2}$$

$y_1 = -2$ 를 ②에 대입하면

$$x_1^2 = 2 \quad \therefore x_1 = \pm\sqrt{2}$$

A($-\sqrt{2}, -2$), B($\sqrt{2}, -2$)라 하면 삼각형 PAB의 넓이는

$$\frac{1}{2} \times 2\sqrt{2} \times 4 = 4\sqrt{2}$$



112. 답 ③

[해설] 점 P(a, b)를 지나는 점선을 $y = m(x - a) + b$ 로 놓고,

$$\frac{x^2}{4} - y^2 = 1 \text{ 과 연립하면}$$

$$(1 - 4m^2)x^2 + 8m(am - b)x - 4\{(am - b)^2 + 1\} = 0$$

이때, $\frac{D}{4} = 0$ 이므로 $(am - b)^2 + 1 - 4m^2 = 0$

이 식을 m에 대하여 정리하면

$$(a^2 - 4)m^2 - 2abm + b^2 + 1 = 0 \quad \dots \textcircled{1}$$

①의 두 근은 두 점선의 기울기이고, 두 점선은 서로 수직이므로 두 근의 곱은 -1이다.

따라서 근과 계수의 관계에 의하여

$$\frac{b^2 + 1}{a^2 - 4} = -1 \quad \therefore a^2 + b^2 = 3 \quad (\text{단, } a \neq \pm 2b)$$

따라서 P(a, b)가 나타내는 도형의 길이는 $2\sqrt{3}\pi$ 이다.

참고

점 P(a, b)는 점근선 $y = \pm\sqrt{2}x$ 위의 점이 아니므로 $a \neq \pm 2b$ 이다.

113. 답 13

[해설] 쌍곡선의 정의에 의하여

$$\overline{PF'} - \overline{PF} = 8,$$

$$\overline{QF} - \overline{QF'} = 8$$

이고, 주어진 조건에서 $\overline{PF'} - \overline{QF'} = 3$ 이므로

$$\overline{QF} - \overline{PF} = 8 + \overline{QF} + 8 - \overline{PF'}$$

$$= 16 - (\overline{PF'} - \overline{QF'})$$

$$= 16 - 3$$

$$= 13$$

114. 답 ④

[해설] $\frac{x^2}{5} - \frac{y^2}{4} = 1$ 에서 $c^2 = 5 + 4 = 9$ 이므로 $c = \pm 3$

따라서 F(3, 0), F'(-3, 0)이므로

$$\overline{PF} = \sqrt{2^2 + (-4)^2} = 2\sqrt{5}$$

$$\overline{PF'} = \sqrt{8^2 + (-4)^2} = 4\sqrt{5}$$

$$\therefore \overline{PF} \cdot \overline{PF'} = 2\sqrt{5} \cdot 4\sqrt{5} = 40$$

115. 답 60

[해설] 두 점근선이 $\frac{1}{\sqrt{3}}x + y = 0$, $\frac{1}{\sqrt{3}}x - y = 0$ 이므로 쌍곡선의 방

$$\text{정식은 } \left(\frac{1}{\sqrt{3}}x + y\right)\left(\frac{1}{\sqrt{3}}x - y\right) = k$$

$$\therefore \frac{1}{3}x^2 - y^2 = k$$

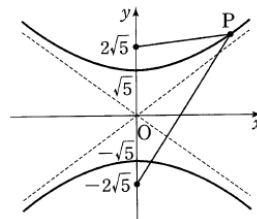
이 쌍곡선이 점 ($-2\sqrt{3}$, 3)을 지나므로

$$\frac{1}{3} \cdot (-2\sqrt{3})^2 - 3^2 = k \quad \therefore k = -5$$

그러므로 쌍곡선의 방정식은 $\frac{x^2}{15} - \frac{y^2}{5} = -1$

따라서 초점의 좌표는 $(0, \pm\sqrt{15+5})$

즉 F(0, $2\sqrt{5}$), F'(0, $-2\sqrt{5}$)이다.



$\overline{PF} = a$, $\overline{PF'} = b$ 로 놓으면 $\triangle PFF'$ 의 둘레의 길이가 $10\sqrt{5}$ 이므로

$$4\sqrt{5} + a + b = 10\sqrt{5}$$

$$\therefore a + b = 6\sqrt{5} \quad \dots \textcircled{1}$$

또, 쌍곡선의 정의에 의하여

$$|a - b| = 2\sqrt{5} \quad \dots \textcircled{2}$$

$$\textcircled{1}, \textcircled{2} \text{에서 } |\overline{PF}^2 - \overline{PF'}^2| = 6\sqrt{5} \times 2\sqrt{5} = 60$$

116. 답 ④

[해설] F(3, 0)으로 놓으면 쌍곡선의 정의에 의하여

$$\overline{AC} - \overline{AF} = 2, \quad \overline{BF} - \overline{BC} = 2$$

두 식을 변끼리 빼면

$$\overline{AC} + \overline{BC} - \overline{AF} - \overline{BF} = 0 \dots \textcircled{1}$$

그런데 삼각형 ABC의 둘레의 길이가 20이므로

$$\overline{AC} + \overline{BC} + \overline{BF} - \overline{AF} = 20 \dots \textcircled{2}$$

$$\textcircled{1} - \textcircled{2} \text{을 하면 } -2\overline{BF} = -20$$

$$\therefore \overline{BF} = 10, \overline{BC} = 8$$

117. 답 19

[해설]

쌍곡선 $\frac{x^2}{2} - \frac{(y-4)^2}{18} = 1$ 의 중심이 원점에 오도록 y 축의 방향으로 -4 만큼 평행이동한 쌍곡선의 방정식은

$$\frac{x^2}{2} - \frac{y^2}{18} = 1$$

이 쌍곡선의 점근선의 방정식이 $y = \pm 3x$ 이므로 이 직선을 다시 y 축의 방향으로 4 만큼 평행이동하면 주어진 쌍곡선의 점근선의 방정식은

$$y = \pm 3x + 4$$

따라서 이 두 점근선과 x 축으로 둘러싸인 부분의 넓이는

$$\frac{1}{2} \times \frac{8}{3} \times 4 = \frac{16}{3}$$

$$\therefore a + b = 3 + 16 = 19$$

118. 답 ㉓

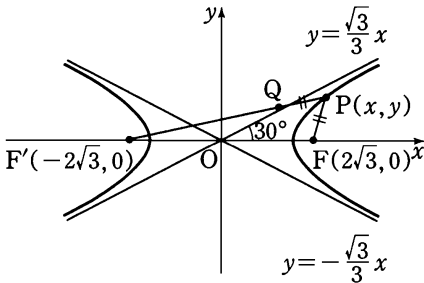
[해설]

다음 그림에서 쌍곡선의 정의에 의하여 $\overline{PF'} - \overline{PF} = 6$ 이므로

$$\overline{F'Q} + \overline{QP} - \overline{PF} = 6$$

그런데 조건에서 $\overline{QP} = \overline{PF}$ 이므로

$$\overline{F'Q} = 6$$



이때, 주어진 쌍곡선의 점근선의 방정식은 $y = \pm \frac{\sqrt{3}}{3}x$ 이므로

점근선이 x 축과 이루는 각의 크기는 30° 이다.

$$x \rightarrow \infty \text{ 일 때, } \angle PF'F \rightarrow \frac{\pi}{6} \text{이다.}$$

즉, 점 Q가 나타내는 도형은 점 F'을 중심으로 하고 반지름의 길이가 6이며 중심각의 크기가 60° 인 부채꼴의 호이다.

따라서 점 Q가 나타내는 도형 전체의 길이는

$$6 \cdot \frac{\pi}{3} = 2\pi$$

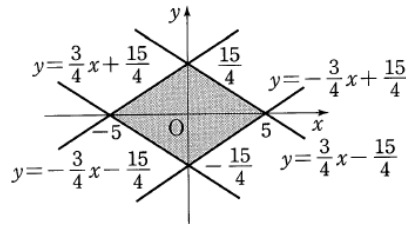
119. 답 ㉓

[해설] 쌍곡선 $9x^2 - 16y^2 = 144$, 즉 $\frac{x^2}{16} - \frac{y^2}{9} = 1$ 에 대하여 점근선의

방정식은 $y = \pm \frac{3}{4}x$ 이고 $c^2 = 4^2 + 3^2 = 5^2$ 이므로 초점의 좌표는

$(5, 0), (-5, 0)$ 이다.

따라서 만들어지는 도형은 다음 그림과 같은 마름모이다.



$$\therefore (\text{구하는 도형의 넓이}) = \frac{1}{2} \times 10 \times \frac{30}{4} = \frac{75}{2}$$

120. 답 32

[해설]

접선 l의 방정식은

$$-6x - 2y = 32, 3x + y = -16 \dots \textcircled{1}$$

원점을 지나면서 ㉑과 수직인 직선의 방정식은

$$-x + 3y = 0, x - 3y = 0 \dots \textcircled{2}$$

$$\textcircled{1}, \textcircled{2} \text{에서 } H\left(-\frac{24}{5}, -\frac{8}{5}\right)$$

또한, 쌍곡선 $x^2 - y^2 = 32$ 와 ㉒의 교점은 Q(6, 2)이다.

$$\begin{aligned} \therefore \overline{OH} \cdot \overline{OQ} &= \sqrt{\left(-\frac{24}{5}\right)^2 + \left(-\frac{8}{5}\right)^2} \times \sqrt{6^2 + 2^2} \\ &= \frac{8\sqrt{10}}{5} \times 2\sqrt{10} \\ &= 32 \end{aligned}$$

121. 답 ㉓

[해설] 쌍곡선 $3x^2 - 4y^2 = 48$ 의 점근선의 방정식은

$$3x^2 - 4y^2 = 0 \text{에서 } \sqrt{3}x \pm 2y = 0$$

점 P의 좌표를 $P(x_1, y_1)$ 이라 하면

$$\overline{PQ} \cdot \overline{PR} = \frac{|\sqrt{3}x_1 - 2y_1|}{\sqrt{3+4}} \cdot \frac{|\sqrt{3}x_1 + 2y_1|}{\sqrt{3+4}} = \frac{|3x_1^2 - 4y_1^2|}{7}$$

그런데 $P(x_1, y_1)$ 은 쌍곡선 위의 점이므로

$$3x_1^2 - 4y_1^2 = 48$$

따라서 구하는 값은 $\frac{48}{7}$ 이다.

122. 답 ㉔

[해설] 원점 O와 점 P를 연결하면 삼각형의 중선연결정리에 의하여

$$\overline{PF}^2 + \overline{PF'}^2 = 2(\overline{OP}^2 + \overline{OF}^2) = 2(\overline{OP}^2 + 9)$$

그러므로 $\overline{PF}^2 + \overline{PF'}^2$ 의 최솟값은

$$2(8 + 9) = 34$$

123. 답 ㉓

쌍곡선 $\frac{x^2}{3^2} - \frac{y^2}{4^2} = 1$ 에서 초점의 좌표는 C(-5, 0), D(5, 0)

또, 쌍곡선의 정의에 의하여

9. 타원과 쌍곡선

$$\overline{AC} - \overline{AD} = 2 \times 3$$

$$\therefore \overline{AC} = \overline{AD} + 6 \dots\dots \textcircled{1}$$

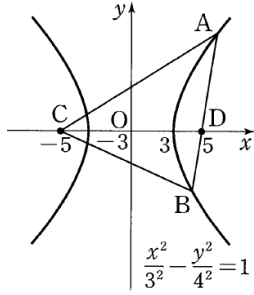
$$\overline{BD} - \overline{BD} = 2 \times 3$$

$$\therefore \overline{BC} = \overline{BD} + 6 \dots\dots \textcircled{2}$$

△ABC의 둘레의 길이가 28이므로

$$\overline{AC} + \overline{CB} + \overline{AB} = 28$$

①, ②을 이 식에 대입하면



$$\overline{AC} + \overline{CB} + \overline{AB} = (\overline{AD} + 6) + (\overline{BD} + 6) + \overline{AB} = 28$$

$$\therefore 2\overline{AB} = 16 \quad (\because \overline{AD} + \overline{BD} = \overline{AB})$$

$$\therefore \overline{AB} = 8$$

124. 답 ㉓

[해설] 점 P는 두 점 A(2, 0), B(-2, 0)을 초점으로 하고 주축의 길이가 2인 쌍곡선 위의 점이다.

초점이 x축 위에 있으므로 점 P의 자취의 방정식은

$$\frac{x^2}{a^2} - \frac{y^2}{b^2} = 1 \quad (a > 0, b > 0) \text{로 놓을 수 있다.}$$

초점의 좌표가 (±2, 0)이므로

$$a^2 + b^2 = 2^2 \dots\dots \textcircled{1}$$

또, 주축의 길이가 2이므로

$$2a = 2 \dots\dots \textcircled{2}$$

①, ②에서 $a^2 = 1, b^2 = 3$

$$\therefore x^2 - \frac{y^2}{3} = 1$$

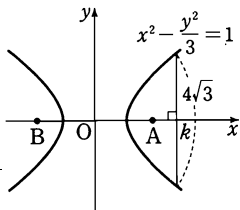
이때, $x = k$ 를 대입하여 정리하면

$$y = \pm \sqrt{3(k^2 - 1)}$$

이므로 선분 Q₁Q₂의 길이는 $2\sqrt{3(k^2 - 1)}$ 이다.

$$\text{조건에서 } 2\sqrt{3(k^2 - 1)} = 4\sqrt{3}$$

$$\therefore k = \sqrt{5} \quad (\because k > 0)$$



125. 답 ㉑

[해설] 점근선의 방정식은 $y = \pm \frac{3}{4}x$ 이고 점 P의 좌표를 $P(x_1, y_1)$ 이라

하면 점 P를 지나는 직선은 $y - y_1 = \pm \frac{3}{4}(x - x_1)$ 이고 교점 Q와 R를

$$\text{구하면 } \mp \frac{3}{4}x - y_1 = \pm \frac{3}{4}(x - x_1) \text{에서}$$

$$\begin{cases} x = 2\left(\frac{x_1 - y_1}{4} - \frac{y_1}{3}\right) \\ y = -\frac{3}{2}\left(\frac{x_1 - y_1}{4} - \frac{y_1}{3}\right) \end{cases}, \begin{cases} x = 2\left(\frac{x_1 + y_1}{4} + \frac{y_1}{3}\right) \\ y = \frac{3}{2}\left(\frac{x_1 + y_1}{4} + \frac{y_1}{3}\right) \end{cases}$$

$$p = \frac{x_1 - y_1}{4} - \frac{y_1}{3}, \quad q = \frac{x_1 + y_1}{4} + \frac{y_1}{3} \text{이라 하면 } pq = 1 \text{이고}$$

$$\text{평행사변형의 넓이는 } \left| 2p \times \frac{3}{2}q - 2q \times \left(-\frac{3}{2}p\right) \right| = 6pq = 6$$

126. 답 ㉑

[해설]

쌍곡선 $x^2 - \frac{y^2}{3} = 1$ 위의 점 (2, 3)에서의 접선의 방정식은

$$2x - \frac{3y}{3} = 1 \quad \therefore y = 2x - 1$$

이 접선의 x절편은 $\frac{1}{2}$, y절편은 -1이므로 구하는 넓이는

$$\frac{1}{2} \times \frac{1}{2} \times 1 = \frac{1}{4}$$

127. 답 ㉓

[해설]

$$9x^2 - 16y^2 = 144 \text{에서 } \frac{x^2}{16} - \frac{y^2}{9} = 1 \text{ 초}$$

점의 좌표를 (±c, 0)이라 하면

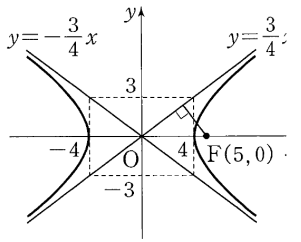
$$c^2 = 16 + 9 = 25 \text{이므로 초점의 좌표는 } (\pm 5, 0) \text{ 점근선의 방정식은}$$

$$y = \pm \frac{3}{4}x$$

따라서 초점 (5, 0)에서 점근선에

$3x - 4y = 0$ 에 이르는 거리는

$$\frac{|3 \times 5 - 4 \times 0|}{\sqrt{3^2 + (-4)^2}} = 3$$



128. 답 38

[해설]

쌍곡선 $2x^2 - y^2 = 4$ 에서 $\frac{x^2}{2} - \frac{y^2}{4} = 1$ 이므로 쌍곡선의 두 초점의 좌표는

$$F(\sqrt{6}, 0), F'(-\sqrt{6}, 0)$$

삼각형 PFF'의 넓이가 12이므로

$$\frac{1}{2} \cdot 2\sqrt{6} \cdot b = 12 \quad \therefore b = 2\sqrt{6}$$

점 P(a, b)가 쌍곡선 $2x^2 - y^2 = 4$ 위의 점이므로

$$2a^2 - 24 = 4, \quad a^2 = 14$$

$$\therefore a = \sqrt{14}$$

$$\therefore a^2 + b^2 = 14 + 24 = 38$$

129. 답 ㉓

[해설]

쌍곡선 $3x^2 - y^2 = 27$ 에서

$$\frac{x^2}{9} - \frac{y^2}{27} = 1$$

$c = \sqrt{9 + 27} = 6$ 이므로 주어진 쌍곡선의 두 초점의 좌표는

$$F(6, 0), F'(-6, 0) \text{이다.}$$

점 P의 좌표를 (a, b)라 하면 삼각형 PFF'의 넓이가 $6\sqrt{21}$ 이므로

$$\frac{1}{2} \cdot 12 \cdot b = 6\sqrt{21}$$

$$\therefore b = \sqrt{21}$$

또, 점 P(a, b)가 쌍곡선 $3x^2 - y^2 = 27$ 위의 점이므로

$$3a^2 - 21 = 27, \quad 3a^2 = 48$$

$$\therefore a = 4 \quad (\because a > 0)$$

9. 타원과 쌍곡선

130. 답 ㉔

[해설]

$x^2 + y^2 \leq 8$ 인 원의 내부와 경계선을 영역으로 하고
 $\frac{x^2}{6} - y^2 \geq 1$ 에서 이 쌍곡선 $\frac{x^2}{6} - y^2 = 1$ 의 초점 $(\sqrt{6}, 0)$ 을 대입하면
 부등식을 만족시키므로 연립부등식을 만족시키는 영역은 원의 내부이면서
 쌍곡선의 초점을 포함하는 부분의 공통 영역이다. (단, 경계선도 포함한다.)
 따라서 연립부등식의 영역을 옳게 나타낸 것은 ㉔이다.

131. 답 16

[해설]

쌍곡선 $2x^2 - 2y^2 = 1$ 의 점근선의 방정식은

$$y = \pm \frac{1}{\sqrt{2}}x, \text{ 즉 } y = \pm x \quad \dots\dots \textcircled{1}$$

쌍곡선 $2(x-3)^2 - 2(y-1)^2 = 1$ 의 점근선의 방정식은

$$y = \pm(x-3) + 1$$

즉, $y = x-2, y = -x+4 \quad \dots\dots \textcircled{2}$

두 직선 $y = x, y = -x+4$ 의 교점의 좌표는 $A(2, 2)$ 이므로

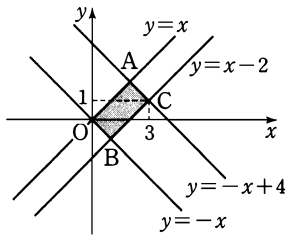
오른쪽 그림에서

$$\overline{OA} = 2\sqrt{2}, \overline{AC} = \sqrt{2} \text{ 이므로}$$

직사각형 $OBCA$ 의 넓이 S 는

$$S = 2\sqrt{2} \cdot \sqrt{2} = 4$$

$$\therefore S^2 = 4^2 = 16$$



132. 답 ㉔

[해설] $3x^2 - y^2 = 3 \Leftrightarrow x^2 - \frac{y^2}{3} = 1$

따라서 기울기가 2인 접선의 방정식은

$$y = 2x \pm \sqrt{2^2 - 3} = 2x \pm 1$$

x 좌표가 양수인 쌍곡선 위의 점에서 직선 $y = 2x + 9$ 까지의 거리의 최솟값은 두 직선 $y = 2x - 1$ 과 $y = 2x + 9$ 사이의 거리이다. 따라서 직선 $y = 2x + 9$ 위의 임의의 점 $(0, 9)$ 에서 직선 $2x - y - 1 = 0$ 에 이르는

거리는 $\frac{|0 - 9 - 1|}{\sqrt{2^2 + (-1)^2}} = 2\sqrt{5}$

133. 답 ㉑

[해설] 곡선 $x^2 - \frac{y^2}{8} = 1 (x \geq 0)$ 에

서

$$\overline{AC} - \overline{AF} = 2 \quad \dots \textcircled{1}$$

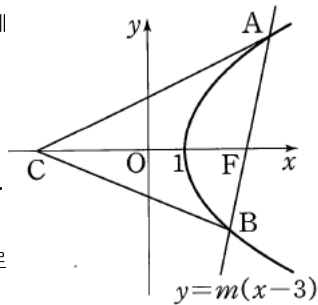
$$\overline{BC} - \overline{BF} = 2 \quad \dots \textcircled{2}$$

$$\textcircled{1}, \textcircled{2} \text{ 에서 } \overline{AC} + \overline{BC} - \overline{AB} = 4 \quad \dots \textcircled{3}$$

㉑

$$\textcircled{3} \text{ 에서 } \overline{AB} = 12 \text{ 이므로}$$

$$\overline{AC} + \overline{BC} = 16$$



134. 답 ㉔

쌍곡선 $4x^2 - y^2 = 3$ 위의 점 $P(-1, 1)$ 에서의 접선의 방정식은
 $-4x - y = 3 \quad \therefore y = -4x - 3$

이 접선에 수직인 직선의 기울기는 $\frac{1}{4}$ 이므로

기울기가 $\frac{1}{4}$ 이고 점 $P(-1, 1)$ 을 지나는 직선의 방정식은

$$y - 1 = \frac{1}{4}(x + 1) \quad \therefore y = \frac{1}{4}x + \frac{5}{4}$$

주어진 조건에서 점 (a, b) 가 이 직선 위의 점이므로

$$b = \frac{1}{4}a + \frac{5}{4}, \text{ 즉 } a - 4b + 5 = 0$$

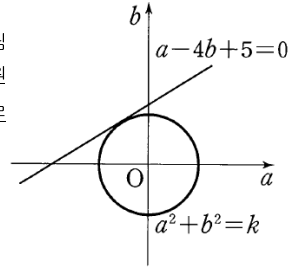
이 때, $a^2 + b^2 = k$ 로 놓으면 오른쪽 그림

과 같이 직선 $a - 4b + 5 = 0$ 과 원

$a^2 + b^2 = k$ 가 접할 때 k 는 최소가 되므로

$$\frac{|0 - 0 + 5|}{\sqrt{1^2 + (-4)^2}} = \sqrt{k} \quad \therefore k = \frac{25}{17}$$

따라서 $a^2 + b^2$ 의 최솟값은 $\frac{25}{17}$ 이다.



135. 답 90

[해설]

타원 $\frac{x^2}{36} + \frac{y^2}{20} = 1$ 에서

$$c = \sqrt{36 - 20} = 4 \text{ 이므로}$$

두 초점의 좌표는

$$A(-4, 0), B(4, 0)$$

또 쌍곡선 $\frac{x^2}{9} - \frac{y^2}{7} = 1$ 에서

$$c = \sqrt{9 + 7} = 4 \text{ 이므로 두 초점의 좌표는}$$

$$A(-4, 0), B(4, 0)$$

즉, 타원과 쌍곡선의 초점은 A, B 로 서로 일치한다,

타원의 정의에 의하여

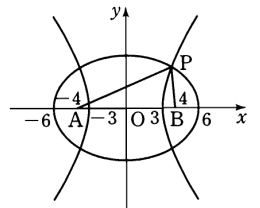
$$\overline{PA} + \overline{PB} = 2 \times 6 = 12 \quad \dots\dots \textcircled{1}$$

쌍곡선의 정의에 의하여

$$|\overline{PA} - \overline{PB}| = 2 \times 3 = 6 \quad \dots\dots \textcircled{2}$$

$$\textcircled{1}, \textcircled{2} \text{ 에서 } \overline{PA} = 9, \overline{PB} = 3 \text{ 또는 } \overline{PA} = 3, \overline{PB} = 9$$

$$\therefore \overline{PA}^2 + \overline{PB}^2 = 90$$



136. 답 11

[해설]

쌍곡선의 정의에 의하여

$$\overline{PF'} - \overline{PF} = 5 \quad \dots\dots \textcircled{1}$$

$$\overline{QF'} - \overline{QF} = 5 \quad \dots\dots \textcircled{2}$$

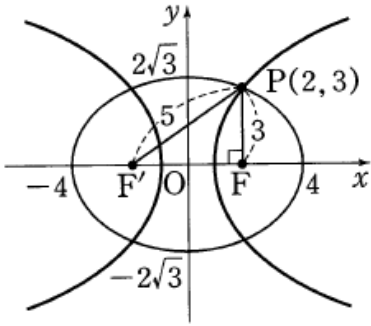
$$\Delta PF'Q \text{ 에서 } \overline{PF'} + \overline{QF'} + \overline{PQ} = 32 \quad \dots\dots \textcircled{3}$$

$$\textcircled{3} - \textcircled{1} - \textcircled{2} \text{ 에서 } \overline{PQ} + \overline{PF} + \overline{QF} = 32 - 5 - 5$$

$$2\overline{PQ} = 22 \quad \therefore \overline{PQ} = 11$$

137. 답 ㉔

[해설]



점 P와 점 F의 x좌표가 같으므로
 $\overline{PF} = 3$, $\overline{PF'} = \sqrt{\{2 - (-2)\}^2 + 3^2} = 5$
 타원의 정의에 의하여 $2\sqrt{A} = 8$ 에서 $A = 16$
 $2^2 = 16 - B$ 이므로 $B = 12$
 또, 쌍곡선의 정의에 의하여
 $2\sqrt{C} = 5 - 3 = 2$ 에서 $C = 1$
 $2^2 = 1 + D$ 이므로 $D = 3$
 $\therefore AD - BC = 36$

138. 답 ㉔

[해설] 타원의 정의에 의하여 $\overline{OB} = \overline{AC} = 2\sqrt{5}$ 이므로
 $a^2 = (2\sqrt{5})^2 = 20$
 따라서 직각삼각형 OBC에서 $\overline{OC} = \sqrt{36 - 20} = 4$ 이므로
 $b^2 = 16$
 따라서 점 D의 x좌표는 $\sqrt{a^2 + b^2} = 6$ 이다.
 한편, 직각삼각형 OAC에서 $\overline{OA} = \sqrt{20 - 16} = 2$
 $\therefore \overline{AD} = \overline{OD} - \overline{OA} = 6 - 2 = 4$

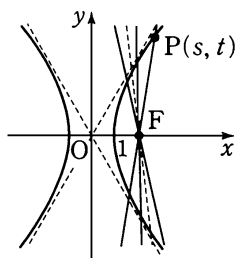
참고

주어진 그림과 같이 타원 $\frac{x^2}{a^2} + \frac{y^2}{b^2} = 1$ 과 쌍곡선 $\frac{x^2}{a^2} - \frac{y^2}{b^2} = 1$ 에 대하여
 항상 $\overline{OB} = \overline{AC}$, $\overline{OD} = \overline{BC}$ 가 성립한다.

139. 답 ㉓

[해설]

쌍곡선 $x^2 - \frac{y^2}{8} = 1$ 에서 $c = \sqrt{1+8} = 3$ 이고 x축의 양의 방향과 점
 (1, 0)에서 만난다.
 $\therefore a(s) = \frac{t-0}{s-3}$ 에서
 $s \rightarrow 1+0$ 이면 $t \rightarrow +0$ 이므로
 $\lim_{s \rightarrow 1+0} a(s) = 0$ (참)
 ㄴ. 쌍곡선의 점근선의 방정식이
 $y = \pm 2\sqrt{2}x$ 이므로 오른쪽 그림
 에서 $\lim_{s \rightarrow \infty} a(s) = 2\sqrt{2}$ (참)
 ㄷ. 초점 F의 좌표는 (3, 0)이므로
 오른쪽 그림에서
 $\lim_{s \rightarrow 3+0} a(s) = \infty$
 $\lim_{s \rightarrow 3-0} a(s) = -\infty$

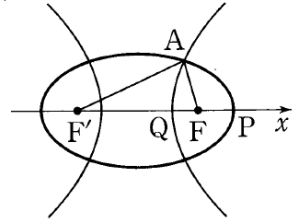


$\therefore \lim_{s \rightarrow 3} \frac{1}{a(s)} = 0$ (참)

따라서 보기 중 옳은 것은 ㄱ, ㄴ, ㄷ이다.

140. 답 34

[해설] (타원의 장축의 길이)
 $= \overline{FA} + \overline{F'A}$
 (쌍곡선의 주축의 길이) = $|\overline{FA} - \overline{F'A}|$
 $= \overline{F'A} - \overline{FA}$



$\therefore \overline{PQ} = \frac{1}{2} \{ \overline{FA} + \overline{F'A} - (\overline{F'A} - \overline{FA}) \} = \overline{FA}$
 $= \sqrt{(5-0)^2 + (5-8)^2} = \sqrt{34}$
 $\therefore \overline{PQ}^2 = 34$

141. 답 ㉑

[해설] 쌍곡선 위의 한 점 $P(x_1, y_1)$ 에서의 접선의 방정식은

$x_1x - \frac{y_1y}{3} = 1$

초점 $F(2, 0)$ 을 지나고 직선 PF에 수직인 직선의 방정식은

$y = -\frac{x_1 - 2}{y_1 - 0}(x - 2)$

두 직선의 교점의 x좌표는

$3(1 - x_1x) = (x_1 - 2)(x - 2)$

$3 - 3x_1x = x_1x - 2x_1 - 2x + 4$

$2(2x_1 - 1)x = 2x_1 - 1 \quad \therefore x = \frac{1}{2}$

따라서 구하는 도형의 방정식은 $x = \frac{1}{2}$ 이다.

142. 답 ㉔

[해설]

주축의 길이가 2인 쌍곡선의 방정식을

$\frac{x^2}{a^2} - \frac{y^2}{b^2} = 1 (a > 0, b > 0)$ 이라 하면

$2a = 2 \quad \therefore a = 1$

또, 이 쌍곡선의 점근선의 방정식이 $y = \pm 2x$ 이므로

$b = 2a \quad \therefore b = 2$

구하는 쌍곡선의 방정식은 $x^2 - \frac{y^2}{4} = 1$

$\therefore y^2 = 4x^2 - 4 \quad \dots \dots \textcircled{1}$

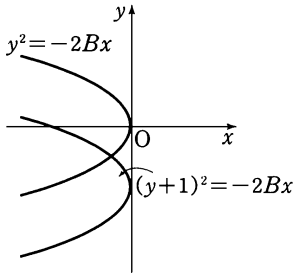
점 A(10, 0)에서 ㉑에 이르는 거리를 d라 하면

$d = \sqrt{(x-10)^2 + y^2} = \sqrt{(x-10)^2 + 4x - 4}$
 $= \sqrt{5x^2 - 20x + 96}$
 $= \sqrt{5(x-2)^2 + 76}$

따라서 d가 최소가 될 때, 점 P(x, y)의 x좌표는 2이다.

143. 답 ㉔

[해설] $\therefore y^2 + 2y + 1 + 2Bx = 0$ 을 변형하면
 $(y+1)^2 = -2Bx$ 이므로
 이 곡선은 포물선 $y^2 = -2Bx$ 를 y 축의 방향으로 -1 만큼 평행 이동한 것이다.
 또, $B > 0$ 이므로 포물선 $(y+1)^2 = -2Bx$ 를 좌표평면에 나타내면 다음과 같다.



따라서 제 2, 3사분면을 지나는 포물선을 나타낸다. (거짓)

$$\therefore A\left(x + \frac{B}{A}\right)^2 + (y+1)^2 = \frac{B^2}{A}$$

$$\Leftrightarrow \frac{\left(x + \frac{B}{A}\right)^2}{\frac{B^2}{A^2}} + \frac{(y+1)^2}{\frac{B^2}{A}} = 1$$

이때, $\frac{B^2}{A} < 0$ 이므로 집합 S 는 주축이 x 축과 평행한 쌍곡선을 나타낸다. (참)

$$\therefore A\left(x + \frac{B}{A}\right)^2 + (y+1)^2 = \frac{B^2}{A}$$

$$\Leftrightarrow \frac{\left(x + \frac{B}{A}\right)^2}{\frac{B^2}{A^2}} + \frac{(y+1)^2}{\frac{B^2}{A}} = 1$$

$A > B > 1$ 에서 $0 < \frac{B^2}{A^2} < \frac{B^2}{A}$ 이므로 집합 S 는 장축이 y 축과 평행

한 타원을 나타낸다. (거짓)

그러므로 보기 중 옳은 것은 \sim 이다.

144. 답 ㉔

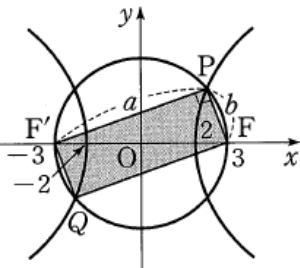
[해설] 쌍곡선 $\frac{x^2}{4} - \frac{y^2}{5} = 1$ 의 두 초점의 좌표를 $F(c, 0), F'(-c, 0)$ 이라 하면 $c^2 = 4+5=9 \therefore c=3$

따라서 두 점 F 와 F' 은 각각 지름의 양 끝점인 두 점 A, B 와 일치한다. 오른쪽 그림에서 사각형 $APBQ$ 는 직사각형이다.

$\overline{PF} = a, \overline{PF'} = b$ ($a > b$)라 하면 피타고라스의 정리와 쌍곡선의 정의에 의하여 $a^2 + b^2 = 6^2, a - b = 4$
 \dots ㉔

위의 두 식을 연립하면

$$a^2 - 4a - 10 = 0 \quad \therefore a = 2 + \sqrt{14} \quad (\because a > 0)$$



또, ㉔에서 $b = -2 + \sqrt{14}$

따라서 구하는 사각형 $APBQ$ 의 넓이는

$$ab = (2 + \sqrt{14})(-2 + \sqrt{14}) = 10$$

145. 답 68

[해설] 쌍곡선 $\frac{x^2}{8} - \frac{y^2}{8} = 1$ 의 초점이 $(4, 0), (-4, 0)$ 이므로 원의 중심과 점 A 가 쌍곡선의 초점이다.

원의 중심을 $B(-4, 0)$ 이라 하면 쌍곡선의 정의에 의하여

$$\overline{PB} - \overline{PA} = 4\sqrt{2}$$

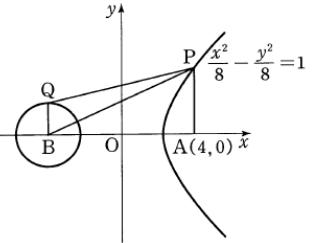
이때, 한 점 P 에 대하여 \overline{PQ} 의 최댓값과 최솟값은 세 점 Q, B, P 가 한 직선에 있을 때이므로

$$\overline{PB} - \overline{QB} - \overline{PA} \leq \overline{PQ} - \overline{PA} \leq \overline{PB} + \overline{QB} - \overline{PA}$$

$$4\sqrt{2} - \sqrt{2} \leq \overline{PQ} - \overline{PA} \leq 4\sqrt{2} + \sqrt{2}$$

$$3\sqrt{2} \leq \overline{PQ} - \overline{PA} \leq 5\sqrt{2}$$

$$\therefore M^2 + m^2 = (5\sqrt{2})^2 + (3\sqrt{2})^2 = 68$$



146. 답 ㉔

[해설]

쌍곡선 $\frac{x^2}{3a^2} - \frac{y^2}{a^2} = 1$ 의 초점 F 의 x 좌표를 c ($c > 0$)라 하면

$c^2 = 3a^2 + a^2 = 4a^2$ 이므로 두 초점 F, F' 의 좌표는 각각

$(2a, 0), (-2a, 0)$ 이다.

오른쪽 그림과 같이 삼각형

$F'PF'$ 에 내접하는 원의 세 접점을

각각 A, B, C 라 하면

쌍곡선의 정의에서

$$\overline{PF'} - \overline{PF} = (\text{주축의 길이})$$

이므로

$$(\overline{PA} + \overline{F'A}) - (\overline{PC} + \overline{FC}) = 2\sqrt{3}a$$

그런데 $\overline{PA} = \overline{PC}, \overline{F'A} = \overline{F'B}, \overline{FB} = \overline{FC}$ 이므로

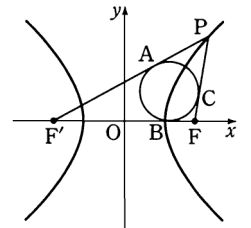
$$\overline{F'B} - \overline{FB} = 2\sqrt{3}a$$

이때, 점 B 의 x 좌표를 상수 k 라 하면

$$(k+2a) - (2a-k) = 2\sqrt{3}a \quad \therefore k = \sqrt{3}a$$

그런데 점 B 의 x 좌표가 구하는 원의 중심의 x 좌표와 같으므로

구하는 값은 $\sqrt{3}a$ 이다.



147. 답 ㉑

[해설] 기울기가 m 이고 점 P 를 지나는 직선의 방정식은

$$y - 2 = m(x - 1)$$

이므로 직선과 쌍곡선의 교점 A, B 의 x 좌표는

방정식 $9x^2 - 16(mx - m + 2)^2 - 1 = 0$ 의 두 근이다.

$A(\alpha, m\alpha - m + 2), B(\beta, m\beta - m + 2)$ 로 놓으면 이차방정식의 근과 계수의 관계에 의하여

$$\alpha + \beta = -\frac{32m(m-2)}{9-16m^2}$$

Q 는 선분 AB 의 중점이므로

$$a = -\frac{16m(m-2)}{9-16m^2}$$

$$b = -\frac{16m^2(m-2)}{9-16m^2} - m + 2 = \frac{-9m+18}{9-16m^2}$$

$$\therefore \lim_{m \rightarrow \infty} \frac{a}{mb} = \lim_{m \rightarrow \infty} \frac{-16m(m-2)}{m(-9m+18)} = \frac{16}{9}$$

148. 답 ㉔

[해설] 점선의 기울기를 m 이라 할 때,
 (i) $m \neq 0$ 인 경우
 기울기가 m 인 점선의 방정식은 $y = mx \pm \sqrt{m^2 - 2}$ 이고 이 직선에 수직 이면서 초점을 지나는 직선의 방정식은

$$y = -\frac{1}{m}(x - \sqrt{3})$$

 즉, $mx - y = \pm \sqrt{m^2 - 2}$ 이고 $x + my = \sqrt{3}$
 두 식의 각 변을 제곱하여 더하면
 $(m^2 + 1)(x^2 + y^2) = m^2 + 1$
 따라서 구하는 도형의 방정식은 $x^2 + y^2 = 1 \dots \text{㉔}$
 (ii) $m = 0$ 인 경우
 초점에서 점 $P(1, 0)$ 을 지나는 점선에 내린 수선의 발을 $Q(1, 0)$ 은 도형 ㉔ 위에 있다.
 (i), (ii)에 의하여 구하는 도형의 방정식은 $x^2 + y^2 = 1$

149. 답 ㉕

[해설] ㄱ. 점근선의 방정식은
 $x^2 - 2y^2 = 0$ 에서 $y = \pm \frac{1}{\sqrt{2}}x$
 이므로 두 점근선의 기울기는 $\pm \frac{1}{\sqrt{2}}$ 이다. (거짓)
 ㄴ. 점 $P(x_1, y_1)$ 에서의 점선의 방정식은
 $x_1x - 2y_1y = 1$
 $y = \pm \frac{1}{\sqrt{2}}x$ 와 $x_1x - 2y_1y = 1$ 을 연립하여 풀면

$$x = \frac{1}{x_1 \mp \sqrt{2}y_1}, y = \pm \frac{1}{\sqrt{2}x_1 \mp 2y_1}$$

 $p = x_1 - \sqrt{2}y_1, q = x_1 + \sqrt{2}y_1$ 이라고 할 때, 교점의 좌표는
 $A\left(\frac{1}{p}, \frac{1}{\sqrt{2}p}\right), B\left(\frac{1}{q}, -\frac{1}{\sqrt{2}q}\right)$

$$\therefore \overline{OA} \cdot \overline{OB} = \sqrt{\frac{1}{p^2} + \frac{1}{2p^2}} \cdot \sqrt{\frac{1}{q^2} + \frac{1}{2q^2}} = \frac{3}{2} \cdot \frac{1}{pq}$$

$$= \frac{3}{2} \cdot \frac{1}{x_1^2 - 2y_1^2} = \frac{3}{2} \text{ (참)}$$

 ㄷ. 선분 AB 의 중점의 좌표는 $\left(\frac{p+q}{2pq}, \frac{q-p}{2\sqrt{2}pq}\right)$ 이고 $pq = 1$ 이므로

$$\frac{p+q}{2pq} = \frac{p+q}{2} = \frac{1}{2} \{(x_1 - \sqrt{2}y_1) + (x_1 + \sqrt{2}y_1)\} = x_1$$

$$\frac{q-p}{2\sqrt{2}pq} = \frac{q-p}{2\sqrt{2}} = \frac{1}{2\sqrt{2}} \{(x_1 + \sqrt{2}y_1) - (x_1 - \sqrt{2}y_1)\} = y_1$$

 그러므로 선분 AB 의 중점은 P 이다. (참)
 따라서 보기에서 옳은 것은 ㄴ, ㄷ이다.

- | | | | |
|-----------|-----------|----------------------------|-----------|
| 1. 답 ④ | 2. 답 ④ | 3. 답 ③ | 4. 답 ③ |
| 5. 답 ③ | 6. 답 ② | 7. 답 20 | 8. 답 ① |
| 9. 답 ③ | 10. 답 ⑤ | 11. 답 ⑤ | 12. 답 ⑤ |
| 13. 답 ⑤ | 14. 답 ④ | 15. 답 ① | 16. 답 ① |
| 17. 답 ③ | 18. 답 ④ | 19. 답 ③ | 20. 답 7 |
| 21. 답 ② | 22. 답 ④ | 23. 답 ① | 24. 답 59 |
| 25. 답 ① | 26. 답 ⑤ | 27. 답 ④ | 28. 답 ③ |
| 29. 답 ④ | 30. 답 ④ | 31. 답 $\frac{\sqrt{3}}{3}$ | 32. 답 ③ |
| 33. 답 ④ | 34. 답 ③ | 35. 답 ⑤ | 36. 답 ⑤ |
| 37. 답 ② | 38. 답 25 | 39. 답 ⑤ | 40. 답 ④ |
| 41. 답 ② | 42. 답 ② | 43. 답 ④ | 44. 답 ⑤ |
| 45. 답 50 | 46. 답 ④ | 47. 답 ③ | 48. 답 ⑤ |
| 49. 답 ② | 50. 답 ③ | 51. 답 32 | 52. 답 ② |
| 53. 답 20 | 54. 답 16 | 55. 답 15 | 56. 답 96 |
| 57. 답 30 | 58. 답 ④ | 59. 답 ④ | 60. 답 ⑤ |
| 61. 답 27 | 62. 답 ② | 63. 답 20 | 64. 답 ④ |
| 65. 답 ③ | 66. 답 ⑤ | 67. 답 10 | 68. 답 ⑤ |
| 69. 답 25 | 70. 답 ⑤ | 71. 답 ① | 72. 답 ① |
| 73. 답 5 | 74. 답 ② | 75. 답 ① | 76. 답 ② |
| 77. 답 ③ | 78. 답 45 | 79. 답 ⑤ | 80. 답 ③ |
| 81. 답 -5 | 82. 답 ③ | 83. 답 36 | 84. 답 ① |
| 85. 답 ② | 86. 답 ② | 87. 답 ① | 88. 답 ③ |
| 89. 답 97 | 90. 답 ② | 91. 답 ⑤ | 92. 답 ② |
| 93. 답 ④ | 94. 답 51 | 95. 답 ① | 96. 답 ② |
| 97. 답 53 | 98. 답 ① | 99. 답 ② | 100. 답 ⑤ |
| 101. 답 ④ | 102. 답 ⑤ | 103. 답 ① | 104. 답 2 |
| 105. 답 ⑤ | 106. 답 ⑤ | 107. 답 ② | 108. 답 ① |
| 109. 답 ② | 110. 답 ⑤ | 111. 답 ① | 112. 답 20 |
| 113. 답 ② | 114. 답 ③ | 115. 답 ④ | 116. 답 ③ |
| 117. 답 18 | 118. 답 ③ | 119. 답 ③ | 120. 답 ① |
| 121. 답 ② | 122. 답 ③ | 123. 답 ③ | 124. 답 ③ |
| 125. 답 ③ | 126. 답 26 | 127. 답 ④ | 128. 답 ⑤ |
| 129. 답 ② | 130. 답 24 | 131. 답 ① | 132. 답 ② |
| 133. 답 ① | 134. 답 ① | 135. 답 18 | 136. 답 84 |
| 137. 답 20 | 138. 답 14 | 139. 답 ③ | 140. 답 ① |
| 141. 답 ⑤ | 142. 답 ③ | 143. 답 557 | 144. 답 5 |
| 145. 답 ② | 146. 답 ③ | 147. 답 ② | 148. 답 ④ |
| 149. 답 ⑤ | 150. 답 ⑤ | 151. 답 ④ | 152. 답 17 |
| 153. 답 ⑤ | 154. 답 ③ | 155. 답 ① | 156. 답 23 |

1. 답 ④

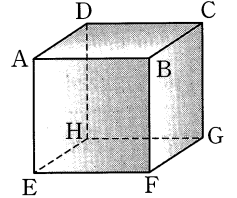
[해설]

ㄱ. 직선 AC와 교인 위치에 있는 모서리는 $\overline{BF}, \overline{DH}, \overline{EF}, \overline{EH}, \overline{FG}, \overline{GH}$ 이므로 모두 6개다. (참)
 ㄴ. \overline{BD} 와 \overline{FH} 는 평행하므로 \overline{BD} 와 \overline{CH} 가 이루는 각의 크기는 \overline{FH} 와 \overline{CH} 가 이루는 각의 크기와 같다.
 $\triangle CFH$ 가 정삼각형이므로 \overline{FH} 와 \overline{CH} 가 이루는 각의 크기는 60° 이다. (거짓)

ㄷ. 평면 ADG 위의 두 선분 AD, DG에 대하여 $\overline{AD} \perp \overline{CH}, \overline{DG} \perp \overline{CH}$ 이므로 (평면 ADG) $\perp \overline{CH}$ 이다. (참)
 따라서 보기에서 옳은 것은 ㄱ, ㄷ이다.

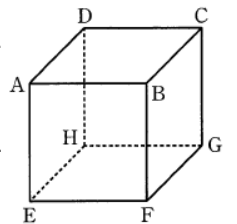
2. 답 ④

[해설] 모서리 AB와 교인 위치에 있는 모서리는 만나지 않고 평행하지 않아야 하므로 모서리 DH, CG, EH, FG의 4개다.



3. 답 ③

[해설] 모서리 AB와 교인 위치에 있는 대각선은 CF, DE, CH, DG, HF, EG로 6개다. 모서리가 12개이고, 각 모서리마다 교인 위치에 있는 대각선이 각각 6개씩 존재하므로 교인 위치에 있는 선분의 쌍의 개수는 12×6 이다.



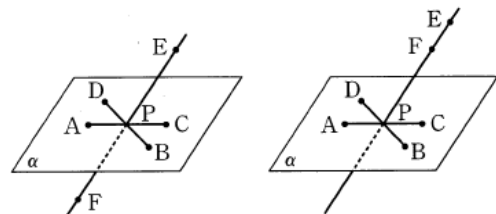
따라서 구하는 확률은 $\frac{12 \times 6}{12 \times 12} = \frac{1}{2}$

4. 답 ③

[해설] ㄱ. 직선 CD와 직선 BQ는 평행하지도 않고 만나지도 않으므로 교인 위치에 있다.
 ㄴ. 직선 AD와 직선 BC는 평행하지도 않고 만나지도 않으므로 교인 위치에 있다.
 ㄷ. 모서리 AC의 중점을 M이라 하면 삼각형 BDM에서 $\overline{BP} : \overline{PM} = \overline{DQ} : \overline{QM} = 2 : 1$ 따라서 $\overline{BD} \parallel \overline{PQ}$ 이므로 교인 위치에 있지 않다. 그러므로 두 직선이 교인 위치에 있는 것은 ㄱ, ㄴ이다.

5. 답 ③

[해설] 조건을 만족하도록 여섯 개의 점 A, B, C, D, E, F를 공간에 나타내면 다음과 같다.



한 직선 위에 있지 않은 3개의 점이 1개의 평면을 결정하므로 6개의 점으로 만들 수 있는 평면의 최대 개수는 ${}_6C_3$ 이다.

이때, 네 점 A, B, C, D와 A, C, E, F와 B, D, E, F는 한 평면 위에 있으므로 한 평면만 결정한다.

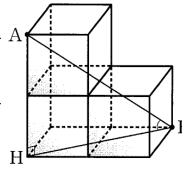
따라서 구하는 평면의 개수는 ${}_6C_3 - 3 \times {}_4C_3 + 3 = 20 - 12 + 3 = 11$

6. 답 ②

[해설] 오른쪽 그림과 같이 점 A에서 밑면에 내린 수선의 발을 H라 하면 직선 AB가 밑면과 이루는 각 θ 는 $\angle ABH$ 이다.

각 정육면체는 한 모서리의 길이가 1이므로 직각 삼각형 ABH에서

$$\begin{aligned} BH &= \sqrt{5}, \quad AH = 2 \\ \therefore AB &= \sqrt{2^2 + (\sqrt{5})^2} = 3 \\ \therefore \cos\theta &= \frac{BH}{AB} = \frac{\sqrt{5}}{3} \end{aligned}$$



7. 답 20

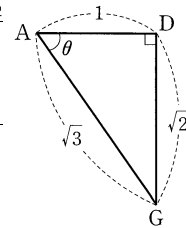
[해설] $AB = AD = 1, \quad BD = \sqrt{2}$ 이므로

$$\angle BAD = \frac{\pi}{2}$$

또, 점 F는 \overline{BD} 의 중점이므로 $\angle BAF = \frac{\pi}{4}$

$$\therefore \theta = \frac{\pi}{4}$$

$$\therefore \cos\theta = \frac{\sqrt{2}}{2}$$



8. 답 ㉠

[해설] \overline{AF} 와 \overline{BG} 가 이루는 각은 \overline{DG} 와 \overline{BG} 가 이루는 각과 같다.

$$\therefore \alpha = \angle BGD = \angle HCF \quad \dots \text{㉠}$$

\overline{BD} 와 \overline{CF} 가 이루는 각은 \overline{FH} 와 \overline{CF} 가 이루는 각과 같다.

$$\therefore \beta = \angle CFH \quad \dots \text{㉡}$$

\overline{BD} 와 \overline{CH} 가 이루는 각은 \overline{FH} 와 \overline{CF} 가 이루는 각과 같다.

$$\therefore \gamma = \angle CHF \quad \dots \text{㉢}$$

㉠, ㉡, ㉢에 의하여 삼각형 CHF의 세 내각의 크기의 합은 π 이므로 $\alpha + \beta + \gamma = \pi$ 이다.

9. 답 ㉢

[해설] $\overline{AC} \perp \overline{DB}, \overline{AC} \perp \overline{BF}$ 에서 $\overline{AC} \perp$ (평면 DBF)이므로 직선 AC는 평면 DBF 위의 임의의 직선과 수직이다. (참)

\therefore 점 Q는 대각선 DF 위에 있으므로 $\overline{QA} = \overline{QC}$

즉, $\triangle QAC$ 는 이등변삼각형이다. 또, $\overline{PQ} \perp \overline{AC}$ 이므로 $\overline{AP} = \overline{CP}$ 이고, 점 P는 \overline{AC} 와 \overline{BD} 의 교점이다.

오른쪽 그림에서

$$\triangle DPF = \frac{1}{2} \triangle DBF$$

$$= \frac{1}{2} \left(\frac{1}{2} \cdot \sqrt{2a} \cdot a \right) = \frac{\sqrt{2}}{4} a^2 \text{ (참)}$$

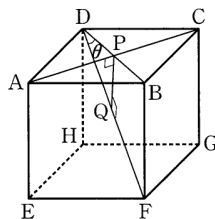
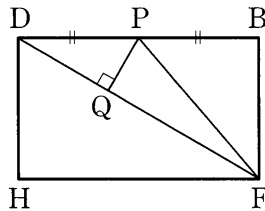
$\therefore \angle BDF = \theta$ 라 하면

$$\sin\theta = \frac{BF}{DF} = \frac{a}{\sqrt{3}a} = \frac{1}{\sqrt{3}}$$

$\triangle DPQ$ 에서

$$= \frac{\sqrt{2}}{2} a \cdot \frac{1}{\sqrt{3}} = \frac{\sqrt{6}}{6} a$$

$$\overline{PQ} = \overline{DP} \sin\theta$$



$$\overline{PQ} \geq 4\sqrt{6} \text{ 에서 } \frac{\sqrt{6}}{6} a \geq 4\sqrt{6} \text{ 이므로 } a \geq 24$$

즉, 선분 PQ의 길이가 $4\sqrt{6}$ 이상이 되기 위한 a의 최솟값은 24이다. (거짓)

따라서 보기에서 옳은 것은 ㄱ, ㄴ이다.

참고

교인 위치에서 두 직선 사이의 최단 거리는 공통수선의 길이이다.

10. 답 ㉠

[해설] [해설] $\overline{EH} \parallel \overline{AD}$ 이고

$\overline{AD} \perp$ (면 CGHD)이므로

$\triangle ADG$ 에서 $\overline{AD} = 1, \overline{DG} = \sqrt{2}, \overline{AG} = \sqrt{3}$

이고 $\angle ADG = 90^\circ$ 이므로

$$\cos\theta = \frac{1}{\sqrt{3}}$$

$$\therefore 60\cos^2\theta = 60 \cdot \frac{1}{3} = 20$$

11. 답 ㉠

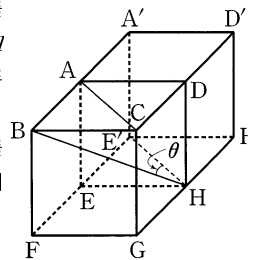
[해설] 오른쪽 그림과 같이 두 정육면체를 붙여 직육면체를 만들면 두 선분 AC, BH가 이루는 각은 두 선분 EH, BH가 이루는 각과 같다.

두 선분 EH, BH가 이루는 각의 크기를 θ 라 하면 $\triangle BHE$ 에서 제이코사인법칙에 의하여

$$\cos\theta = \frac{(\sqrt{3})^2 + (\sqrt{2})^2 - (\sqrt{5})^2}{2 \cdot \sqrt{3} \cdot \sqrt{2}} = 0$$

$$\therefore \theta = \frac{\pi}{2}$$

$$\therefore \sin\theta = 1$$



12. 답 ㉠

[해설] 그림과 같이 두 정육면체를 붙여 직육면체를 만들면 두 선분 AG, BD가 이루는 각은 두 선분 AG, GH'이 이루는 각과 같다.

정육면체의 한 변의 길이를 a, 두 선분 AG, GH'이 이루는 각의 크기를 θ 라 하고 $\triangle AGH'$ 에서 제이코사인 법칙을 사용하면

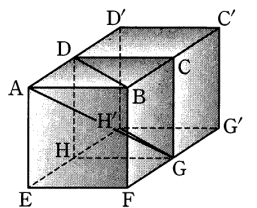
$$\cos\theta = \frac{AG^2 + GH'^2 - AH'^2}{2AG \cdot GH'}$$

$$= \frac{(\sqrt{3}a)^2 + (\sqrt{2}a)^2 - (\sqrt{5}a^2)}{2 \cdot \sqrt{3}a \cdot \sqrt{2}a}$$

$$= 0$$

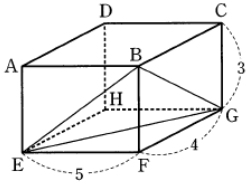
$$\therefore \theta = \frac{\pi}{2}$$

따라서 두 선분이 이루는 각의 크기는 $\frac{\pi}{2}$ 이다.



13. 답 ㉠

[해설]



두 선분 CH, BE 가 평행하므로 선분 BE 와 선분 EG 가 이루는 예각의 크기는 선분 CH 와 선분 EG 가 이루는 예각의 크기 γ 와 같다.

$$\angle BEG = \gamma \dots \textcircled{1}$$

두 선분 AC, EG 가 평행하므로 선분 EG 와 선분 BG 가 이루는 예각의 크기는 선분 AC 와 선분 BG 가 이루는 예각의 크기 β 와 같다.

$$\angle EGB = \beta \dots \textcircled{2}$$

두 선분 AH, BG 가 평행하므로 선분 AF 와 선분 AH 가 이루는 예각의 크기는 선분 AF 와 선분 BG 가 이루는 예각의 크기 α 와 같다.

이때, $\triangle AFH$ 와 $\triangle BEG$ 가 합동이므로 각 GBE 의 크기는 각 HAF 의 크기와 같다.

$$\angle GBE = \angle HAF = \alpha \dots \textcircled{3}$$

삼각형 BEG 의 내각의 크기의 합은 π 이므로 $\textcircled{1}, \textcircled{2}, \textcircled{3}$ 에서

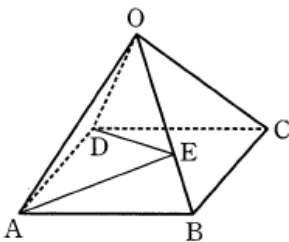
$$\alpha + \beta + \gamma = \pi$$

$$\therefore \cos(\alpha + \beta + \gamma) = -1$$

$$\therefore \text{(가) } \gamma, \text{(나) } \beta, \text{(다) } \alpha$$

14. 답 ④

[해설]



두 선분 AD, BC 가 평행하므로 선분 AE 와 선분 BC 가 이루는 각은 선분 AE 와 선분 AD 가 이루는 각과 같다.

$\triangle ABE$ 에서 $\angle ABE = \frac{\pi}{3}$ 이고, $\overline{AB} = 3, \overline{BE} = 1$ 이므로 제이코사인 법칙에 의하여

$$\overline{AE}^2 = 3^2 + 1^2 - 2 \cdot 3 \cdot 1 \cdot \cos \frac{\pi}{3} = 7$$

$$\therefore \overline{AE} = \sqrt{7}$$

$\triangle ODB$ 에서 $\overline{OD} = 3, \overline{OB} = 3, \overline{DB} = 3\sqrt{2}$ 이므로

$\triangle ODB$ 는 $\angle DOB = \frac{\pi}{2}$ 인 직각삼각형이다.

$\triangle ODE$ 에서 $\angle DOE = \frac{\pi}{2}$ 이고, $\overline{OD} = 3, \overline{OE} = 2$ 이므로 피타고라스

의 정리에 의하여

$$\overline{DE}^2 = 3^2 + 2^2 = 13$$

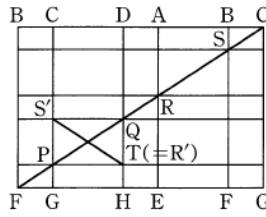
$$\therefore \overline{DE} = \sqrt{13}$$

따라서 $\triangle ADE$ 에서 $\angle DAE = \theta$ 이므로 제이코사인법칙에 의하여

$$\cos \theta = \frac{3^2 + (\sqrt{7})^2 - (\sqrt{13})^2}{2 \cdot 3 \cdot \sqrt{7}} = \frac{1}{2\sqrt{7}} = \frac{\sqrt{7}}{14}$$

15. 답 ①

[해설]



위 그림에서 $\overline{FG} = 3 + 12 + 3 + 12 + 3 = 33, \overline{CG} = 11$

$\triangle CFG \sim \triangle QPT$ 이고, $\overline{PT} = 12$ 이므로

$$\overline{FG} : \overline{CG} = \overline{PT} : \overline{TQ}$$

$$33 : 11 = 12 : \overline{TQ} \quad \therefore \overline{TQ} = 4$$

또한, 직각삼각형 PTQ 에서

$$\overline{PQ} = \sqrt{12^2 + 4^2} = 4\sqrt{10}$$

이때, 정육면체에서 선분 SR 를 평면 $CDHG$ 위로 평행이동한 선분을 $S'R'$ 이라 하면 선분 PQ 와 선분 $R'S'$ 이 이루는 각의 크기가 θ 이다.

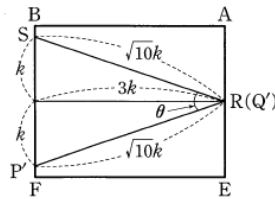
따라서 직사각형 $PTQ'S'$ 의 넓이는

$$\overline{PT} \cdot \overline{QT} = \frac{1}{2} \cdot \overline{PQ} \cdot \overline{S'R'} \cdot \sin \theta$$

$$12 \cdot 4 = \frac{1}{2} \cdot 4\sqrt{10} \cdot 4\sqrt{10} \cdot \sin \theta$$

$$\therefore \sin \theta = \frac{3}{5}$$

다른 풀이



위 그림에서 $\overline{FQ} = 33, \overline{CG} = 11$ 이므로 \overline{PQ} 와 \overline{RS} 의 기울기는 $\frac{1}{3}$ 이다.

다.

\overline{PQ} 를 $\square ABFE$ 로 평행이동한 선분을 $\overline{P'Q'}$ 이라 하면

$$\frac{1}{2} \times 2k \times 3k = \frac{1}{2} \times \sqrt{10}k \times \sqrt{10}k \times \sin \theta$$

$$\therefore \sin \theta = \frac{6}{10} = \frac{3}{5}$$

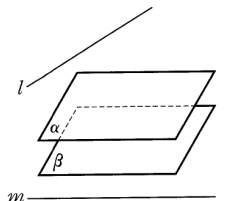
16. 답 ①

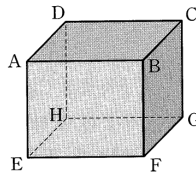
[해설]

ㄱ. 그림과 같이 두 직선 l, m 에 모두 평행한 두 평면은 서로 평행하다. (참)

ㄴ. (반례) 직선 AB 와 직선 BF 는 수직이지만 직선 AB 와 교인 위치인 직선 DH 는 직선 BF 와 수직이 아니다. (거짓)

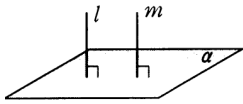
ㄷ. (반례) 직선 AB 와 평면 $BFGC$ 는 수직이지만 직선 AB 와 교인 위치인 직선 DH 는 평면 $BFGC$ 와 수직이 아니다. (거짓)





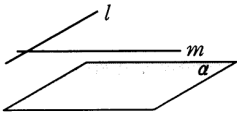
17. 답 ㉓

[해설] ㄱ.



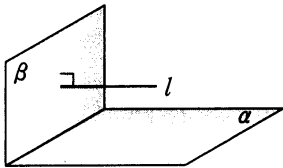
∴ 참

ㄴ.



∴ 거짓

ㄷ.



∴ 참

18. 답 ㉔

[해설] $\overline{AB}=2, \overline{BG}=2\sqrt{2}, \overline{AG}=2\sqrt{3}, \overline{AB} \perp \overline{BG}$ 이므로 점 B에서 선분 AG에 내린 수선의 발을 I라 하면 $\triangle ABG$ 의 넓이에서

$$\frac{1}{2} \cdot \overline{AB} \cdot \overline{BG} = \frac{1}{2} \cdot \overline{AG} \cdot \overline{BI}$$

$$\therefore \overline{BI} = \frac{2\sqrt{2}}{\sqrt{3}} = \frac{2\sqrt{6}}{3}$$

다른 풀이

$\overline{AB}=2, \overline{BG}=2\sqrt{2}, \overline{AG}=2\sqrt{3}$ 이고 $\angle ABG=90^\circ$ 이므로 $\angle AGB=\theta$ 라 하면

$$\sin\theta = \frac{\overline{AB}}{\overline{AG}} = \frac{1}{\sqrt{3}}$$

따라서 점 B에서 \overline{AG} 에 내린 수선의 발을 I라 하면

$$\overline{BI} = \overline{BG} \sin\theta = 2\sqrt{2} \times \frac{1}{\sqrt{3}} = \frac{2\sqrt{6}}{3}$$

19. 답 ㉓

[해설] 사면체 ABCD에서

$\overline{AD} \perp$ (평면 BCD), $\overline{BC} \perp \overline{BD}$ 이므로 삼수선의 정리에 의하여 $\overline{AB} \perp \overline{BC}$

즉, $\triangle ABC$ 는 직각삼각형이므로

$$\overline{AC} = \sqrt{10^2 + 5^2} = 5\sqrt{5}$$

또한, $\overline{AD} \perp$ (평면 BCD) 이므로

$$\overline{BD} \perp \overline{AD}, \overline{CD} \perp \overline{AD}$$

따라서 평면 ABD와 평면 ACD가 이루는 각 θ 는

$$\theta = \angle BDC$$

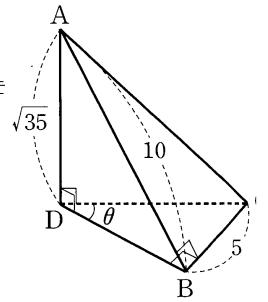
이때, $\triangle BCD$ 는 직각삼각형이므로

$$\sin\theta = \frac{\overline{BC}}{\overline{CD}} = \frac{5}{\overline{CD}}$$

그런데 $\triangle ACD$ 가 직각삼각형이므로

$$\overline{CD} = \sqrt{(5\sqrt{5})^2 - (\sqrt{35})^2} = 3\sqrt{10}$$

$$\therefore \sin\theta = \frac{5}{3\sqrt{10}} = \frac{\sqrt{10}}{6}$$



20. 답 7

[해설] 삼수선의 정리에 의하여 $\overline{PQ} \perp \overline{AB}$ 이므로 직각삼각형 PQO에서 $\overline{PQ} = \sqrt{3^2 + 4^2} = 5$

또, 직각삼각형 AQP에서 $\overline{AP} = \sqrt{(2\sqrt{6})^2 + 5^2} = 7$

21. 답 ㉔

[해설] 점 P에서 직선 BC에 내린 수선의 발을 M이라 하면 삼수선의 정리에 의해

$$\overline{AM} \perp \overline{BC}$$

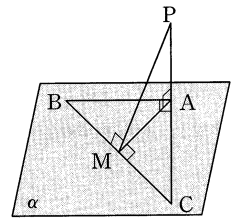
$\triangle ABC$ 에서 $\angle A = 90^\circ$ 이므로 점 M은 선분 BC의 중점이다.

$\overline{BC} = 6$ 이므로

$$\overline{AM} = \overline{MC} = \frac{1}{2} \times \overline{BC} = 3$$

$\overline{PA} = 4$ 이므로 직각삼각형 PAM에서

$$\overline{PM} = \sqrt{\overline{PA}^2 + \overline{AM}^2} = \sqrt{4^2 + 3^2} = 5$$



22. 답 ㉔

[해설] (평면 EFGH) $\perp \overline{AE}, \overline{AI} \perp \overline{FH}$ 이므로 삼수선의 정리에 의하여 $\overline{EI} \perp \overline{FH}$

$$\triangle EFH \text{에서 } \frac{1}{2} \times 1 \times 2 = \frac{1}{2} \times \sqrt{5} \times \overline{EI} \text{이므로 } \overline{EI} = \frac{2}{\sqrt{5}}$$

$$\therefore \overline{AI} = \sqrt{2^2 + \left(\frac{2}{\sqrt{5}}\right)^2} = \frac{2\sqrt{30}}{5}$$

23. 답 ㉑

[해설] 밑면인 원의 중심을 O, 반지름의 길이를 r라 하자.

\overline{PH} 와 밑면이 수직이고 $\overline{HQ} \perp \overline{AB}$ 이므로 삼수선의 정리에 의하여 $\overline{PQ} \perp \overline{AB}$ 이다.

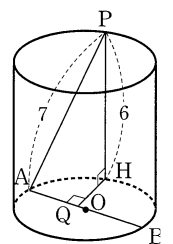
$\triangle PHQ$ 와 $\triangle PQA$ 가 직각삼각형이므로

$$\overline{PQ} = \sqrt{6^2 + 3^2} = 3\sqrt{5}$$

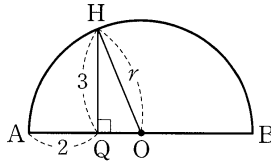
$$\overline{AQ} = \sqrt{7^2 - (3\sqrt{5})^2} = 2$$

또, $\triangle HQO$ 에서 $r^2 = 3^2 + (r-2)^2$

$$\therefore r = \frac{13}{4}$$

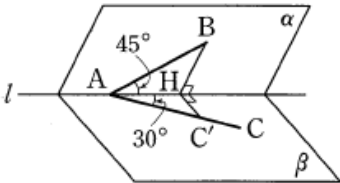


$$\therefore \overline{AB} = 2r = \frac{13}{2}$$



24. 답 59

[해설]



위의 그림에서 $\overline{AH} = a$ 라 하면

$$\overline{AB} = \frac{a}{\cos 45^\circ} = \sqrt{2}a$$

$$\overline{BH} = a \tan 45^\circ = a$$

$$\overline{AC} = \frac{a}{\cos 30^\circ} = \frac{2}{\sqrt{3}}a$$

$$\overline{CH} = a \tan 30^\circ = \frac{1}{\sqrt{3}}a$$

$\triangle BHC$ 에서 $\angle BHC = 30^\circ$ 이므로 제이코사인법칙에 의하여

$$\overline{BC}^2 = \overline{BH}^2 + \overline{CH}^2 - 2\overline{BH} \cdot \overline{CH} \cos 30^\circ$$

$$= a^2 + \frac{1}{3}a^2 - 2 \cdot a \cdot \frac{1}{\sqrt{3}}a \cdot \frac{\sqrt{3}}{2} = \frac{1}{3}a^2$$

$\triangle ABC$ 에서 $\angle BAC = \theta$ 이므로 제이코사인법칙에 의하여

$$\cos \theta = \frac{\overline{AB}^2 + \overline{AC}^2 - \overline{BC}^2}{2\overline{AB} \cdot \overline{AC}}$$

$$= \frac{(\sqrt{2}a)^2 + \left(\frac{2}{\sqrt{3}}a\right)^2 - \frac{1}{3}a^2}{2 \cdot \sqrt{2}a \cdot \frac{2}{\sqrt{3}}a} = \frac{3\sqrt{6}}{8}$$

$$\therefore \cos^2 \theta = \frac{27}{32}$$

$$\therefore p + q = 32 + 27 = 59$$

25. 답 ①

[해설] 구하고자 하는 최댓값은 \overline{PA} 또는 \overline{PB} 이고,

$$\overline{PC} \perp \alpha, \overline{AB} \perp \overline{OC}$$

이므로 삼수선의 정리에 의하여

$$\overline{PO} \perp \overline{AB} \quad \dots \textcircled{1}$$

$$\therefore \overline{PO} = \sqrt{\overline{CO}^2 + \overline{PC}^2}$$

$$= \sqrt{4^2 + 3^2} = \sqrt{16 + 9}$$

$$= \sqrt{25} = 5$$

또한, 삼각형 POA 는 $\textcircled{1}$ 에 의하여 직각삼각형이므로

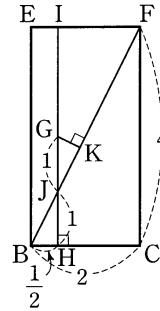
$$\overline{PA} = \sqrt{\overline{PO}^2 + \overline{AO}^2}$$

$$= \sqrt{5^2 + 1^2}$$

$$= \sqrt{26}$$

26. 답 ⑤

[해설] 점 P 와 선분 AD 의 평면 BCFE 위로의 정사영을 각각 G, 선분 HI 라 하면 그림과 같이 나타낼 수 있다.



이때, 선분 BF 와 선분 HI 의 교점을 J 라 하면 $\frac{1}{2} : 2 = \overline{HJ} : 4$ 에서

$$\overline{HJ} = 1 \text{ 이므로 } \overline{GJ} = 1$$

또한, 점 G 에서 선분 BF 에 내린 수선의 발을 K 라 하면

$$\overline{BJ} = \sqrt{\left(\frac{1}{2}\right)^2 + 1^2} = \frac{\sqrt{5}}{2} \text{ 이므로 } \overline{GK} : 1 = \frac{1}{2} : \frac{\sqrt{5}}{2} \text{ 에서}$$

$$\overline{GK} = \frac{1}{\sqrt{5}}$$

따라서, $\overline{PG} \perp$ (평면 BCFE), $\overline{GK} \perp \overline{BF}$ 이므로 삼수선의 정리에 의하여

$$\overline{PK} \perp \overline{BF}$$

즉, 점 P 에서 선분 BF 까지의 거리는 \overline{PK} 이고,

$$\overline{PG} = \overline{AH} = \sqrt{1^2 - \left(\frac{1}{2}\right)^2} = \frac{\sqrt{3}}{2} \text{ 이므로}$$

$$\overline{PK} = \sqrt{\overline{PG}^2 + \overline{GK}^2}$$

$$= \sqrt{\left(\frac{\sqrt{3}}{2}\right)^2 + \left(\frac{1}{\sqrt{5}}\right)^2}$$

$$= \frac{\sqrt{95}}{10}$$

27. 답 ④

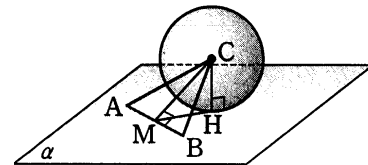
[해설] 구의 중심 C 에서 평면 α 에 내린 수선의 발을 H 라 하면

$$\overline{CH} \perp \alpha \quad \dots \textcircled{1}$$

또, 선분 AB 의 중점을 M 이라 하면 삼각형 CAB 는 정삼각형이므로

$$\overline{CM} \perp \overline{AB} \quad \dots \textcircled{2}$$

$\textcircled{1}$ 과 $\textcircled{2}$ 에 의하여 삼수선의 정리에 의해 $\overline{AB} \perp \overline{HM}$ 이므로 두 평면 CAB, α 가 이루는 각의 크기는 $\angle CMH$ 이다.



$$\therefore \cos \theta = \cos(\angle CMH)$$

$$= \frac{\overline{MH}}{\overline{CM}}$$

$$= \frac{\sqrt{\overline{CM}^2 - \overline{CH}^2}}{\overline{CM}}$$

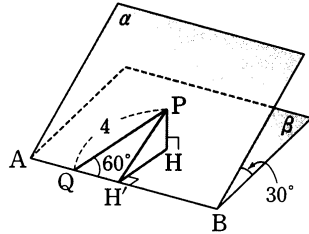
$$= \frac{\sqrt{(AC \sin 60^\circ)^2 - 1^2}}{AC \sin 60^\circ}$$

$$= \frac{\sqrt{(\sqrt{3})^2 - 1}}{\sqrt{3}} = \frac{\sqrt{6}}{3}$$

28. 답 ㉓

[해설]

점 P에서 평면 β에 내린 수선의 발을 H라 하면 선분 PH의 길이가 구하는 거리이다.
한편, 점 H에서 선분 AB에 내린 수선을 발을 H'이라 하면 삼수선의 정리에 의해



$$\overline{PH'} \perp \overline{AB}$$

이므로 두 직각삼각형 PQH', PH'H에서

$$\overline{PH} = \overline{PH'} \sin 30^\circ$$

$$= \overline{PQ} \sin 60^\circ \times \sin 30^\circ$$

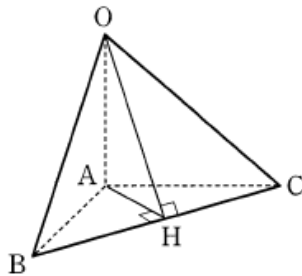
$$= 4 \times \sin 60^\circ \times \sin 30^\circ$$

$$= 4 \times \frac{\sqrt{3}}{2} \times \frac{1}{2} = \sqrt{3}$$

29. 답 ㉔

[해설] $\overline{OA} \perp \overline{AB}$, $\overline{OA} \perp \overline{AC}$ 이므로

$\overline{OA} \perp$ (평면 ABC)
점 A에서 선분 BC에 내린 수선의 발을 H라 하면 삼수선의 정리에 의해 $\overline{OH} \perp \overline{BC}$ 이다.
따라서 점 P가 H일 때, 즉 $\overline{OH} + \overline{AH}$ 가 구하는 최솟값이다.
한편, $\overline{AB} = 2$, $\overline{AC} = 2\sqrt{3}$ 이므로



$$\overline{BC} = \sqrt{2^2 + (2\sqrt{3})^2} = 4$$

$$\frac{1}{2} \overline{AB} \times \overline{AC} = \frac{1}{2} \overline{BC} \times \overline{AH}$$

$$\frac{1}{2} \times 2 \times 2\sqrt{3} = \frac{1}{2} \times 4 \times \overline{AH}$$

$$\therefore \overline{AH} = \sqrt{3}$$

이때, $\triangle OAH$ 는 직각삼각형이므로

$$\overline{OH} = \sqrt{3^2 + (\sqrt{3})^2} = 2\sqrt{3}$$

$$\therefore \overline{OP} + \overline{AP} \geq \overline{OH} + \overline{AH} = 2\sqrt{3} + \sqrt{3} = 3\sqrt{3}$$

따라서 $\overline{OP} + \overline{AP}$ 의 최솟값은 $3\sqrt{3}$ 이다.

30. 답 ㉔

[해설] 점 M, N 각각 선분 AD, EH의 중점이므로

$$\overline{MI} \perp$$
 (평면 EFGH) ... ㉑

또, 점 M에서 선분 JP에 내린 수선의 발을 N이라 하면 $\overline{MN} \perp \overline{JP}$ 이므로

삼수선의 정리에 의하여

$$\overline{IN} \perp \overline{JP} \dots \text{㉒}$$

이때, 선분 IN은 평면 EFGH에 포함되고 ㉑이므로

$$\overline{MI} \perp \overline{IN}$$

즉, 삼각형 MIN은 직각삼각형이다.

$$\therefore \overline{IN} = \sqrt{\left(\frac{5}{2}\right)^2 - 2^2} = \frac{3}{2}$$

한편, 각 IPJ는 호 IJ에 대한 원주각이므로 크기가 45°이다.

$$\text{따라서 } \overline{NP} = \overline{IN} = \frac{3}{2} \text{이므로}$$

$$\overline{IP} = \sqrt{\left(\frac{3}{2}\right)^2 + \left(\frac{3}{2}\right)^2} = \sqrt{\frac{9}{2}} = \frac{3\sqrt{2}}{2}$$

참고

삼각형 IJP의 외접원은 반지름의 길이가 1이므로 사인법칙

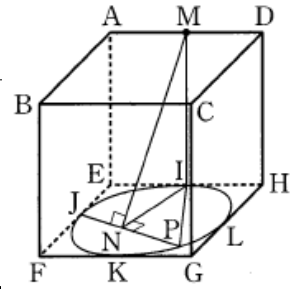
$$\frac{\overline{IJ}}{\sin(\angle IPJ)} = 2R \quad (R \text{는 외접원의 반지름의 길이})$$

를 이용할 수 있다.

$$\text{즉, } \overline{IJ} = \sqrt{1^2 + 1^2} = \sqrt{2}, \quad R = 1 \text{이므로}$$

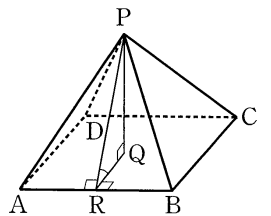
$$\frac{\sqrt{2}}{\sin(\angle IPJ)} = 2, \quad \sin(\angle IPJ) = \frac{\sqrt{2}}{2}$$

$$\therefore \angle IPJ = 45^\circ$$



31. 답 $\frac{\sqrt{3}}{3}$

[해설] 두 평면 PAB, ABCD의 교선이 AB이고, 모서리 AB의 중점을 R라 하면 $\overline{PR} \perp \overline{AB}$ 이다. 또, 점 P에서 면 ABCD에 내린 수선의 발을 Q라 하면 점 Q는 정사각형 ABCD의 대각선의 교점이므로 $\overline{QR} \perp \overline{AB}$ 이다.



따라서 두 면 PAB, ABCD가 이루는 각의 크기 θ는 ∠PRQ의 크기와 같다.

$$\text{한편, } \overline{PR} = \overline{PA} \sin 60^\circ = 2 \cdot \frac{\sqrt{3}}{2} = \sqrt{3},$$

$$\overline{QR} = \frac{1}{2} \overline{AD} = 1 \text{이므로 } \cos \theta = \frac{\overline{QR}}{\overline{PR}} = \frac{1}{\sqrt{3}} = \frac{\sqrt{3}}{3}$$

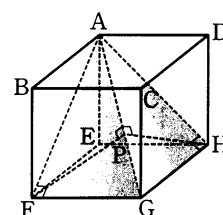
32. 답 ㉓

[해설] \overline{FG} 는 평면 ABFE와 수직이므로

$$\overline{AF} \perp \overline{FG}$$

또, \overline{HG} 는 평면 AEHD와 수직이므로

$$\overline{AH} \perp \overline{HG}$$



따라서 정육면체의 한 모서리의 길이를 1이라 하고, 점 F에서 \overline{AG} 에 내린 수선의 발을 P라 하면 직각삼각형 AFG의 넓이에서

$$\begin{aligned} & \frac{1}{2} \times \overline{AF} \times \overline{FG} \\ &= \frac{1}{2} \times \overline{AG} \times \overline{FP} \end{aligned}$$

이므로

$$\begin{aligned} \frac{1}{2} \times \sqrt{2} \times 1 &= \frac{1}{2} \times \sqrt{3} \times \overline{FP} \\ \therefore \overline{FP} &= \frac{\sqrt{2}}{\sqrt{3}} \end{aligned}$$

그런데 두 직각삼각형 AFG, AHG는 합동이므로 점 H에서 \overline{AG} 에 내린 수선의 발도 P이고, $\overline{HP} = \frac{\sqrt{2}}{\sqrt{3}}$ 이다.

따라서 두 평면 AFG와 AHG가 이루는 각의 크기는 \overline{FP} , \overline{HP} 가 이루는 각의 크기가 같다.

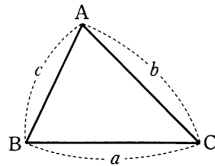
$\overline{FH} = \sqrt{2}$ 이므로 삼각형 PFH에서 제이코사인법칙에 의해

$$\begin{aligned} \cos \theta &= \frac{\left(\frac{\sqrt{2}}{\sqrt{3}}\right)^2 + \left(\frac{\sqrt{2}}{\sqrt{3}}\right)^2 - (\sqrt{2})^2}{2 \cdot \frac{\sqrt{2}}{\sqrt{3}} \cdot \frac{\sqrt{2}}{\sqrt{3}}} = -\frac{1}{2} \\ \therefore \cos^2 \theta &= \frac{1}{4} \end{aligned}$$

참고 제이코사인법칙

$$a^2 = b^2 + c^2 - 2bc \cos A$$

$$b^2 = c^2 + a^2 - 2ca \cos B$$



33. 답 ④

[해설] 사면체 ABCD에서 $\overline{AD} \perp$ (평면 BCD), $\overline{BC} \perp \overline{BD}$ 이므로 삼수선의 정리에 의하여 $\overline{AB} \perp \overline{BC}$

따라서 $\triangle ABC$ 는 직각삼각형이므로

$$\begin{aligned} \overline{AC} &= \sqrt{24^2 + 7^2} \\ &= \sqrt{625} = 25 \end{aligned}$$

또한, $\overline{AD} \perp$ (평면 BCD)이므로

$$\overline{BD} \perp \overline{AD}, \overline{CD} \perp \overline{AD}$$

따라서 평면 ABD는 평면 ACD와 이루는 각

θ 는

$$\theta = \angle BDC$$

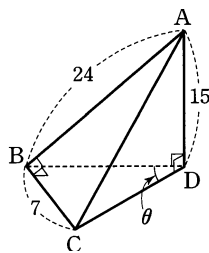
이때, 삼각형 BCD는 직각삼각형이므로

$$\sin \theta = \frac{\overline{BC}}{\overline{CD}} = \frac{7}{20}$$

이때, 직각삼각형 ACD에서

$$\begin{aligned} \overline{CD} &= \sqrt{25^2 - 15^2} \\ &= \sqrt{400} = 20 \end{aligned}$$

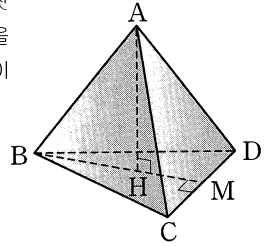
$$\therefore \sin \theta = \frac{7}{20}$$



34. 답 ㉓

[해설] 정사면체에 한 변의 길이를 a, 꼭짓점 A에서 밑면 BCD에 내린 수선의 발을 H라 하면 점 H는 $\triangle BCD$ 의 무게중심이므로

$$\begin{aligned} \overline{BH} &= \frac{2}{3} \overline{BM} \\ &= \frac{2}{3} \times \overline{BC} \times \sin 60^\circ \\ &= \frac{2}{3} \times a \times \frac{\sqrt{3}}{2} \\ &= \frac{\sqrt{3}}{3} a \\ \therefore \cos \theta &= \frac{\overline{BH}}{\overline{AB}} = \frac{\sqrt{3}}{3} \end{aligned}$$



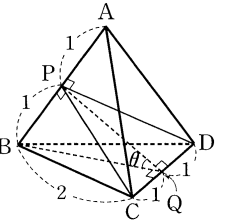
35. 답 ㉓

[해설] 정사면체 ABCD에서 점 P가 \overline{AB} 의 중점이면 $\overline{AB} \perp \overline{CP}$, $\overline{AB} \perp \overline{DP}$ 이므로 $\overline{AB} \perp$ (평면 PCD)이다.

이때, \overline{CD} 의 중점을 Q라 하면

$\angle BQP = \theta$ 이고 $\triangle PBQ$ 는 직각삼각형이므로

$$\begin{aligned} \cos \theta &= \frac{\overline{PQ}}{\overline{BQ}} \\ \overline{BQ} &= \sqrt{2^2 - 1^2} = \sqrt{3}, \quad \overline{PQ} = \sqrt{(\sqrt{3})^2 - 1^2} = \sqrt{2} \\ \therefore \cos \theta &= \frac{\sqrt{2}}{\sqrt{3}} = \frac{\sqrt{6}}{3} \end{aligned}$$



36. 답 ㉓

[해설] 직선 OH는 밑면 ABCD와 수직이므로

$$\overline{OH} \perp \overline{BH}, \overline{OH} \perp \overline{EH}$$

따라서, 두 평면 OBH와 OEH가 이루는 각 θ 에 대하여

$$\theta = \angle BHE$$

$$\text{이때, } \overline{BH} = \sqrt{1^2 + 2^2}$$

$$\overline{EH} = \sqrt{1^2 + 2^2}$$

$$= \sqrt{5}$$

$$\overline{BE} = \sqrt{1^2 + 1^2}$$

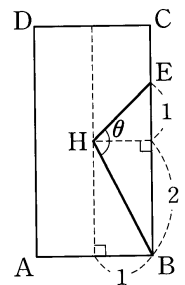
$$= \sqrt{2}$$

$$\therefore |\cos \theta|$$

$$= \left| \frac{\overline{BH}^2 + \overline{EH}^2 - \overline{BE}^2}{2\overline{BH} \cdot \overline{EH}} \right|$$

$$= \left| \frac{-2}{2\sqrt{10}} \right|$$

$$= \frac{\sqrt{10}}{10}$$



37. 답 ㉓

[해설] 정팔면체의 한 변의 길이를 2a, 변 BC의 중점을 M이라하면 $\triangle ABC$, $\triangle FCB$ 는 정삼각형이므로

$$\overline{AM} \perp \overline{BC}, \overline{FM} \perp \overline{BC}$$

그러므로 두 선분 AM, FM이

이르는 각의 크기가 θ 이다.

한편,

$$\begin{aligned} \overline{AM} &= \sqrt{\overline{AB}^2 - \overline{BM}^2} \\ &= \sqrt{(2a)^2 - a^2} \\ &= \sqrt{3}a \end{aligned}$$

마찬가지로

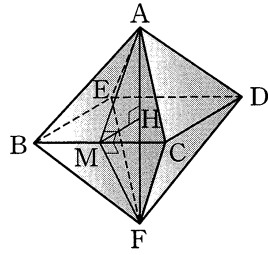
$$\overline{FM} = \sqrt{3}a$$

선분 AF와 평면 BCDE가 만나는 점을 H라 하면 $\overline{AH} \perp \overline{MH}$ 이므로

$$\begin{aligned} \overline{AF} &= 2\overline{AH} \\ &= 2\sqrt{\overline{AM}^2 - \overline{MH}^2} \\ &= 2\sqrt{(\sqrt{3}a)^2 - a^2} \\ &= 2\sqrt{2}a \end{aligned}$$

따라서 $\triangle AMF$ 에서 제이코사인 법칙을 이용하면

$$\begin{aligned} \cos \theta &= \frac{\overline{AM}^2 + \overline{FM}^2 - \overline{AF}^2}{2\overline{AM} \cdot \overline{FM}} \\ &= \frac{3a^2 + 3a^2 - 8a^2}{2 \cdot \sqrt{3}a \cdot \sqrt{3}a} \\ &= -\frac{1}{3} \end{aligned}$$



$\triangle OQH$ 에서 $\angle BOC = 60^\circ$ 이므로

$$\overline{QH} = \sqrt{3}a, \overline{OQ} = 2a$$

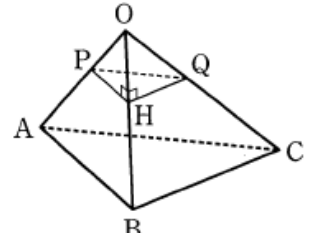
$\triangle OPQ$ 에서 $\angle AOC = 90^\circ$ 이므로

$$\overline{PQ} = \sqrt{(\sqrt{2}a)^2 + (2a)^2} = \sqrt{6}a$$

따라서 $\triangle PHQ$ 에서 $\angle PHQ = \theta$ 이

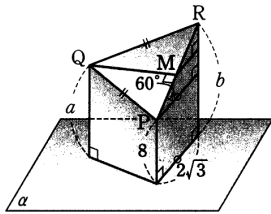
므로 제이코사인법칙에 의하여

$$\cos \theta = \frac{a^2 + (\sqrt{3}a)^2 - (\sqrt{6}a)^2}{2 \cdot a \cdot \sqrt{3}a} = \frac{-2a^2}{2\sqrt{3}a^2} = -\frac{\sqrt{3}}{3}$$



38. 답 25

[해설] 세 원기둥의 밑면의 반지름의 길이가 모두 같으므로 삼각형 QRP가 이등변삼각형이라면 세 원기둥의 높이가 작은 것부터 차례로 등차수열을 이루어야 하고, 이때 $\overline{QP} = \overline{QR}$ 이다.



또, 선분 PR의 중점을 M이라 하면 점 Q를 지나고 평면 α 와 평행한 평면 β 와 평면 QPR의 교선은 선분 QM이다.

이때, $\overline{QM} \perp \overline{PR}$ 이므로 두 평면 QPR, β 가 이루는 각의 크기는 선분 PR와 평면 α 가 이루는 각의 크기는 60° 와 같다.

원의 반지름의 길이가 $\sqrt{3}$ 이므로 위의 그림에서 점 P와 점 R의 평면 α 로부터의 거리의 차는

$$\begin{aligned} &2\sqrt{3} \tan 60^\circ \\ &= 2\sqrt{3} \times \sqrt{3} \\ &= \sqrt{6} \end{aligned}$$

따라서 세 원기둥의 높이는 각각 8, 8+3, 8+6이므로

$$\begin{aligned} a &= 11, b = 14 \\ \therefore a + b &= 25 \end{aligned}$$

39. 답 6

[해설] $\overline{PH} \perp \overline{OB}$ 이고, $\overline{QH} \perp \overline{OB}$ 를 만족하는 점 P, H, Q를 모서리 OA, OB, OC 위에 각각 잡고, $\overline{OH} = a$ 라 하면

$\triangle OPH$ 에서 $\angle AOB = 45^\circ$ 이므로

$$\overline{PH} = a, \overline{OP} = \sqrt{2}a$$

40. 답 4

[해설] 정사면체의 한 모서리의 길이를 1이라 하고, 두 꼭짓점 A, E에서 밑면에 내린 수선의 발을 각각 H, I라고 하면 두 점 H, I는 각각 $\triangle BCD$, $\triangle CDF$ 의 무게중심이다. 또한, 선분 CD의 중점을 M이라고 하면 그림과 같이 나타 낼 수 있다.

$$\begin{aligned} \therefore \cos \theta &= \frac{\left(\frac{\sqrt{3}}{2}\right)^2 + \left(\frac{\sqrt{3}}{2}\right)^2 - \left(\frac{\sqrt{3}}{3}\right)^2}{2 \times \frac{\sqrt{3}}{2} \times \frac{\sqrt{3}}{2}} \\ &= \frac{\frac{7}{6}}{\frac{3}{2}} = \frac{7}{9} \end{aligned}$$

41. 답 2

[해설] 점 M은 선분 BC의 중점이고 $\triangle ABC$ 와 $\triangle BCD$ 는 정삼각형이므로

$$\overline{AM} \perp \overline{BC}, \overline{DM} \perp \overline{BC}$$

이고, 두 평면 ABC와 BCD가 이루는 각의 크기는 $\angle AMD$ 이다.

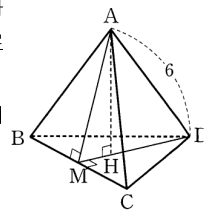
$$\overline{AM} = \overline{DM} = 6 \times \sin 60^\circ = 3\sqrt{3}$$

점 A에서 밑면 BCD에 내린 수선의 발을 H라

하면 점 H는 $\triangle BCD$ 의 무게중심이므로 $\overline{DH} : \overline{MH} = 2 : 1$

이때, 선분 AM의 $\triangle BCD$ 위로의 정사영은 선분 MH이므로 선분 AM의 평면 BCD 위로의 정사영의 길이는

$$\overline{MH} = \frac{1}{3} \times \overline{DM} = 3\sqrt{3} \times \frac{1}{3} = \sqrt{3}$$



42. 답 2

[해설] 그림자의 길이가 6이므로

$$\tan 30^\circ = \frac{m}{6}, \frac{\sqrt{3}}{3} = \frac{m}{6}$$

$$\therefore m = 2\sqrt{3}$$

또한, 그림자의 길이가 0이 되도록 기울이면 막대를 평면 α 와 30° 를

이루도록 기울여야 하므로 정사영의 길이 l 은

$$l = m \cos 30^\circ = 2\sqrt{3} \times \frac{\sqrt{3}}{2} = 3$$

43. 답 ④

[해설] 점 A에서 평면 BCD 위에 내린 수선의 발을 H라 하면 선분 AE의 정사영은 선분 HE이다.

이때, 변 BC의 중점을 M이라 하면

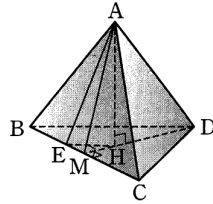
$$\begin{aligned} \overline{MH} &= \frac{1}{3} \overline{DM} \\ &= \frac{1}{3} \overline{CD} \sin 60^\circ \\ &= \frac{1}{3} \times 6 \times \frac{\sqrt{3}}{2} \\ &= \sqrt{3} \end{aligned}$$

또, 점 E는 변 BC를 1:2로 내분하는 점이므로

$$\begin{aligned} \overline{EM} &= \overline{BM} - \overline{BE} \\ &= \frac{1}{2} \overline{BC} - \frac{1}{3} \overline{BC} \\ &= \frac{1}{2} \times 6 - \frac{1}{3} \times 6 = 1 \end{aligned}$$

따라서 구하는 정사영의 길이는 직각삼각형 EMH에서

$$\begin{aligned} \overline{EH} &= \sqrt{\overline{EM}^2 + \overline{MH}^2} \\ &= \sqrt{1^2 + (\sqrt{3})^2} \\ &= 2 \end{aligned}$$



44. 답 ⑤

[해설] $\triangle PQR$ 에서

$$\begin{aligned} \overline{PQ} &= \overline{QR} \\ &= \sqrt{1^2 + 3^2} = \sqrt{10} \\ \overline{PR} &= \sqrt{3^2 + 3^2} \\ &= 3\sqrt{2} \end{aligned}$$

점 Q에서 \overline{PR} 에 내린 수선의 발을 I라 하면

$$\begin{aligned} \overline{QI} &= \sqrt{(\sqrt{10})^2 - \left(\frac{3\sqrt{2}}{2}\right)^2} \\ &= \sqrt{\frac{11}{2}} \end{aligned}$$

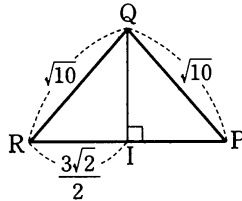
$$\begin{aligned} \therefore \triangle PQR &= \frac{1}{2} \times 3\sqrt{2} \times \sqrt{\frac{11}{2}} \\ &= \frac{3\sqrt{11}}{2} \end{aligned}$$

한편, $\triangle PQR$ 의 평면 CGHD 위로의 정사영은 $\triangle DCG$ 이고

$$\triangle DCG = \frac{1}{2} \times 3 \times 3 = \frac{9}{2} \text{ 이므로}$$

$$\frac{3\sqrt{11}}{2} \cos \theta = \frac{9}{2} \text{ 에서}$$

$$\cos \theta = \frac{3}{\sqrt{11}} = \frac{3\sqrt{11}}{11}$$



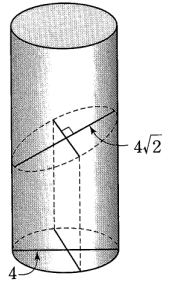
45. 답 50

[해설] 단축의 길이는 밑면의 지름의 길이와 같으므로

$$4\sqrt{2} \cos \theta = 4 \text{ 에서}$$

$$\cos \theta = \frac{\sqrt{2}}{2}$$

$$\begin{aligned} \therefore 100 \cos^2 \theta &= 100 \times \frac{1}{2} \\ &= 50 \end{aligned}$$



46. 답 ④

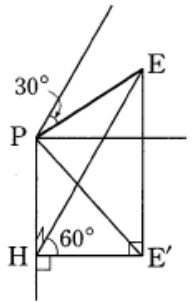
[해설] 점 E에서 평면 PCDQ에 내린 수선의 발을 E', 점 E'에서 선분 PQ에 내린 수선의 발을 H라 하면 선분 PE'의 평면 PCDQ 위로의 정사영은 선분 PE'이고, 삼수선의 정리에 의하여 $\angle PHE = 90^\circ$ 이다.

이때, $\overline{PH} = 2 \cos 60^\circ = 1$,

$$\overline{EH} = 2 \sin 60^\circ = 2 \times \frac{\sqrt{3}}{2} = \sqrt{3} \text{ 이고,}$$

$$\overline{E'H} = \overline{EH} \cos 60^\circ = \sqrt{3} \times \frac{1}{2} = \frac{\sqrt{3}}{2} \text{ 이므로}$$

$$\overline{PE'} = \sqrt{\overline{PH}^2 + \overline{E'H}^2} = \sqrt{1^2 + \left(\frac{\sqrt{3}}{2}\right)^2} = \frac{\sqrt{7}}{2}$$



47. 답 ㉓

[해설] 정사영의 길이가 최소일 때는 선분 PQ가 평면 α 와 60° 의 각을 이룰 때이므로 최솟값은 m 은

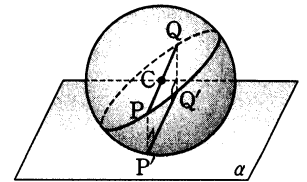
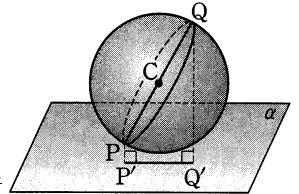
$$\begin{aligned} m &= \overline{PQ} \cos 60^\circ \\ &= 4 \times \frac{1}{2} = 2 \end{aligned}$$

또, 정사영의 길이가 최대일 때는 선분 PQ와 평면 α 가 평행할 때이므로 최댓값은 M 은

$$\begin{aligned} M &= \overline{PQ} \cos 0^\circ \\ &= 4 \times 1 = 4 \end{aligned}$$

따라서 최댓값과 최솟값의 합은

$$M + m = 4 + 2 = 6$$



48. 답 ⑤

[해설]

ㄱ. 선분 OA의 중점을 M이라고 하면

$$\overline{OA} \perp \overline{BM}, \overline{OA} \perp \overline{CM}$$

이므로 $\overline{OA} \perp$ (평면 BCM)

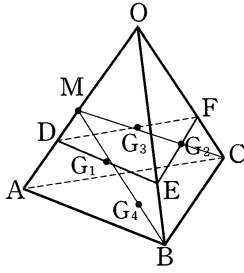
$$\therefore \overline{OA} \perp \overline{G_1G_3} \text{ (참)}$$

ㄴ. $\overline{G_1G_3} \parallel \overline{BC}$ 이고, $\overline{G_1G_3} = \frac{1}{3} \overline{BC} = 1$ 이므로 $\overline{G_1G_3}$ 의 평면

ABC로의 정사영의 길이는 $\overline{G_1G_3} = 1$ 이다. (참)

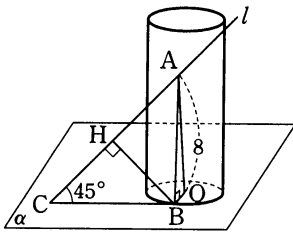
ㄷ. 세 점 G_1, G_2, G_3 을 지나는 평면으로

정사면체를 자르면 윗부분은 한모서리의 길이가 2인 정사면체 O-DEF가 된다. 또한, 삼각형 G₁G₂G₃은 정삼각형이므로 G₅는 삼각형DEF의 무게중심이다. 따라서, 세 점 O, G₄, G₅는 한 직선 위에 있다. (참)



49. 답 ㉔

[해설] 점 A를 지나는 모선을 \overline{AB} 라 하면 \overline{AB} 는 평면 α 와 수직이다. 이때, 직선 l 과 평면 α 가 만나는 점을 C라 하면 직선 BC는 원기둥의 밑면에 접하는 접선이 된다.



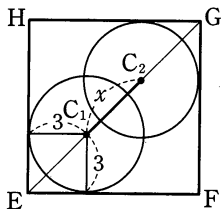
또, $\overline{OB} \perp \overline{BC}$, $\overline{OB} \perp \overline{AB}$ 이므로 $\overline{OB} \perp$ (평면 ABC)

따라서 점 B에서 직선 l 에 내린 수선의 발을 H라 하면 \overline{BH} 는 평면 ABC 위로의 \overline{OB} 의 정사영이 되므로 삼수선의 정리에 의하여 $\overline{OH} \perp \overline{AC}$ 이고, 점 O에서 직선 l 까지의 거리는 선분 OH이다.

$$\begin{aligned} \overline{AB} &= \sqrt{8^2 - 4^2} = 4\sqrt{3} \\ \overline{BC} &= \frac{\overline{AB}}{\tan 45^\circ} = 4\sqrt{3} \\ \overline{BH} &= \overline{BC} \sin 45^\circ \\ &= 4\sqrt{3} \times \frac{\sqrt{2}}{2} = 2\sqrt{6} \\ \therefore \overline{OH} &= \sqrt{\overline{BH}^2 + \overline{OB}^2} \\ &= \sqrt{(2\sqrt{6})^2 + 4^2} = 2\sqrt{10} \end{aligned}$$

50. 답 ㉓

[해설] 두 구 C₁, C₂를 평면 EFGH에 정사영시키면 다음 그림과 같다.



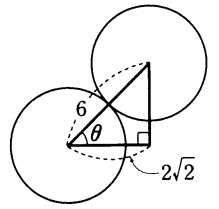
두 구를 정사영시켜서 얻은 두 원의 중심 사이의 거리를 x라 하면 $\overline{EG} = \sqrt{8^2 + 8^2} = 8\sqrt{2}$ 이므로

$$\begin{aligned} x &= 8\sqrt{2} - 2\sqrt{3^2 + 3^2} \\ &= 8\sqrt{2} - 6\sqrt{2} \end{aligned}$$

$$= 2\sqrt{2}$$

또, 두 구는 서로 외접하므로 오른쪽 그림과 같이 두 구의 중심사이의 거리는 6이다.

$$\therefore \cos \theta = \frac{2\sqrt{2}}{6} = \frac{\sqrt{2}}{3}$$



51. 답 32

[해설] 반지름의 길이가 8인 원의 넓이 S는 $S = 64\pi$ 이때, 두 평면 α, β 가 이루는 각의 크기가 60° 이므로 정사영의 넓이 S'은 $S' = 64\pi \cdot \cos 60^\circ = 32\pi$ $\therefore a = 32$

52. 답 ㉔

[해설] $\triangle AGD$ 의 밑면 EFGH 위로의 정사영은 $\triangle EGH$ 이다. 직육면체의 한 모서리의 길이가 2이므로

$$\begin{aligned} \triangle AGD &= \frac{1}{2} \times \overline{AD} \times \overline{DG} \quad (\because \angle ADG \text{는 직각}) \\ &= \frac{1}{2} \times 2 \times 2\sqrt{2} = 2\sqrt{2} \end{aligned}$$

$$\triangle EGH = \frac{1}{2} \times 2 \times 2 = 2$$

평면 AGD와 평면 EFGH가 이루는 예각의 크기를 θ 라 하면

$$2 = 2\sqrt{2} \cos \theta \text{ 에서 } \cos \theta = \frac{\sqrt{2}}{2}$$

$\triangle EFG$ 의 넓이는 2이므로 $\triangle EFG$ 의 평면 ADG 위로의 정사영의 넓이는 $2 \cos \theta = \sqrt{2}$

53. 답 20

[해설] 정사면체의 꼭짓점 A는 밑면의 무게중심 G로, \overline{AB} 는 \overline{GB} 로, \overline{AD} 는 \overline{GD} 로, \overline{AB} 의 중점 M은 \overline{GB} 의 중점 E로, \overline{AC} 의 중점은 \overline{GC} 의 중점 F로 각각 정사영된다.

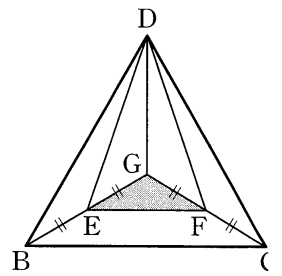
따라서 $\triangle MND$ 를 밑면 BCD 위로 정사영한 도형은 $\triangle DEF$ 이다.

이때, $\triangle DEG = \frac{1}{2} \triangle DBG,$

$$\triangle DFG = \frac{1}{2} \triangle DCG,$$

$$\triangle EFG = \frac{1}{4} \triangle BCG \text{ 이므로}$$

$$\begin{aligned} \triangle DEF &= \frac{1}{2} \triangle DBG + \frac{1}{2} \triangle DCG + \frac{1}{4} \triangle BCG \\ &= \frac{1}{3} \triangle BCD \left(\frac{1}{2} + \frac{1}{2} + \frac{1}{4} \right) = \frac{5}{12} \triangle BCD = \frac{5}{12} \times 48 = 20 \end{aligned}$$



54. 답 16

[해설] 직육면체에서 $\overline{AB} = a, \overline{AD} = b, \overline{AE} = c$ 라 하면 직육면체의 부피가 160이므로 $abc = 160 \dots \text{㉔}$

$\triangle CHF$ 의 평면 $ABCD$, 평면 $ABFE$ 위로의 정사영의 넓이가 각각 10, 20이므로

$$\frac{1}{2}ab = 10, \frac{1}{2}ac = 20$$

$$\therefore ab = 20, ac = 40 \dots \textcircled{A}$$

$\textcircled{A}, \textcircled{C}$ 에서 $a = 5, b = 4, c = 8$

따라서 $\triangle CHF$ 의 평면 $ADHE$ 위로의 정사영의 넓이는

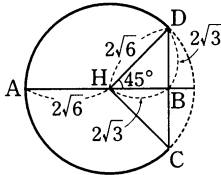
$$\frac{1}{2}bc = \frac{1}{2} \cdot 4 \cdot 8 = 16$$

55. 답 15

[해설] 오른쪽 그림에서

$$\begin{aligned} \overline{AH} &= \sqrt{6^2 - (2\sqrt{3})^2} \\ &= 2\sqrt{6} \\ \overline{BH} &= 2\sqrt{3} \end{aligned}$$

이고, 평면 a 와 45° 의 각을 이루는 평면으로 반구를 자른 단면은 다음 그림과 같다.



즉, $\overline{BD} = \sqrt{(2\sqrt{6})^2 - (2\sqrt{3})^2} = 2\sqrt{3}$ 이므로

$$\angle DHB = 45^\circ$$

그런데 단면의 넓이는

$$\pi \times (2\sqrt{6})^2 \times \frac{3}{4} + \frac{1}{2} \times 4\sqrt{3} \times 2\sqrt{3} = 18\pi + 12$$

따라서 이 단면의 평면 a 위로의 정사영의 넓이가

$\sqrt{2}(a + b\pi)$ 이므로

$$\begin{aligned} \sqrt{2}(a + b\pi) &= (18\pi + 12)\cos 45^\circ \\ &= (18\pi + 12) \times \frac{\sqrt{2}}{2} \\ &= \sqrt{2}(9\pi + 6) \end{aligned}$$

$$\therefore a = 6, b = 9$$

$$\therefore a + b = 15$$

56. 답 96

[해설] 점 C 에서 밑면에 내린 수선의 발을 F 라 하면 단면의 정사영은 오른쪽 그림과 같으므로 정사영의 넓이는

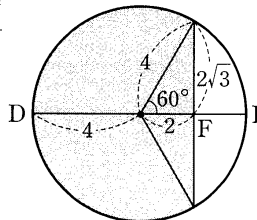
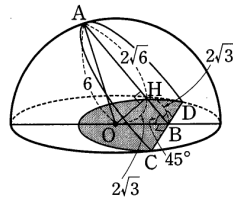
$$\begin{aligned} \frac{1}{2} \cdot 4^2 \cdot \frac{4}{3}\pi + \frac{1}{2} \cdot 2 \cdot 4 \cdot 4\sqrt{3} \\ = \frac{32}{3}\pi + 4\sqrt{3} \end{aligned}$$

$$\overline{CD} = \sqrt{\overline{DF}^2 + \overline{CF}^2} = \sqrt{(4+2)^2 + (3\sqrt{5})^2} = 9$$

단면과 밑면이 이루는 각의 크기를 θ 라 하면

$$\cos \theta = \frac{\overline{DF}}{\overline{CD}} = \frac{2}{3}$$

따라서 단면의 넓이를 S 라 하면



$$S \cos \theta = \frac{2}{3}S = \frac{32}{3}\pi + 4\sqrt{3}$$

$$\therefore S = \frac{3}{2} \times \left(\frac{32}{3}\pi + 4\sqrt{3} \right) = 16\pi + 6\sqrt{3}$$

$$\therefore ab = 16 \times 6 = 96$$

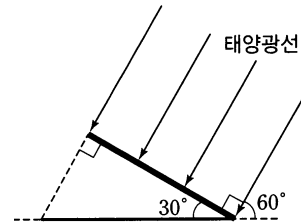
참고 부채꼴의 호의 길이와 넓이

반지름의 길이가 r , 중심각의 크기가 θ 인 부채꼴의 호의 길이를 l , 넓이를 S 라 하면

$$l = r\theta, S = \frac{1}{2}rl = \frac{1}{2}r^2\theta$$

57. 답 30

[해설]



태양광선이 위의 그림처럼 판에 수직으로 비추질 때, 즉 지면과 판이 이루는 각의 크기가 30° 이면 그림자의 넓이가 S 가 최대가 된다.

판의 넓이는 $4^2 - \pi = 16 - \pi$ 이므로

$$\begin{aligned} S &= \frac{16 - \pi}{\cos 30^\circ} \\ &= \frac{16 - \pi}{\frac{\sqrt{3}}{2}} \\ &= \frac{\sqrt{3}(32 - 2\pi)}{3} \end{aligned}$$

$$\therefore a = 32, b = -2$$

$$\therefore a + b = 32 - 2 = 30$$

58. 답 ④

[해설] 점 O 에서 평면 ABC 에 내린 수선의 발을 H 라 하면 점 H 는 삼각형 ABC 의 무게중심이고, 선분 AB 의 중점을 M 이라 하면

$$\overline{OM} = \frac{\sqrt{3}}{2} \times 2 = \sqrt{3}$$

$$\overline{MH} = \sqrt{3} \times \frac{1}{3} = \frac{\sqrt{3}}{3}$$

따라서 삼각형 OAB 와 삼각형 ABC 가 이루는 각의 크기를 θ 라 하면

$$\cos \theta = \frac{\overline{MH}}{\overline{OM}} = \frac{\frac{\sqrt{3}}{3}}{\sqrt{3}} = \frac{1}{3}$$

또한, 정삼각형에 내접하는 원의 중심은 정삼각형의 무게중심과 일치하므로 반지름의 길이를 r 라 하면

$$r = \sqrt{3} \times \frac{1}{3} = \frac{\sqrt{3}}{3}$$

따라서 삼각형 OAB 에 내접하는 원의 삼각형 ABC 위로의 정사영의 넓이를 S 라 하면

$$S = \left(\frac{\sqrt{3}}{3} \right)^2 \pi \times \cos \theta = \frac{1}{3}\pi \times \frac{1}{3} = \frac{\pi}{9}$$

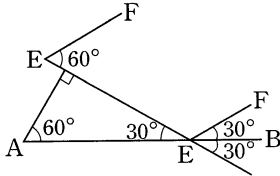
59. 답 ④

[해설] 직사각형 EFGH 위의 색칠한 단면의 넓이를 S 라 하면

$$S \cos 60^\circ = 2^2 \pi, S \times \frac{1}{2} = 4\pi$$

$$\therefore S = 8\pi$$

또한, 두 직사각형 ABCD, EFGH가 이루는 각은 그림과 같이 나타내면 30° 이다.



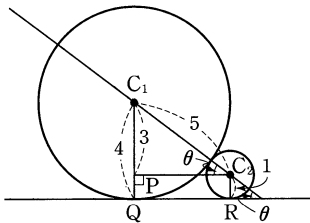
따라서 구하고자 하는 정사영의 넓이 S' 은

$$S' = 8\pi \cos 30^\circ = 8\pi \times \frac{\sqrt{3}}{2} = 4\sqrt{3}\pi$$

60. 답 ⑤

[해설] 두 구의 중심 C_1, C_2 에서 직사각형 ABCD에 내린 수선의 발을 각각 Q, R라 하자.

두 평면 ABCD, EFGH가 이루는 각을 θ , 점 C_2 에서 선분 C_1Q 에 내린 수선의 발을 P라 하면



$$\begin{aligned} \overline{PC_1} &= \overline{QC_1} - \overline{PQ} \\ &= \overline{QC_1} - \overline{RC_2} \\ &= 4 - 1 = 3 \end{aligned}$$

$$\overline{C_1C_2} = 4 + 1 = 5$$

에서 $\overline{PC_2} = \sqrt{5^2 - 3^2} = \sqrt{25 - 9} = 4$ 이므로

$$\cos \theta = \frac{4}{5}$$

또한, 두 원 S_1, S_2 의 넓이는 각각 $16\pi, \pi$ 이므로

구하고자 하는 정사영의 넓이의 합은

$$(16\pi + \pi) \cos \theta = 17\pi \times \frac{4}{5} = \frac{68}{5}\pi$$

61. 답 27

[해설] 두 평면 OAB, ABC가 이루는 각의 크기를 θ 라 하면

$$\overline{OM} = \overline{CM}, \overline{CH} : \overline{MH} = 2 : 1$$

이므로

$$\begin{aligned} \cos \theta &= \frac{\overline{MH}}{\overline{OM}} \\ &= \frac{\overline{MH}}{\overline{CM}} = \frac{1}{3} \end{aligned}$$

그림과 같이 $\triangle OAB$ 에서 어두운 부분을 평면 ABC 위로 정사영시키

고, $\triangle OBC, \triangle OCA$ 에서도 같은 방법으로 정사영시키면 이들은 서로 겹치지 않고 S_1, S_2, S_3 로 둘러싸인 부분과 일치한다. $\triangle OAB$ 에서 내접원의 반지름의 길이를 r 이라 하면 정삼각형 OAB 의 넓이는

$$\frac{1}{2}r(6+6+6) = \frac{\sqrt{3}}{4} \times 6^2$$

$$\therefore r = \sqrt{3}$$

따라서 어두운 부분의 넓이는

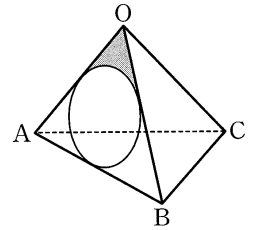
$$\frac{1}{3} \left(\frac{\sqrt{3}}{4} \times 6^2 - 3\pi \right) = 3\sqrt{3} - \pi$$

이므로 구하는 넓이 S 는

$$\begin{aligned} S &= (3\sqrt{3} - \pi) \times \cos \theta \times 3 \\ &= (3\sqrt{3} - \pi) \times \frac{1}{3} \times 3 \end{aligned}$$

$$= 3\sqrt{3} - \pi$$

$$\therefore (S + \pi)^2 = (3\sqrt{3})^2 = 27$$



62. 답 ②

[해설] 내접하는 구의 중심을 O, \overline{DH} 의 중점을 Q' , 점 O에서 \overline{DQ} 에 내린 수선의 발을 S 라 하자.

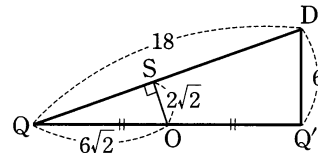
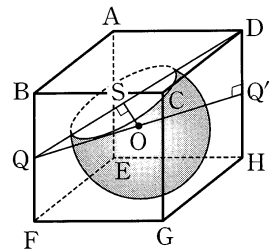
$\triangle DQ'Q' \sim \triangle OQS$ 이고

$$\overline{DQ'} = 6$$

$$\overline{OQ} = \sqrt{(12\sqrt{2})^2 + 6^2} = 18$$

$$\overline{OQ} = 6\sqrt{2}$$

$$\overline{OS} = 6\sqrt{2} \times \frac{6}{18} = 2\sqrt{2}$$



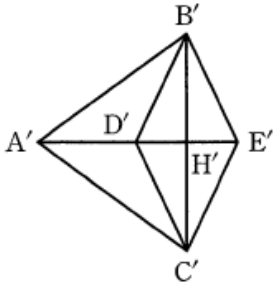
구의 반지름의 길이가 6이므로 구를 평면 DPQR로 자른 단면의 반지름의 길이를 r 이라 하면

$$r^2 = 6^2 - (2\sqrt{2})^2 = 28$$

따라서 단면의 넓이는 28π 이다.

63. 답 20

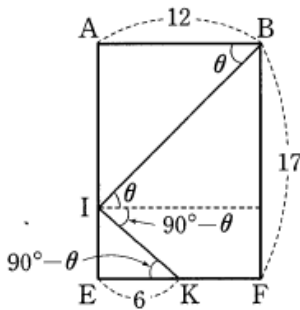
[해설] 정사각형 $BDCE$ 의 두 대각선의 교점을 H 라 하고, 점 A, B, C, D, E, H 의 평면 α 위로의 정사영을 각각 A', B', C', D', E', H' 이라 하면 평면 ADE 와 선분 BC 는 수직이므로 네 점 A', D', H', E' 은 선분 $B'C'$ 의 수직이등분선 위에 있다. 따라서 평면 α 위에 그려지는 이등변삼각형과 정사각형의 그림자는 다음 그림과 같다.



평면 α 와 직선 BC 가 평행하므로
 $\overline{B'C'} = \overline{BC} = \sqrt{(2\sqrt{2})^2 + (2\sqrt{2})^2} = 4$
 평면 α 와 평면 $BDCE$ 가 이루는 각의 크기가 $\frac{\pi}{3}$ 이므로
 $\overline{D'H'} = \overline{E'H'} = \overline{EH} \cos \frac{\pi}{3} = 2 \times \frac{1}{2} = 1$
 평면 α 와 직선 AH 가 이루는 각의 크기가 $\frac{\pi}{2} - \frac{\pi}{3} = \frac{\pi}{6}$ 이고,
 $\overline{AH} = \sqrt{(4\sqrt{7})^2 - 2^2} = 6\sqrt{3}$ 이므로
 $\overline{A'H'} = \overline{AH} \cos \frac{\pi}{6} = 6\sqrt{3} \times \frac{\sqrt{3}}{2} = 9$
 따라서 평면 α 위에 그려지는 이등변삼각형과 정사각형의 그림자의 넓이 S 는 $S = \frac{1}{2} \times 4 \times (9+1) = 20$

64. 답 ④

[해설]



$\overline{AI} = \overline{AB} \tan \theta = 12 \tan \theta \dots \textcircled{A}$
 $\overline{IE} = \overline{EK} \tan(90^\circ - \theta) = \frac{6}{\tan \theta} \dots \textcircled{B}$

이때, $\overline{AI} + \overline{IE} = 17$ 이므로

$12 \tan \theta + \frac{6}{\tan \theta} = 17$

$12 \tan^2 \theta - 17 \tan \theta + 6 = 0$

$(3 \tan \theta - 2)(4 \tan \theta - 3) = 0$

$\therefore \tan \theta = \frac{2}{3}$ 또는 $\tan \theta = \frac{3}{4}$

ⓐ, ⓑ에서 $\tan \theta = \frac{2}{3}$ 이면 $\overline{AI} = 8$, $\overline{IE} = 9$

$\tan \theta = \frac{3}{4}$ 이면 $\overline{AI} = 9$, $\overline{IE} = 8$

이때, $\overline{IE} < \overline{AI}$ 이므로 $\tan \theta = \frac{3}{4}$, $\cos \theta = \frac{4}{5}$, $\sin \theta = \frac{3}{5}$

한편, 평면 $BCJI$ 와 $IJKL$ 로 원기둥을 자를 때 생기는 두 단면을 각각 X , Y , 그 넓이를 각각 S_1 , S_2 라 하면 X , Y 를 평면 $EFGH$ 위에 내린

정사영의 넓이는 각각 36π , 18π 이므로

$S_1 = \frac{36\pi}{\cos \theta} = 36\pi \times \frac{5}{4} = 45\pi$

$S_2 = \frac{18\pi}{\cos(90^\circ - \theta)} = \frac{18\pi}{\sin \theta} = 18\pi \times \frac{5}{3} = 30\pi$

$\therefore S_1 + S_2 = 45\pi + 30\pi = 75\pi$

65. 답 ③

[해설] \neg . 두 점 O , D 를 잇는 직선이 평면 ABC 와 만나는 점을 H 라 하면 H 는 $\triangle ABC$ 의 무게중심이고, \overline{BC} 의 중점을 N 이라 하면

$\overline{AH} = \frac{2}{3} \overline{AN} = \frac{2\sqrt{3}}{3}$

$\triangle OAH$ 는 직각삼각형이므로

$\overline{OH} = \sqrt{2^2 - \left(\frac{2\sqrt{3}}{3}\right)^2} = \frac{2\sqrt{6}}{3}$

$\therefore \triangle OAH = \frac{1}{2} \times \overline{AH} \times \overline{OH}$

$= \frac{1}{2} \times \frac{2\sqrt{3}}{3} \times \frac{2\sqrt{6}}{3} = \frac{2\sqrt{2}}{3}$

따라서 $\triangle OAD$ 의 넓이는 $2 \times \triangle OAH = \frac{4\sqrt{2}}{3}$ (참)

$\therefore \overline{OM} = \overline{DM} = 2 \times \frac{\sqrt{3}}{2} = \sqrt{3}$, $\overline{OD} = 2\overline{OH} = \frac{4\sqrt{6}}{3}$ 이므로

$\triangle OMD$ 에서 제이코사인법칙에 의하여

$\cos \theta = \frac{(\sqrt{3})^2 + (\sqrt{3})^2 - \left(\frac{4\sqrt{6}}{3}\right)^2}{2 \cdot \sqrt{3} \cdot \sqrt{3}} = -\frac{7}{9}$ (거짓)

$\therefore \triangle OAB$ 와 $\triangle ABC$ 가 이루는 각의 크기를 α 라 하면

$\cos \alpha = \frac{\overline{MH}}{\overline{OM}} = \frac{1}{3}$

한편, $\triangle OAB$ 의 내접원의 반지름의 길이는 $\frac{\sqrt{3}}{3}$ 이므로 내접원의 넓

이는 $\pi \left(\frac{\sqrt{3}}{3}\right)^2 = \frac{\pi}{3}$

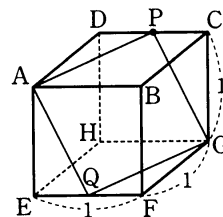
따라서 $\triangle OAB$ 에 내접하는 원을 평면 ABC 에 정사영한 도형의 넓이

는 $\frac{\pi}{3} \cos \alpha = \frac{\pi}{9}$ (참)

따라서 보기에서 옳은 것은 \neg , \ominus 이다.

66. 답 ⑥

[해설] 그림과 같이 잘린 단면은 평행사변형 $AQGP$ 이다.



이때, $\overline{CP} = x$ 라 하면 $\overline{DP} = 1 - x$ 이므로

$\overline{AP} = \sqrt{1^2 + (1-x)^2}$

$$\begin{aligned}
 &= \sqrt{x^2 - 2x + 2} \\
 \overline{PG} &= \sqrt{x^2 + 1} \\
 \overline{AG} &= \sqrt{1^2 + 1^2 + 1^2} \\
 &= \sqrt{3} \\
 \therefore \cos(\angle APG) &= \frac{\overline{AG}^2 + \overline{PG}^2 - \overline{AP}^2}{2 \cdot \overline{AG} \cdot \overline{PG}} \\
 &= \frac{3 + (x^2 + 1) - (x^2 - 2x + 2)}{2\sqrt{3}\sqrt{x^2 + 1}} \\
 &= \frac{x + 1}{\sqrt{3x^2 + 3}} \\
 \sin(\angle AGP) &= \sqrt{1 - \cos^2(\angle AGP)} \\
 &= \sqrt{1 - \frac{x^2 + 2x + 1}{3x^2 + 3}} \\
 &= \sqrt{\frac{2x^2 - 2x + 2}{3x^2 + 3}} \\
 \therefore \square AQGP &= 2\Delta AGP \\
 &= 2 \times \frac{1}{2} \times \overline{AG} \times \overline{GP} \times \sin(\angle AGP) \\
 &= \sqrt{3} \times \sqrt{x^2 + 1} \times \sqrt{\frac{2x^2 - 2x + 2}{3x^2 + 3}} \\
 &= \sqrt{2\left(x - \frac{1}{2}\right)^2 + \frac{3}{2}}
 \end{aligned}$$

따라서 $x = \frac{1}{2}$ 일 때 평행사변형 AQGP의 넓이의 최솟값은 $\frac{\sqrt{6}}{2}$ 이다.

67. 답 10

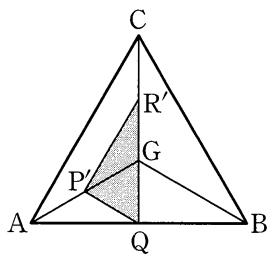
[해설] 두 평면 α, β 가 이루는 각의 크기를 θ 라 하면 $\overline{PA} = 4\sqrt{3}$ 이므로 $\overline{OP} = 4\sqrt{3} \sin 60^\circ = 6$
 또, $\overline{OA} = 4\sqrt{3} \cos 60^\circ = 2\sqrt{3}$
 $\therefore \overline{OQ} = 2\sqrt{3} \tan 45^\circ = 2\sqrt{3}$
 ΔOPQ 에서 제이코사인법칙에 의하여
 $\cos \theta = \frac{6^2 + (2\sqrt{3})^2 - (2\sqrt{2})^2}{2 \cdot 6 \cdot 2\sqrt{3}} = \frac{5\sqrt{3}}{9}$
 ΔAPO 의 넓이는 $\frac{1}{2} \times 6 \times 2\sqrt{3} = 6\sqrt{3}$
 따라서 삼각형 APO 평면 β 위로의 정사영의 넓이는
 $6\sqrt{3} \cos \theta = 6\sqrt{3} \times \frac{5\sqrt{3}}{9} = 10$

68. 답 ㉔

[해설] 꼭짓점 O의 평면 ABC 위로의 정사영은 ΔABC 의 무게중심이다.

또, 점 P, R의 평면 ABC 위로의 정사영은 각각 $\overline{AG}, \overline{CG}$ 의 중점이다.

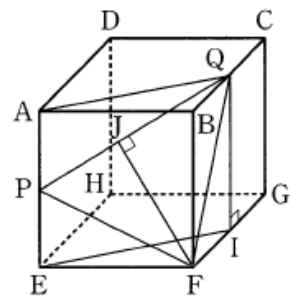
오른쪽 그림과 같이 ΔPQR 의 평면 ABC 위로의 정사영의 넓이는 $\Delta P'QR' = \Delta GR'P + \Delta GP'Q$



$$\begin{aligned}
 &= \frac{1}{4} \times \frac{1}{3} \Delta ABC + \frac{1}{2} \times \frac{1}{6} \Delta ABC \\
 &= \frac{1}{6} \Delta ABC = \frac{1}{6} \times \sqrt{3} = \frac{\sqrt{3}}{6} \\
 \text{한편, } \Delta PQR \text{에서 } \overline{PR} &= \overline{PQ} = 1, \quad \overline{PR} \parallel \overline{AC}, \quad \overline{PQ} \parallel \overline{OB}, \\
 \overline{BO} \perp \overline{AC} &\text{이므로 } \angle QPR = 90^\circ \\
 \text{따라서 } \Delta PQR \text{는 } &\text{직각이등변삼각형이므로} \\
 \Delta PQR &= \frac{1}{2} \times 1 \times 1 = \frac{1}{2} \\
 \therefore \cos \theta &= \frac{\Delta P'QR'}{\Delta PQR} = \frac{\frac{\sqrt{3}}{6}}{\frac{1}{2}} = \frac{\sqrt{3}}{3}
 \end{aligned}$$

69. 답 25

[해설] 점 Q에서 평면 EFGH에 내린 수선의 발을 J라 하면 삼각형 PQF의 평면 EFGH로의 정사영은 삼각형 EFT이다. 정육면체의 한 모서리의 길이를 2a라 하면
 $\overline{AQ} = \overline{QF} = \overline{PF}$
 $= \sqrt{(2a)^2 + a^2} = \sqrt{5}a$
 $\overline{PQ} = \sqrt{a^2 + (\sqrt{5}a)^2} = \sqrt{6}a$



이때, 점 F에서 선분 PQ에 내린 수선의 발을 J'라 하면 삼각형 PQF는 $\overline{PF} = \overline{QF}$ 인 이등변삼각형이므로
 $\overline{FJ} = \sqrt{(\sqrt{5}a)^2 - \left(\frac{\sqrt{6}}{2}a\right)^2} = \frac{\sqrt{14}}{2}a$

따라서 두 삼각형 PQF, EFT의 넓이를 각각 S_1, S_2 라 하면

$$S_1 = \frac{1}{2} \cdot \sqrt{6}a \cdot \frac{\sqrt{14}}{2}a = \frac{\sqrt{21}}{2}a^2$$

$$S_2 = \frac{1}{2} \cdot 2a \cdot a = a^2$$

평면 PQF와 평면 EFGH가 이루는 각의 크기가 θ 이므로

$$\cos \theta = \frac{S_2}{S_1} = \frac{a^2}{\frac{\sqrt{21}}{2}a^2} = \frac{2}{\sqrt{21}}$$

$$\cos^2 \theta = \frac{4}{21}$$

$$\therefore m + n = 21 + 4 = 25$$

70. 답 ㉔

[해설]

ㄱ. $\overline{AB} \cos \theta = \overline{A'B}$ 이면 $\overline{AB} \perp \overline{BC}$ 이고, $\overline{AA'} \perp \beta$ 이므로 삼수선의 정리에 의하여

$$\overline{A'B} \perp \overline{BC}$$

따라서, 삼각형 A'BC는 직각삼각형이다. (참)

ㄴ. 선분 BC의 중점을 M이라고 하면 무게중심 G는

$$\overline{AG} : \overline{GM} = 2 : 1 \text{ 을 만족한다.}$$

또한, 삼각형 A'BC에서 선분 A'M은 중선이고, 그림과 같이 점 G의 정사영을 G'이라고 하면 $\Delta AMA' \sim \Delta GMG'$ 이므로

$A'G' : G'M = 2 : 1$

따라서, G' 은 삼각형 $A'BC$ 의

무게 중심이다. (참)

ㄷ. 삼각형 ABC 를 한 변의 길이가 2인 정삼각형이라고 하면

$\overline{AM} = 2 \times \frac{\sqrt{3}}{2} = \sqrt{3}$

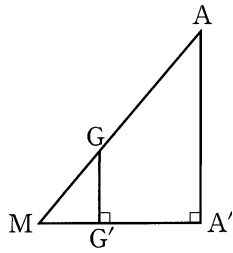
$\therefore \overline{A'M} = \sqrt{3} \cos \theta$

또한, $\angle B$ 와 $\angle C$ 는 예각이므로 삼각형 $A'BC$ 가 둔각삼각형이려면 $\angle A'$ 가 둔각이어야 한다.

즉, $A'B^2 + A'C^2 < BC^2$ 이어야 하므로

$(1 + 3 \cos^2 \theta) + (1 + 3 \cos^2 \theta) < 4, 6 \cos^2 \theta < 2$

$\therefore \cos^2 \theta < \frac{1}{3}$ (참)



71. 답 ①

[해설] 정삼각형 PBC 의 내접원의 반지름의 길이를 r 라 하면 $\triangle PBC$ 의 넓이는

$\frac{\sqrt{3}}{4} \times 4^2 = \frac{1}{2} r(4 + 4 + 4) \quad \therefore r = \frac{2\sqrt{3}}{3}$

$\triangle PBC$ 의 평면 $ABCD$ 위로의 정사영의 넓이는 $\frac{1}{4} \times 4^2 = 4$ 이므로 두 평면 $PBC, ABCD$ 가 이루는 각의 크기를 θ_1 이라 하면

$4\sqrt{3} \cos \theta_1 = 4 \quad \therefore \cos \theta_1 = \frac{1}{\sqrt{3}}$

두 평면 PBC, QBC 가 이루는 각의 크기를 θ_2 라 하면 두 점 P, Q 에서 변 BC 에 내린 수선의 발 H 는 일치하며 $\triangle PHQ$ 에 $\overline{PH} = \overline{QH} = 2\sqrt{3}, \overline{PQ} = 4$ 이므로 제이코사인법칙에 의하여

$\cos \theta_2 = \frac{12 + 12 - 16}{2 \cdot 2\sqrt{3} \cdot 2\sqrt{3}} = \frac{1}{3}$

따라서 정사영 T_1, T_2, T_3 의 넓이는 각각

$S_1 = \pi \cdot \left(\frac{2\sqrt{3}}{3}\right)^2 \cdot \cos \theta_1 = \pi \cdot \frac{4}{3} \cdot \frac{1}{\sqrt{3}} = \frac{4\sqrt{3}}{9} \pi$

$S_2 = S_1 \cos \theta_1 = \frac{4\sqrt{3}}{9} \pi \cdot \frac{1}{\sqrt{3}} = \frac{4}{9} \pi$

$S_3 = S_2 \cos \theta_2 = \frac{4}{9} \pi \cdot \frac{1}{3} = \frac{4}{27} \pi$

$\therefore \frac{S_2 + S_3}{S_1} = \frac{4\sqrt{3}}{9}$

72. 답 ①

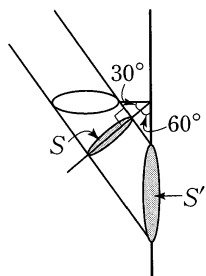
[해설] 그림과 같이 태양광선과 수직인 평면은 골대와 30° 를 이루므로 평면에 비친 그림자의 넓이를 S 라고 하면

$S' = 40^2 \pi \cos 30^\circ$
 $= 800\sqrt{3} \pi (cm^2)$

또한, 평면은 벽면과 60° 를 이루므로 구하고자 하는 벽면의 골대의 그림자의 넓이를 S' 이라고 하면

$S' \cos 60^\circ = 800\sqrt{3} \pi$

$S' \times \frac{1}{2} = 800\sqrt{3} \pi$



$\therefore S' = 1600\sqrt{3} \pi (cm^2)$

73. 답 5

[해설] 점 $A(-3, 1, -3)$ 을 x 축에 대하여 대칭이동한 점 P 좌표는 $P(-3, -1, 3)$

점 $B(1, 4, -6)$ 을 zx 평면에 대하여 대칭이동한 점 Q 의 좌표는 $Q(1, -4, -6)$

선분 PQ 를 2 : 1로 외분하는 점 R 의 좌표는

$R\left(\frac{2 \cdot 1 - 1 \cdot (-3)}{2-1}, \frac{2 \cdot (-4) - 1 \cdot (-1)}{2-1}, \frac{2 \cdot (-6) - 1 \cdot 3}{2-1}\right)$

$\therefore R(5, -7, -15)$

$\therefore abc = 525$

74. 답 ㉠

[해설] 점 $P(a, b, c)$ 를 x 축에 대하여 대칭이동한 점은

$P_1(a, -b, -c)$

$\overline{PP_1} = 6$ 에서 $\sqrt{(2b)^2 + (2c)^2} = 6$

$\therefore b^2 + c^2 = 9 \dots \text{㉠}$

점 $P_1(a, -b, -c)$ 를 yz 평면에 대하여 대칭이동한 점은

$P_2(-a, -b, -c)$

$\overline{P_1P_2} = 8$ 에서 $\sqrt{4a^2} = 8$

$\therefore a^2 = 16 \dots \text{㉡}$

점 $P_2(-a, -b, -c)$ 를 원점에 대하여 대칭이동한 점은

$P_3(a, b, c)$

$\therefore \overline{P_2P_3} = 2\sqrt{a^2 + b^2 + c^2}$

㉠, ㉡에서 $\overline{P_2P_3} = 2\sqrt{a^2 + b^2 + c^2} = 2\sqrt{9 + 16} = 10$

75. 답 ①

[해설]

yz 평면에서 두 점 P, B 를 지나는 직선의 방정식은

$y + \frac{z}{3\sqrt{3}} = 1$

따라서 점 E 의 좌표는 $E\left(0, \frac{1-t}{3}, \sqrt{3}t\right)$ 이고,

점 F 는 점 E 와 z 축에 대하여 대칭이므로

$F\left(0, \frac{-1+t}{3}, \sqrt{3}t\right)$

또한, $\overline{AQ} \perp \overline{EF}$ 이므로 $\overline{AQ} = \sqrt{1+3t^2}$ 에서 삼각형 AEF 의 넓이를 $S(t)$ 라하면

$S(t) = \frac{1}{2} \times \overline{EF} \times \overline{AQ}$
 $= \frac{1}{2} \times 2 \left(1 - \frac{t}{3}\right) \times \sqrt{1+3t^2}$
 $= \frac{3-t}{3} \sqrt{1+3t^2}$

참고

x 절편이 a, y 절편이 b 인 직선의 방정식

$\frac{x}{a} + \frac{y}{b} = 1$

76. 답 ②

[해설]

점 P의 좌표를 P(a, b, c)라 하면

$$P_1(a, b, -c), P_2(-a, -b, c)$$

따라서

$$\begin{aligned} \overline{P_1P_2} &= \sqrt{\{a-(-a)\}^2 + \{b-(-b)\}^2 + \{(-c)-c\}^2} \\ &= 2\sqrt{a^2 + b^2 + c^2} \\ &= 2\overline{OP} \end{aligned}$$

$$\text{이므로 } \overline{OP} = \frac{1}{2}\overline{P_1P_2}$$

77. 답 ㉓

[해설] 점 P에서 y축에 내린 수선의 발을 Q라 하면

$$\overline{PQ} \perp (xy\text{평면}), \overline{PH} \perp \overline{OH}$$

이므로 삼수선의 정리에 의하여

$$\overline{QH} \perp \overline{OH}$$

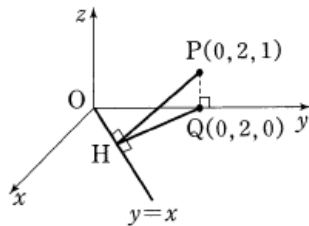
△OHQ에서 ∠HOQ = 45° 이므로

$$\overline{QH} = \overline{OH}$$

따라서 $\overline{OQ} = 2$ 이므로 $\overline{QH} = \sqrt{2}$

△PHQ에 피타고라스의 정리를 적용하면

$$\overline{PH} = \sqrt{\overline{PQ}^2 + \overline{QH}^2} = \sqrt{1+2} = \sqrt{3}$$



78. 답 45

[해설] 모서리 A'C'의 중점은 M(0, 0, 2)이고

$$\overline{PA'}^2 = \left(\frac{1}{2}-1\right)^2 + \left(\frac{1}{2}+1\right)^2 + 4 = \frac{13}{2}$$

$$\overline{PC'}^2 = \left(\frac{1}{2}+1\right)^2 + \left(\frac{1}{2}-1\right)^2 + 4 = \frac{13}{2}$$

$$\therefore \overline{PA'} = \overline{PC'}$$

즉, △PA'C'은 이등변삼각형이고, MO이 밑변 A'C'의 중점이므로

$$\overline{PM} \perp \overline{A'C'}$$

$$\overline{PM} = \sqrt{\frac{1}{4} + \frac{1}{4} + 4} = \frac{3\sqrt{2}}{2}, \overline{A'C'} = 2\sqrt{2}$$

문제의 평면과 모서리 AB, BC의 교점을 각각 Q, R라 하면

$$\overline{QR} \parallel \overline{A'C'} \parallel \overline{AC} \text{에서}$$

$$\frac{\overline{QR}}{\overline{AC}} = \frac{\overline{PB}}{\overline{OB}} = \frac{\overline{OB} - \overline{OP}}{\overline{OB}}$$

$$\overline{AC} = 2\sqrt{2}, \overline{OB} = \sqrt{2}$$

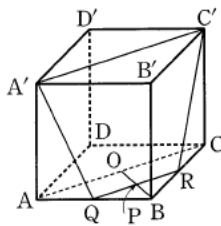
$$\therefore \overline{QR} = \frac{2\sqrt{2}}{\sqrt{2}} \left(\sqrt{2} - \frac{\sqrt{2}}{2} \right) = \sqrt{2}$$

$$\therefore S = \frac{1}{2} \overline{PM} (\overline{A'C'} + \overline{QR}) = \frac{1}{2} \times \frac{3\sqrt{2}}{2} \times (2\sqrt{2} + \sqrt{2}) = \frac{9}{2}$$

$$\therefore 10S = 10 \times \frac{9}{2} = 45$$

다른 풀이

문제의 조건에서 $\overline{OP} = \frac{1}{\sqrt{2}}, \overline{AC} = 2\sqrt{2}$



삼각형의 중점연결정리에 의하여 $\overline{QR} = \sqrt{2}$

$$\therefore \square A'QRC' = \frac{1}{2} (2\sqrt{2} + \sqrt{2}) \times \frac{1}{\sqrt{2}} = \frac{3}{2}$$

평면 A'QRC'과 평면 ABC가 이루는 각의 크기를 θ라 하면

$$\tan \theta = \frac{\overline{MO}}{\overline{OP}} = \frac{2}{\frac{1}{\sqrt{2}}} = 2\sqrt{2}$$

$$\sec^2 \theta = 1 + \tan^2 \theta = 9$$

$$\therefore \sec \theta = 3$$

$$\text{따라서 } S \cos \theta = \frac{3}{2} \text{에서 } S = \frac{\frac{3}{2}}{\frac{1}{3}} = \frac{9}{2}$$

$$\therefore 10S = 10 \times \frac{9}{2} = 45$$

79. 답 ㉔

[해설]

A(a, 0, 0), B(0, b, 0), C(0, 0, c) (단, a > 0, b > 0, c > 0) 라고 하면

$$\cos \alpha = \frac{3}{\sqrt{13}} = \frac{a}{\sqrt{a^2 + b^2}}, \frac{a^2}{a^2 + b^2} = \frac{9}{13}$$

$$13a^2 = 9a^2 + 9b^2, 4a^2 = 9b^2$$

$$\therefore 2a = 3b \quad \dots \text{㉑}$$

$$\cos \beta = \frac{2}{\sqrt{5}} = \frac{b}{\sqrt{b^2 + c^2}}, \frac{b^2}{b^2 + c^2} = \frac{4}{5}$$

$$5b^2 = 4b^2 + 4c^2, b^2 = 4c^2$$

$$\therefore b = 2c \quad \dots \text{㉒}$$

㉑, ㉒에 의하여 A(3k, 0, 0), B(0, 2k, 0), C(0, 0, k)라 하고, 점 O에서 선분 AB까지의 거리를 h라 하면 삼각형 OAB에서

$$\frac{1}{2} \times 3k \times 2k = \frac{1}{2} \times h \times \sqrt{(3k)^2 + (2k)^2}$$

$$6k^2 = h \sqrt{13} k \quad \therefore h = \frac{6k}{\sqrt{13}}$$

또한, 점 C에서 선분 AB까지의 거리를 d라 하면

$$d = \sqrt{k^2 + \left(\frac{6k}{\sqrt{13}}\right)^2} = \frac{7k}{\sqrt{13}}$$

$$\therefore \cos \theta = \frac{h}{d} = \frac{\frac{6k}{\sqrt{13}}}{\frac{7k}{\sqrt{13}}} = \frac{6}{7}$$

80. 답 ㉓

[해설]

∴ A(a, 0, 0)이라 하면 삼각형 OAP에서

$$\tan a = \tan 60^\circ = \frac{b}{a}, \sqrt{3} = \frac{b}{a}$$

$$\therefore b = \sqrt{3}a \text{ (참)}$$

∴ $\overline{OQ} = 2$ 이므로

$$b = \overline{OQ} \cos 30^\circ = 2 \times \frac{\sqrt{3}}{2} = \sqrt{3}$$

또, $\overline{OP} = 2$ 이므로

$$\sin a = \frac{b}{OP} = \frac{\sqrt{3}}{2}$$

$$\therefore a = 60^\circ \text{ (참)}$$

ㄷ. $\angle QOP = 30^\circ$ 이므로 삼각형 OPQ 에서

$$\begin{aligned} \cos 30^\circ &= \frac{OP^2 + OQ^2 - PQ^2}{2 \times OP \times OQ} \\ &= \frac{(a^2 + b^2) + (b^2 + c^2) - (a^2 + c^2)}{2\sqrt{a^2 + b^2}\sqrt{b^2 + c^2}} \\ &= \frac{b^2}{\sqrt{a^2 + b^2}\sqrt{b^2 + c^2}} = \frac{\sqrt{3}}{2} \end{aligned}$$

그런데 A(a, 0, 0), B(0, b, 0)이라 하면 두 삼각형 OAP 와 OBQ 에서

$$\sin \alpha = \frac{b}{\sqrt{a^2 + b^2}}, \cos \beta = \frac{b}{\sqrt{b^2 + c^2}} \text{ 이므로}$$

$$\sin \alpha \cos \beta = \frac{\sqrt{3}}{2} \text{ (거짓)}$$

따라서 옳은 것은 ㄱ, ㄴ이다.

81. 답 - 5

[해설] 점 P에서 x축에 내린 수선의 발을 Q(a, 0, 0)에 대하여

$$\overline{PQ} = \sqrt{b^2 + c^2} = 3\sqrt{5}$$

$$\therefore b^2 + c^2 = 45 \dots \textcircled{1}$$

점 P에서 y축에 내린 수선의 발을 R(0, b, 0)에 대하여

$$\overline{PR} = \sqrt{a^2 + c^2} = 5$$

$$\therefore a^2 + c^2 = 25 \dots \textcircled{2}$$

또한, 점 P에서 z축에 내린 수선의 발 H의 좌표가 H(0, 0, -3)이므로 c = -3

$$\textcircled{1}, \textcircled{2} \text{에서 } a = 4, b = -6 \text{ (}\because a > 0, b < 0\text{)}$$

$$\therefore P(4, -6, -3) \quad \therefore a + b + c = -5$$

82. 답 ㉓

[해설] 두 점 A, B에서 zx평면에 내린 수선의 발을 각각 C, D라 하면

$$\overline{AC} = 1, \overline{BD} = 1$$

이때, $\triangle ACP \sim \triangle BDP$ 이므로

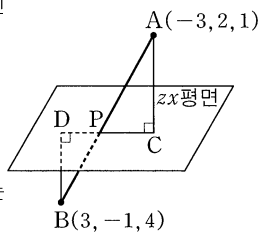
$$\overline{AP} : \overline{BP} = \overline{AC} : \overline{BD} = 2 : 1$$

따라서 점 P는 \overline{AB} 를 2 : 1로 내분하는 점이므로

$$P\left(\frac{2 \cdot 3 + 1 \cdot (-3)}{2+1}, \frac{2 \cdot (-1) + 1 \cdot 2}{2+1}, \frac{2 \cdot 4 + 1 \cdot 1}{2+1}\right)$$

$$\therefore P(1, 0, 3)$$

$$\therefore \overline{OP} = \sqrt{1^2 + 0 + 3^2} = \sqrt{10}$$



83. 답 36

$$\text{[해설]} \overline{AB} = \sqrt{(3-0)^2 + (-3-3)^2 + (0+3)^2} = 3\sqrt{6}$$

$$\overline{BC} = \sqrt{(-3-3)^2 + (0+3)^2 + (3-0)^2} = 3\sqrt{6}$$

$$\overline{CA} = \sqrt{(0+3)^2 + (3-0)^2 + (-3-3)^2} = 3\sqrt{6}$$

이므로 $\triangle ABC$ 는 한 변의 길이가 $3\sqrt{6}$ 인 정삼각형이다.

정사면체 ABCD의 모서리 6개의 길이가 모두 같으므로

$$\overline{AD}^2 = \overline{BD}^2 = \overline{CD}^2 = 54$$

$$\text{따라서 } a^2 + (b-3)^2 + (c+3)^2 = 54 \dots \textcircled{1}$$

$$(a-3)^2 + (b+3)^2 + c^2 = 54 \dots \textcircled{2}$$

$$(a+3)^2 + b^2 + (c-3)^2 = 54 \dots \textcircled{3}$$

$$\textcircled{1} - \textcircled{2} \text{을 하면 } 6a - 12b + 6c = 0$$

$$\therefore a - 2b + c = 0 \dots \textcircled{4}$$

$$\textcircled{2} - \textcircled{3} \text{을 하면 } -12a + 6b + 6c = 0$$

$$\therefore -2a + b + c = 0 \dots \textcircled{5}$$

$$\textcircled{4}, \textcircled{5} \text{을 연립하여 풀면 } a = b = c$$

$$\therefore a = b = c = \pm 2\sqrt{3}$$

$$\therefore a^2 + b^2 + c^2 = (\pm 2\sqrt{3})^2 + (\pm 2\sqrt{3})^2 + (\pm 2\sqrt{3})^2 = 36$$

다른 풀이

$$a^2 + (b-3)^2 + (c+3)^2 = 54 \dots \textcircled{1}$$

$$(a-3)^2 + (b+3)^2 + c^2 = 54 \dots \textcircled{2}$$

$$(a+3)^2 + b^2 + (c-3)^2 = 54 \dots \textcircled{3}$$

$$\textcircled{1} + \textcircled{2} + \textcircled{3} \text{을 하면}$$

$$3(a^2 + b^2 + c^2) + 3 \times 18 = 3 \times 54$$

$$\therefore a^2 + b^2 + c^2 = 54 - 18 = 36$$

84. 답 ㉠

[해설]

점 P에서 직선 l에 내린 수선의 발을 H라 하면

$$\overline{PO} \perp (xy \text{ 평면}), \overline{PH} \perp \overline{AB}$$

이므로 삼수선의 정리에 의하여

$$\overline{OH} \perp \overline{AB}$$

따라서 직각삼각형 OAB에서

$$\overline{OA} = 1, \overline{OB} = \sqrt{3}, \overline{AB} = 2 \text{ 이고}$$

$$\triangle OAB = \frac{1}{2} \times \overline{OA} \times \overline{OB}$$

$$= \frac{1}{2} \times \overline{AB} \times \overline{OH}$$

이므로

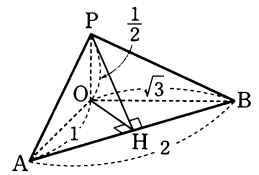
$$\frac{1}{2} \times 1 \times \sqrt{3} = \frac{1}{2} \times 2 \times \overline{OH}$$

$$\therefore \overline{OH} = \frac{\sqrt{3}}{2}$$

한편 $\triangle POH$ 도 직각삼각형이므로

$$\overline{PH} = \sqrt{\left(\frac{1}{2}\right)^2 + \left(\frac{\sqrt{3}}{2}\right)^2} = 1$$

따라서 점 P에서 직선 l에 이르는 거리는 1이다.



85. 답 ㉡

[해설]

$$\overline{AB} = \sqrt{(b-a)^2 + a^2 + b^2} = \sqrt{8-2ab}$$

$$\overline{AB} = \sqrt{b^2 + (b-a)^2 + a^2} = \sqrt{8-2ab}$$

$$\overline{AB} = \sqrt{a^2 + b^2 + (b-a)^2} = \sqrt{8-2ab}$$

에서 $\overline{AB} = \overline{BC} = \overline{CA}$ 이므로 $\triangle ABC$ 는 정삼각형이다.

따라서 $\triangle ABC$ 의 넓이 S는

$$S = \frac{\sqrt{3}}{4}(\sqrt{8-2ab})^2 = \frac{\sqrt{3}}{4}(8-2ab)$$

이때, S 가 최소가 되려면 ab 의 값이 최대가 되어야 한다.

$a > 0, b > 0$ 이므로

$$4 = a^2 + b^2 \geq 2\sqrt{a^2b^2} = 2ab$$

$\therefore ab \leq 2$ (단, 등호는 $a = b$ 일 때 성립)

따라서 ab 의 최댓값이 2이므로 S 의 최솟값은

$$\frac{\sqrt{3}}{4}(8-2 \times 2) = \sqrt{3}$$

86. 답 ②

[해설]

점 P 의 좌표를 $P(a, b, c)$ 라 하면

$A(a, b, 0), B(0, b, c), C(a, 0, c)$ 이때, 삼각형 ABC 는

정삼각형이므로 $\overline{AB} = \overline{BC} = \overline{CA}$

$$\sqrt{a^2 + c^2} = \sqrt{a^2 + b^2} = \sqrt{b^2 + c^2}$$

$$a^2 + c^2 = a^2 + b^2 = b^2 + c^2$$

$$\therefore a^2 = b^2 = c^2$$

이때, 넓이가 $2\sqrt{3}$ 이므로

$$\frac{1}{2}\overline{AB}^2 \sin 60^\circ = \frac{1}{2} \times 2a^2 \times \frac{\sqrt{3}}{2} = 2\sqrt{3}$$

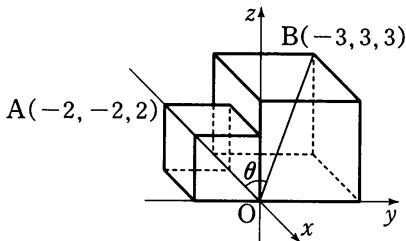
$$\therefore a^2 = 4$$

$$\therefore \overline{AP} = \sqrt{(a-a)^2 + (b-b)^2 + (c-0)^2} = \sqrt{c^2} = \sqrt{a^2} = 2$$

87. 답 ①

[해설]

그림과 같이 점 O 를 원점으로 하는 공간좌표에서 점 A, B 의 좌표는 각각 $A(-2, -2, 2), B(-3, 3, 3)$ 이므로



$$\overline{OA} = \sqrt{(-2)^2 + (-2)^2 + 2^2} = 2\sqrt{3}$$

$$\overline{OB} = \sqrt{(-3)^2 + 3^2 + 3^2} = 3\sqrt{3}$$

$$\overline{AB} = \sqrt{(-1)^2 + 5^2 + 1^2} = 3\sqrt{3}$$

$$\therefore \cos \theta = \frac{\overline{OA}^2 + \overline{OB}^2 - \overline{AB}^2}{2 \times \overline{OA} \times \overline{OB}}$$

$$= \frac{(2\sqrt{3})^2 + (3\sqrt{3})^2 - (3\sqrt{3})^2}{2 \times 2\sqrt{3} \times 3\sqrt{3}}$$

$$= \frac{12}{36} = \frac{1}{3}$$

88. 답 ③

[해설] 두 점 P', Q' 의 좌표는 각각

$P'(5, 3, 0), Q'(3, 5, 0)$ 이다.

오른쪽 그림에서 $\overline{PP'} = 4, \overline{QQ'} = 5$

$$\overline{P'Q'} = \sqrt{2^2 + 2^2} = 2\sqrt{2}$$

이므로 사각형 $PP'Q'Q$ 의 넓이는

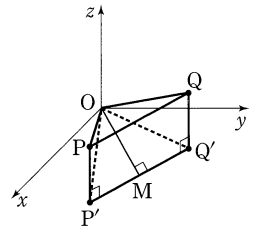
$$\frac{1}{2} \times (4+5) \times 2\sqrt{2} = 9\sqrt{2}$$

$\overline{P'Q'}$ 의 중점을 M 이라 하면 M 의 좌표는 $(4, 4, 0)$ 이고 xy 평면 위에서 직선 $P'Q'$ 의 기울기는 -1 , 직선 OM 의 기울기는 1이므로 두 직선 $P'Q'$ 과 OM 은 수직이다.

또, 사각형 $PP'Q'Q$ 는 xy 평면과 수직이므로 사각뿔 $OPP'Q'Q$ 의 높이는 선분 OM 의 길이와 같다.

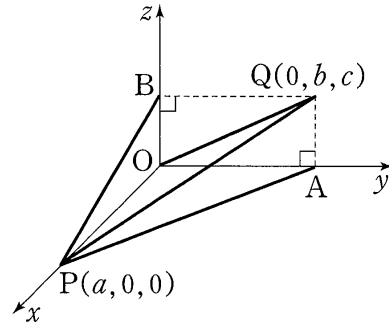
$$\overline{OM} = \sqrt{16+16} = 4\sqrt{2}$$

$$\frac{1}{3} \times 9\sqrt{2} \times 4\sqrt{2} = 24$$



89. 답 97

[해설] 두 점 P, Q 의 좌표를 $P(a, 0, 0), Q(0, b, c)$ 로 놓으면 점의 yz 평면 위로의 정사영은 $O(0, 0, 0)$ 이다. 또, 점 Q 의 xy 평면, zx 평면 위로의 정사영을 각각 A, B 라 하면 $A(0, b, 0), B(0, 0, c)$ 이다.



이때, 선분 PQ 의 xy 평면, yz 평면, zx 평면 위로의 정사영 길이는 각각

$$\overline{PA} = \sqrt{a^2 + b^2} = 8, \overline{OQ} = \sqrt{b^2 + c^2} = 9, \overline{PB} = \sqrt{a^2 + c^2} = 7$$

$$\therefore \overline{PQ}^2 = a^2 + b^2 + c^2 = \frac{1}{2}(\overline{PA}^2 + \overline{OQ}^2 + \overline{PB}^2)$$

$$= \frac{1}{2}(8^2 + 9^2 + 7^2) = 97$$

90. 답 ②

[해설] $\triangle OAP = 5$ 이기 위해서는 $\overline{OA} = 2$ 이므로 두 점 O, A 를 지나 는 y 축과 점 P 사이의 거리가 5이어야 한다. 그러므로 $y = t$ ($0 \leq t \leq 2$)일 때, 점 P 의 자취는 $x^2 + z^2 = 5^2$ 인 원이다.

따라서 점 P 가 그리는 도형은 밑면의 반지름의 길이가 5이고, 높이가 2인 직원기둥의 옆면이므로 구하는 도형의 넓이는

$$2\pi \times 5 \times 2 = 20\pi$$

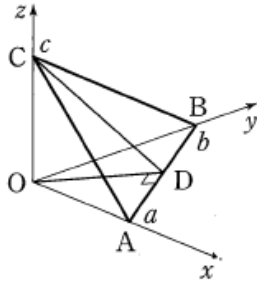
91. 답 ⑤

[해설] $\therefore \triangle OAB$ 의 넓이를 S_1 이라 하면

$$S_1 = \frac{1}{2}|a||b| = \frac{1}{2}\overline{AB} \cdot \overline{OD}$$

$$\therefore \overline{OD} = \frac{|ab|}{AB} = \frac{|ab|}{\sqrt{a^2+b^2}} \quad (\text{참})$$

ㄴ. $\triangle OCD$ 에 피타고라스의 정리를 적용하면



$$\overline{CD} = \sqrt{\overline{OC}^2 + \overline{OD}^2} = \sqrt{c^2 + \frac{a^2b^2}{a^2+b^2}}$$

$$= \sqrt{\frac{a^2b^2 + b^2c^2 + c^2a^2}{a^2+b^2}} \quad (\text{참})$$

ㄷ. $\overline{OC} \perp (xy\text{평면})$, $\overline{OD} \perp \overline{AB}$ 이므로 삼수선의 정리에 의하여 $\overline{CD} \perp \overline{AB}$

$$\therefore S^2 = \frac{1}{4} \overline{AB}^2 \cdot \overline{CD}^2$$

$$= \frac{1}{4} (a^2 + b^2) \cdot \frac{a^2b^2 + b^2c^2 + c^2a^2}{a^2 + b^2}$$

$$= \frac{1}{4} (a^2b^2 + b^2c^2 + c^2a^2)$$

또한, $S_1^2 = \frac{1}{4} a^2 b^2$ 이고, $\triangle OBC$, $\triangle OCA$ 의 넓이를 각각 S_2 , S_3 이라 하면

$$S_2^2 = \left(\frac{1}{2}|b||c|\right)^2 = \frac{1}{4} b^2 c^2, \quad S_3^2 = \left(\frac{1}{2}|c||a|\right)^2 = \frac{1}{4} c^2 a^2$$

$$\therefore S^2 = S_1^2 + S_2^2 + S_3^2 \quad (\text{참})$$

따라서 보기에서 옳은 것은 ㄴ, ㄷ, ㄹ이다.

참고

ㄷ에서 $\overline{CD} \perp \overline{AB}$ 임을 다음과 같이 보일 수도 있다.

$$\overline{OC} \perp \overline{AB} \text{이므로 } \overline{OC} \cdot \overline{AB} = 0 \quad \dots \textcircled{A}$$

$$\overline{OD} \perp \overline{AB} \text{이므로 } \overline{OD} \cdot \overline{AB} = 0 \quad \dots \textcircled{B}$$

$$\therefore \overline{CD} \cdot \overline{AB} = (\overline{OD} - \overline{OC}) \cdot \overline{AB}$$

$$= \overline{OD} \cdot \overline{AB} - \overline{OC} \cdot \overline{AB} = 0 \quad (\because \textcircled{A}, \textcircled{B})$$

$$\therefore \overline{CD} \perp \overline{AB}$$

또한, 넓이에 관한 식도 다음과 같이 구할 수 있다.

$$\overline{AB} = (-a, b, 0), \quad \overline{AC} = (-a, 0, c) \text{이므로}$$

$$S = \frac{1}{2} \sqrt{|\overline{AB}|^2 |\overline{AC}|^2 - (\overline{AB} \cdot \overline{AC})^2}$$

$$= \frac{1}{2} \sqrt{(a^2 + b^2)(a^2 + c^2) - a^4}$$

$$= \frac{1}{2} \sqrt{a^2b^2 + b^2c^2 + c^2a^2}$$

92. 답 ㉔

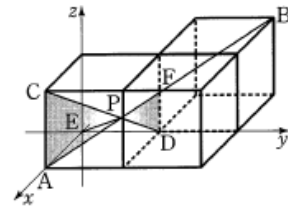
[해설]

점 E가 좌표공간의 원점에 놓이도록 입체도형을 놓으면

$$A(6, 0, 0), \quad B(-6, 12, 6), \quad C(6, 0, 6), \quad D(0, 6, 0)$$

이다. 또, 두 선분 AB와 CD가 한 점 P에서 만나므로 네 점 A, B, C, D는 한 평면 위에 있다.

선분 AB의 중점을 F라 하면 $\overline{AC} = 2\overline{FD}$ 이고,



$\triangle PDF \sim \triangle PCA$ 이므로 점 P는 선분 CD를 2:1로 내분하는 점이다.

$$\therefore P\left(\frac{2 \times 0 + 1 \times 6}{2+1}, \frac{2 \times 6 + 1 \times 0}{2+1}, \frac{2 \times 0 + 1 \times 6}{2+1}\right)$$

즉, $P(2, 4, 2)$ 이므로 선분 EP의 길이는

$$\overline{EP} = \sqrt{2^2 + 4^2 + 2^2} = 2\sqrt{6}$$

93. 답 ㉔

[해설] $\triangle ABC$ 에서 두 점 M, N은 각각 두 변 AB, AC의 중점이므로 삼각형의 중점연결정리에 의하여

$$\overline{MN} \parallel \overline{BC}, \quad \overline{MN} = \frac{1}{2} \overline{BC}$$

또한, $\triangle OBC$ 에서 두 점 B', C'은 각각 두 변 OB, OC의 중점이므로 삼각형의 중점연결정리에 의하여

$$\overline{B'C'} \parallel \overline{BC}, \quad \overline{B'C'} = \frac{1}{2} \overline{BC}$$

즉, 사각형 B'C'NM은 한 쌍의 대변이 평행하고 그 길이가 같으므로 평행사변형이다.

구하는 평행사변형의 넓이는 $\triangle MB'C'$ 의 넓이의 두 배이다.

$\triangle MB'C'$ 에서 $M(-1, -2, 3)$, $B'(-1, -2, 1)$, $C'(0, 2, 0)$ 이므로

$$\overline{MB'} = 2, \quad \overline{MC'} = \sqrt{26}, \quad \overline{B'C'} = \sqrt{18}$$

$\angle MB'C' = \theta$ 라 하고, $\triangle MB'C'$ 에 제이코사인법칙을 적용하면

$$\cos \theta = \frac{4 + 18 - 26}{2 \times 2 \times \sqrt{18}} = -\frac{1}{\sqrt{18}}$$

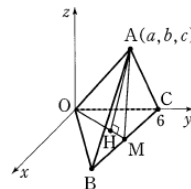
$$\therefore \sin \theta = \sqrt{1 - \cos^2 \theta} = \frac{\sqrt{17}}{\sqrt{18}}$$

$$\therefore \triangle MB'C' = \frac{1}{2} \times 2 \times \sqrt{18} \times \frac{\sqrt{17}}{\sqrt{18}} = \sqrt{17}$$

따라서 사각형 B'C'NM의 넓이는 $2\sqrt{17}$ 이다.

94. 답 51

[해설] 모서리 BC의 중점을 M이라 하면 정사면체의 성질에 의하여 꼭짓점 A에서 \overline{OM} 에 내린 수선의 발을 $\triangle OBC$ 의 무게중심이다.



$A(a, b, c)$ 에서 \overline{OM} 에 내린 수선의 발을 H라 하면 직선 OM과 x축의 양의 방향이 이루는 각의 크기가 60° 이므로

$$a = \overline{OH} \cos 60^\circ$$

$$b = \overline{OH} \cos 30^\circ$$

$$c = \overline{AH} = \sqrt{\overline{AM}^2 - \overline{HM}^2}$$

그런데 $\overline{OM} = \overline{AM} = 3\sqrt{3}$ 이고 H 가 $\triangle OBC$ 의 무게중심이므로

$$\overline{OH} = \frac{2}{3}\overline{OM} = 2\sqrt{3}$$

$$\overline{HM} = \frac{1}{3}\overline{OM} = \sqrt{3}$$

$$\therefore a = \sqrt{3}, b = 3, c = 2\sqrt{6}$$

$$\therefore 3a^2 + 2b^2 + c^2 = 9 + 18 + 24 = 51$$

95. 답 ①

[해설] $B(0, 0, -5)$ 라 하면

$$\overline{PB}^2 = \overline{PO}^2 + \overline{OB}^2 = \overline{OP}^2 + 25$$

고

$$\overline{PB}^2 = \overline{PO}^2 + 25$$

$$\overline{PB} = \overline{PB}$$

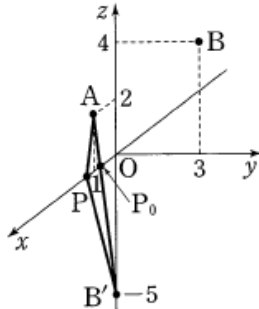
이때, 오른쪽 그림과 같이 직선 AB 과 x 축의 교점을 P_0 이라 하면

$$\overline{AP} + \overline{PB} = \overline{AP} + \overline{PB}$$

$$\geq \overline{AB} = \overline{AP_0} + \overline{P_0B}$$

이므로 동점 P 가 P_0 의 위치에 올 때, $\overline{AP} + \overline{PB}$ 가 최소가 된다.

따라서 구하는 최솟값은 $\overline{AB} = \sqrt{1^2 + 7^2} = 5\sqrt{2}$



96. 답 ②

[해설]

원점 O 에 대하여 $\overline{OB} = 1$ 이므로 점 $C(0, 0, -1)$ 에 대하여

$$\overline{PB} = \overline{PC}$$

$$\therefore \overline{AP} + \overline{PB} = \overline{AP} + \overline{PC} \geq \overline{AC}$$

$$= \sqrt{1^2 + (2+1)^2} = \sqrt{10}$$

97. 답 53

[해설]

xy 평면 위에 중심이 원점이고 반지름의 길이가 1인 원을 C_1 이라 하면 점 $B(1, 0, 0)$ 은 원 C_1 위의 점이다.

점 A 와 원 위의 한 점 D 를 지나는 직선이 z 축 위의 점 P 을 지나면

$$\overline{AP} + \overline{BP} = \overline{AP} + \overline{PD} \geq \overline{AP} + \overline{PD} = \overline{AD}$$

점 $A(1, 1, 2)$ 를 xy 평면에 내린 수선의 발은

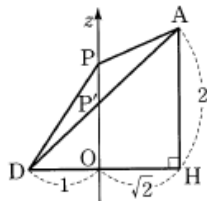
$H(1, 1, 0)$ 이므로

$$\overline{OH} = \sqrt{1^2 + 1^2} = \sqrt{2}$$

$$\therefore \overline{AD} = \sqrt{2^2 + (1 + \sqrt{2})^2} = \sqrt{7 + 2\sqrt{2}}$$

따라서 $a = 7, b = 2$ 이므로

$$a^2 + b^2 = 7^2 + 2^2 = 53$$



98. 답 ①

[해설]

점 P 의 좌표는 $P(6, 0, 2)$, 점 Q 의 좌표는 $Q(2, 2, 6)$ 이고, 점 P 를

평면 $BFGC$ 에 대하여 대칭이동한 점을 P' 이라 하면 $P'(6, 12, 2)$ 이때, 평면 $BFGC$ 위의 임의의 점 R 에 대하여

$$\begin{aligned} \overline{PR} + \overline{QR} &= \overline{P'R} + \overline{QR} \geq \overline{P'Q} \\ &= \sqrt{(6-2)^2 + (12-2)^2 + (2-6)^2} \\ &= 2\sqrt{33} \end{aligned}$$

99. 답 ㉔

[해설] 두 점 A, B 의 z 좌표가 모두 양수이므로 두 점 A, B 는 두 xy 평면을 기준으로 같은 쪽에 존재한다.

$A(1, 2, 3)$ 의 xy 평면에 대한 대칭점을 A' 이라 하면

$A'(1, 2, -3)$ 이고 $\overline{AP} = \overline{A'P}$ 이다.

선분 $A'B$ 와 xy 평면의 교점을 P' 이라 하면

$$\overline{AP} + \overline{BP} = \overline{A'P} + \overline{BP} \geq \overline{A'P'} + \overline{BP'} = \overline{A'B}$$

따라서 $\overline{AP} + \overline{BP}$ 의 최솟값은

$$\overline{A'B} = \sqrt{16 + 16 + 16} = 4\sqrt{3}$$

100. 답 ㉓

[해설] 선분 AB 가 yz 평면과 평행하므로

$A(a, -2, 2\sqrt{2}), B(a, 2, 2\sqrt{2})$ 로 놓으면

$$\overline{AB} = \sqrt{0^2 + (2+2)^2 + 0^2} = 4$$

삼각형 OAB 의 무게중심의 x 좌표가 4이므로

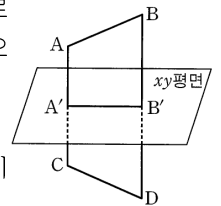
$$\frac{0 + a + a}{3} = 4 \quad \therefore a = 6$$

또, $\overline{OA} = \sqrt{6^2 + (-2)^2 + (2\sqrt{2})^2} = 4\sqrt{3}$ 이고 $\overline{OA} = \overline{OB}$ 이므로 삼각형 OAB 의 높이는

$$\sqrt{(4\sqrt{3})^2 - 2^2} = 2\sqrt{11}$$

따라서 삼각형의 OAB 의 넓이는

$$\frac{1}{2} \times 2\sqrt{11} \times 4 = 4\sqrt{11}$$



101. 답 ㉔

[해설] 선분 AB 를 2 : 1로 내분하는 점 P 의 좌표는

$$P\left(\frac{2 \cdot 4 + 1 \cdot 1}{2+1}, \frac{2 \cdot 8 + 1 \cdot 2}{2+1}, \frac{2 \cdot 11 + 1 \cdot 2}{2+1}\right)$$

$$\therefore P(3, 6, 8)$$

두 점 A, B 를 xy 평면으로 정사영시킨 점의 좌표를 각각 A', B' 이라 하면 $A'(1, 2, 0), B'(4, 8, 0)$ 이다.

$$\therefore \overline{A'B'} = \sqrt{(4-1)^2 + (8-2)^2} = 3\sqrt{5}$$

점 P 의 z 좌표가 8이므로 삼각형 $A'B'P$ 의 높이는

$$\frac{1}{2} \times 3\sqrt{5} \times 8 = 12\sqrt{5}$$

102. 답 ㉓

[해설] 선분 AB 가 yz 평면과 평행하므로 $A(a, -2, 2\sqrt{2}), B(a, 2, 2\sqrt{2})$ 로 놓으면

$$\overline{AB} = \sqrt{0^2 + (2+2)^2 + 0^2} = 4$$

삼각형 OAB 의 무게중심의 x 좌표가 4이므로

$$\frac{0+a+a}{3} = 4 \quad \therefore a = 6$$

또, $\overline{OA} = \sqrt{6^2 + (-2)^2 + (2\sqrt{2})^2} = 4\sqrt{3}$ 이고 $\overline{OA} = \overline{OB}$ 이므로 삼각형 OAB 의 높이는

$$\sqrt{(4\sqrt{3})^2 - 2^2} = 2\sqrt{11}$$

따라서 삼각형의 OAB 의 넓이는

$$\frac{1}{2} \times 2\sqrt{11} \times 4 = 4\sqrt{11}$$

103. 답 ①

[해설]

점 A 를 원점으로 놓고, 점 B 의 좌표를 (a, b, c) 라 하면 점 B 의 xy 평면, yz 평면, zx 평면 위로 정사영된 점은 각각

$(a, b, 0), (0, b, c), (a, 0, c)$ 이므로

$$\sqrt{a^2 + b^2} = 3, \sqrt{b^2 + c^2} = 4, \sqrt{a^2 + c^2} = 5$$

$$a^2 + b^2 = 9, b^2 + c^2 = 16, a^2 + c^2 = 25$$

위 세 식의 각 변을 더하면

$$2(a^2 + b^2 + c^2) = 50$$

$$a^2 + b^2 + c^2 = 25$$

$$\therefore \overline{AB} = \sqrt{a^2 + b^2 + c^2} = \sqrt{25} = 5$$

104. 답 2

[해설]

주어진 조건을 만족하는 점 R 가 나타내는 도형은 선분 PQ 를 지름으로 하는 구의 표면 위의 점이다.

따라서 구의 중심의 좌표는 $(2, 2, 2)$ 이고, 반지름의 길이는 r 은

$$r = \frac{1}{2} \sqrt{(3-1)^2 + (1-3)^2} = \sqrt{2}$$

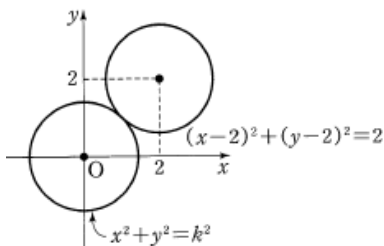
이므로 구의 방정식은

$$(x-2)^2 + (y-2)^2 + (z-2)^2 = 2$$

따라서 xy 평면 위로 정사영한 도형의 방정식은

$$(x-2)^2 + (y-2)^2 = 2$$

이므로 $a^2 + b^2 = k^2$ 이라고 하면



위의 그림과 같이 두 원

$$x^2 + y^2 = k^2, (x-2)^2 + (y-2)^2 = 2$$

가 서로 외접할 때, k^2 은 최솟값을 갖는다.

$$\text{즉, } k + \sqrt{2} = \sqrt{2^2 + 2^2} = 2\sqrt{2} \text{ 에서}$$

$$k = \sqrt{2} \quad \therefore k^2 = 2$$

105. 답 ⑤

[해설]

선분 AB 가 xy 평면과 평행하므로

$$A(-2, 2\sqrt{3}, k), B(2, 2\sqrt{3}, k)$$

라 하자.

$$\text{이때, } \overline{AB} = \sqrt{(2+2)^2 + 0^2 + 0^2} = 4$$

따라서 삼각형 OAB 의 무게중심의 z 좌표가 4이므로

$$\frac{0+k+k}{3} = 4 \quad \therefore k = 6$$

또, $\overline{AB} = \sqrt{(-2)^2 + (2\sqrt{3})^2 + 6^2} = 2\sqrt{13}$ 이고, $\overline{OA} = \overline{OB}$ 이므로 삼각형 OAB 의 높이 h 는

$$h = \sqrt{(2\sqrt{13})^2 - 2^2} = 4\sqrt{3}$$

따라서 삼각형 OAB 의 넓이 S 는

$$S = \frac{1}{2} \times 4\sqrt{3} \times 4 = 8\sqrt{3}$$

106. 답 ⑤

[해설] \neg . xy 평면에 대한 대칭이동은 z 좌표의 부호가 바뀌므로

$A'(-1, 3, -4)$ (참)

\sqcup . yz 평면 위의 점은 x 좌표가 0이므로 $H(0, -1, 5)$ (참)

\sqsupset . zx 평면이 선분 AB 를 $m : n$ 으로 내분한다고 하면 선분 AB 와 zx 평면이 만나는 점을 \overline{AB} 를 $m : n$ 으로 내분하는 점이고, 이 점은 zx 평면 위의 점이므로 y 좌표가 0이다.

$$\text{즉, } \frac{-m+3n}{m+n} = 0 \text{ 에서 } m = 3n$$

$$\therefore m : n = 3 : 1 \text{ (참)}$$

따라서 보기에서 옳은 것은 \neg, \sqcup, \sqsupset 이다.

107. 답 ②

[해설]

$\triangle AOC \sim \triangle AQ'Q$ 이므로

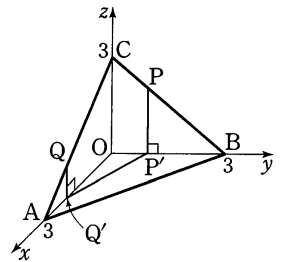
점 Q' 의 좌표는 $Q'(2, 0, 0)$

$\triangle BOC \sim \triangle BP'P$ 이므로 점 P' 의 좌

표는 $P'(0, 1, 0)$

삼각형 $OP'Q'$ 은 직각삼각형이므로 구

하는 넓이는 $\frac{1}{2} \times 2 \times 1 = 1$



108. 답 ①

[해설]

$$\overline{OA} = \sqrt{1^2 + 1^2 + 1^2} = \sqrt{3}$$

$$\overline{OB} = \sqrt{2^2 + (-2)^2 + 2^2} = 2\sqrt{3}$$

이므로

$$\overline{OA} : \overline{OB} = \overline{AD} : \overline{BD} = 1 : 2$$

즉, 점 D 는 선분 AB 를 1:2로 내분하는 점이므로

$$D\left(\frac{1 \cdot 2 + 2 \cdot 1}{1+2}, \frac{1 \cdot (-2) + 2 \cdot 1}{1+2}, \frac{1 \cdot 2 + 2 \cdot 1}{1+2}\right)$$

$$\therefore D\left(\frac{4}{3}, 0, \frac{4}{3}\right)$$

$$\therefore a + b + c = \frac{4}{3} + 0 + \frac{4}{3} = \frac{8}{3}$$

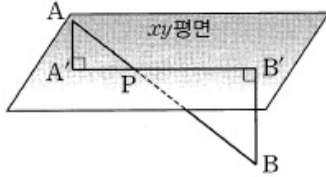
109. 답 ㉔

[해설]

선분 AB가 xy평면과 만나는 점을 P, 두 점 A, B에서 xy 평면에 내린 수선의 발을 각각 A', B'이라 하면

$$\begin{aligned} \overline{AP} : \overline{BP} &= \overline{AA'} : \overline{BB'} \\ &= m : n \\ &= 3 : 6 \end{aligned}$$

$$\therefore \frac{m}{n} = \frac{3}{6} = \frac{1}{2}$$



110. 답 ㉓

[해설]

t초 후의 두 점 P, Q의 좌표는 각각 P(t, 1, 0), Q(0, t, 1) 이므로 선분 PQ를 2:1로 외분하는 점의 좌표는

$$R\left(\frac{2 \times 0 - 1 \times t}{2-1}, \frac{2 \times t - 1 \times 1}{2-1}, \frac{2 \times 1 - 1 \times 0}{2-1}\right)$$

즉, R(-t, 2t-1, 2)

$$\therefore \overline{OR} = \sqrt{(-t)^2 + (2t-1)^2 + 2^2} = \sqrt{5t^2 - 4t + 5}$$

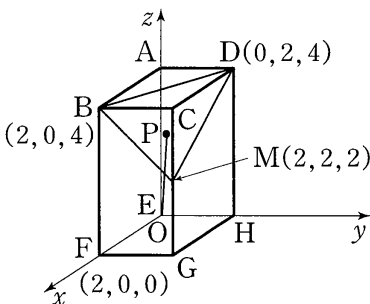
$$= \sqrt{5\left(t - \frac{2}{5}\right)^2 + \frac{21}{5}}$$

따라서 t = 2/5 일 때 \overline{OR} 의 최솟값은 $\sqrt{\frac{21}{5}} = \frac{\sqrt{105}}{5}$ 이다.

111. 답 ㉑

[해설] 점 E를 원점으로 하는 공간좌표를 도입하면 B(2, 0, 4), M(2, 2, 2), D(0, 2, 4)이므로 삼각형 BMD의 무게중심 P의 좌표는

$$\left(\frac{4}{3}, \frac{4}{3}, \frac{10}{3}\right)$$



따라서 삼각형 BMD의 무게중심으로부터 점 E까지의 거리는

$$\overline{EP} = \sqrt{\frac{16}{9} + \frac{16}{9} + \frac{100}{9}} = \frac{2\sqrt{33}}{3}$$

112. 답 20

[해설]

평면 α가 xy 평면이라 하면 세구가 평면 α위에 있으므로 세 구의 중심

을 각각

$$A(a_1, b_1, 9), B(a_2, b_2, 15), C(a_3, b_3, 36)$$

으로 놓으면 세 구의 방정식은

$$(x - a_1)^2 + (y - b_1)^2 + (z - 9)^2 = 9^2$$

$$(x - a_2)^2 + (y - b_2)^2 + (z - 15)^2 = 15^2$$

$$(x - a_3)^2 + (y - b_3)^2 + (z - 36)^2 = 36^2$$

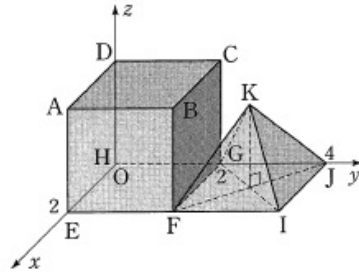
이때, △ABC의 무게중심으로부터 평면 α까지의 거리는 의 무게중심의 z좌표와 같으므로

$$\frac{9 + 15 + 36}{3} = 20$$

113. 답 ㉔

[해설]

꼭짓점 H를 좌표공간의 원점에 놓고 선분 EH, HG, HD를 각각 x축, y축, z축위에 놓으면



E(2, 0, 0), H(0, 0, 0), G(0, 2, 0)이고 위의 그림에서 점 K의 좌표는 K(1, 3, √2)

따라서 삼각형 KHE의 무게중심 L은

$$L\left(\frac{1+0+2}{3}, \frac{3+0+0}{3}, \frac{\sqrt{2}+0+0}{3}\right)$$

즉, L(1, 1, √2/3), G(0, 2, 0)이므로

$$\overline{GL} = \sqrt{1^2 + (1-2)^2 + \left(\frac{\sqrt{2}}{3}\right)^2} = \frac{2\sqrt{5}}{3}$$

114. 답 ㉓

[해설]

조건 (가)에 의하여 점 B(a, b, 0) (b > 0)이라 하면 $\overline{OB} = \overline{AB} = 1$ 이므로

$$\overline{OB}^2 = a^2 + b^2 = 1 \quad \dots\dots \text{㉑}$$

$$\overline{AB}^2 = (a-1)^2 + b^2 = 1 \quad \dots\dots \text{㉒}$$

㉑ - ㉒에서 2a - 1 = 0이므로 a = 1/2

$$b = \sqrt{1 - \left(\frac{1}{2}\right)^2} = \frac{\sqrt{3}}{2} \quad (\because b > 0)$$

$$\therefore B\left(\frac{1}{2}, \frac{\sqrt{3}}{2}, 0\right)$$

또 조건 (나)에 의하여 사면체 OABC는 정사면체이므로 점 C(p, q, r) (r > 0)라 하면 점 C의 xy 평면 위로의 정사영 C'(p, q, 0)은 삼각형 OAB의 무게중심의 좌표와 같으므로

$$p = \frac{1 + \frac{1}{2}}{3} = \frac{1}{2}, q = \frac{\frac{\sqrt{3}}{2}}{3} = \frac{\sqrt{3}}{6}$$

그런데 $\overline{OC} = 1$ 이므로

$$p^2 + q^2 + r^2 = \frac{1}{4} + \frac{1}{12} + r^2 = 1, r^2 = \frac{2}{3}$$

$$\therefore \frac{\sqrt{6}}{3} (\because r > 0)$$

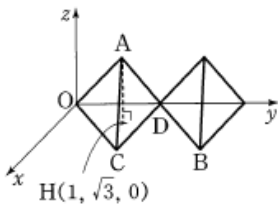
따라서 삼각형 OBC의 무게중심 (x, y, z) 는

$$x = \frac{\frac{1}{2} + \frac{1}{2}}{3} = \frac{1}{3}, y = \frac{\frac{\sqrt{3}}{2} + \frac{\sqrt{3}}{6}}{3} = \frac{2\sqrt{3}}{9}, z = \frac{\sqrt{6}}{9}$$

$$\therefore \left(\frac{1}{3}, \frac{2\sqrt{3}}{9}, \frac{\sqrt{6}}{9} \right)$$

115. 답 ㉔

[해설]



정사면체의 한 모서리의 길이를 $2a$ 라 하면

$$C = (\sqrt{3}a, a, 0), D = (0, 2a, 0)$$

또, 점 $H(1, \sqrt{3}, 0)$ 이 삼각형 OCD의 무게중심이므로

$$\frac{\sqrt{3}a}{3} = 1, \frac{a+2a}{3} = \sqrt{3}$$

$$\therefore a = \sqrt{3}$$

이때, $OH = \sqrt{1^2 + (\sqrt{3})^2} = 2$ 이므로

$$\overline{AH} = \sqrt{\overline{OA}^2 - \overline{OH}^2} = \sqrt{(2\sqrt{3})^2 - 2^2} = 2\sqrt{2}$$

$$\therefore A(1, \sqrt{3}, 2\sqrt{2})$$

점 B는 점 C를 y 축의 방향으로 $2\sqrt{3}$ 만큼 평행이동한 것이므로 $B(3, 3\sqrt{3}, 0)$

$$\overline{AB} = \sqrt{(3-1)^2 + (3\sqrt{3}-\sqrt{3})^2 + (-2\sqrt{2})^2} = 2\sqrt{6}$$

116. 답 ㉓

[해설] 오른쪽 그림에서 삼각형 ABC, ACD의 두 무게중심을 각각 G_1, G_2, G_3 라 하고, 두 변 BC, CD의 중점을 각각 M_1, M_2 라 하면

$$\overline{G_1G_2} = \frac{2}{3}\overline{M_1M_2}$$

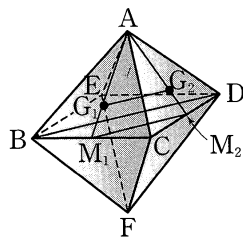
$$= \frac{2}{3} \times \frac{1}{2} \times \overline{BD}$$

$$= \frac{2}{3} \times \frac{1}{2} \times 6\sqrt{2} = 2\sqrt{2}$$

또, 삼각형 BFC의 무게중심을 G_3 라 하고, 선분 AF와 평면 BCDE가 만나는 점을 O라 하면

$$\overline{AM_1} = \overline{AB} \sin 60^\circ$$

$$= 6 \times \frac{\sqrt{3}}{2} = 3\sqrt{3}$$



선분 ED의 중점을 M_3 라 하면

$$\overline{M_1O} = \frac{1}{2}\overline{M_1M_3} = \frac{1}{2}\overline{CD}$$

$$= \frac{1}{2} \times 6 = 3$$

이므로

$$\overline{G_1G_3} = \frac{1}{3}\overline{AF}$$

$$= \frac{1}{3} \times 2\overline{AO}$$

$$= \frac{1}{3} \times 2 \times \sqrt{\overline{AM_1}^2 - \overline{M_1O}^2}$$

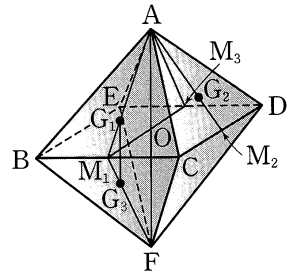
$$= \frac{1}{3} \times 2 \times \sqrt{(3\sqrt{3})^2 - 3^2}$$

$$= \frac{1}{3} \times 2 \times \sqrt{18} = 2\sqrt{2}$$

또한, $\overline{AF} \perp \overline{BD}$ 이므로 $\overline{G_1G_2} \perp \overline{G_1G_3}$

같은 방법으로 생각하면 구하는 입체는 한 모서리의 길이가 $2\sqrt{2}$ 인 정육면체이므로 부피 V 는

$$V = (2\sqrt{2})^3 = 16\sqrt{2}$$



117. 답 18

[해설] 주어진 조건을 만족하는 구의 방정식은

$$(x-4)^2 + (y+3)^2 + z^2 = 6^2$$

이고, 구의 반지름의 길이는 6이다.

삼각형 CPQ의 넓이 S 는

$$S = \frac{1}{2} \times \overline{CP} \times \overline{CQ} \times \sin(\angle PCQ) = 18 \sin(\angle PCQ)$$

그런데 $\sin(\angle PCQ) \leq 1$ 이므로 구하는 넓이의 최댓값은 18이다.

118. 답 ㉓

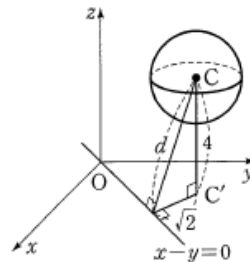
[해설]

$$x^2 + y^2 + z^2 - 2x - 6y - 8z + 25 = 0 \text{에서}$$

$$(x-1)^2 + (y-3)^2 + (z-4)^2 = 1 \text{이므로 중심 } C \text{의 좌표는 } C(1, 3, 4)$$

이

다.



점 C' 에서 xy 평면에 내린 수선의 발을 C'' 이라 하면 $C'(1, 3, 0)$ 이고

점 $C'(1, 3, 0)$ 에서 직선 $x-y=0$ 까지의 거리는

$$\frac{|1-3|}{\sqrt{1^2+(-1)^2}} = \sqrt{2}$$

따라서 삼수선의 정리에 의하여 중심 C 에서 직선 $x-y=0$ 까지의 거리 d 는

$$d = \sqrt{(\sqrt{2})^2 + 4^2} = 3\sqrt{2}$$

119. 답 ㉓

[해설]

구의 방정식을 $x^2 + y^2 + z^2 + Ax + By + Cz + D = 0$ 으로 놓고 네 점을 대입하면

$$D = 0, A + B = -2, A + C = -8, B = 6$$

$$\therefore A = -8, B = 6, C = 0, D = 0$$

이 값을 대입하면

$$x^2 + y^2 + z^2 - 8x + 6y = 0$$

$$(x-4)^2 + (y+3)^2 + z^2 = 5^2$$

이때, 구의 반지름의 길이는 5이므로 삼각형 $O'PQ$ 의 넓이 S 는

$$S = \frac{1}{2} \times \overline{O'P} \times \overline{O'Q} \times \sin(\angle PO'Q)$$

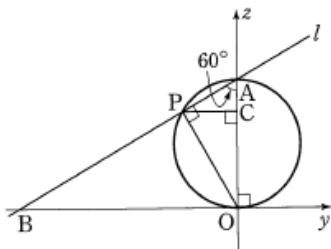
$$= \frac{1}{2} \times 5 \times 5 \times \sin(\angle PO'Q) \leq \frac{1}{2} \times 5 \times 5$$

따라서 $\triangle O'PQ$ 의 넓이의 최댓값은 $\frac{25}{2}$ 이다.

120. 답 ㉑

[해설]

직선 l 과 xy 평면과의 교점을 B 라고 하면 주어진 조건을 다음과 같이 나타낼 수 있다.



이 때, $\overline{OA} = 2$ 이므로 $\overline{AP} = 1$, $\overline{OP} = \sqrt{3}$ 에서

$$\frac{1}{2} \times 2 \times \overline{CP} = \frac{1}{2} \times 1 \times \sqrt{3} \quad \therefore \overline{CP} = \frac{\sqrt{3}}{2}$$

또한, $\overline{AP} = 1$ 이므로 $\overline{AC} = \frac{1}{2}$, $\overline{OC} = \frac{3}{2}$

따라서 점 P 가 나타내는 도형의 방정식은

$$x^2 + y^2 = \left(\frac{\sqrt{3}}{2}\right)^2 = \frac{3}{4}, \quad z = \frac{3}{2}$$

$$\therefore \frac{a}{b} = \frac{\frac{4}{3}}{\frac{3}{2}} = \frac{1}{2}$$

121. 답 ㉒

[해설]

구와 x 축의 교점의 좌표를 $(a, 0, 0)$ 라 하면 x 축이 구의 점선이므로 구의 중심의 x 좌표는 a 가 된다. 마찬가지로 구는 세 좌표축과 접하므로 y 축과의 교점은 $(0, a, 0)$, z 축과의 교점은 $(0, 0, a)$ 가 된다.

따라서 구의 방정식은

$$(x-a)^2 + (y-a)^2 + (z-a)^2 = 6$$

이고, 이 구는 점 $(a, 0, 0)$ 을 지나므로

$$a^2 + a^2 = 6, \quad 2a^2 = 6$$

$$a^2 = 3 \quad \therefore a = \sqrt{3} \quad (\because a > 0)$$

따라서 원점에서 구의 중심 (a, a, a) 까지의 거리는

$$\sqrt{a^2 + a^2 + a^2} = \sqrt{3a^2} = 3$$

122. 답 ㉓

[해설]

점 $(1, 2, 3)$ 를 지나고, 평면, 평면, 평면에 동시에 접하는 구의 방정식은

$$(x-a)^2 + (y-a)^2 + (z-a)^2 = a^2$$

이 구가 점 $(1, 2, 3)$ 를 지나므로 대입하면

$$(1-a)^2 + (1-a)^2 + (2-a)^2 = a^2$$

$$2a^2 - 8a + 6 = 0$$

$$a^2 - 4a + 3 = 0$$

$$(a-1)(a-3) = 0$$

$$\therefore a = 1 \text{ 또는 } a = 3$$

따라서 두 구의 중심의 좌표는 $(1, 1, 1)$, $(3, 3, 3)$ 이므로 중심사이의 거리는

$$\sqrt{(3-1)^2 + (3-1)^2 + (3-1)^2} = 2\sqrt{3}$$

123. 답 ㉓

[해설] 점 $(2, 2, 4)$ 를 지나고 xy 평면, yz 평면, zx 평면에 동시에 접하는 구의 방정식은

$$(x-a)^2 + (y-a)^2 + (z-a)^2 = a^2$$

이 구가 점 $(2, 2, 4)$ 를 지나므로

$$a^2 - 8a + 12 = 0, \quad (a-2)(a-6) = 0$$

$$\therefore a = 2 \text{ 또는 } a = 6$$

따라서 두 구의 중심의 좌표는 $(2, 2, 2)$, $(6, 6, 6)$

이므로 중심 사이의 거리는

$$\sqrt{(6-2)^2 + (6-2)^2 + (6-2)^2} = 4\sqrt{3}$$

124. 답 ㉓

[해설] 구의 반지름의 길이를 r 라 하면 구의 중심의 좌표는 (r, r, r) 이므로 구의 방정식은

$$(x-r)^2 + (y-r)^2 + (z-r)^2 = r^2$$

구가 점 $(4, 2, 2)$ 를 지나므로

$$(4-r)^2 + (2-r)^2 + (2-r)^2 = r^2$$

$$r^2 - 8r + 12 = 0, \quad (r-2)(r-6) = 0$$

$$\therefore r = 2 \text{ 또는 } r = 6$$

즉, 두 구의 중심의 좌표는 $P(2, 2, 2)$, $Q(6, 6, 6)$ 이고 점 P , Q 의 yz 평면으로의 정사영을 각각 P' , Q' 이라 하면

$$P'(0, 2, 2), \quad Q'(0, 6, 6)$$

$$\therefore \overline{P'Q'} = \sqrt{0^2 + 4^2 + 4^2} = 4\sqrt{2}$$

125. 답 ㉓

[해설]

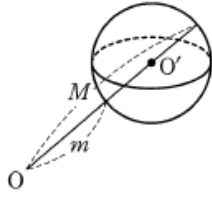
$$\overline{AB} = \sqrt{(4-1)^2 + (1-4)^2} = 3\sqrt{2}$$

$$\overline{BC} = \sqrt{1^2 + (4-3)^2 + (1-3)^2} = \sqrt{6}$$

$$\overline{CA} = \sqrt{4^2 + (1-3)^2 + (1-3)^2} = 2\sqrt{6}$$

따라서 삼각형 ABC 는 선분 CA 가 빗변인 직각삼각형이고, 구의 반지름

길이가 $\sqrt{6}$ 이므로 구의 중심은 선분 AC 중점이다. 즉, 구의 중심의 좌표를 O' 이라 하면 $O'(2, 2, 2)$ 이므로



$$M = \sqrt{2^2 + 2^2 + 2^2} + \sqrt{6} = 2\sqrt{3} + \sqrt{6}$$

$$m = \sqrt{2^2 + 2^2 + 2^2} - \sqrt{6} = 2\sqrt{3} - \sqrt{6}$$

$$\therefore Mm = (2\sqrt{3} + \sqrt{6})(2\sqrt{3} - \sqrt{6}) = 6$$

126. 답 26

[해설] xy 평면에 접하고 반지름의 길이가 r 인 구의 중심의 좌표를 (a, b, r) 로 놓을 수 있으므로 구의 방정식은

$$(x-a)^2 + (y-b)^2 + (z-r)^2 = r^2$$

이 구가 두 점 A, B 를 지나므로

$$a^2 + b^2 + (1-r)^2 = r^2 \text{ 에서}$$

$$a^2 + b^2 + 1 - 2r = 0 \dots \text{㉠}$$

$$a^2 + (1-b)^2 + (2-r)^2 = r^2 \text{ 에서}$$

$$a^2 + (1-b)^2 + 4 - 4r = 0 \dots \text{㉡}$$

㉠ - ㉡ 을 하면

$$2b - 1 - 3 + 2r = 0 \quad \therefore b = 2 - r$$

이것을 ㉡ 에 대입하면 $a^2 = -r^2 + 6r - 5$

$$a^2 \geq 0 \text{ 에서 } r^2 - 6r + 5 \leq 0$$

$$(r-1)(r-5) \leq 0$$

$$\therefore 1 \leq r \leq 5$$

$$\therefore M^2 + m^2 = 5^2 + 1^2 = 26$$

127. 답 ④

[해설]

xy 평면, yz 평면, zx 평면에 접하는 구의 방정식은

$$(x-a)^2 + (y-a)^2 + (z-a)^2 = a^2 \quad (a > 0)$$

으로 놓을 수 있다.

이때, 구 S_n 의 반지름의 길이를 r_n 이라 하면 중심의 좌표는 (r_n, r_n, r_n) 이다. 또, 두 구 S_n, S_{n+1} 의 중심 사이의 거리와 반지름의 길이와 합이

같아야 하므로

$$r_n + r_{n+1} = \sqrt{(r_n - r_{n+1})^2 + (r_n - r_{n+1})^2 + (r_n - r_{n+1})^2}$$

$$r_n + r_{n+1} = \sqrt{3}(r_n - r_{n+1})$$

$$\therefore r_{n+1} = \frac{\sqrt{3}-1}{\sqrt{3}+1} r_n = (2-\sqrt{3})r_n$$

따라서 구의 겹넓이의 총합은

$$\frac{4 \times 1^2 \times \pi}{1 - (2-\sqrt{3})^2} = \frac{4\pi}{4\sqrt{3}-6} = \frac{2\pi}{2\sqrt{3}-3} = \frac{4\sqrt{3}+6}{3}\pi$$

128. 답 ⑥

[해설] 구의 중심을 C 라 하면 C 의 좌표는 $(-2, 0, 1)$ 이고 구의 반지름의 길이는

$$\overline{CA} = \sqrt{(-2-2)^2 + (0+k)^2 + (1-3)^2} = \sqrt{k^2 + 20}$$

이므로 구의 방정식은

$$(x+2)^2 + y^2 + (z-1)^2 = k^2 + 20$$

구와 yz 평면이 만나서 생기는 도형의 방정식은 $x=0$ 일 때 이므로

$$2^2 + y^2 + (z-1)^2 = k^2 + 20, \quad y^2 + (z-1)^2 = k^2 + 16$$

따라서 구하는 도형은 반지름의 길이가 $\sqrt{k^2 + 16}$ 인 원이므로 그 넓이는 $(k^2 + 16)\pi$ 이다.

즉, $(k^2 + 16)\pi = 40\pi$ 이므로 $k^2 = 24$

129. 답 ②

[해설] 중심이 $(2, 5, 2)$ 인 구의 방정식을

$(x-2)^2 + (y-5)^2 + (z-2)^2 = r^2$ 으로 놓으면 두 구의 중심 사이의 거리가 반지름의 길이의 합과 같을 때 두 구가 외접하므로

$$\sqrt{(4-2)^2 + (1-5)^2 + (-2-2)^2} = r + 3$$

$$\therefore r = 3$$

구 $(x-2)^2 + (y-5)^2 + (z-2)^2 = 3^2$ 이 yz 평면에 의하여 잘린 단면의 방정식은

$$(0-2)^2 + (y-5)^2 + (z-2)^2 = 3^2$$

$$(y-5)^2 + (z-2)^2 = 5$$

따라서 구하는 원의 넓이는 5π 이다.

130. 답 24

[해설]

반구 $(x-5)^2 + (y-4)^2 + z^2 = 9, z \geq 0$ 의 중심은

$C(5, 4, 0)$ 이고, 이 반구와 평면 α 가 접하므로 반구와 평면 α 의 접점을 P 라 하면

$$\overline{CP} \perp \alpha$$

또한, 평면 α 는 y 축을 포함하고 있으므로 점 C 에서 y 축에 내린 수선의 발을 H 라 하면 삼수선의 정리에 의하여 \overline{PH} 와 y 축도 수직이다.

따라서 $\triangle CPH$ 는 $\angle P = 90^\circ$ 인 직각삼각형이고,

$$\overline{CP} = 3, \overline{CH} = 5 \text{ 이므로 } \overline{PH} = 4 \text{ 이다.}$$

이때, 평면 α 와 xy 평면이 이루는 각 θ 의 크기는 $\angle CHP$ 와 같으므로

$$\cos \theta = \frac{4}{5}$$

$$\therefore 30 \cos \theta = 30 \cdot \frac{4}{5} = 24$$

131. 답 ①

[해설]

구 $x^2 + (y + \frac{1}{2})^2 + z^2 = 1$ 과 yz 평면이 만나서 생기는 도형의 방정식은

은 구의 방정식에 $x=0$ 을 대입하면

$$(y + \frac{1}{2})^2 + z^2 = 1 \quad \dots \dots \text{㉠}$$

이때, ㉠ 과 직선 $\frac{1}{2}y + az = 1$ 은 한 점에서 만나므로 원의 중심에서 직선까지의 거리는 반지름의 길이 1 이다. 즉,

$$\frac{|-\frac{1}{4}-1|}{\sqrt{(\frac{1}{2})^2+a^2}}=1, \frac{5}{4}=\sqrt{\frac{1}{4}+a^2}$$

$$\frac{25}{16}=\frac{1}{4}+a^2, a^2=\frac{21}{16}$$

$$\therefore a=\frac{\sqrt{21}}{4} (\because a>0)$$

132. 답 ②

[해설]

구 $x^2+y^2+z^2+ax+by+cz+d=0$ 이 xy 평면과 만나서 생기는 도형의 방정식은 $z=0$ 을 대입하면

$$x^2+y^2+ax+by+d=0 \quad \dots\dots \textcircled{1}$$

조건 ㉞에 의하여 $\textcircled{1}$ 이 $(x-2)^2+(y-1)^2=1$

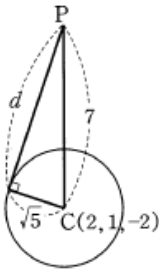
즉, $x^2+y^2-4x-2y+4=0$ 과 일치해야 하므로

$$a=-4, b=-2, d=4$$

또한, 구의 중심을 $C(2, 1, e)$ 라 하면 조건 ㉞에 의하여

$$\overline{CP}=|5-e|=7$$

$$\therefore e=-2 \text{ 또는 } e=12$$



(i) $e=12$ 이면 구의 방정식은

$$(x-2)^2+(y-1)^2+(z-12)^2=145$$

그런데 점 $P(2, 1, 5)$ 는 구의 내부의 점이므로 접선이 존재하지 않는다.

(ii) $e=-2$ 이면 구의 방정식은

$$(x-2)^2+(y-1)^2+(z+2)^2=5$$

따라서 구의 반지름의 길이는 $\sqrt{5}$ 이므로 접선의 길이를 d 라 하면

$$d=\sqrt{7^2-(\sqrt{5})^2}=2\sqrt{11}$$

133. 답 ①

[해설]

도형의 방정식이 $(x-2)^2+(y+1)^2=2, z=0$ 이므로 구 C 의 중심은 $C(2, -1, a)$ 이다.

구의 반지름의 길이가 $\sqrt{6}$ 이므로 도형 위의 한 점 $(1, 0, 0)$ 에서 구의 중심

까지의 거리는

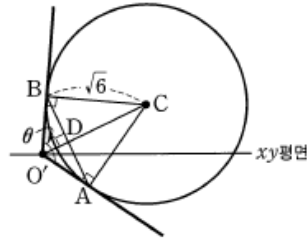
$$\sqrt{(2-1)^2+(-1)^2+a^2}=\sqrt{6} \quad a^2+2=6, a^2=4$$

$$\therefore a=2 \text{ 또는 } a=-2$$

따라서 구 C 의 중심은 $(2, -1, -2)$ 또는 $(2, -1, 2)$ 이다.

구 C 의 중심이 $(2, -1, 2)$ 일 때, 구 C 와 두 평면의 접점을 각각 A, B 라

하고, 선분 AB 의 중점을 D 라 하자.



이때, $O'(0, -1, 0)$ 이라 하면

$$\overline{O'C}=\sqrt{2^2+0^2+2^2}=\sqrt{8}, \overline{O'A}=\sqrt{(\sqrt{8})^2-(\sqrt{6})^2}=\sqrt{2}$$

이므로 $\overline{CD}=k$ 라 하면 $\sqrt{6}:k=\sqrt{8}:\sqrt{6}$ 이므로

$$2\sqrt{2}k=6 \quad \therefore k=\frac{3\sqrt{2}}{2}$$

또한, $\overline{AB}=2\overline{AD}=2\sqrt{(\sqrt{6})^2-\left(\frac{3\sqrt{2}}{2}\right)^2}=\sqrt{6}$ 이므로

$$|\cos\theta|=\frac{|(\sqrt{2})^2+(\sqrt{2})^2-(\sqrt{6})^2|}{2\times\sqrt{2}\times\sqrt{2}}=\frac{|-2|}{4}=\frac{1}{2}$$

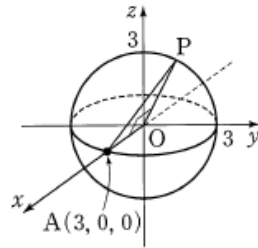
134. 답 ①

[해설]

두 점 P, Q 의 x 좌표를 각각 x_1, x_2 라 하면 삼각형 OPQ 의 무게중심의 x 좌표가 1이므로

$$\frac{0+x_1+x_2}{3}=1$$

$$\therefore x_1+x_2=3$$



이때, $\frac{x_1+x_2}{2}=\frac{3}{2}$ 이므로 두 점 P, Q 의 중점의 x 좌표는 $\frac{3}{2}$ 이다.

그런데, 구의 중심이 원점, 반지름의 길이가 3이므로 중점의 x 좌표가 $\frac{3}{2}$ 이기 위해서는

$$0 \leq x_1 \leq 3$$

즉, 두 점 P, Q 는 $x \geq 0$ 인 반구 위의 점이다.

따라서 점 P 가 $y^2+z^2=9$ 위에 있을 때 선분 AP 의 길이는 최대가 되므로 최댓값은

$$\sqrt{OA^2+OP^2}=\sqrt{3^2+3^2}=3\sqrt{2}$$

135. 답 18

[해설] 구가 xy 평면 위의 원 $(x-1)^2+(y-2)^2=5$ 를 품으므로 구의 중심의 좌표를 $(1, 2, c)$ 로 놓으면 구의 방정식은

$$(x-1)^2+(y-2)^2+(z-c)^2=86 \quad \dots\dots \textcircled{1}$$

이 구가 xy 평면과 만나는 교선이 원 $(x-1)^2+(y-2)^2=5$ 이므로 $\textcircled{1}$

에 $z = 0$ 을 대입하면
 $(x - 1)^2 + (y - 2)^2 = 86 - c^2 = 5$
 $\therefore c = \pm \sqrt{81} = \pm 9$
 $\therefore |z_1| + |z_2| = |9| + |-9| = 18$

참고 구라는 공간도형을 쉽게 이해하기 위해서는 평면의 원을 생각해야 한다. 평면에 의하여 생긴 구의 단면은 직선에 의하여 생긴 원의 현으로 보면 적당하다. 이때, 원에서 현의 수직이등분선은 그 원의 중심을 지난다는 성질을 구에 적용하여 보자. 구의 단면인 원의 중심에서 이 원에 수직인 직선은 구의 중심을 지난다고 할 수 있을 것이다. 이것으로부터 구의 중심의 좌표는 $(1, 2, c)$ 가 됨을 알 수 있다.

136. 답 84

【해설】

$x^2 + y^2 + z^2 = 81$ ㉠
 $x^2 + (y - 5)^2 + z^2 = 56$ ㉡

㉠-㉡을 계산하여 정리하면

$y = 5$

따라서 두 구가 만나는 원은 평면 $y = 5$ 위에 있다. 구의 방정식

㉠에 $y = 5$ 를 대입하면

$x^2 + z^2 = 56$ ㉢

따라서 두 구가 만나서 생기는 원의 방정식은

$x^2 + z^2 = 56, y = 5$

이 원 위의 점 $P(x, 5, z)$ 의 xy 평면 위로의 정사영은

$P'(x, 5, 0)$ 이고, 두 점 Q, R 의 좌표는 각각 $(0, -9, 0), (0, 9, 0)$

이므로 삼각형 $QP'R$ 의 넓이 S 는

$S = \frac{1}{2} \cdot \overline{QR} \cdot |x| = 9|x|$

이때, 사면체 $PQP'R$ 의 높이는 $|z|$ 이므로 이 사면체의 부피 V 는

$V = \frac{1}{3} \cdot S \cdot |z| = 3|xz|$

그런데 산술평균과 기하평균의 대소 관계에 의하여

$x^2 + y^2 = 56 \geq 2\sqrt{x^2 z^2} = 2|xz|$ (단, 등호는 $x^2 = z^2$ 일 때 성립)

이므로 $|xz| \leq 28$

$\therefore V = 3|xz| \leq 3 \cdot 28 = 84$

따라서 구하는 사면체의 부피의 최댓값은 84이다.

137. 답 20

【해설】

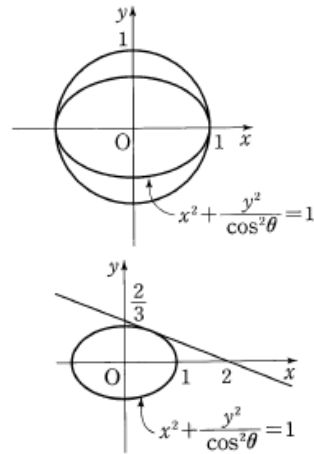
x 축을 포함하는 평면 α 가 구 $x^2 + y^2 + z^2 = 1$ 과 만나서 생기는 단면은 반지름의 길이가 1인 원이고, 이 원을 xy 평면 위로 정사영한 도형은 타원이다

며 이 타원의 장축의 길이는 구의 지름의 길이와 같고, 단축의 길이는 $2\cos\theta$ 이다. 따라서 정사영한 도형의 방정식은

$x^2 + \frac{y^2}{\cos^2\theta} = 1$

이 타원이 영역 $\{(x, y, 0) | x + 3y - 2 \leq 0\}$ 에 포함되게 하려면

$(0 < \theta < \frac{\pi}{2})$ 인 중 가장 작은 θ 가 존재하고, 이때 $\cos\theta$ 는 최댓값을 갖게 된다.



$\cos\theta$ 의 값이 최대가 될 때는 타원 $x^2 + \frac{y^2}{\cos^2\theta} = 1$ 과 직선 $x + 3y - 2 = 0$

이 그림과 같이 접하는 경우이다.

즉, 기울기가 $-\frac{1}{3}$ 인 타원의 접선의 방정식은

$y = -\frac{1}{3}x \pm \sqrt{1^2 \cdot \left(-\frac{1}{3}\right)^2 + \cos^2\theta}$

이고, 이 접선의 y 절편이 $\frac{2}{3}$ 이므로

$\sqrt{\frac{1}{9} + \cos^2\theta} = \frac{2}{3}$

따라서 $\cos^2\theta = \frac{1}{3} = M^2$ 이므로

$60M^2 = 60 \times \frac{1}{3} = 20$

138. 답 14

【해설】 두 점 $(10, 2, 5), (-6, 10, 11)$ 이 지름의 양 끝이므로 이 구의 중심의 좌표는

$\left(\frac{10 + (-6)}{2}, \frac{2 + 10}{2}, \frac{5 + 11}{2}\right)$, 즉 $(2, 6, 8)$

이고, 반지름의 길이는 위의 중심과 두 점 중 어느 한 점 사이의 거리이므로

$r = \sqrt{(2 - 10)^2 + (6 - 2)^2 + (8 - 5)^2} = \sqrt{89}$

그러므로 구의 방정식은

$(x - 2)^2 + (y - 6)^2 + (z - 8)^2 = 89$

이 구와 z 축이 만나는 점의 z 좌표는 $x = 0, y = 0$ 을 대입하면

$4 + 36 + (z - 8)^2 = 89$

$z^2 - 16z + 15 = 0$

$(z - 1)(z - 15) = 0$

$\therefore z = 1, z = 15$

따라서 z 축과 만나는 두 점 사이의 거리는 $15 - 1 = 14$

139. 답 ㉢

【해설】

좌표공간은 xy 평면, yz 평면, zx 평면에 의해 다음과 같이 8개의 영역으로 나누어진다.

- ① $x > 0, y > 0, z > 0$ 인 영역
- ② $x > 0, y > 0, z < 0$ 인 영역

- ③ $x > 0, y < 0, z > 0$ 인 영역
- ④ $x > 0, y < 0, z < 0$ 인 영역
- ⑤ $x < 0, y > 0, z > 0$ 인 영역
- ⑥ $x < 0, y > 0, z < 0$ 인 영역
- ⑦ $x < 0, y < 0, z > 0$ 인 영역
- ⑧ $x < 0, y < 0, z < 0$ 인 영역

한편, 주어진 구

$$C: (x+2)^2 + (y-3)^2 + (z-4)^2 = 24$$

의 중심은 $(-2, 3, 4)$ 이므로 구 C 의 중심은 ⑤의 영역에 있다. 따라서 구 C 는 ⑤의 영역을 지난다.

또, 구의 반지름의 길이 r 는 $r = \sqrt{24} = 2\sqrt{6}$ 이고,

$|-2| < r, |3| < r, |4| < r$ 이므로 구 C 는 yz 평면, zx 평면, xy 평면에 의하여 각가 두 부분으로 나누어진다.

따라서 구 C 는 ①, ⑦, ⑥의 영역을 지난다.

한편, $\sqrt{(-2)^2 + 3^2} < r$ 이므로 구 C 는 z 축과 서로 다른 두 점에서 만난다. 따라서 ③의 영역을 지난다.

또, $\sqrt{(-2)^2 + 4^2} < r$ 이므로 구 C 는 y 축과 서로 다른 두 점에서 만난다. 따라서 ②의 영역을 지난다.

하지만, $\sqrt{3^2 + 4^2} > r$ 이므로 구 C 는 x 축과 만나지 않는다. 따라서 ⑧의 영역을 지나지 않는다.

또, $\sqrt{(-2)^2 + 3^2 + 4^2} > r$ 이므로 원점은 구 C 의 외부에 있다. 따라서 ④의 영역을 지나지 않는다.

따라서 구 C 가 지나가는 영역은 ①, ②, ③, ⑤, ⑥, ⑦의 6개이다.

140. 답 ①

[해설]

$$x^2 + y^2 + z^2 - 2x + 2y - 2z - 8 = 0 \text{에서}$$

$$y = z = 0 \text{을 대입하면 } x^2 - 2x - 8 = 0, (x-4)(x+2) = 0$$

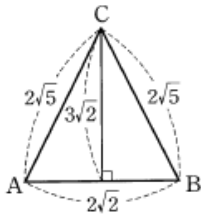
$$\therefore A(-2, 0, 0) \quad (\because a < 0)$$

$$z = x = 0 \text{을 대입하면 } y^2 + 2y - 8 = 0, (y+4)(y-2) = 0$$

$$\therefore B(0, 2, 0) \quad (\because b > 0)$$

$$x = y = 0 \text{을 대입하면 } z^2 - 2z - 8 = 0, (z-4)(z+2) = 0$$

$$\therefore C(0, 0, 4) \quad (\because c > 0)$$



따라서

$$\overline{AB} = \sqrt{(-2)^2 + 2^2} = 2\sqrt{2}, \quad \overline{BC} = \sqrt{2^2 + 4^2} = 2\sqrt{5},$$

$$\overline{CA} = \sqrt{(-2)^2 + 4^2} = 2\sqrt{5}$$

이므로 삼각형 ABC 의 넓이 S 는 오른쪽 그림에서

$$S = \frac{1}{2} \times 2\sqrt{2} \times 3\sqrt{2} = 6$$

141. 답 ⑤

[해설] 구 S 의 중심 $(0, 0, 1)$ 을 F 라 하자. $\triangle OAB$ 는 직각이등변삼각형이므로 원주각 $\angle OAD = 45^\circ$ 이다.

따라서 중심각 $\angle OFD = 90^\circ$ 이다.

$\overline{DF} \parallel \overline{BO}$ 이므로 $\triangle DFA \sim \triangle BOA$ 이고

닮음비는 1 : 2이다.

그러므로 D 는 선분 AB 의 중점이므로 $D(1, 0, 1)$ 이다.

$\triangle CAB$ 에서 $\overline{CA} = \overline{CB}$ 이고,

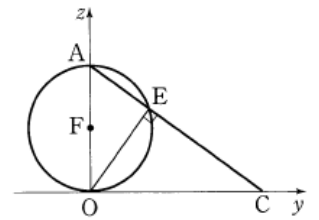
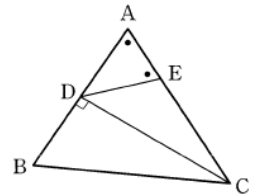
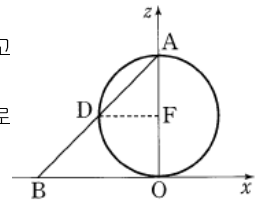
$\overline{AB} \perp \overline{CD}$ 이므로

$$\sin A = \frac{\overline{CD}}{\overline{AC}} = \frac{\sqrt{18}}{\sqrt{20}} = \frac{3}{\sqrt{10}}$$

삼각형의 닮음에서

$$\overline{AE} : \overline{EO} = \overline{OE} : \overline{EC}$$

$$= \overline{AO} : \overline{OC} = 2 : 4 = 1 : 2$$



$$\therefore \overline{AE} : \overline{EO} : \overline{EC} = 1 : 2 : 4$$

E 는 선분 AC 를 1 : 4로 내분하는 점이므로

$$E\left(0, \frac{4}{5}, \frac{8}{5}\right)$$

$$\therefore \overline{DE} = \sqrt{(0-1)^2 + \left(\frac{4}{5}-0\right)^2 + \left(\frac{8}{5}-1\right)^2} = \sqrt{2}$$

$$\triangle ADE \text{에서 } \overline{AD} = \frac{1}{2}\overline{AB} = \frac{1}{2} \times 2\sqrt{2} = \sqrt{2} \text{이므로}$$

$$\overline{DA} = \overline{DE} \quad \therefore \alpha = \angle A$$

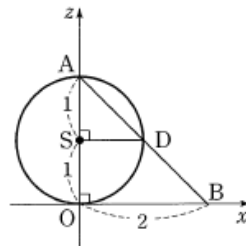
$$\therefore \sin \alpha = \sin A = \frac{3\sqrt{10}}{10}$$

142. 답 ③

[해설]

구의 중심이 $S(0, 0, 1)$ 이므로 점 D 의 좌표는 아래쪽 그림에서 선분 AB 의 중심임을 알 수 있다.

$$\therefore D(1, 0, 1)$$



같은 방법으로 생각하면 점 E 의 좌표는 아래쪽 그림에서

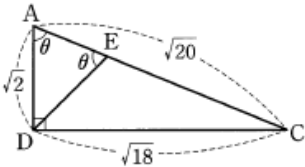
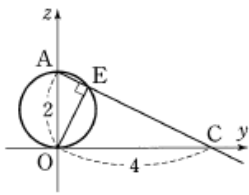
$$\overline{AE} : \overline{EO} = \overline{OE} : \overline{EC} = \overline{AO} : \overline{OC}$$

$$= 2 : 4 = 1 : 2$$

즉, $\overline{AE} : \overline{EO} : \overline{EC} = 1 : 2 : 4$ 이므로 점 E 는 선분 AC 를 1:4로 내분

하는 점이다.

$$\therefore E\left(0, \frac{4}{5}, \frac{8}{5}\right)$$



이때, $\overline{AD} = \frac{1}{2} \overline{AB} = \frac{1}{2} \sqrt{2^2 + 2^2} = \sqrt{2}$,

$\overline{DE} = \sqrt{(-1)^2 + \left(\frac{4}{5}\right)^2 + \left(\frac{8}{5} - 1\right)^2} = \sqrt{2}$

이므로 $\overline{DA} = \overline{DE}$ 즉, $\angle AED = \angle DAE = \theta$ 이고, 삼각형 ADC는 $\angle D$ 가 90° 인 직각삼각형이므로

$\sin \theta = \sin A = \frac{\overline{CD}}{\overline{AC}} = \frac{\sqrt{18}}{\sqrt{20}} = \frac{3\sqrt{10}}{10}$

143. 답 557

[해설] 중심이 (4, 1, 3)이고 반지름의 길이가 4인 구의 방정식은

$(x-4)^2 + (y-1)^2 + (z-3)^2 = 16$

구의 중심을 C, 점 T에서 \overline{PC} 에 내린 수선의 발을 H라 하면

$\overline{PC} = \sqrt{(4-0)^2 + (1-1)^2 + (3-6)^2} = 5$

$\overline{PT} = \sqrt{\overline{PC}^2 - \overline{TC}^2} = \sqrt{5^2 - 4^2} = 3$

$\triangle PTC$ 의 넓이에서

$\frac{1}{2} \times 3 \times 4 = \frac{1}{2} \times 5 \times \overline{TH}$

$\therefore \overline{TH} = \frac{12}{5}$

$\therefore \overline{PH} = \sqrt{\overline{PT}^2 - \overline{TH}^2}$

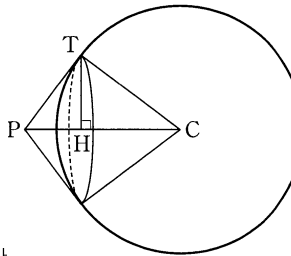
$= \sqrt{9 - \frac{144}{25}} = \frac{9}{5}$

따라서 점 T가 나타내는 도형은 반

지름의 길이가 \overline{TH} 인 원이므로 구하는 입체는 원뿔이고 그 부피는

$\frac{1}{3} \times \pi \times \left(\frac{12}{5}\right)^2 \times \frac{9}{5} = \frac{432}{125} \pi$

$\therefore a+b = 125 + 432 = 557$



144. 답 5

[해설] 두 구 $(x-3)^2 + (y-2)^2 + (z+1)^2 = 4$,

$(x+1)^2 + (y-k)^2 + (z-3)^2 = 9$ 의 xy 평면 위로의 정사영은 각각 두

원 $(x-3)^2 + (y-2)^2 = 4$, $(x+1)^2 + (y-k)^2 = 9$ 이다.

이 두 원이 서로 외접하려면 두 원의 중심 사이의 거리가 두 원의 반지름의 길이의 합과 같아야 한다. 즉,

$\sqrt{(3+1)^2 + (2-k)^2} = 2+3$

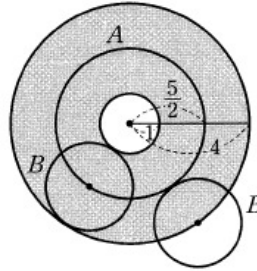
$k^2 - 4k - 5 = 0$, $(k+1)(k-5) = 0$

$\therefore k = 5$ 또는 $k = -1$

따라서 양수 k의 값은 5이다.

145. 답 ㉔

[해설] 집합 A는 중심이 (0, 0, 0)이고 반지름의 길이가 $\frac{5}{2}$ 인 구를 나타내고, 집합 B는 중심이 (a, b, c)이고 반지름의 길이가 $\frac{3}{2}$ 인 구를 나타낸다.



이때, $A \cap B \neq \emptyset$ 가 되기 위해서는 두 구가 서로 만나야 하므로 B의 중심이 위의 그림의 어두운 부분에 있어야 한다.

따라서 구하는 입체의 부피는

$\frac{4}{3} \pi \cdot 4^3 - \frac{4}{3} \pi \cdot 1^3 = 84\pi$

146. 답 ㉓

[해설]

구 $x^2 + y^2 + z^2 = 1$ 의 중심은 원점 (0, 0, 0)이고 반지름의 길이가 1이므로 두 구가 외접할 조건은 두 구의 중심 사이의 거리가 반지름의 길이의 합과 같아야 한다. 즉,

$\sqrt{1^2 + 2^2 + a^2} = 1 + 2$

$a^2 = 4$

$\therefore a = 2$ ($\because a > 0$)

이때, 점정은 두 점 (0, 0, 0), (1, 2, 2)를 잇는 선분을 1:2로 내분하는 점이므로 점정의 좌표는

$\left(\frac{1 \cdot 1 + 2 \cdot 0}{1+2}, \frac{1 \cdot 2 + 2 \cdot 0}{1+2}, \frac{1 \cdot 2 + 2 \cdot 0}{1+2}\right)$

즉, $\left(\frac{1}{3}, \frac{2}{3}, \frac{2}{3}\right)$ 이므로

$b = \frac{1}{3}, c = \frac{2}{3}, d = \frac{2}{3}$

$\therefore a+b+c+d = 2 + \frac{1}{3} + \frac{2}{3} + \frac{2}{3} = \frac{11}{3}$

147. 답 ㉔

[해설]

구 $C_1: (x-3)^2 + (y-4)^2 + (z-13)^2 = 169$ 의 중심은

$A(3, 4, 13)$ 이고, 반지름의 길이는 13이다.

이때, xy 평면 위에 있는 점 P의 좌표를 (a, b, 0)이라 하면 두 구 C_1, C_2 가 서로 외접할 조건은

$\overline{PA} = \sqrt{(a-3)^2 + (b-4)^2 + 13^2} = 13+1 = 14$

양변을 제곱하면

$$(a-3)^2 + (b-4)^2 + 169 = 196$$

$$(a-3)^2 + (b-4)^2 = 27$$

따라서 두 구 C_1, C_2 가 공통 부분을 가질 조건은

$$(a-3)^2 + (b-4)^2 \leq 27$$

이므로 점 P 가 존재하는 영역의 넓이는 27π 이다.

148. 답 ㉔

[해설] 구 $x^2 + y^2 + z^2 = 64$ 의 중심은 $A(0, 0, 0)$ 이고 반지름의 길이는 8이다.

이 구가 xy 평면 위의 점 $P(a, b, 0)$ 을 중심으로 하고 반지름의 길이가 1인 구와 외접할 조건은

$$\overline{PA} = \sqrt{a^2 + b^2 + 0} = 8 + 1 = 9$$

$$\text{양변을 제곱하면 } a^2 + b^2 = 81$$

따라서 두 구가 공통 부분을 가질 조건은

$$\overline{PA} \leq 9, \text{ 즉 } a^2 + b^2 \leq 81$$

이므로 점 P 가 존재하는 영역의 넓이는 81π 이다.

149. 답 ㉓

[해설]

두 구

$$x^2 + y^2 + z^2 = 1$$

$$(x-2)^2 + (y+1)^2 + (z-2)^2 = 4$$

의 중심이 각각 $O(0, 0, 0)$,

$A(2, -1, 2)$ 이므로 두 구의 중심 사이의 거리 d 는

$$d = \overline{OA} = \sqrt{2^2 + (-1)^2 + 2^2} = 3$$

이고, 두 구의 반지름의 길이가 각각

$$r_1 = 1, r_2 = 2 \text{ 이므로}$$

$$d = r_1 + r_2 = 3$$

따라서 두 구는 외접한다.

조건을 만족하는 점의 자취는 선분 OA 로부터 일정한 거리에 있는 점의 자취, 즉 원을 나타낸다.

그림에서

$$\overline{OR} = \sqrt{3^2 - 2^2} = \sqrt{5}$$

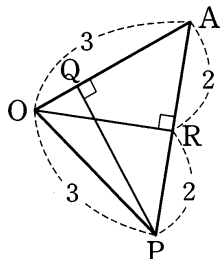
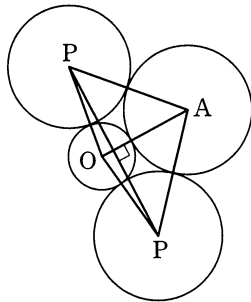
이므로

$$\frac{1}{2} \times 4 \times \sqrt{5} = \frac{1}{2} \times 3 \times \overline{PQ}$$

에서 $\overline{PQ} = \frac{4\sqrt{5}}{3}$

따라서 점 P 의 자취는 반지름의 길이가 $\frac{4\sqrt{5}}{3}$ 인 원이므로 구하는 둘레의 길이는

$$2\pi \times \frac{4\sqrt{5}}{3} = \frac{8\sqrt{5}}{3}\pi$$



150. 답 ㉓

[해설]

두 구

$$C_1 : x^2 + y^2 + z^2 = 4, C_2 : (x-a)^2 + (y-b)^2 + (z-c)^2 = 9$$

의 중심각은 각각 $(0, 0, 0), (a, b, c)$ 이므로

$$d(a, b, c) = \sqrt{a^2 + b^2 + c^2}$$

$$\therefore d(1, 2, 3) = \sqrt{1^2 + 2^2 + 3^2} = \sqrt{14} \text{ (참)}$$

ㄴ. 두 구 C_1, C_2 의 반지름의 길이는 각각 2, 3이므로

$$d(a, b, c) = 5 = 2 + 3$$

따라서 두 구는 서로 외접하므로 한 점에서 만난다. (참)

ㄷ. $d(a, b, c) = \sqrt{a^2 + b^2 + c^2} = 3$ 이라 하면

$$a^2 + b^2 + c^2 = 3^2$$

이므로 점 (a, b, c) 가 나타내는 도형은 중심이 원점이고 반지름의

길이가 3인 구이고, 그 부피는 $\frac{4}{3}\pi \times 3^3 = 36\pi$ 이다. (참)

따라서 옳은 것은 ㄱ, ㄴ, ㄷ이다.

참고 구의 겹넓이와 부피

반지름의 길이가 r 인 구의 겹넓이를 S , 부피를 V 라 하면

$$S = 4\pi r^2, V = \frac{4}{3}\pi r^3$$

151. 답 ㉔

[해설] 주어진 구는 중심이 $(3, 3, 3)$,

반지름의 길이가 $\sqrt{3}$ 인 원이다. 이때,

원점 O 에서 가장 먼 거리에 있는 점 P

까지의 거리 \overline{OP} 는

$$\overline{OP} = \overline{OC} + \overline{PC} = \sqrt{3^2 + 3^2 + 3^2} + \sqrt{3} = 4\sqrt{3}$$

원점 O 에서 구면에 접선을 그어 접점을 T , 접선과 평면 α 의 교점을

Q 라 하면 구에 가려 평면 α 에 빛이 닿지 않는 부분은 오른쪽 그림과

같이 점 P 를 중심으로 하고 반지름의 길이가 \overline{PQ} 인 원의 내부이다.

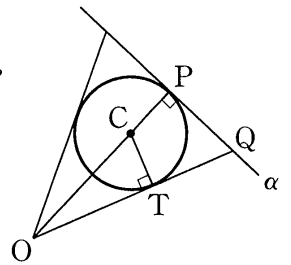
$$\overline{OT} = \sqrt{\overline{OC}^2 - \overline{CT}^2} = \sqrt{(3\sqrt{3})^2 - (\sqrt{3})^2} = \sqrt{24} = 2\sqrt{6}$$

한편, $\triangle OTC \sim \triangle OPQ$ 이므로 $\overline{OT} : \overline{TC} = \overline{OP} : \overline{PQ}$

$$\therefore 2\sqrt{6} : \sqrt{3} = 4\sqrt{3} : \overline{PQ}$$

$$\therefore \overline{PQ} = \sqrt{6}$$

따라서 구하는 부분의 넓이는 $\pi \times (\sqrt{6})^2 = 6\pi$



152. 답 17

[해설] 평면 α 를 xy 평면으로 생각하면 구의 반지름의 길이는 구의 중심의 z 좌표이다. 두 구 C_1, C_2 가 외접하므로 중심 사이의 거리 반지름의 길이의 합과 같다.

두 구 C_1, C_2 의 중심을 O_1, O_2 라 하면 두 구의 반지름의 길이는 각각 5, 15이므로 오른쪽 그림에서

$$\overline{O_1P} : \overline{PO_2} = 5 : 15 = 1 : 3$$

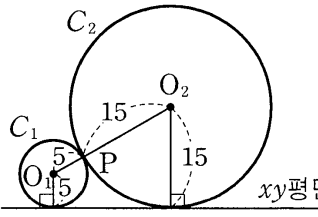
즉, 점 P 는 선분 O_1O_2 를 1 : 3
 으로 내분하는 점이고, 두 점
 O_1, O_2 의 z 좌표가 각각 5, 15
 이므로 점 P 의 z 좌표는

$$\frac{1 \times 15 + 3 \times 5}{1 + 3} = \frac{15}{2}$$

따라서 점 P 와 평면 α 사이의 거

리는 $\frac{15}{2}$ 이므로

$$a + b = 2 + 15 = 17$$



153. 답 ㉔

[해설] 구 $(x-6)^2 + (y-8)^2 + (z-2)^2 = 40$ 이 xy 평면과 만나서 생
 기는 도형의 방정식은

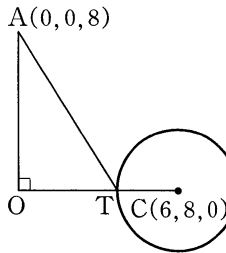
$$(x-6)^2 + (y-8)^2 = 36, z = 0$$

즉, 중심이 $C(6, 8, 0)$ 이고 반지름의 길이
 가 6인 원이다.

점 $A(0, 0, 8)$ 에서 xy 평면에 내린 수선의
 발은 원점 O 이고, \overline{OC} 와 원의 교점을 T 라
 하면 선분 AP 의 길이의 최솟값은 \overline{AT} 이다.

$$\overline{OT} = \overline{OC} - \overline{TC} = 10 - 6 = 4$$

$$\therefore \overline{AT} = \sqrt{\overline{OA}^2 + \overline{OT}^2} = \sqrt{8^2 + 4^2} = 4\sqrt{5}$$



154. 답 ㉓

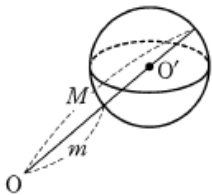
[해설]

$$\overline{AB} = \sqrt{(4-1)^2 + (1-4)^2} = 3\sqrt{2}$$

$$\overline{BC} = \sqrt{1^2 + (4-3)^2 + (1-3)^2} = \sqrt{6}$$

$$\overline{CA} = \sqrt{4^2 + (1-3)^2 + (1-3)^2} = 2\sqrt{6}$$

따라서 삼각형 ABC 는 선분 CA 가 빗변인 직각삼각형이고, 구의 반지름
 길이가 $\sqrt{6}$ 이므로 구의 중심은 선분 AC 중점이다. 즉, 구의 중심의
 좌표를 O' 이라 하면 $O'(2, 2, 2)$ 이므로



$$M = \sqrt{2^2 + 2^2 + 2^2} + \sqrt{6} = 2\sqrt{3} + \sqrt{6}$$

$$m = \sqrt{2^2 + 2^2 + 2^2} - \sqrt{6} = 2\sqrt{3} - \sqrt{6}$$

$$\therefore Mm = (2\sqrt{3} + \sqrt{6})(2\sqrt{3} - \sqrt{6}) = 6$$

155. 답 ㉑

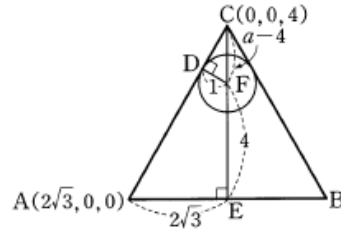
[해설]

$$x^2 + y^2 + z^2 - 8z + 15 = 0 \text{ 에서}$$

$$x^2 + y^2 + (z-4)^2 = 1$$

이므로 중심은 $(0, 0, 4)$ 이고, 반지름의 길이는 1인 구이다.

또, $x^2 + y^2 = 12$ 는 중심이 $(0, 0)$ 이고 반지름의 길이가 $2\sqrt{3}$ 인 원이
 므로 주어진 조건을 나타내면 그림과 같다.



이때, $\triangle CDF$ 와 $\triangle CEA$ 는 서로 닮음이므로

$$(a-4) : \sqrt{a^2 + (2\sqrt{3})^2} = 1 : 2\sqrt{3}$$

$$\sqrt{a^2 + 12} = 2\sqrt{3}(a-4)$$

$$a^2 + 12 = 12(a-4)^2$$

$$a^2 + 12 = 12a^2 - 96a + 192$$

$$11a^2 - 96a + 180 = 0$$

$$(a-6)(11a-30) = 0$$

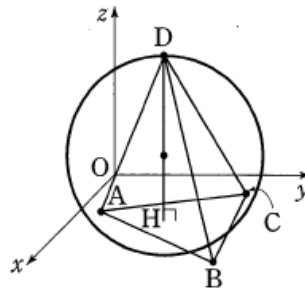
$$\therefore a = 6 (\because a > 4)$$

156. 답 23

[해설] 구의 방정식 $x^2 + y^2 + z^2 - 2x - 4y - 6z = 386$ 을 표준형으로

고치면 $(x-1)^2 + (y-2)^2 + (z-3)^2 = 400$

이므로 이 구는 중심이 $(1, 2, 3)$ 이고 반지름의 길이가 20이다.



세 점 A, B, C 가 xy 평면 위에 있으므로 사면체 $ABCD$ 의 부피가
 최대일 때는 위의 그림에서 점 D 가 xy 평면으로부터 가장 멀리 떨어질
 때이다.

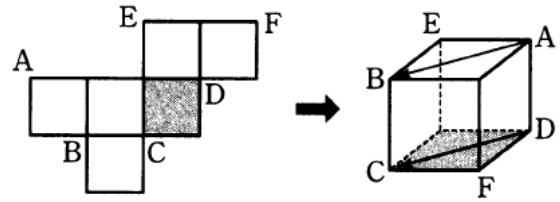
따라서 사면체 $ABCD$ 의 높이의 최댓값은 $20 + 3 = 23$

- | | | | |
|-----------|-----------------|----------------------|------------|
| 1. 답 ② | 2. 답 $\sqrt{3}$ | 3. 답 ② | 4. 답 ① |
| 5. 답 ② | 6. 답 ④ | 7. 답 ② | 8. 답 ④ |
| 9. 답 26 | 10. 답 ③ | 11. 답 ⑤ | 12. 답 ② |
| 13. 답 ⑤ | 14. 답 ⑤ | 15. 답 $\frac{4}{13}$ | 16. 답 5 |
| 17. 답 ④ | 18. 답 ③ | 19. 답 15 | 20. 답 48 |
| 21. 답 ① | 22. 답 ① | 23. 답 ④ | 24. 답 ⑤ |
| 25. 답 ② | 26. 답 ① | 27. 답 ⑤ | 28. 답 7 |
| 29. 답 ② | 30. 답 91 | 31. 답 ③ | 32. 답 ① |
| 33. 답 ③ | 34. 답 ② | 35. 답 ③ | 36. 답 20 |
| 37. 답 ② | 38. 답 ① | 39. 답 6 | 40. 답 ③ |
| 41. 답 ① | 42. 답 ④ | 43. 답 ② | 44. 답 ① |
| 45. 답 ① | 46. 답 ⑤ | 47. 답 ① | 48. 답 ② |
| 49. 답 ⑤ | 50. 답 ⑤ | 51. 답 ② | 52. 답 ② |
| 53. 답 ③ | 54. 답 12 | 55. 답 ④ | 56. 답 30 |
| 57. 답 ② | 58. 답 32 | 59. 답 ② | 60. 답 48 |
| 61. 답 ④ | 62. 답 ⑤ | 63. 답 9 | 64. 답 14 |
| 65. 답 ① | 66. 답 ② | 67. 답 ④ | 68. 답 ③ |
| 69. 답 ② | 70. 답 ⑤ | 71. 답 ④ | 72. 답 ⑤ |
| 73. 답 ② | 74. 답 ① | 75. 답 ② | 76. 답 ⑤ |
| 77. 답 ② | 78. 답 ② | 79. 답 ④ | 80. 답 ② |
| 81. 답 ③ | 82. 답 20 | 83. 답 ③ | 84. 답 12 |
| 85. 답 ⑤ | 86. 답 ② | 87. 답 164 | 88. 답 ③ |
| 89. 답 3 | 90. 답 5 | 91. 답 ① | 92. 답 ④ |
| 93. 답 ② | 94. 답 ① | 95. 답 ① | 96. 답 ④ |
| 97. 답 ① | 98. 답 ① | 99. 답 ④ | 100. 답 500 |
| 101. 답 ① | 102. 답 ② | 103. 답 ③ | 104. 답 ⑤ |
| 105. 답 ④ | 106. 답 ③ | 107. 답 ② | 108. 답 ④ |
| 109. 답 20 | 110. 답 ③ | 111. 답 ④ | 112. 답 ③ |
| 113. 답 ① | 114. 답 ⑤ | 115. 답 ② | 116. 답 12 |
| 117. 답 ③ | 118. 답 ⑤ | 119. 답 ① | 120. 답 ① |
| 121. 답 ① | 122. 답 ② | 123. 답 ③ | 124. 답 7 |
| 125. 답 ④ | 126. 답 ⑤ | 127. 답 ④ | 128. 답 ⑤ |
| 129. 답 98 | 130. 답 ④ | 131. 답 ① | 132. 답 25 |
| 133. 답 ① | 134. 답 ⑤ | 135. 답 ② | 136. 답 ⑤ |
| 137. 답 ③ | 138. 답 43 | 139. 답 ② | 140. 답 ① |
| 141. 답 ③ | 142. 답 ① | 143. 답 ① | 144. 답 ③ |
| 145. 답 ④ | 146. 답 ⑤ | 147. 답 12 | 148. 답 ⑤ |
| 149. 답 ② | 150. 답 ② | 151. 답 ② | 152. 답 ④ |
| 153. 답 ③ | 154. 답 ④ | 155. 답 ⑤ | 156. 답 ① |
| 157. 답 ④ | | | |

1. 답 ②

[해설]

어두운 면을 밑면으로 하여 원래의 정육면체를 만들면 아래의 오른쪽 그림과 같다.



따라서 AB 와 같은 것은 DC 이다.

2. 답 $\sqrt{3}$


[해설] $\vec{AB} + \vec{DH} + \vec{FG} = \vec{AB} + \vec{BF} + \vec{FG} = \vec{AG}$
 $\therefore |\vec{AB} + \vec{DH} + \vec{FG}| = |\vec{AG}|$
 $= \sqrt{1^2 + 1^2 + 1^2} = \sqrt{3}$

3. 답 ②

[해설] $\vec{AC} + \vec{DB} + \vec{CD} - \vec{BA}$
 $= (\vec{AC} + \vec{CD}) + \vec{DB} - \vec{BA}$
 $= (\vec{AD} + \vec{DB}) - \vec{BA}$
 $= \vec{AB} - \vec{BA} = \vec{AB} + \vec{AB} = 2\vec{AB}$

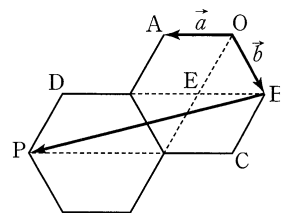
4. 답 ①

[해설] $\vec{AB} + \vec{AD} = \vec{AC}$ 이므로
 $\vec{AB} + \vec{AC} + \vec{AD}$
 $= (\vec{AB} + \vec{AD}) + \vec{AC}$
 $= \vec{AC} + \vec{AC} = 2\vec{AC}$



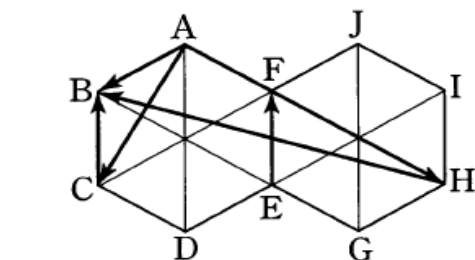
5. 답 ②

[해설] 오른쪽 그림과 같이 보조선을 그으면
 $\vec{BP} = \vec{BD} + \vec{DP}$ 이고
 $\vec{BD} = 3\vec{a}$
 $\vec{DP} = \vec{BC} = \vec{OE} = \vec{a} + \vec{b}$
 $\therefore \vec{BP} = 3\vec{a} + \vec{a} + \vec{b}$
 $= 4\vec{a} + \vec{b}$



6. 답 ④

[해설]



$\vec{AC} + \vec{EF} - \vec{BG} = \vec{AC} + \vec{CB} - \vec{BG}$
 $= \vec{AB} - \vec{AH} = \vec{HB}$

따라서 $\triangle ABH$ 에서

$|\vec{AC} + \vec{EF} - \vec{BG}| = |\vec{HB}|$
 $= \sqrt{3^2 + 1^2 - 2 \cdot 3 \cdot 1 \cdot \cos 120^\circ} = \sqrt{13}$

7. 답 ㉔

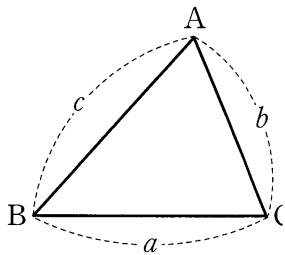
[해설] $\vec{BD} = \vec{BA} + \vec{AD} = -\vec{a} + \vec{b}$
 $\vec{BC} = 2\vec{AD}$ 이므로
 $\vec{AC} = \vec{AB} + \vec{BC} = \vec{a} + 2\vec{b}$
 $\therefore \vec{BD} + \vec{AC} = (-\vec{a} + \vec{b}) + (\vec{a} + 2\vec{b}) = 3\vec{b}$
 다른 풀이
 $\vec{BD} = \vec{AD} - \vec{AB} = \vec{b} - \vec{a}$ 임을 이용할 수도 있다.

8. 답 ㉔

[해설] $\vec{FE} = \vec{BC}$ 이므로
 $\vec{AB} + \vec{FE} = \vec{AB} + \vec{BC} = \vec{AC}$
 이때, $\triangle ABC$ 에서 $\vec{AB} = \vec{BC} = 2$ 이고 $\angle ABC = 120^\circ$ 이므로
 제이코사인법칙에 의하여
 $\vec{AC}^2 = \vec{AB}^2 + \vec{BC}^2 - 2\vec{AB} \cdot \vec{BC} \cos 120^\circ$
 $= 2^2 + 2^2 - 2 \cdot 2 \cdot 2 \cdot \left(-\frac{1}{2}\right) = 12$
 $\therefore \vec{AC} = \sqrt{12} = 2\sqrt{3}$
 따라서 벡터 $\vec{AB} + \vec{FE} = \vec{AC}$ 의 크기는
 $|\vec{AC}| = \vec{AC} = 2\sqrt{3}$

참고 제이코사인법칙

삼각형 ABC 에서
 $a^2 = b^2 + c^2 - 2bc \cos A$
 $\cos C = \frac{a^2 + b^2 - c^2}{2ab}$

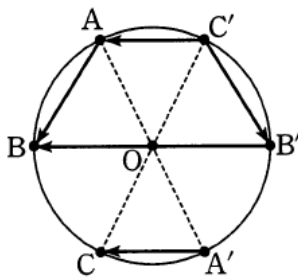


9. 답 26

[해설] 정육면체의 한 모서리의 길이를 a 라 할 때
 () 크기가 a 인 서로 다른 벡터는
 $\vec{AB}, \vec{BA}, \vec{AD}, \vec{DA}, \vec{AE}, \vec{EA}$
 의 6개이다.
 () 크기가 $\sqrt{2}a$ 인 서로 다른 벡터는
 $\vec{AC}, \vec{CA}, \vec{BD}, \vec{DB}, \vec{AF}, \vec{FA}, \vec{BE}, \vec{EB}, \vec{AH}, \vec{HA}, \vec{DE}, \vec{ED}$
 의 12개이다.
 () 크기가 $\sqrt{3}a$ 인 서로 다른 벡터는
 $\vec{AG}, \vec{GA}, \vec{BH}, \vec{HB}, \vec{CE}, \vec{EC}, \vec{DF}, \vec{FD}$
 의 8개이다.
 따라서 구하는 서로 다른 벡터의 개수는
 $6 + 12 + 8 = 26$ (개)

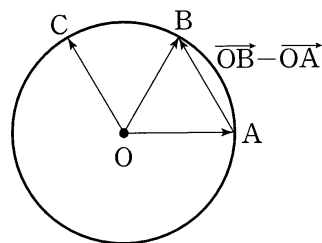
10. 답 ㉓

[해설]
 세 점 A, B, C 와 세 점 A', B', C' 이 각각 중심 O 에 대칭이므로
 $\vec{AB} + \vec{A'C} - \vec{C'B} = \vec{AB} + \vec{C'A} - \vec{C'B}$
 $= \vec{C'B} - \vec{C'B}$
 $= \vec{B'B} = 2\vec{OB}$



11. 답 ㉕

[해설]
 $\vec{OC} = \vec{OB} - \vec{OA}$ 이므로 다음 그림과 같다.



이 때, $|\vec{OC}| = 6$ 이므로 삼각형 OAB 는 한 변의 길이가 6인 정삼각형이다. 따라서 $\angle AOB = \frac{\pi}{3}$ 이므로 부채꼴 AOB 의 넓이 S 는

$$S = \frac{1}{2} \times 6^2 \times \frac{\pi}{3} = 6\pi$$

12. 답 ㉔

[해설]
 $\vec{OP} = \vec{OQ} - \vec{OA}$
 $= \vec{AQ}$
 $|\vec{OP}| = |\vec{AQ}| = 1$

즉, $\vec{AQ} = 1$ 이므로 점 Q 가 그리는 도형은 중심이 A 이고 반지름의 길이가 1인 원이다.
 따라서 점 Q 가 나타내는 도형의 길이는 2π 이다.

13. 답 ㉕

[해설] $\vec{CF} = \vec{DE}$
 $\vec{BD} + \vec{CF} = \vec{BD} + \vec{DE} = \vec{BE}$ (참)
 $\therefore \vec{AC} > \vec{EF}, \vec{AF} > \vec{EF}$ 이므로
 $|\vec{AC}| > |\vec{EF}|, |\vec{AF}| > |\vec{EF}|$
 $\therefore |\vec{AC}| + |\vec{AF}| > 2|\vec{EF}|$ (참)
 \therefore 선분 CF 의 중점을 M 이라 하면
 $\vec{AC} + \vec{AF} > 2\vec{AM}$
 이때, $\vec{AM} > \vec{EF}$ 이므로
 $|\vec{AC} + \vec{AF}| = 2|\vec{AM}| > 2|\vec{EF}|$ (참)
 따라서 보기에서 옳은 것은 $\neg, \text{나}, \text{다}$ 이다.

14. 답 ㉕

[해설] \therefore 사각형 $ACDF$ 는 직사각형이므로
 $\vec{FD} = \vec{AC} = \vec{AB} + \vec{BC} = \vec{a} + \vec{b}$ (참)
 \therefore 정육각형의 외접원의 중심을 O 라 하면 $\square OABC$ 는 마름모이므로
 $\vec{BC} = \vec{AO}, \vec{BO} = \vec{AO} - \vec{AB} = \vec{BC} - \vec{AB} = \vec{b} - \vec{a}$
 $\therefore \vec{BE} = 2\vec{BO} = 2(\vec{b} - \vec{a})$ (참)
 $\therefore \vec{FE} = \vec{BC}, \vec{FD} = \vec{AC}$ 이므로 $\vec{AB} + \vec{FE} = \vec{AC}$
 $\therefore \vec{AB} + \vec{FE} + \vec{FD} = 2\vec{FD}$
 $\therefore \angle DEF = 120^\circ$ 이므로 $\triangle DEF$ 에서
 $\vec{DF}^2 = 2^2 + 2^2 - 2 \cdot 2 \cdot 2 \cos 120^\circ = 12$
 $\therefore \vec{DF} = 2\sqrt{3}$

$\therefore |\vec{AB} + \vec{FE} + \vec{FD}| = 2|\vec{FD}| = 4\sqrt{3}$ (참)
따라서 보기에서 옳은 것은 ㄱ, ㄴ, ㄷ이다.

15. 답 $\frac{4}{13}$

[해설] $3\vec{x} + 2\vec{y} = \vec{a}$ ㉠, $2\vec{x} - 3\vec{y} = \vec{b}$ ㉡

㉠ $\times 3 +$ ㉡ $\times 2$ 를 하면

$$13\vec{x} = 3\vec{a} + 2\vec{b}$$

$$\therefore \vec{x} = \frac{3}{13}\vec{a} + \frac{2}{13}\vec{b}$$

㉠ $\times 2 -$ ㉡ $\times 3$ 을 하면

$$13\vec{y} = 2\vec{a} - 3\vec{b}$$

$$\therefore \vec{y} = \frac{2}{13}\vec{a} - \frac{3}{13}\vec{b}$$

$$\begin{aligned} \therefore \vec{x} + \vec{y} &= \left(\frac{3}{13}\vec{a} + \frac{2}{13}\vec{b}\right) + \left(\frac{2}{13}\vec{a} - \frac{3}{13}\vec{b}\right) \\ &= \frac{5}{13}\vec{a} - \frac{1}{13}\vec{b} \end{aligned}$$

따라서 $k = \frac{5}{13}, l = -\frac{1}{13}$

$$k + l = \frac{4}{13}$$

16. 답 5

[해설] $\vec{AB} = \vec{OB} - \vec{OA} = (\vec{a} - \vec{b}) - (2\vec{a} + \vec{b})$
 $= -\vec{a} - 2\vec{b}$

$\vec{AC} = \vec{OC} - \vec{OA} = (4\vec{a} + m\vec{b}) - (2\vec{a} + \vec{b})$
 $= 2\vec{a} + (m-1)\vec{b}$

이때, 두 벡터 \vec{AB}, \vec{AC} 가 평행하려면

$$2\vec{a} + (m-1)\vec{b} = t(-\vec{a} - 2\vec{b})$$

를 만족시키는 실수 t 가 존재해야 한다.

따라서 $2\vec{a} + (m-1)\vec{b} = -t\vec{a} - 2t\vec{b}$ 에서

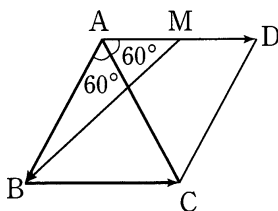
$$2 = -t, m-1 = -2t$$

$$\therefore t = -2, m = 5$$

17. 답 ④

[해설]

$\vec{BC} = \vec{AD}$ 인 점 D 를 잡고 \vec{AD} 의 중점을 M 이라 하면



$$\begin{aligned} & \left| \vec{AB} - \frac{1}{2}\vec{BC} \right| \\ &= \left| \vec{AB} - \frac{1}{2}\vec{AD} \right| \\ &= \left| \vec{AB} - \vec{AM} \right| \\ &= \left| \vec{MB} \right| \\ &= \sqrt{AB^2 + AM^2 - 2AB \cdot AM \cos 120^\circ} \end{aligned}$$

$$\begin{aligned} &= \sqrt{2^2 + 1^2 - 2 \cdot 2 \cdot 1 \cdot \left(-\frac{1}{2}\right)} \\ &= \sqrt{7} \end{aligned}$$

18. 답 ③

[해설] 점 A, B, P 가 일직선 위에 있으므로

$$\vec{AP} = k\vec{AB}$$

인 0이 아닌 실수 k 가 존재한다.

$$\vec{AP} = \vec{OP} - \vec{OA} = -2\vec{a} + t\vec{b} - \vec{a} = -3\vec{a} + t\vec{b}$$

$$\vec{AB} = \vec{OB} - \vec{OA} = \vec{b} - \vec{a}$$

$$\vec{AP} = k\vec{AB} \text{에서 } -3\vec{a} + t\vec{b} = k(\vec{b} - \vec{a}) \dots \textcircled{1}$$

$\vec{a} \nparallel \vec{b}$ 이므로 $k = 3, t = 3$

참고

㉠에서 아무 조건도 없다면 그 다음 결론을 낼 수 없다. 다음을 보자.

$$k\vec{a} + l\vec{b} = m\vec{a} + n\vec{b} \Leftrightarrow k = m, l = n \dots \textcircled{2}$$

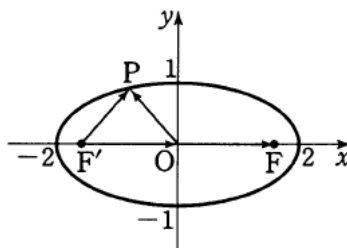
이런 것은 행렬에서도 볼 수 있다. (물론 다른 분야에도 많이 있다.)

$$p\vec{A} + q\vec{E} = r\vec{A} + s\vec{E} \Leftrightarrow p = r, q = s \dots \textcircled{3}$$

㉡, ㉢의 결론에는 모두 문제가 있다. ㉡에서는 두 벡터가 평행이 아니라는 조건 ($\vec{a} \nparallel \vec{b}$)이 필요하고 ㉢에서는 행렬 A 가 단위행렬 E 의 실수배가 아니라는 조건 ($A \neq kE$)이 필요하다. 이러한 조건이 없는데도 불구하고 그런 결론을 내리는 것은 명백한 오류이다.

19. 답 15

[해설]



$$\vec{OP} + \vec{OF} = \vec{OP} + \vec{F'O} = \vec{F'P} \text{이므로}$$

$$|\vec{OP} + \vec{OF}| = 1 \text{에서 } |\vec{F'P}| = 1$$

한편, $\vec{F'P} + \vec{PF} = 4$ 이므로

$$\vec{PF} = 4 - \vec{F'P} = 4 - 1 = 3 = k$$

$$\therefore 5k = 15$$

20. 답 48

[해설]

A_i 를 꼭짓점으로 하는 정팔각형의 대각선의 교점을 O 라 하면

삼각형 OA_1A_3 는 직각삼각형이 되고 $A_1O = 3$ 이다.

A_iB_i 의 중점을 P_i 라 하면 $\vec{PA}_i + \vec{PB}_i = 2\vec{PP_i}$ 이다. 또, P_i 를 꼭짓점으로 하는 정팔면체의 대각선의 교점을 O' 이라 하면

$$\sum_{i=1}^8 \vec{O'P_i} = \vec{0} \text{이다.}$$

$$\therefore \sum_{i=1}^8 (\vec{PA}_i + \vec{PB}_i)$$

$$\begin{aligned}
 &= 2 \sum_{i=1}^8 \overrightarrow{P_1 P_i} \\
 &= 2 \sum_{i=1}^8 (\overrightarrow{O' P_i} - \overrightarrow{O' P_1}) \\
 &= -2(8 \overrightarrow{O' P_1}) \quad (\because \sum_{i=1}^8 \overrightarrow{O' P_i} = \vec{0}) \\
 &= -2(8 \overrightarrow{O A_1}) = -16 \overrightarrow{O A_1}
 \end{aligned}$$

따라서 크기는 48이다.

21. 답 ①

[해설] $\triangle ABC$ 의 무게중심을 G 라 하면

$$\overrightarrow{PG} = \frac{1}{3}(\overrightarrow{PA} + \overrightarrow{PB} + \overrightarrow{PC})$$

에서 $|\overrightarrow{PA} + \overrightarrow{PB} + \overrightarrow{PC}| = 3|\overrightarrow{PG}|$

따라서 $|\overrightarrow{PG}|$ 가 최대일 때 $|\overrightarrow{PA} + \overrightarrow{PB} + \overrightarrow{PC}|$ 가 최대이다.

한편, 무게중심 G 는 중선 AD 를 2 : 1로 내분하는 점이고 $\overline{AO} < \overline{DO}$ 이므로 G 에서 가장 멀리 떨어진 점은 P_1 이다.

참고

$\triangle ABC$ 의 무게중심을 G 라 하면 임의의 점 P 에 대하여

$$\overrightarrow{PG} = \frac{1}{3}(\overrightarrow{PA} + \overrightarrow{PB} + \overrightarrow{PC})$$

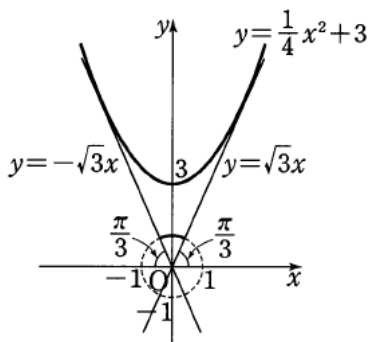
가 성립한다. 이때, 점 P 는 정해져 있는 정점이 아니라 임의의 점이라는 사실이 더 중요하다. 즉, P 가 삼각형의 내부에 있으나 외부에 있으나 아무상관없이 성립한다는 것이다. 흔히 좌표평면의 원점 O 에 대해서만 위의 식이 성립하는 것으로 생각하는 경향이 있는데 점 P 는 세 꼭짓점 중의 어느 것일수도 있다.

22. 답 ①

[해설]

$$\overrightarrow{OB} = \frac{|\overrightarrow{OA}|}{|\overrightarrow{OA}|} = \frac{|\overrightarrow{OA}|}{|\overrightarrow{OA}|} = 1$$

이므로 \overrightarrow{OB} 는 \overrightarrow{OA} 와 방향이 같고 크기가 1인 벡터이다.



그림에서 포물선 $y = \frac{1}{4}x^2 + 3$ 에 접하고, 원점을 지나는 직선을 $y = ax$ 라 하면

$$\frac{1}{4}x^2 + 3 = ax, \quad x^2 - 4ax + 12 = 0$$

$$\frac{D}{4} = 4a^2 - 12 = 0, \quad a^2 = 3 \quad \therefore a = \pm \sqrt{3}$$

따라서 접하는 두 직선이 x 축의 양의 방향과 이루는 각의 크기가

$\frac{\pi}{3}, \frac{2}{3}\pi$ 이므로 점 B 가 나타내는 도형의 길이는 부채꼴의 중심각의 크기와 호의 길이의 관계로부터

$$1 \cdot \left(\frac{2}{3}\pi - \frac{\pi}{3}\right) = \frac{\pi}{3}$$

23. 답 ④

[해설]

두 직선 OB 와 EF 는 서로 평행하고 $\overline{OB} = 2\overline{EF}$ 이므로

$$\begin{aligned}
 2\overrightarrow{EF} &= \overrightarrow{OB} \\
 \overrightarrow{OD} - 2\overrightarrow{EF} + \overrightarrow{GB} &= \overrightarrow{OD} - \overrightarrow{OB} + \overrightarrow{GB} \\
 &= \overrightarrow{OD} + \overrightarrow{BO} + \overrightarrow{GB} \\
 &= \overrightarrow{BD} + \overrightarrow{GB} = \overrightarrow{GD} = \frac{1}{2}\overrightarrow{CO}
 \end{aligned}$$

$$\therefore |\overrightarrow{OD} - 2\overrightarrow{EF} + \overrightarrow{GB}| = \left|\frac{1}{2}\overrightarrow{CO}\right| = \frac{1}{2} \times 2 = 1$$

24. 답 ⑤

[해설]

$\vec{d} = \vec{b} + \vec{c}$ 이므로

$$\begin{aligned}
 \vec{a} + 2\vec{b} + 3\vec{d} &= \vec{a} + 2\vec{b} + 3(\vec{b} + \vec{c}) \\
 &= \vec{a} + 5\vec{b} + 3\vec{c}
 \end{aligned}$$

주어진 식은

$$x\vec{a} + y\vec{b} + z\vec{c} = \vec{a} + 5\vec{b} + 3\vec{c}$$

이때, 세 벡터 $\vec{a}, \vec{b}, \vec{c}$ 는 서로 평행하지 않으므로

$$x = 1, \quad y = 5, \quad z = 3$$

$$\therefore x + y + z = 9$$

25. 답 ②

[해설]

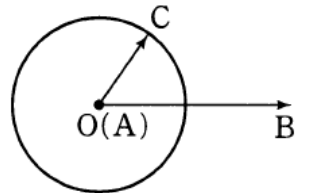
$$\begin{aligned}
 \overrightarrow{OD} &= \overrightarrow{OA} + \overrightarrow{AD} = \vec{a} + \overrightarrow{BC} \\
 &= \vec{a} + (\vec{c} - \vec{b}) = \vec{a} - \vec{b} + \vec{c}
 \end{aligned}$$

26. 답 ①

[해설]

구의 중심 O 가 점 A 에 일치하도록 구를 평행이동시키면 다음과 같다.

따라서 $|\overrightarrow{OC} + \overrightarrow{AB}|$ 의 최댓값은 세 점 O, B, C 가 일직선 위에 있으면서 \overline{AB} 가 평면 α 위에 있는 원의 지름의 길이가 될 때이다.



$$\therefore |\overrightarrow{OC} + \overrightarrow{AB}| = |\overrightarrow{OC} + \overrightarrow{OB}| \leq |\overrightarrow{OC} + 2\overrightarrow{OC}| = |3\overrightarrow{OC}| = 3 \times 2 = 6$$

27. 답 ⑤

[해설]

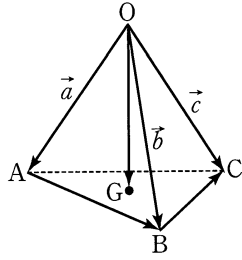
$\overrightarrow{OA} = \vec{a}, \overrightarrow{OB} = \vec{b}, \overrightarrow{OC} = \vec{c}$ 라 하면

$\overrightarrow{AB} = \vec{b} - \vec{a}, \overrightarrow{BC} = \vec{c} - \vec{b}$ 이므로

$$\begin{aligned}
 \vec{b} &= \overrightarrow{OA} + \overrightarrow{AB} \\
 \vec{c} &= \overrightarrow{OA} + \overrightarrow{AB} + \overrightarrow{BC}
 \end{aligned}$$

따라서

$$\vec{OG} = \frac{1}{3}(\vec{a} + \vec{b} + \vec{c})$$



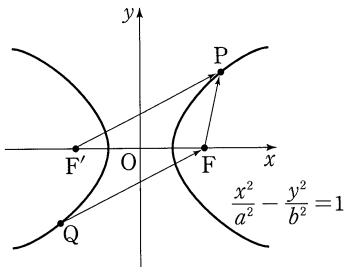
$$= \frac{1}{3}\{\vec{OA} + (\vec{OA} + \vec{AB}) + (\vec{OA} + \vec{AB} + \vec{BC})\}$$

$$= \vec{OA} + \frac{2}{3}\vec{AB} + \frac{1}{3}\vec{BC}$$

이므로 $x + y + z = 1 + \frac{2}{3} + \frac{1}{3} = 2$

28. 답 7

[해설]



쌍곡선은 원점에 대하여 대칭이므로

$$\vec{QF} = \vec{F'P}$$

그러므로

$$|\vec{FP} - \vec{QF}| = |\vec{FP} - \vec{F'P}|$$

$$= |\vec{FP} + \vec{PF'}| = |\vec{FF'}|$$

$$= 10$$

초점을 $F(k, 0)$ ($k > 0$)이라 하면

$$k = 5 \quad \dots \textcircled{1}$$

또, 쌍곡선의 정의에 의하여

$$||\vec{FP}| - |\vec{QF}|| = ||\vec{FP}| - |\vec{F'P}||$$

$$= 2a = 6$$

$$\therefore a = 3 \quad \dots \textcircled{2}$$

①, ②에서

$$b^2 = k^2 - a^2$$

$$= 5^2 - 3^2 = 16$$

$$\therefore b = 4$$

$$\therefore a + b = 7$$

29. 답 ②

[해설] $\vec{BC} = \vec{BA} + \vec{AC}$ 이므로 $5\vec{w} = -4\vec{u} + 3\vec{v}$ 이다.

즉, $\vec{w} = -\frac{4}{5}\vec{u} + \frac{3}{5}\vec{v}$ 이므로

$$l = -\frac{4}{5}, w = \frac{3}{5}$$

$$\therefore l + m = -\frac{1}{5}$$

30. 답 91

[해설] $\vec{OD} = \vec{OA} + \vec{AD}$

$$= \vec{OA} + \vec{BC}$$

$$= \vec{OA} + (\vec{OC} - \vec{OB})$$

$$= \vec{OA} - \vec{OB} + \vec{OC}$$

$$= \vec{a} - \vec{b} + \vec{c}$$

$$\therefore 100p + 10q + r = 100 - 10 + 1 = 91$$

31. 답 ③

[해설] $\vec{AD} + \vec{BC} + \vec{DC} = (\vec{AD} + \vec{DC}) + \vec{BC}$

$$= \vec{AC} + \vec{BC} = \vec{0}$$

$$\therefore \vec{CA} = -\vec{CB}$$

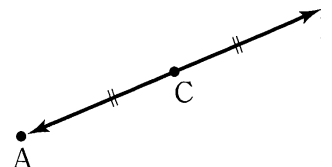
따라서 세 점 A, B, C는 오른쪽 그림과 같이 한 직선 위에 있다. (참)

∴ ㄱ의 그림에서 $\vec{AB} = 2\vec{AC}$ 이므로 $|\vec{AB}| = 2|\vec{AC}|$ (참)

∴ 세 점 A, B, C가 ㄱ의 그림과 같은 위치 관계를 만족시키면 점 D의 위치에 관계없이 주어진 등식이 성립한다.

따라서 삼각형 ABD가 항상 직각삼각형인 것은 아니다.

따라서 보기에서 옳은 것은 ㄱ, ㄴ이다.



32. 답 ①

[해설] 오른쪽 그림과 같이 두 벡터

\vec{a}, \vec{b} 를 놓으면

$$\vec{OP} = 2\vec{a} - \vec{b}$$

$$\vec{OQ} = 2\vec{a} + \vec{b}$$

$$\vec{OR} = 2\vec{b} - \vec{a}$$

이므로

$$s\vec{OP} + t\vec{OQ} = s(2\vec{a} - \vec{b}) + t(2\vec{a} + \vec{b})$$

$$= (2s + 2t)\vec{a} + (-s + t)\vec{b}$$

$$\therefore 2\vec{b} - \vec{a} = (2s + 2t)\vec{a} + (-s + t)\vec{b}$$

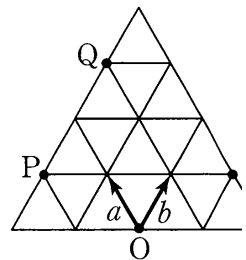
이 때, 두 벡터 \vec{a}, \vec{b} 는 서로 평행하지 않으므로

$$-1 = 2s + 2t, 2 = -s + t$$

두 식을 연립해 풀면

$$s = -\frac{5}{4}, t = \frac{3}{4}$$

$$\therefore s + t = -\frac{1}{2}$$



33. 답 ③

[해설] $2\vec{PA} + \vec{PB} + \vec{PC} = \vec{AB}$ 에서

$$2\vec{PA} + \vec{PB} + \vec{PC} = \vec{PB} - \vec{PA}$$

$$\therefore \vec{PC} = -3\vec{PA}$$

따라서 세 점 P, A, C는 한 직선 위에 있고

$$\vec{AP} : \vec{PC} = 1 : 3 \quad \dots \textcircled{1}$$

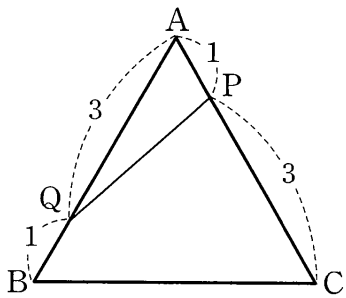
또, $\vec{QA} + 2\vec{QB} + \vec{QC} = \vec{BC}$ 에서

$$\vec{QA} + 2\vec{QB} + \vec{QC} = \vec{QC} - \vec{QB}$$

따라서 세 점 Q, A, B는 한 직선 위에 있고

$$\vec{BQ} : \vec{QA} = 1 : 3 \quad \dots \textcircled{2}$$

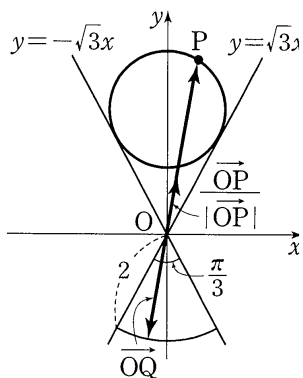
①, ②에 의하여 점삼각형 ABC에서 두 점 P, Q의 위치는 다음 그림과 같다.



따라서 삼각형 APQ의 넓이는 $\frac{1}{2} \times 3 \times 1 \times \sin 60^\circ = \frac{3\sqrt{3}}{4}$

34. 답 ②

[해설] 벡터 $\frac{\overrightarrow{OP}}{|\overrightarrow{OP}|}$ 는 벡터 \overrightarrow{OP} 와 방향이 같고 크기가 1인 단위벡터이므로 벡터 \overrightarrow{OQ} 는 벡터 \overrightarrow{OP} 와 방향이 반대이고 크기가 2인 벡터이다. 따라서 점 Q의 자취는 그림과 같이 원점을 중심으로 하고 반지름의 길이가 2이며 중심각의 크기가 $\frac{\pi}{3}$ 인 부채꼴의 호이다. 따라서 구하는 자취의 길이는 $2 \cdot \frac{\pi}{3} = \frac{2}{3}\pi$



35. 답 ③

[해설] 선분 AB의 중점이 M_5 이므로 선분 $M_k M_{10-k}$ 의 중점은 M이다. $\therefore \overrightarrow{OM_k} + \overrightarrow{OM_{10-k}} = 2\overrightarrow{OM_5} (k=1, 2, 3, 4)$
 $\therefore \overrightarrow{OM_1} + \overrightarrow{OM_2} + \overrightarrow{OM_3} + \dots + \overrightarrow{OM_9}$
 $= (\overrightarrow{OM_1} + \overrightarrow{OM_9}) + (\overrightarrow{OM_2} + \overrightarrow{OM_8}) + (\overrightarrow{OM_3} + \overrightarrow{OM_7})$
 $\quad + (\overrightarrow{OM_4} + \overrightarrow{OM_6}) + \overrightarrow{OM_5}$
 $= 2\overrightarrow{OM_5} + 2\overrightarrow{OM_5} + 2\overrightarrow{OM_5} + 2\overrightarrow{OM_5} + \overrightarrow{OM_5}$
 $= 9\overrightarrow{OM_5}$
 이때, $\overrightarrow{OM_5} = 10 \times \frac{\sqrt{3}}{2} = 5\sqrt{3}$ 이므로 $|\overrightarrow{OM_5}| = 5\sqrt{3}$
 $\therefore |\overrightarrow{OM_1} + \overrightarrow{OM_2} + \overrightarrow{OM_3} + \dots + \overrightarrow{OM_9}| = 9|\overrightarrow{OM_5}| = 9 \times 5\sqrt{3} = 45\sqrt{3}$

다른 풀이

$\overrightarrow{OA} = \vec{a}, \overrightarrow{OB} = \vec{b}$ 라 하면
 $\overrightarrow{OM_1} = \frac{9}{10}\vec{a} + \frac{1}{10}\vec{b}$
 $\overrightarrow{OM_2} = \frac{8}{10}\vec{a} + \frac{2}{10}\vec{b}$
 $\overrightarrow{OM_3} = \frac{7}{10}\vec{a} + \frac{3}{10}\vec{b}$
 \vdots

$\overrightarrow{OM_9} = \frac{1}{10}\vec{a} + \frac{9}{10}\vec{b}$ 이므로
 $\overrightarrow{OM_1} + \overrightarrow{OM_2} + \overrightarrow{OM_3} + \dots + \overrightarrow{OM_9}$
 $= \frac{45}{10}\vec{a} + \frac{45}{10}\vec{b} = \frac{9}{2}\vec{a} + \frac{9}{2}\vec{b} = \frac{9}{2}(\vec{a} + \vec{b})$
 이때, 선분 AB의 중점을 M이라 하면 $\overrightarrow{OM} = 10 \times \frac{\sqrt{3}}{2} = 5\sqrt{3}$
 $\therefore |\vec{a} + \vec{b}| = 2\overrightarrow{OM} = 10\sqrt{3}$
 $\therefore |\overrightarrow{OM_1} + \overrightarrow{OM_2} + \overrightarrow{OM_3} + \dots + \overrightarrow{OM_9}| = \frac{9}{2}|\vec{a} + \vec{b}| = \frac{9}{2} \times 10\sqrt{3} = 45\sqrt{3}$

36. 답 20

[해설] (나)의 n 대신에 0을 대입하면 $\overrightarrow{OX_1} = \overrightarrow{OX_0} + \frac{1}{2}\overrightarrow{X_0A} + \frac{1}{4}\overrightarrow{X_0B}$
 $= \overrightarrow{OO} + \frac{1}{2}\overrightarrow{OA} + \frac{1}{4}\overrightarrow{OB}$
 $= \frac{1}{2}\overrightarrow{OA} + \frac{1}{4}\overrightarrow{OB} = (9, 12)$
 (나)의 n 대신에 n-1을 대입하면 $\overrightarrow{OX_n} = \overrightarrow{OX_{n-1}} + \frac{1}{2}\overrightarrow{X_{n-1}A} + \frac{1}{4}\overrightarrow{X_{n-1}B}$
 (나)와 이것을 변끼리 빼면 $\overrightarrow{OX_{n+1}} - \overrightarrow{OX_n} = (\overrightarrow{OX_n} - \overrightarrow{OX_{n-1}}) + \frac{1}{2}(\overrightarrow{X_nA} - \overrightarrow{X_{n-1}A})$
 $+ \frac{1}{4}(\overrightarrow{X_nB} - \overrightarrow{X_{n-1}B})$
 $\overrightarrow{X_nX_{n+1}} = \overrightarrow{X_{n-1}X_n} + \frac{1}{2}(\overrightarrow{AX_{n-1}} - \overrightarrow{AX_n}) + \frac{1}{4}(\overrightarrow{BX_{n-1}} - \overrightarrow{BX_n})$
 $= \overrightarrow{X_{n-1}X_n} + \frac{1}{2}\overrightarrow{X_nX_{n-1}} + \frac{1}{4}\overrightarrow{X_nX_{n-1}}$
 $= \overrightarrow{X_{n-1}X_n} - \frac{1}{2}\overrightarrow{X_{n-1}X_n} - \frac{1}{4}\overrightarrow{X_{n-1}X_n}$
 $= \frac{1}{4}\overrightarrow{X_{n-1}X_n}$
 $\therefore |\overrightarrow{X_nX_{n+1}}| = \frac{1}{4}|\overrightarrow{X_{n-1}X_n}|$ (단, $n=1, 2, 3, \dots$)
 $\therefore |\overrightarrow{X_{n-1}X_n}| = |\overrightarrow{X_0X_1}| \left(\frac{1}{4}\right)^{n-1} = |\overrightarrow{OX_1}| \left(\frac{1}{4}\right)^{n-1}$
 $= \sqrt{9^2 + 12^2} \left(\frac{1}{4}\right)^{n-1} = 15 \times \left(\frac{1}{4}\right)^{n-1}$
 $\therefore \sum_{n=1}^{\infty} |\overrightarrow{X_{n-1}X_n}| = \frac{15}{1 - \frac{1}{4}} = 20$

37. 답 ②

[해설] $\overrightarrow{AB} \parallel \overrightarrow{CD}$ 이므로 $\overrightarrow{CD} = m\overrightarrow{AB}$ (m은 0이 아닌 실수)이어야 한다.
 $\overrightarrow{CD} = \overrightarrow{AD} - \overrightarrow{AC} = (\overrightarrow{AB} + \overrightarrow{BD}) - \overrightarrow{AC}$
 $= (\vec{a} + 2\vec{b}) + (4\vec{a} + k\vec{b}) - (k\vec{a} + 6\vec{b})$
 $= (5-k)\vec{a} + (k-4)\vec{b}$
 따라서 $(5-k)\vec{a} + (k-4)\vec{b} = m\vec{a} + 2m\vec{b}$ 이므로

$$5 - k = m, \quad k - 4 = 2m$$

즉, $2(5 - k) = k - 4$ 이므로

$$10 - 2k = k - 4, \quad 3k = 14$$

$$\therefore k = \frac{14}{3}$$

38. 답 ①

[해설]

$$\overrightarrow{OP} = \vec{a} + 2\vec{b}, \quad \overrightarrow{OQ} = 3\vec{a} - k\vec{b} \text{ 이므로}$$

$$\overrightarrow{PQ} = \overrightarrow{OQ} - \overrightarrow{OP}$$

$$= (3\vec{a} - k\vec{b}) - (\vec{a} + 2\vec{b})$$

$$= 2\vec{a} - (k+2)\vec{b}$$

두 벡터 \overrightarrow{OP} 와 \overrightarrow{PQ} 가 서로 평행하므로 상수 m 에 대하여

$$m\overrightarrow{OP} = \overrightarrow{PQ}$$

$$m\vec{a} + 2m\vec{b} = 2\vec{a} - (k+2)\vec{b}$$

$$\therefore m = 2, \quad k = -6$$

39. 답 6

[해설] $(\vec{a} + 3\vec{b} - \vec{c}) \parallel (3\vec{a} + k\vec{b} + l\vec{c})$ 이려면

$3\vec{a} + k\vec{b} + l\vec{c} = t(\vec{a} + 3\vec{b} - \vec{c})$ 를 만족시키는 실수 t 가 존재해야 한다.

이때, 세 벡터 $\vec{a}, \vec{b}, \vec{c}$ 중 어느 두 벡터도 서로 평행하지 않으므로

$$3 = t, \quad k = 3t, \quad l = -t$$

$$\therefore k = 9, \quad l = -3$$

$$\therefore k + l = 6$$

40. 답 ③

[해설] $\overrightarrow{OA} = \vec{a}, \quad \overrightarrow{OB} = \vec{b}$ 라 하면

$$\overrightarrow{PQ} = \overrightarrow{OQ} - \overrightarrow{OP} = x\overrightarrow{OA} - (\overrightarrow{OA} + \overrightarrow{OB}) = (x-1)\vec{a} - \vec{b}$$

$$\overrightarrow{PR} = \overrightarrow{OR} - \overrightarrow{OP} = 3\overrightarrow{OB} - (\overrightarrow{OA} + \overrightarrow{OB}) = -\vec{a} + 2\vec{b}$$

세 점 P, Q, R 가 한 직선 위에 있기 위해서는 $\overrightarrow{PQ} = t\overrightarrow{PR}$ 를 만족시키는 실수 $t(t \neq 0)$ 가 존재해야 한다.

즉, $(x-1)\vec{a} - \vec{b} = -t\vec{a} + 2t\vec{b}$ 이어야 한다.

그런데 두 벡터 \vec{a}, \vec{b} 는 서로 평행이 아니므로

$$\begin{cases} x-1 = -t \\ -1 = 2t \end{cases}$$

$$\therefore t = -\frac{1}{2}, \quad x = \frac{3}{2}$$

41. 답 ①

[해설]

세 점 A, B, C 가 일직선 위에 있으므로

$$l\overrightarrow{AB} = \overrightarrow{AC} \quad (\text{단, } l \text{ 은 실수})$$

한편,

$$\overrightarrow{AB} = \overrightarrow{DB} - \overrightarrow{DA}$$

$$= 2\vec{b} - \vec{a}$$

이므로

$$l(2\vec{b} - \vec{a}) = 3\vec{a} + k\vec{b}$$

$$-l\vec{a} + 2l\vec{b} = 3\vec{a} + k\vec{b}$$

두 벡터 \vec{a}, \vec{b} 가 영벡터가 아니고 서로 평행하지 않으므로

$$l = -3, \quad 2l = k$$

$$\therefore k = -6$$

42. 답 ④

[해설] 점 O 를 시점으로 하는 위치벡터를 잡으면

$$\overrightarrow{PA} + \overrightarrow{PB} + \overrightarrow{PC} = \overrightarrow{AB}$$

$$\Leftrightarrow (\overrightarrow{OA} - \overrightarrow{OP}) + (\overrightarrow{OB} - \overrightarrow{OP}) + (\overrightarrow{OC} - \overrightarrow{OP}) = \overrightarrow{OB} - \overrightarrow{OA}$$

$$\therefore \overrightarrow{OP} = \frac{\overrightarrow{OC} + 2\overrightarrow{OA}}{3}$$

따라서 점 P 는 \overline{AC} 를 1:2 로 내분하는 점이다.

\therefore (가) AC, (나) 2

다른 풀이

$$\overrightarrow{AB} = \overrightarrow{PB} - \overrightarrow{PA} \text{ 이므로 } \overrightarrow{PA} + \overrightarrow{PB} + \overrightarrow{PC} = \overrightarrow{PB} - \overrightarrow{PA}$$

$$\therefore 2\overrightarrow{PA} = -\overrightarrow{PC}$$

즉 세 점 A, C, P 는 오른쪽 그림과 같이 일직선 위에 있으며

$2\overrightarrow{PA} = \overrightarrow{PC}$ 이고, 두 점 A, C 는 점 P 의 반대쪽에 있다.

따라서 점 P 는 선분 AC 를 1:2 로 내분하는 점이다.

43. 답 ②

[해설] 점 O 를 시점으로 하는 위치벡터를 잡으면

$$\overrightarrow{AC} = -2\overrightarrow{AB} \text{ 에서 } \overrightarrow{OC} - \overrightarrow{OA} = -2(\overrightarrow{OB} - \overrightarrow{OA})$$

$$\therefore 3\overrightarrow{OA} = 2\overrightarrow{OB} + \overrightarrow{OC}$$

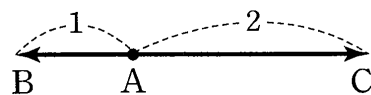
$$\therefore \overrightarrow{OA} = \frac{\overrightarrow{OC} + 2\overrightarrow{OB}}{3}$$

따라서 점 A 는 선분 BC 를 1:2 로 내분하는 점이다.

\therefore (가) 2, (나) 내분

다른 풀이

$\overrightarrow{AC} = -2\overrightarrow{AB}$ 를 만족시키는 세 점 A, B, C 의 위치 관계는 다음 그림과 같다.



따라서 점 A 는 선분 BC 를 1:2 로 내분하는 점이다.

44. 답 ①

[해설] A, B, C, D, E, F 의 위치벡터를 각각 $\vec{a}, \vec{b}, \vec{c}, \vec{d}, \vec{e}, \vec{f}$ 라 하면

$$P, Q, R \text{ 의 위치벡터는 각각 } \frac{\vec{a} + \vec{b}}{2}, \frac{\vec{c} + \vec{d}}{2}, \frac{\vec{e} + \vec{f}}{2}$$

$$L, M, N \text{ 의 위치벡터는 각각 } \frac{\vec{b} + \vec{c}}{2}, \frac{\vec{d} + \vec{e}}{2}, \frac{\vec{f} + \vec{a}}{2}$$

이때, 두 무게중심 G, H 의 위치벡터를 각각 \vec{g}, \vec{h} 라 하면

$$\vec{g} = \frac{1}{3} \left(\frac{\vec{a} + \vec{b}}{2} + \frac{\vec{c} + \vec{d}}{2} + \frac{\vec{e} + \vec{f}}{2} \right) = \frac{1}{6} (\vec{a} + \vec{b} + \vec{c} + \vec{d} + \vec{e} + \vec{f})$$

$$\vec{h} = \frac{1}{3} \left(\frac{\vec{b} + \vec{c}}{2} + \frac{\vec{d} + \vec{e}}{2} + \frac{\vec{f} + \vec{a}}{2} \right) = \frac{1}{6} (\vec{a} + \vec{b} + \vec{c} + \vec{d} + \vec{e} + \vec{f})$$

따라서 육각형의 모양이 어떻든, 두 삼각형의 모양이 어떻든 관계없이 항상 두 무게중심은 일치한다.

45. 답 ①

[해설] 점 O 를 시점으로 하는 위치벡터를 잡으면

$$\begin{aligned}
 3\vec{PA} + 2\vec{PB} + \vec{PC} &= \vec{BC} \text{ 에서} \\
 3(\vec{OA} - \vec{OP}) + 2(\vec{OB} - \vec{OP}) + (\vec{OC} - \vec{OP}) &= \vec{OC} - \vec{OB} \\
 6\vec{OP} &= 3\vec{OA} + 3\vec{OB} \\
 \therefore \vec{OP} &= \frac{\vec{OB} + \vec{OA}}{2}
 \end{aligned}$$

따라서 점 P 는 선분 \overline{AB} 를 1 : 1 로 내분하는 점이다.
 \therefore (가) AB, (나) 1

다른 풀이

벡터 \vec{BC} 를 점 P 를 시점으로 하는 벡터로 나타내면

$$\begin{aligned}
 \vec{BC} &= \vec{PC} - \vec{PB} \text{ 이므로} \\
 3\vec{PA} + 2\vec{PB} + \vec{PC} &= \vec{BC} \text{ 에서} \\
 3\vec{PA} + 2\vec{PB} + \vec{PC} &= \vec{PC} - \vec{PB} \\
 \therefore \vec{PA} &= -\vec{PB}
 \end{aligned}$$

따라서 점 P 는 선분 AB 의 중점이다.

46. 답 ⑤

[해설]

세 점 A, B, C는 한 직선 l 위에 있으므로 $\vec{AC} = k\vec{AB}$ (k는 실수)가 성립한다.

$$\begin{aligned}
 \vec{OC} - \vec{OA} &= k(\vec{OB} - \vec{OA}) \\
 \vec{OC} &= (1-k)\vec{OA} + k\vec{OB} = 2m\vec{OA} + \frac{1}{2}\vec{OB}
 \end{aligned}$$

따라서 $1-k=2m$, $k=\frac{1}{2}$ 이므로 $m=\frac{1}{4}$

47. 답 ①

[해설]

$$\vec{AM} = \frac{1}{2}\vec{b}$$

점 D 는 선분 BM 을 1 : 2로 내분하는 점이므로

$$\begin{aligned}
 \vec{AD} &= \frac{2}{3}\vec{AB} + \frac{1}{3}\vec{AM} \\
 &= \frac{2}{3}\vec{a} + \frac{1}{3}\left(\frac{1}{2}\vec{b}\right) \\
 &= \frac{2}{3}\vec{a} + \frac{1}{6}\vec{b} \\
 \therefore \vec{DC} &= \vec{AC} - \vec{AD} \\
 &= \vec{b} - \left(\frac{2}{3}\vec{a} + \frac{1}{6}\vec{b}\right) \\
 &= -\frac{2}{3}\vec{a} + \frac{5}{6}\vec{b}
 \end{aligned}$$

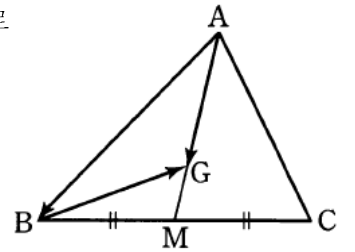
48. 답 ②

[해설]

변 BC의 중점을 M이라 하면

$$\begin{aligned}
 \vec{BG} &= \vec{AG} - \vec{AB} \\
 &= \frac{1}{3}(\vec{AB} + \vec{AC}) - \vec{AB} \\
 &= -\frac{2}{3}\vec{AB} + \frac{1}{3}\vec{AC}
 \end{aligned}$$

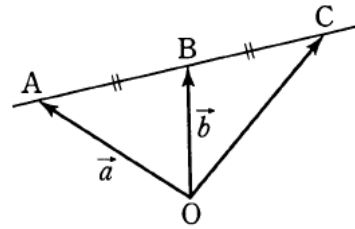
따라서, $m = -\frac{2}{3}$, $n = \frac{1}{3}$ 이므로
 $m + n = -\frac{1}{3}$



49. 답 ⑤

[해설]

점 C는 선분 AB를 2 : 1로 외분하는 점이므로



$$\vec{OC} = \frac{2 \cdot \vec{b} - 1 \cdot \vec{a}}{2 - 1} = 2\vec{b} - \vec{a}$$

50. 답 ⑤

[해설]

$$\begin{aligned}
 \neg. \vec{PA} + \vec{PB} + \vec{PC} &= \vec{AB} \text{ 에서} \\
 \vec{PA} + \vec{PB} + \vec{PC} &= \vec{PB} - \vec{PA} \\
 \vec{PC} &= -2\vec{PA} \text{ (참)}
 \end{aligned}$$

∴ ∇에서 $\vec{PC} = -2\vec{PA}$ 이므로 점 P는 선분 AC 위에 있고, $\vec{PC} = 2\vec{PA}$ 이며 두 벡터 \vec{PC} , \vec{PA} 는 방향이 반대이다. 그러므로 점 P는 선분 AC를 1 : 2로 내분한다. (참)

∴ ∽에서 $\vec{PC} = 2\vec{PA}$ 이므로

$$\triangle PAB : \triangle PBC = 1 : 2 \text{ (참)}$$

따라서 옳은 것은 ∇, ∽, ∽이다.

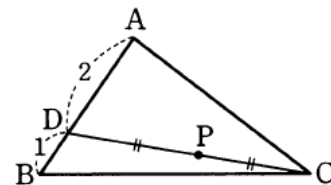
51. 답 ②

[해설]

$$\neg. -\vec{PC} = \frac{\vec{PA} + 2\vec{PB}}{3}$$

선분 AB를 2 : 1로 내분하는 점을 D라 하면

$$-\vec{PC} = \vec{PD}$$



따라서 직선 PC는 선분 AB를 2 : 1로 내분한다. (거짓)

∴ ∽, $\vec{PD} = \vec{PC}$ 이므로

$$\triangle ABC : \triangle ABP = 2 : 1 \text{ (참)}$$

$$\text{∴ } \triangle APC = \frac{1}{2} \triangle ADC$$

$$= \frac{1}{2} \times \frac{2}{3} \triangle ABC = \frac{1}{3} \triangle ABC$$

이므로 $\triangle ABC : \triangle APC = 3 : 1$ (거짓)

따라서 옳은 것은 ∽뿐이다.

52. 답 ㉔

[해설]

N 은 선분 BC 를 2:1로 내분하는 점이므로

$$\overrightarrow{AN} = \frac{1}{3}\vec{a} + \frac{2}{3}\vec{b}$$

그러므로

$$\begin{aligned} \overrightarrow{AD} &= s\overrightarrow{AN} \\ &= \frac{1}{3}s\vec{a} + \frac{2}{3}s\vec{b} \end{aligned} \quad \dots\dots \textcircled{1}$$

또, $\overrightarrow{AM} = \frac{1}{2}\vec{a}$ 이므로

$$\begin{aligned} \overrightarrow{AD} &= t\overrightarrow{AM} + (1-t)\overrightarrow{AC} \\ &= \frac{1}{2}t\vec{a} + (1-t)\vec{b} \end{aligned} \quad \dots\dots \textcircled{2}$$

㉑, ㉒에서

$$\frac{1}{2}t = \frac{1}{3}s, \quad 1-t = \frac{2}{3}s$$

$$\therefore s = \frac{3}{4}, \quad t = \frac{1}{2}$$

따라서 ㉑에 이 값을 대입하면

$$\overrightarrow{AD} = \frac{1}{4}\vec{a} + \frac{1}{2}\vec{b}$$

53. 답 ㉓

[해설] $\overrightarrow{BC} = \vec{a}$, $\overrightarrow{BP} = \vec{b}$ 로 놓으면 $\overrightarrow{BA} = 3\vec{b}$ 이므로

$$\overrightarrow{BQ} = t\overrightarrow{BD} = t(\vec{a} + 3\vec{b}) \quad (\text{단, } t \text{는 실수})$$

세 점 P, Q, C 는 한 직선 위에 있으므로

$$\overrightarrow{PC} = k\overrightarrow{PQ} \quad (\text{단, } k \text{는 실수})$$

즉, $\vec{a} - \vec{b} = k(\overrightarrow{BQ} - \vec{b})$

$$\vec{a} - \vec{b} = k\{t(\vec{a} + 3\vec{b}) - \vec{b}\}$$

$$\vec{a} - \vec{b} = k\{t\vec{a} + (3t-1)\vec{b}\}$$

$$\vec{a} - \vec{b} = kt\vec{a} + k(3t-1)\vec{b}$$

$$\therefore 1 = kt, \quad -1 = k(3t-1)$$

그런데 $k \neq 0$ 이므로

$$\frac{1}{k} = t = 1 - 3t$$

$$\therefore t = \frac{1}{4}, \quad k = 4$$

따라서 $\overrightarrow{PC} = 4\overrightarrow{PQ}$, 즉 $\overrightarrow{QC} = 3\overrightarrow{PQ}$ 이므로

$$|\overrightarrow{PQ}| : |\overrightarrow{QC}| = 1 : 3$$

$$\therefore \frac{|\overrightarrow{CQ}|}{|\overrightarrow{PQ}|} = \frac{|\overrightarrow{QC}|}{|\overrightarrow{PQ}|} = 3$$

54. 답 12

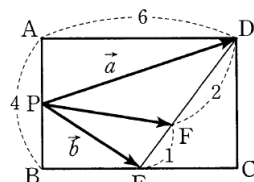
[해설] $\overrightarrow{PD} = \vec{a}$, $\overrightarrow{PE} = \vec{b}$, $\overrightarrow{PD} + 2\overrightarrow{PE} = \vec{x}$ 라 하면 $\vec{x} = \vec{a} + 2\vec{b}$ 이므로

$$\frac{1}{3}\vec{x} = \frac{\vec{a} + 2\vec{b}}{3}$$

선분 DE 를 2:1로 내분하는 점을 F 라 하면

$$\frac{1}{3}\vec{x} = \overrightarrow{PF}$$

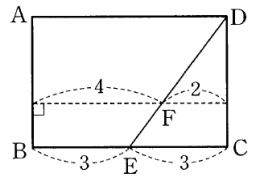
$$\therefore |\vec{x}| = 3|\overrightarrow{PF}|$$



$|\overrightarrow{PF}|$ 의 최솟값은 오른쪽 그림의 점 F 에서 변 AB 에 내린 수선의 길이인 4이다.

따라서 $|\overrightarrow{PD} + 2\overrightarrow{PE}|$, 즉 $|\vec{x}|$ 의 최솟값은

$$3 \times 4 = 12$$

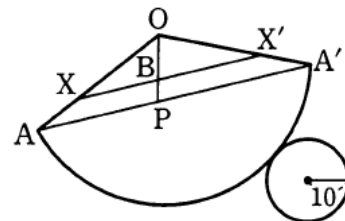


55. 답 ㉔

[해설]

$$\overrightarrow{AB} = \frac{1}{3}\overrightarrow{AO} + \frac{2}{3}\overrightarrow{AP} = \frac{2\overrightarrow{AP} + \overrightarrow{AO}}{3}$$

이므로 점 B 는 선분 OP 를 2:1로 내분하는 점이다.



원뿔의 전개도에서 L 은 $\overline{AA'}$ 이고 \overline{OA} 와 $\overline{OA'}$ 을 2:1로 내분하는 점을 각각 X, X' 이라 하면 점 B 가 나타내는 도형은 선분 XX' 이다. 부채꼴의 중심각의 크기를 θ 라 하면

$$30 \times \theta = 2\pi \times 10 \text{에서 } \theta = \frac{2\pi}{3} \text{이므로 삼각형 } OAA' \text{에서}$$

$$\frac{\overline{AA'}}{\sin \frac{2}{3}\pi} = \frac{30}{\sin \frac{\pi}{6}} \therefore \overline{AA'} = 30\sqrt{3}$$

$$\therefore \overline{XX'} = \frac{2}{3}\overline{AA'} = 20\sqrt{3}$$

56. 답 30

[해설]

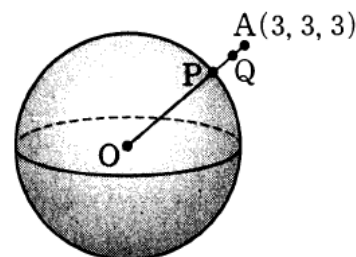
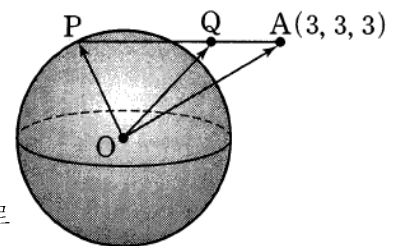
선분 AP 를 1:2로 내분하는 점을 Q 라고 할 때,

$$\frac{2}{3}\overrightarrow{OA} + \frac{1}{3}\overrightarrow{OP} = \overrightarrow{OQ}$$

이 때, $|\overrightarrow{OP}| = 3$, $|\overrightarrow{OA}| = 3\sqrt{3}$ 으로

일정하므로

$|\overrightarrow{OQ}|$ 의 값이 최대가 되는 것은 두 벡터 $\overrightarrow{OP}, \overrightarrow{OA}$ 의 방향이 같을 때이다.



$$\overline{PQ} = \frac{2}{3}\overline{PA} = \frac{2}{3}(3\sqrt{3} - 3) = 2\sqrt{3} - 2$$

$$|\overrightarrow{OQ}| = 3 + (2\sqrt{3} - 2) = 1 + 2\sqrt{3}$$

따라서 $a = 1$, $b = 2$ 이므로

$$10(a + b) = 10(1 + 2) = 30$$

57. 답 ㉔

[해설] 벡터 \vec{b} 는 벡터 \vec{a} 와 방향이 반대이므로

$$\vec{b} = k\vec{a} \text{ (단, } k < 0 \text{)}$$

의 꼴로 나타낼 수 있다.

이 때, $|\vec{a}| = \sqrt{(-2)^2 + 1^2 + 2^2} = 3$ 이므로

$$|\vec{b}| = |k| |\vec{a}| = 3|k| = 9$$

에서 $k = -3$ ($\because k < 0$)

$$\therefore \vec{b} = -3(-2, 1, 2) = (6, -3, -6)$$

$$\therefore x + y + z = 6 - 3 - 6 = -3$$

58. 답 32

[해설]

$$2\vec{a} - 2\vec{b} = \vec{c} \text{ 이므로 } (4 - 2x, 8) = (-4, y)$$

따라서 $x = 4, y = 8$ 이므로 $xy = 32$

59. 답 ②

[해설] 벡터 \vec{a} 와 방향이 같은 벡터는 $k\vec{a}$ ($k > 0$) 의 꼴이다.

$$|k\vec{a}| = |k| |\vec{a}| = k |\vec{a}| = 1 \text{ 이어야 하므로}$$

$$k = \frac{1}{|\vec{a}|}$$

이 때, $|\vec{a}| = \sqrt{2^2 + (\sqrt{3})^2 + (-\sqrt{2})^2} = \sqrt{9} = 3$ 이므로

$$k = \frac{1}{3}$$

따라서 벡터 \vec{a} 와 방향이 같고 크기가 1 인 벡터는

$$\frac{1}{|\vec{a}|} \vec{a} = \frac{1}{3} \vec{a} = \frac{1}{3} (2, \sqrt{3}, -\sqrt{2}) = \left(\frac{2}{3}, \frac{\sqrt{3}}{3}, -\frac{\sqrt{2}}{3} \right)$$

이므로 구하는 벡터의 y 성분은 $\frac{\sqrt{3}}{3}$ 이다.

참고

$\vec{a} = (a_1, a_2, a_3)$ 과 방향이 같은 단위벡터는

$$\begin{aligned} \frac{\vec{a}}{|\vec{a}|} &= \frac{1}{\sqrt{a_1^2 + a_2^2 + a_3^2}} (a_1, a_2, a_3) \\ &= \left(\frac{a_1}{\sqrt{a_1^2 + a_2^2 + a_3^2}}, \frac{a_2}{\sqrt{a_1^2 + a_2^2 + a_3^2}}, \frac{a_3}{\sqrt{a_1^2 + a_2^2 + a_3^2}} \right) \end{aligned}$$

60. 답 48

[해설] 벡터 \vec{a} 와 방향이 같은 벡터는 $k\vec{a}$ ($k > 0$) 의 꼴이다.

$$|k\vec{a}| = |k| |\vec{a}| = k |\vec{a}| = 10 \text{ 이어야 하므로}$$

$$k = \frac{10}{|\vec{a}|}$$

이 때 $|\vec{a}| = \sqrt{3^2 + 4^2} = 5$ 이므로

$$k = \frac{10}{5} = 2$$

따라서 구하는 벡터는 $2\vec{a} = (6, 8)$ 이므로 모든 성분의 곱은

$$6 \times 8 = 48$$

61. 답 ④

[해설] 선분 AB 를 2 : 3 으로 외분하는 점 C 의 위치벡터는

$$\frac{2\vec{b} - 3\vec{a}}{2 - 3} = 3\vec{a} - 2\vec{b}$$

$$\therefore p + q = 3 + (-2) = 1$$

62. 답 ⑤

$$[해설] 2\vec{a} - \vec{b} = 2(2, -3) - (1, -2)$$

$$= (4, -6) - (1, -2) = (3, -4)$$

$$\therefore |2\vec{a} - \vec{b}| = \sqrt{3^2 + (-4)^2} = \sqrt{25} = 5$$

63. 답 9

$$[해설] a + 1 = 2 \text{ 에서 } a = 1$$

$$2b - 1 = 5 \text{ 에서 } b = 3$$

$$4b = 2c + 2 \text{ 에서 } c = 5$$

$$\therefore a + b + c = 9$$

64. 답 14

$$[해설] \vec{OA} = (-1, 2, 3), \vec{OB} = (5, 6, 7) \text{ 이므로}$$

$$\vec{AB} = \vec{OB} - \vec{OA}$$

$$= (5, 6, 7) - (-1, 2, 3) = (6, 4, 4)$$

$$\therefore p + q + r = 6 + 4 + 4 = 14$$

65. 답 ①

[해설] 두 벡터 \vec{a}, \vec{b} 가 평행하려면 $\vec{b} = k\vec{a}$ 를 만족시키는 k 가 존재해야 하므로

$$(9, q, 3) = k(3, 0, p)$$

이 때 $9 = 3k, q = 0, 3 = kp$ 이어야 하므로

$$k = 3, p = 1$$

$$\therefore p + q = 1 + 0 = 1$$

66. 답 ②

[해설]

$$\vec{a} + t\vec{b} = (-4, -2, 2) + t(1, 3, -2) = (t - 4, 3t - 2, -2t + 2)$$

$$\therefore |\vec{a} + t\vec{b}| = \sqrt{(t - 4)^2 + (3t - 2)^2 + (-2t + 2)^2}$$

$$= \sqrt{14t^2 - 28t + 24}$$

$$= \sqrt{14(t - 1)^2 + 10} \geq \sqrt{10}$$

따라서 $|\vec{a} + t\vec{b}|$ 는 $t = 1$ 일 때, 최솟값 $\sqrt{10}$ 을 갖는다.

$$\therefore \alpha\beta = 1 \times \sqrt{10} = \sqrt{10}$$

67. 답 ④

$$[해설] \vec{a} - 2\vec{b} + \vec{c} = (2, 1) - 2(3, 2) + (0, 4) = (-4, 1)$$

$$\therefore |\vec{a} - 2\vec{b} + \vec{c}| = \sqrt{(-4)^2 + 1^2} = \sqrt{17}$$

68. 답 ③

[해설]

$$2\vec{a} - \vec{b} = 2\left(\frac{1}{2}x^2, 2, \frac{y}{2}\right) - (-y^2, -2, -x)$$

$$= (x^2 + y^2, 6, x + y) = (10, 6, 2)$$

따라서 $x^2 + y^2 = 10$, $x + y = 2$ 이므로
 $2xy = (x + y)^2 - (x^2 + y^2) = 2^2 - 10 = -6$
 $\therefore xy = -3$

69. 답 ㉔

[해설] $3(\vec{a} - 2\vec{x}) + 2(\vec{x} - \vec{b}) = 2\vec{a} - \vec{b} - 2\vec{x}$ 에서
 $3\vec{a} - 6\vec{x} + 2\vec{x} - 2\vec{b} = 2\vec{a} - \vec{b} - 2\vec{x}$
 $-2\vec{x} = -\vec{a} + \vec{b}$
 $\therefore \vec{x} = \frac{1}{2}(\vec{a} - \vec{b})$
 $\vec{a} - \vec{b} = (-2, 1, 4) - (-4, 3, 0) = (2, -2, 4)$ 이므로
 $\vec{x} = \frac{1}{2}(2, -2, 4) = (1, -1, 2)$

70. 답 ㉓

[해설] $\vec{x} + \vec{y} = (3, 6, 2)$ ㉑, $-\vec{x} + 2\vec{y} = (3, 0, 4)$
 ㉒
 ㉑ + ㉒ 을 하면
 $3\vec{y} = (6, 6, 6)$
 $\therefore \vec{y} = (2, 2, 2)$
 이것을 ㉑에 대입하면
 $\vec{x} = (3, 6, 2) - (2, 2, 2) = (1, 4, 0)$
 $\therefore \vec{x} - \vec{y} = (1, 4, 0) - (2, 2, 2)$
 $= (-1, 2, -2)$

71. 답 ㉔

[해설] $|\vec{BA}| = |\vec{AB}|$ 이므로 $|\vec{AB}| = 5$ 이어야 한다.
 $\vec{AB} = \vec{OB} - \vec{OA}$
 $= (-\sin\theta, 0, a) - (2\sin\theta, 3\cos\theta, 0)$
 $= (-3\sin\theta, -3\cos\theta, a)$
 $\therefore |\vec{AB}| = \sqrt{(-3\sin\theta)^2 + (-3\cos\theta)^2 + a^2}$
 $= \sqrt{9(\sin^2\theta + \cos^2\theta) + a^2}$
 $= \sqrt{9 + a^2} = 5$
 따라서 $9 + a^2 = 25$ 이어야 하므로
 $a = 4 (\because a > 0)$

72. 답 ㉓

[해설]
 $\vec{p} + \vec{q} = (1, 2, 3)$ ㉑
 $\vec{p} - \vec{q} = (3, -2, 1)$ ㉒
 ㉑과 ㉒을 변변 더하면
 $2\vec{p} = (4, 0, 4)$
 $\therefore \vec{p} = (2, 0, 2)$
 또, ㉑과 ㉒을 변변 빼면
 $2\vec{q} = (-2, 4, 2)$
 $\therefore \vec{q} = (-1, 2, 1)$
 이 때,
 $\vec{p} + 2\vec{q} = (2, 0, 2) + (-1, 2, 1)$

$= (0, 4, 4)$

이므로
 $|\vec{p} + 2\vec{q}| = \sqrt{0^2 + 4^2 + 4^2}$
 $= 4\sqrt{2}$

73. 답 ㉔

[해설]
 $\vec{AD} // \vec{BC}$ 이므로
 $\vec{BC} = t\vec{AD}$ (t 는 실수)
 즉, $(a, b+1, b-2) = t(2, -1, 2) = (2t, -t, 2t)$ 이므로
 $a = 2t$ ㉑, $b+1 = -t$ ㉒, $b-2 = 2t$ ㉓
 ㉑, ㉓에서 $t = -1$, $b = 0$ 이므로 $a = -2$
 $\therefore a + b = -2$

74. 답 ㉑

[해설]
 $C(2, 3, -4)$ 이므로
 $\vec{BC} = \vec{OC} - \vec{OB}$
 $= (2, 3, -4) - (1, 2, 3) = (1, 1, -7)$
 $\therefore |\vec{BC}| = \sqrt{1^2 + 1^2 + (-7)^2} = \sqrt{51}$

75. 답 ㉔

[해설] $P(x, 2x-1)$ 이라 하면
 $\vec{AP} = (x+2, 2x-5)$, $\vec{BP} = (x-4, 2x-1)$
 $\therefore |\vec{AP} + \vec{BP}| = |(2x-2, 4x-6)|$
 $= \sqrt{(2x-2)^2 + (4x-6)^2}$
 $= \sqrt{20x^2 - 56x + 40}$
 $= 2\sqrt{5x^2 - 14x + 10}$
 $= 2\sqrt{5\left(x - \frac{7}{5}\right)^2 + 10 - \frac{49}{5}}$
 $\geq 2\sqrt{\frac{1}{5}} = \frac{2\sqrt{5}}{5}$

따라서 구하는 최솟값은 $\frac{2\sqrt{5}}{5}$ 이다.

76. 답 ㉓

[해설]
 $\vec{OA} = (1, -1, 0)$, $\vec{OB} = (0, -1, 1)$, $\vec{OC} = (1, 0, 1)$ 이므로
 $\vec{OP} = a(1, -1, 0) + b(0, -1, 1) + c(1, 0, 1) = (1, -1, 1)$
 에서 $(a+c, -a-b, b+c) = (1, -1, 1)$
 $\therefore a+c=1, -a-b=-1, b+c=1$
 이것을 연립하여 풀면
 $a = \frac{1}{2}, b = \frac{1}{2}, c = \frac{1}{2}$
 $\therefore a+b+c = \frac{3}{2}$

77. 답 ㉔

[해설] 오른쪽 그림과 같이 점 O 를 시점(원점)으로 하는 좌표평면

을 잡으면 세 점 A, B, C 의 위치벡터는 각각

$$\vec{OA} = (3, 1), \vec{OB} = (2, 2)$$

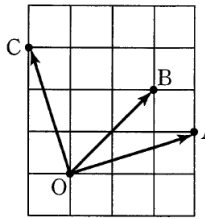
$$\vec{OC} = (-1, 3)$$

이다. 이때, $\vec{OC} = p\vec{OA} + q\vec{OB}$ 이어야 하므로
 $(-1, 3) = p(3, 1) + q(2, 2) = (3p+2q, p+2q)$
 두 벡터가 서로 같을 조건에 의하여

$$3p + 2q = -1, \quad p + 2q = 3$$

$$\therefore p = -2, \quad q = \frac{5}{2}$$

$$\therefore p + q = \frac{1}{2}$$

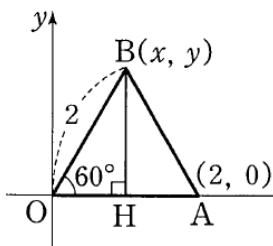


78. 답 ②

[해설] $|\vec{OB}| = 2$ 이므로 정삼각형 OAB 의 한 변의 길이는 2 이다.

$B(x, y)$ 라 하면 오른쪽 그림의 직각삼각형 OHB 에서

$$x = \overline{OH} = 2 \cos 60^\circ = 2 \times \frac{1}{2} = 1$$



$$y = \overline{BH} = 2 \sin 60^\circ = 2 \times \frac{\sqrt{3}}{2} = \sqrt{3}$$

$$\therefore B(1, \sqrt{3})$$

$$\therefore \vec{AB} = \vec{OB} - \vec{OA} = (1, \sqrt{3}) - (2, 0) = (-1, \sqrt{3})$$

따라서 $a = -1, b = \sqrt{3}$ 이므로

$$a + b = -1 + \sqrt{3}$$

79. 답 ④

[해설]

원점 O 를 시점으로 하고 M 을 중점으로 하는 벡터를 \vec{m} 이라 하면

$$\vec{m} = (1, -2, 5)$$

이때, 선분 AB 의 중점이 M 이므로

$$\vec{m} = \frac{\vec{a} + \vec{b}}{2} \text{ 에서}$$

$$\vec{a} + \vec{b} = 2\vec{m}$$

$$= 2(1, -2, 5)$$

$$= (2, -4, 10)$$

$$\therefore x + y + z = 2 + (-4) + 10 = 8$$

80. 답 ②

[해설]

$$\vec{OP} = \vec{OA} + \vec{OB}$$

$$= (1, 2, 0) + (1, 1, \sqrt{3})$$

$$= (2, 3, \sqrt{3})$$

이때,

$$|\vec{OP}| = \sqrt{2^2 + 3^2 + (\sqrt{3})^2} = 4 \text{ 이고,}$$

구의 반지름의 길이는 $|\vec{OA}| = \sqrt{5}$ 이므로

$$(x, y, z) = \frac{\sqrt{5}}{4}(2, 3, \sqrt{3})$$

$$\begin{aligned} \therefore xyz &= \frac{\sqrt{5}}{2} \cdot \frac{3\sqrt{5}}{4} \cdot \frac{\sqrt{3}\sqrt{5}}{4} \\ &= \frac{15\sqrt{15}}{32} \end{aligned}$$

81. 답 ③

[해설]

$B(x_1, y_1, z_1), C(x_2, y_2, z_2), D(x_3, y_3, z_3)$ 라 하면 삼각형 BCD 의 무게중심 G 는

$$G\left(\frac{x_1 + x_2 + x_3}{3}, \frac{y_1 + y_2 + y_3}{3}, \frac{z_1 + z_2 + z_3}{3}\right)$$

이때, 무게중심이 원점이므로

$$\frac{x_1 + x_2 + x_3}{3} = 0, \quad \frac{y_1 + y_2 + y_3}{3} = 0, \quad \frac{z_1 + z_2 + z_3}{3} = 0$$

따라서

$$\vec{BA} + \vec{CA} + \vec{DA}$$

$$= (\vec{OA} - \vec{OB}) + (\vec{OA} - \vec{OC}) + (\vec{OA} - \vec{OD})$$

$$\equiv 3\vec{OA} - (\vec{OB} + \vec{OC} + \vec{OD})$$

$$= 3(1, -2, 3) - (x_1 + x_2 + x_3, y_1 + y_2 + y_3, z_1 + z_2 + z_3)$$

$$= (3, -6, 9)$$

이므로

$$\begin{aligned} a + b + c &= 3 + (-6) + 9 \\ &= 6 \end{aligned}$$

82. 답 20

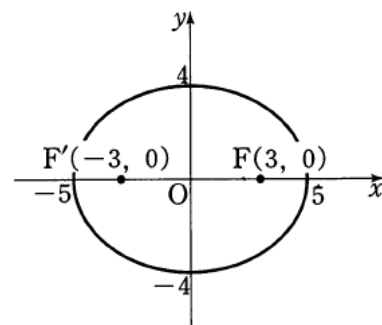
[해설]

\vec{x} 의 중점과 두 벡터 \vec{a}, \vec{b} 의 중점 사이의 거리의 합이 일정하므로

\vec{x} 의 중점은 타원이다. 즉, 이 타원의 장축의 길이가 10 이고, 초점의 좌표가 $F(3, 0), F'(-3, 0)$ 이다.

이 때, $\sqrt{5^2 - 3^2} = 4$ 이므로 타원의 방정식은

$$\frac{x^2}{25} + \frac{y^2}{16} = 1$$



그러므로 $|\vec{x}|$ 는 원점과 \vec{x} 의 중점 사이의 거리이므로 그림에서 최댓값은 5, 최솟값은 4 이다.

따라서 최댓값과 최솟값의 곱은 20 이다.

83. 답 ③

[해설]

$$\vec{OP} = (x, y), \vec{OQ} = (y, x) \text{ 이므로}$$

$$\vec{OR} = \vec{OP} + \vec{OQ}$$

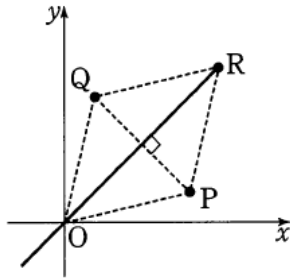
$$(x, y) + (y, x) = (x + y, y + x)$$

그런데 점 P 는 원 $x^2 + y^2 = 1$ 위의 점이므로 $x + y = k$ 라 하면 원과 직선 $x + y = k$ 가 만나야 하므로

$$\frac{|0+0-k|}{\sqrt{1^2+1^2}} \leq 1$$

$$\therefore -\sqrt{2} \leq k \leq \sqrt{2}$$

따라서 점 $R(k, k)$ ($-\sqrt{2} \leq k \leq \sqrt{2}$)가 나타내는 도형은 선분이다.



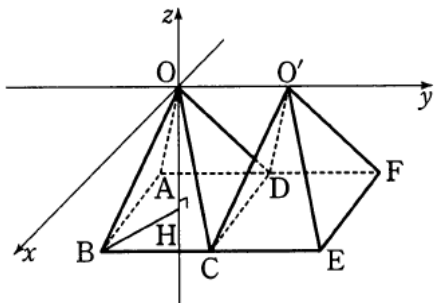
84. 답 12

[해설]

점 O 에서 평면 $ABCD$ 에 내린 수선의 발을 H 라 하면

$$\overline{BH} = \sqrt{2} \text{ 이므로}$$

$$\overline{OH} = \sqrt{2^2 - (\sqrt{2})^2} = \sqrt{2}$$



이 때, 그림과 같이 좌표공간을 설정하면 두 점 B, F 의 좌표는 각각 $B(1, -1, -\sqrt{2}), F(-1, 3, -\sqrt{2})$ 이므로

$$\overline{OB} = (1, -1, -\sqrt{2}), \overline{OF} = (-1, 3, -\sqrt{2})$$

$$\begin{aligned} |\overline{OB} + \overline{OF}|^2 &= |(0, 2, -2\sqrt{2})|^2 \\ &= 0^2 + 2^2 + (-2\sqrt{2})^2 = 4 + 8 = 12 \end{aligned}$$

85. 답 ㉔

[해설]

\overline{OP} 는 \overline{OA} 와 \overline{OB} 가 이루는 각을 이등분하므로 $\angle AOB$ 의 이등분선과 선분 AB 의 교점을 C 라 하면

$$\overline{AC} : \overline{BC} = \overline{OA} : \overline{OB} = \sqrt{5} : 5\sqrt{5} = 1 : 5$$

$$\text{따라서 } \overline{OC} = \frac{5\overline{OA} + \overline{OB}}{1+5} = \frac{5}{6}\overline{OA} + \frac{1}{6}\overline{OB} \text{ 이므로}$$

$$\overline{OP} = s\overline{OA} + t\overline{OB} \text{ 에서 } s = 5t$$

또한, $P(x, y)$ 라고 하면

$$(x, y) = s(1, 2) + t(11, -2)$$

$$= (s + 11t, 2s - 2t) = (16t, 8t)$$

$$(x-2)^2 + (y-2)^2 = 8 \text{ 에 대입하면}$$

$$(16t-2)^2 + (8t-2)^2 = 8, 320t^2 - 96t = 0$$

$$t(10t-3) = 0 \quad \therefore t = \frac{3}{10}$$

$$\text{따라서 } s = \frac{3}{2} \text{ 이므로 } s+t = \frac{9}{5}$$

86. 답 ㉔

[해설]

$$|\vec{p} - \vec{a}| \leq 1 \text{ 에서}$$

$$\sqrt{(x-2)^2 + (y-1)^2} \leq 1$$

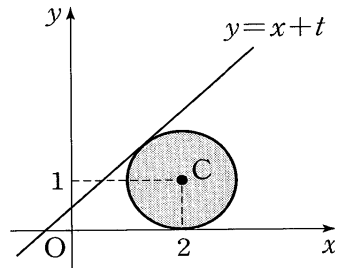
$$\therefore (x-2)^2 + (y-1)^2 \leq 1 \quad \dots\dots ㉔$$

또, $\vec{p} = s\vec{b} = t\vec{c}$ 에서

$$(x, y) = s(1, 1) + t(0, 1)$$

$$= (s, s+t)$$

$$\therefore x = s, y = s+t$$



이 때, $y-x=t$, 즉 $y=x+t$ 이므로 t 의 최댓값은 직선 $y=x+t$ 가 원 $(x-2)^2 + (y-1)^2 = 1$ 에 접할 때이다.

원의 중심 $C(2, 1)$ 과 직선 $x-y+t=0$ 사이의 거리가 1이하이어야 하므로

$$\frac{|2-1+t|}{\sqrt{1^2+1^2}} \leq 1$$

$$|t-1| \leq \sqrt{2}$$

$$\therefore -1-\sqrt{2} \leq t \leq -1+\sqrt{2}$$

따라서 t 의 최댓값은 $-1+\sqrt{2}$ 이다.

87. 답 164

[해설]

점 D 를 좌표공간의 원점으로 하고 선분 DJ 를 x 축, 선분 DF 를 y 축으로 하면

$$\overline{AB} = \overline{BH} = 4, \overline{AC} = \overline{GH} = 3$$

이므로

$$D(0, 0, 0), C(0, 3, 5), G(8, -3, 5)$$

$$\therefore |\overline{DC} + \overline{DG}|^2 = |(0, 3, 5) + (8, -3, 5)|^2$$

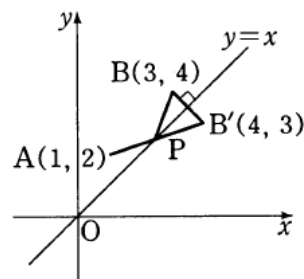
$$= |(8, 0, 10)|^2 = 8^2 + 10^2 = 164$$

88. 답 ㉔

[해설]

$$\text{ㄱ. } |\overline{AP} + \overline{PB}| = |\overline{AB}| = \sqrt{(3-1)^2 + (4-2)^2} = 2\sqrt{2} \text{ (참)}$$

$$\text{ㄴ. } |\overline{AP}| + |\overline{PB}| = \overline{AP} + \overline{PB}$$



이 때, 점 B 의 직선 $y=x$ 에 대한 대칭점을 $B'(4, 3)$ 이라 하면

$$\overline{AP} + \overline{PB} = \overline{AP} + \overline{PB'} \geq \overline{AB'}$$

$$= \sqrt{(4-1)^2 + (3-2)^2} = \sqrt{10} \text{ (참)}$$

ㄷ. 선분 AB 의 중점이 $M(2, 3)$ 이므로

$$\frac{\overline{OA} + \overline{OB}}{2} = \overline{OM}$$

$$\therefore |\overline{AP} + \overline{PB}| = |\overline{OP} - \overline{OA} + \overline{OP} - \overline{OB}|$$

$$= |2\overline{OP} - \overline{OA} - \overline{OB}|$$

$$= 2 \left| \overrightarrow{OP} - \frac{\overrightarrow{OA} + \overrightarrow{OB}}{2} \right|$$

$$= 2 \left| \overrightarrow{OP} - \overrightarrow{OM} \right|$$

$$= 2 \left| \overrightarrow{MP} \right|$$

이 때, $|\overrightarrow{MP}|$ 의 최솟값은 점 M 과 직선 $x-y=0$ 사이의 거리이다.
즉,

$$\frac{|2-3|}{\sqrt{1^2+(-1)^2}} = \frac{\sqrt{2}}{2}$$

따라서 구하는 최솟값은 $2 \times \frac{\sqrt{2}}{2} = \sqrt{2}$ 이다. (거짓)

따라서 옳은 것은 ㄱ, ㄴ이다.

89. 답 3

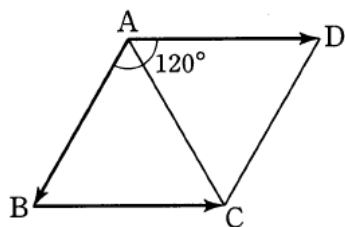
[해설] $\vec{a} \cdot \vec{b} = |\vec{a}| |\vec{b}| \cos 30^\circ = 2 \cdot \sqrt{3} \cdot \frac{\sqrt{3}}{2} = 3$

90. 답 5

[해설] $\vec{a} \cdot \vec{b} = (-1) \cdot (-2) + 2 \cdot 0 + 3 \cdot 1 = 5$

91. 답 ①

[해설] $\overrightarrow{BC} = \overrightarrow{AD}$ 인 점 D 를 잡으면



$$\overrightarrow{AB} \cdot \overrightarrow{BC} = \overrightarrow{AB} \cdot \overrightarrow{AD}$$

$$= |\overrightarrow{AB}| |\overrightarrow{AD}| \cos 120^\circ$$

$$= 2 \times 2 \times \left(-\frac{1}{2}\right) = -2$$

92. 답 ④

[해설] $\sin \angle BAC = \frac{3}{5}$ 에서 $\triangle ABC$ 가 예각삼각형이므로

$$\cos \angle BAC = \sqrt{1 - \sin^2 \angle BAC} = \sqrt{1 - \left(\frac{3}{5}\right)^2} = \frac{4}{5}$$

$$\therefore \overrightarrow{AB} \cdot \overrightarrow{AC} = |\overrightarrow{AB}| |\overrightarrow{AC}| \cos \angle BAC$$

$$= \overrightarrow{AB} \cdot \overrightarrow{AC} \cos \angle BAC$$

$$= 4 \cdot 5 \cdot \frac{4}{5} = 16$$

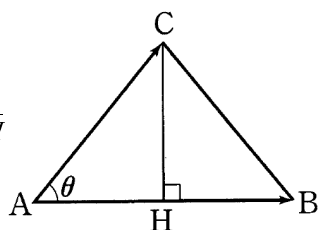
93. 답 ②

[해설] 점 C 에서 선분 AB 에 내린 수선의 발을 H 라 하면 삼각형 ABC 는 $\overrightarrow{AC} = \overrightarrow{BC}$ 인 이등변삼각형이므로

$$\overrightarrow{AH} = \frac{1}{2} \overrightarrow{AB}$$

또, $\angle CAH = \theta$ 라 하면 $\overrightarrow{AC} \cos \theta = \overrightarrow{AH}$

이므로 $\overrightarrow{AB} \cdot \overrightarrow{AC}$



$$= |\overrightarrow{AB}| |\overrightarrow{AC}| \cos \theta = \overrightarrow{AB} \cdot \overrightarrow{AC} \cos \theta$$

$$= \overrightarrow{AB} \cdot \overrightarrow{AH} = \frac{1}{2} \overrightarrow{AB}^2$$

94. 답 ①

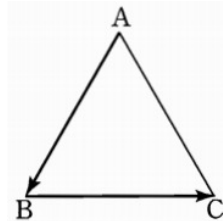
[해설] $\vec{a} + \vec{b} = (-1+2, 3+1) = (1, 4)$
 $\therefore \vec{a} \cdot (\vec{a} + \vec{b}) = (-1, 3) \cdot (1, 4) = -1 + 12 = 11$

95. 답 ①

[해설] 두 벡터 $\overrightarrow{AB}, \overrightarrow{BC}$ 가 이루는 각의 크기가 120° 이므로

$$\overrightarrow{AB} \cdot \overrightarrow{BC} = |\overrightarrow{AB}| |\overrightarrow{BC}| \cos 120^\circ$$

$$= 4 \times 4 \times \left(-\frac{1}{2}\right) = -8$$



96. 답 ④

[해설] $\overrightarrow{OA} \cdot \overrightarrow{OP} = |\overrightarrow{OA}| |\overrightarrow{OP}| \cos \theta = 3 \cdot 3 \cos \theta \leq \frac{9}{2}$

에서 $\cos \theta \leq \frac{1}{2}$

$$\therefore \frac{\pi}{3} \leq \theta \leq \frac{5}{3}\pi$$

따라서 점 P 가 나타내는 도형은 반지름의 길이가 3이고 중심각의 크기가 $\frac{4}{3}\pi$ 인 부채꼴의 호이므로 구하는 도형의 길이는

$$3 \times \frac{4}{3}\pi = 4\pi$$

97. 답 ①

[해설] $\overrightarrow{BA} \cdot \overrightarrow{BC} = 0$ 이므로 $\angle ABC = 90^\circ$ 이다.

또, $|\overrightarrow{AC}| = 5, |\overrightarrow{BC}| = 4$ 이므로 $\overrightarrow{AC} = 5, \overrightarrow{BC} = 4$ 이다.

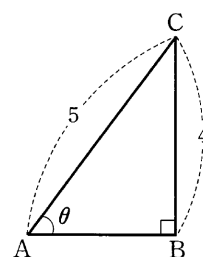
따라서 오른쪽 그림의 직각삼각형 ABC 에서

$$|\overrightarrow{AB}| = \sqrt{5^2 - 4^2} = 3$$

$\angle CAB = \theta$ 라 하면 $\cos \theta = \frac{3}{5}$

$$\overrightarrow{AB} \cdot \overrightarrow{AC} = |\overrightarrow{AB}| |\overrightarrow{AC}| \cos \theta$$

$$= 3 \cdot 5 \cdot \frac{3}{5} = 9$$



98. 답 ①

[해설] $\overrightarrow{OP} \cdot \overrightarrow{PQ} = 0$ 이므로 $\angle OPQ = 90^\circ$

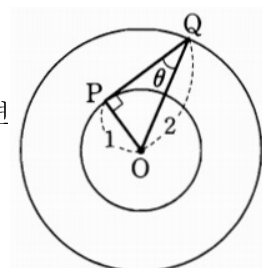
$$\therefore \overrightarrow{PQ} = \sqrt{2^2 - 1^2} = \sqrt{3}$$

두 벡터 $\overrightarrow{QP}, \overrightarrow{QO}$ 가 이루는 각을 θ 라 하면 오른쪽 그림에서

$$\overrightarrow{QO} \cdot \overrightarrow{QP} = |\overrightarrow{QO}| |\overrightarrow{QP}| \cos \theta$$

$$= |\overrightarrow{QO}| |\overrightarrow{QP}| \times \frac{|\overrightarrow{QP}|}{|\overrightarrow{QO}|}$$

$$= |\overrightarrow{QP}|^2 = (\sqrt{3})^2 = 3$$



$$\therefore \overrightarrow{QP} \cdot \overrightarrow{OQ} = -\overrightarrow{QO} \cdot \overrightarrow{QP} = -3$$

99. 답 ④

[해설] $\vec{a}, \vec{b}, \vec{c}$ 가 $\overrightarrow{AB} + \overrightarrow{AD} + \overrightarrow{AE} = \overrightarrow{AB} + \overrightarrow{BC} + \overrightarrow{CG} = \overrightarrow{AG}$

이때, $|\overrightarrow{AG}| = \sqrt{1^2 + 2^2 + 3^2} = \sqrt{14}$ 이므로

$|\overrightarrow{AB} + \overrightarrow{AD} + \overrightarrow{AE}| = |\overrightarrow{AG}| = \sqrt{14} \neq$ (정수)

따라서 정수가 아니다.

$\therefore \overrightarrow{CD} \perp \overrightarrow{BC}, \overrightarrow{CD} \perp \overrightarrow{CG}$ 이므로

$\overrightarrow{CD} \perp \square BFGC$

따라서 직선 CD 와 직선 BG 는 서로 수직이다.

$\therefore \overrightarrow{CD} \cdot \overrightarrow{BG} = 0 =$ (정수)

\therefore 점 D 에서 직선 FH 에 내린 수선의 발이 H 이므로

$\overrightarrow{FD} \cdot \overrightarrow{FH} = |\overrightarrow{FH}|^2 = (\sqrt{10})^2 = 10$

$\therefore \overrightarrow{DF} \cdot \overrightarrow{FH} = -\overrightarrow{FD} \cdot \overrightarrow{FH} = -10 =$ (정수)

따라서 보기에서 값이 정수인 것은 \therefore, \therefore 이다.

다른 풀이

$\therefore \overrightarrow{CD} \perp \overrightarrow{BF}, \overrightarrow{CD} \perp \overrightarrow{FG}$ 이므로

$\overrightarrow{CD} \cdot \overrightarrow{BG} = \overrightarrow{CD} \cdot (\overrightarrow{BF} + \overrightarrow{FG})$

$$= \overrightarrow{CD} \cdot \overrightarrow{BF} + \overrightarrow{CD} \cdot \overrightarrow{FG}$$

$$= 0 + 0 = 0$$

100. 답 500

[해설] 점 P 의 좌표를 $P(x, y, z)$ 라 하면

$$\overrightarrow{AP} = \overrightarrow{OP} - \overrightarrow{OA} = (x+2, y-2, z-3)$$

$$\overrightarrow{BP} = \overrightarrow{OP} - \overrightarrow{OB} = (x-4, y-1, z+5)$$

이므로

$$\overrightarrow{AP} \cdot \overrightarrow{BP}$$

$$= (x+2)(x-4) + (y-1)(y-1) + (z-3)(z+5) \leq 0$$

$$\therefore (x-1)^2 + (y-1)^2 + (z+1)^2 \leq 25$$

따라서 점 P 의 자취는 중심이 $(1, 1, -1)$ 이고 반지름의 길이가 5 인 구의 경계와 그 내부이므로 점 P 가 존재하는 영역의 부피는

$$V = \frac{4}{3}\pi \times 5^3 = \frac{500}{3}\pi$$

$$\therefore \frac{3V}{\pi} = 500$$

참고

공간 위의 두 점 A, B 와 동점 P 에 대하여

$$\overrightarrow{AP} \cdot \overrightarrow{BP} = \overrightarrow{PA} \cdot \overrightarrow{PB} < 0$$

이때 두 벡터 $\overrightarrow{AP}, \overrightarrow{BP}$ 가 이루는 각의 크기는 둔각이므로 점 P 의 자취는 선분 AB 를 지름의 양 끝점으로 하는 구의 내부이다.

101. 답 ①

[해설] $\angle CAB = \theta$ 라 하면 $|\vec{a}| = 1$ 이므로

$$\vec{p} \cdot \vec{a} = |\vec{p}||\vec{a}| \cos \theta = |\vec{p}| \cos \theta = \overrightarrow{AB}$$

$$\text{마찬가지로 } \vec{p} \cdot \vec{b} = \overrightarrow{AD}$$

$$\therefore \vec{p} = \overrightarrow{AB} \cdot \vec{a} + \overrightarrow{AD} \cdot \vec{b} = (\vec{p} \cdot \vec{a})\vec{a} + (\vec{p} \cdot \vec{b})\vec{b}$$

102. 답 ②

[해설] $\overrightarrow{DC} = \overrightarrow{AB}$ 이므로 $\angle OAB = \theta$ 라 하면

$$\overrightarrow{OA} \cdot \overrightarrow{DC} = \overrightarrow{OA} \cdot \overrightarrow{AB}$$

$$= -\overrightarrow{AO} \cdot \overrightarrow{AB}$$

$$= -|\overrightarrow{AO}||\overrightarrow{AB}| \cos \theta$$

한편, 삼각형 OAB는 이등변삼각형이므로 꼭짓점 O에서 변 AB에 내린 수선의 발을 H라 하면

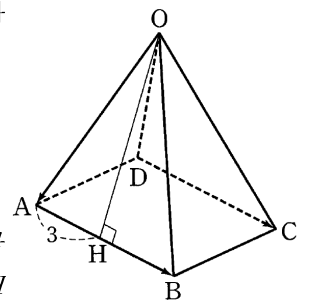
$\overrightarrow{OH} \perp \overrightarrow{AB}, \overrightarrow{AB} = 6$ 이므로

$$\overrightarrow{AH} = \frac{1}{2} \overrightarrow{AB} = 3$$

$$\therefore \overrightarrow{OA} \cdot \overrightarrow{DC} = -|\overrightarrow{AO}||\overrightarrow{AB}| \cos \theta$$

$$= -|\overrightarrow{AB}||\overrightarrow{AO}| \cos \theta$$

$$= -\overrightarrow{AB} \times \overrightarrow{AH} = -18$$



103. 답 ③

[해설] $P(x, y)$ 라 하면

$$\overrightarrow{AP} \cdot \overrightarrow{BP} = (\overrightarrow{OP} - \overrightarrow{OA}) \cdot (\overrightarrow{OP} - \overrightarrow{OB})$$

$$= (x, y-1) \cdot (x-2, y-3)$$

$$= x^2 - 2x + y^2 - 4y + 3$$

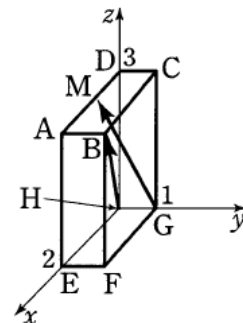
$$= (x-1)^2 + (y-2)^2 - 2 = 0$$

$$\therefore (x-1)^2 + (y-2)^2 = 2$$

따라서 점 P는 중심이 $(1, 2)$ 이고 반지름의 길이가 $\sqrt{2}$ 인 원 위의 점이므로 점 P가 나타내는 도형의 길이는 $2\sqrt{2}\pi$ 이다.

104. 답 ⑤

[해설] H를 원점으로 하고 $\overrightarrow{HE}, \overrightarrow{HG}, \overrightarrow{HD}$ 를 각각 x축, y축, z축 위에 놓으면 $B(2, 1, 3), G(0, 1, 0), M(1, 0, 3)$ 이므로



$$\overrightarrow{HB} = (2, 1, 3)$$

$$\overrightarrow{GM} = \overrightarrow{HM} - \overrightarrow{HG}$$

$$= (1, 0, 3) - (0, 1, 0) = (1, -1, 3)$$

$$\therefore \overrightarrow{HB} \cdot \overrightarrow{GM} = (2, 1, 3) \cdot (1, -1, 3) = 2 + (-1) + 9 = 10$$

105. 답 ④

[해설] $\vec{c} = \frac{1}{2}(\vec{a} + \vec{b})$ 이므로

$$\vec{a} \cdot \vec{c} + \vec{b} \cdot \vec{c} = (\vec{a} + \vec{b}) \cdot \vec{c} = 2\vec{c} \cdot \vec{c} = 2|\vec{c}|^2$$

106. 답 ③

[해설] 선분 BC 위의 점 D에 대하여 \overrightarrow{OD} 는

$$\overrightarrow{OD} = (1-t)\overrightarrow{OB} + t\overrightarrow{OC} \quad (0 \leq t \leq 1)$$

로 나타낼 수 있고, 세 벡터 \overrightarrow{OA} , \overrightarrow{OB} , \overrightarrow{OC} 는 서로 수직이므로

$$\overrightarrow{OA} \cdot \overrightarrow{OB} = 0, \quad \overrightarrow{OA} \cdot \overrightarrow{OC} = 0$$

$$\begin{aligned} \therefore \overrightarrow{OA} \cdot \overrightarrow{OD} &= \overrightarrow{OA} \cdot \{(1-t)\overrightarrow{OB} + t\overrightarrow{OC}\} \\ &= (1-t)\overrightarrow{OA} \cdot \overrightarrow{OB} + t\overrightarrow{OA} \cdot \overrightarrow{OC} = 0 \end{aligned}$$

107. 답 ㉔

[해설] $\overrightarrow{AB} \cdot \overrightarrow{BD} = \overrightarrow{AB} \cdot (\overrightarrow{AD} - \overrightarrow{AB})$
 $= \overrightarrow{AB} \cdot \overrightarrow{AD} - |\overrightarrow{AB}|^2 = 3 - 2^2 = -1$

108. 답 ㉔

[해설] 정사면체의 한 모서리의 길이를 l 이라 하면

$$\begin{aligned} a &= \overrightarrow{AB} \cdot \overrightarrow{AC} = |\overrightarrow{AB}| |\overrightarrow{AC}| \cos 60^\circ = \frac{1}{2} l^2 \\ b &= \overrightarrow{BC} \cdot \overrightarrow{CA} = |\overrightarrow{BC}| |\overrightarrow{CA}| \cos 120^\circ = -\frac{1}{2} l^2 \end{aligned}$$

$\overrightarrow{AC} \perp \overrightarrow{BD}$ 이므로

$$\begin{aligned} c &= \overrightarrow{CA} \cdot \overrightarrow{BD} = |\overrightarrow{CA}| |\overrightarrow{BD}| \cos 90^\circ = 0 \\ \therefore b &< c < a \end{aligned}$$

109. 답 20

[해설] 점 $P(x, y, z)$ 라 하면

$$\overrightarrow{OP} \cdot \overrightarrow{OA} = (x, y, z) \cdot (10, 0, 0) = 10x$$

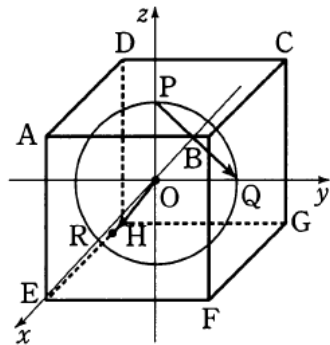
한편, 점 P 가 중심이 $(1, 2, 3)$, 반지름의 길이가 2인 구 위의 점이므로 x 의 값의 범위는

$$1 - 2 \leq x \leq 1 + 2 \quad \therefore -1 \leq x \leq 3$$

따라서 $-10 \leq 10x \leq 30$ 에서 $\overrightarrow{OP} \cdot \overrightarrow{OA}$ 의 최댓값과 최솟값의 합은 20이다.

110. 답 ㉓

[해설] 그림과 같이 점 O 를 원점으로 하고 x 축, y 축, z 축을 각각 \overrightarrow{AD} , \overrightarrow{AB} , \overrightarrow{AE} 와 평행하게 잡으면 $P(0, 0, 1)$, $Q(0, 1, 0)$ 이므로



$$\overrightarrow{PQ} = \overrightarrow{OQ} - \overrightarrow{OP} = (0, 1, 0) - (0, 0, 1) = (0, 1, -1)$$

또, $E(1, -1, -1)$ 이므로

$$\overrightarrow{OR} = \frac{\overrightarrow{OE}}{|\overrightarrow{OE}|} = \frac{1}{\sqrt{3}}(1, -1, -1)$$

$$\therefore \overrightarrow{PQ} \cdot \overrightarrow{OR} = (0, 1, -1) \cdot \frac{1}{\sqrt{3}}(1, -1, -1) = 0$$

111. 답 ㉔

[해설] $\overrightarrow{AB} \perp \overrightarrow{BC}$, $\overrightarrow{AB} \perp \overrightarrow{BD}$ 이므로

$$\overrightarrow{AB} \perp (\text{평면 } BCD) \quad \dots \textcircled{1}$$

이때 $\overrightarrow{AH} \perp \overrightarrow{CD}$ 이므로 삼수선의 정리에 의해

$$\overrightarrow{BH} \perp \overrightarrow{CD} \quad \dots \textcircled{2}$$

한편, ㉑에서 $\overrightarrow{AB} \cdot \overrightarrow{BD} = 0$ 이므로

$$\begin{aligned} \overrightarrow{AH} \cdot \overrightarrow{BD} &= (\overrightarrow{AB} + \overrightarrow{BH}) \cdot \overrightarrow{BD} \\ &= \overrightarrow{AB} \cdot \overrightarrow{BD} + \overrightarrow{BH} \cdot \overrightarrow{BD} \\ &= \overrightarrow{BH} \cdot \overrightarrow{BD} \end{aligned}$$

이때, ㉒에서 삼각형 BHD 는 직각삼각형이므로 $\angle DBH = \theta$ 라 하면

$$\begin{aligned} \overrightarrow{AH} \cdot \overrightarrow{BD} &= \overrightarrow{BH} \cdot \overrightarrow{BD} \\ &= |\overrightarrow{BH}| |\overrightarrow{BD}| \cos \theta \\ &= |\overrightarrow{BH}|^2 \end{aligned}$$

한편, ㉑에서 삼각형 ABH 는 $\angle ABH = \frac{\pi}{2}$ 인 직각삼각형이므로

$$\begin{aligned} \overrightarrow{BH} &= \sqrt{\overrightarrow{AH}^2 - \overrightarrow{AB}^2} = \sqrt{5^2 - 3^2} = 4 \\ \therefore \overrightarrow{AH} \cdot \overrightarrow{BD} &= |\overrightarrow{BH}|^2 = 4^2 = 16 \end{aligned}$$

112. 답 ㉓

[해설] $\angle AOP = \theta$ 라 하면

$$\overrightarrow{OA} \cdot \overrightarrow{OP} = |\overrightarrow{OA}| |\overrightarrow{OP}| \cos \theta = 2 \cdot 1 \cdot \cos \theta = 2 \cos \theta$$

ㄱ. $\cos \theta$ 의 최댓값이 1이므로 $\overrightarrow{OA} \cdot \overrightarrow{OP}$ 의 최댓값은 2이다. (참)

$$\text{ㄴ. } \overrightarrow{OA} \cdot \overrightarrow{OP} = \frac{2}{3} \text{에서 } 2 \cos \theta = \frac{2}{3} \therefore \cos \theta = \frac{1}{3}$$

그러므로 θ 는 2개의 값을 가지므로 점 P 도 2개다. (참)

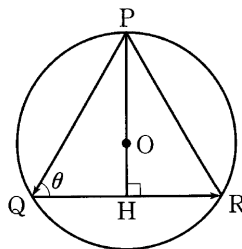
ㄷ. $0 \leq \theta \leq \pi$ 일 때, θ 가 커지면 $\cos \theta$ 의 값은 감소하므로

$\overrightarrow{OA} \cdot \overrightarrow{OP}$ 의 값도 감소한다. (거짓)

따라서 옳은 것은 ㄱ, ㄴ이다.

113. 답 ㉑

[해설]



점 P 에서 선분 QR 에 내린 수선의 발을 H 라 하면 삼각형 PQR 는 $\overrightarrow{PQ} = \overrightarrow{PQ}$ 인 이등변삼각형이므로

$$\overrightarrow{PH} \perp \overrightarrow{QR}, \quad \overrightarrow{QH} \perp \overrightarrow{HR}$$

이때, $\angle PQR = \theta$ 라하면

$$\overrightarrow{PQ} \cos \theta = \overrightarrow{QH} \text{이므로}$$

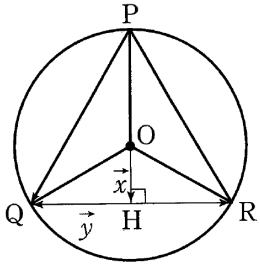
$$\begin{aligned} \overrightarrow{PQ} \cdot \overrightarrow{QR} &= |\overrightarrow{PQ}| |\overrightarrow{QR}| \cos(\pi - \theta) = -\overrightarrow{PQ} \cdot \overrightarrow{QR} \cos \theta = -2 \overrightarrow{QH} \cdot \overrightarrow{QH} \\ &= -2 \overrightarrow{QH}^2 \end{aligned}$$

한편, $0 \leq \overrightarrow{QH} \leq 1$ 이므로

$$\overrightarrow{PQ} \cdot \overrightarrow{QR} = -2 \overrightarrow{QH}^2 \geq -2$$

따라서 $\overrightarrow{PQ} \cdot \overrightarrow{QR}$ 의 최솟값은 -2 이다.

다른 풀이



원의 중심 O 에서 변 QR 에 내린 수선의 발을 H 라 하고
 $\vec{OH} = \vec{x}$, $\vec{HQ} = \vec{y}$

라 하면

$$\vec{OP} = -\frac{\vec{x}}{|\vec{x}|}, \quad \vec{OQ} = \vec{x} + \vec{y}, \quad \vec{OR} = \vec{x} - \vec{y}$$

이때, $\vec{x} \cdot \vec{y} = 0$ 이므로

$$\begin{aligned} \vec{PQ} \cdot \vec{QR} &= (\vec{OQ} - \vec{OP}) \cdot (\vec{OR} - \vec{OQ}) \\ &= \left\{ \left(1 + \frac{1}{|\vec{x}|}\right) \vec{x} + \vec{y} \right\} \cdot (-2\vec{y}) = -2\vec{y} \cdot \vec{y} \\ &= -2|\vec{y}|^2 \geq -2 \end{aligned}$$

따라서 구하는 최솟값은 -2 이다.

114. 답 ⑤

[해설] $\vec{OA} = \vec{a}$, $\vec{OB} = \vec{b}$, $\vec{OC} = \vec{c}$ 라 하면

$$\vec{OG} = \frac{\vec{OA} + \vec{OB} + \vec{OC}}{3} = \frac{\vec{a} + \vec{b} + \vec{c}}{3}$$

$$\vec{AH} = \frac{\vec{AO} + \vec{AB} + \vec{AC}}{3}$$

$$= \frac{1}{3} \{ -\vec{OA} + (\vec{OB} - \vec{OA}) + (\vec{OC} - \vec{OA}) \}$$

$$= \frac{1}{3} (-3\vec{a} + \vec{b} + \vec{c})$$

$$\therefore \vec{OG} \cdot \vec{AH} = \frac{1}{9} (\vec{a} + \vec{b} + \vec{c}) \cdot (-3\vec{a} + \vec{b} + \vec{c})$$

$$= \frac{1}{9} (-3|\vec{a}|^2 + |\vec{b}|^2 + |\vec{c}|^2) - 2\vec{a} \cdot \vec{b} + 2\vec{b} \cdot \vec{c} - 2\vec{c} \cdot \vec{a}$$

그런데 $|\vec{a}| = |\vec{b}| = |\vec{c}| = 3$,

$$\vec{a} \cdot \vec{b} = \vec{b} \cdot \vec{c} = \vec{c} \cdot \vec{a} = 3 \times 3 \times \cos 60^\circ = \frac{9}{2} \text{ 이므로}$$

$$\vec{OG} \cdot \vec{AH} = \frac{1}{9} (-27 + 9 + 9 - 9 + 9 - 9) = -2$$

115. 답 ②

[해설] 선분 EF 의 중점을 M 이라고 하면 두 선분 GM 과 EF 는 서로 수직이다. 또한, 직선 HI 는 직선 MI 와 수직이다. 따라서 삼수선의 정리에 의하여

$$\vec{GM} \perp (\text{평면 } EBCF) \text{ 이고 } \vec{HI} \perp \vec{MI} \text{ 이므로 } \vec{GI} \perp \vec{HI}$$

이 때, $\vec{GM} = \sqrt{5}$, $\vec{MI} = \sqrt{2}$ 이므로 $\vec{GI} = \sqrt{7}$ 이고

삼각형 GHI 는 $\angle HIG = 90^\circ$ 인 직각삼각형이므로

$$\vec{GH} \cdot \vec{GI} = |\vec{GH}| |\vec{GI}| \cos(\angle HGI) = |\vec{GI}|^2 = 7$$

116. 답 12

[해설] 점 H 를 원점으로 하고, 반직선 HE , HG , HD 를 각각 x 축, y 축, z 축의 양의 방향으로 하는 좌표공간을 설정하면

$$A(4, 0, 8), B(4, 4, 8), D(0, 0, 8)$$

$$E(4, 0, 0), F(4, 4, 0), G(0, 4, 0)$$

이므로 네 점 P, Q, R, S, T 의 좌표는 각각

$$P(4, 0, 6), Q(4, 2, 8), R(2, 0, 8)$$

$$S(2, 4, 0), T(3, 1, 8)$$

이 때, $\vec{TP} = (1, -1, -2)$, $\vec{QS} = (-2, 2, -8)$ 이므로

$$\begin{aligned} \vec{TP} \cdot \vec{QS} &= (1, -1, -2) \cdot (-2, 2, -8) \\ &= -2 + 2 + 16 = 12 \end{aligned}$$

117. 답 ③

[해설] $\vec{OP} = (a, b)$, $\vec{OQ} = (c, d)$ 라 하면

$$\vec{OP'} = (a+3, b+1), \quad \vec{OQ'} = (c+3, d+1)$$

$$\therefore \vec{OP} - \vec{OP'} = (a, b) - (a+3, b+1) = (-3, -1)$$

이므로

$$|\vec{OP} - \vec{OP'}| = \sqrt{(-3)^2 + (-1)^2} = \sqrt{10} \quad (\text{참})$$

$$\therefore \vec{OP} - \vec{OQ} = (a, b) - (c, d) = (a-c, b-d)$$

$$\vec{OP'} - \vec{OQ'} = (a+3, b+1) - (c+3, d+1) = (a-c, b-d)$$

이므로

$$\vec{OP} - \vec{OQ} = \vec{OP'} - \vec{OQ'}$$

$$|\vec{OP} - \vec{OQ}| = |\vec{OP'} - \vec{OQ'}| \quad (\text{참})$$

ㄷ. (반례) $\vec{OP} = (1, 1)$, $\vec{OQ} = (1, 2)$ 일 때,

$$\vec{OP} \cdot \vec{OQ} = 1 \cdot 1 + 1 \cdot 2 = 3$$

그런데 $\vec{OP'} = (4, 2)$, $\vec{OQ'} = (4, 3)$ 이므로

$$\vec{OP'} \cdot \vec{OQ'} = 4 \cdot 4 + 2 \cdot 3 = 22$$

$$\therefore \vec{OP} \cdot \vec{OQ} \neq \vec{OP'} \cdot \vec{OQ'} \quad (\text{거짓})$$

따라서 옳은 것은 ㄱ, ㄴ이다.

118. 답 ⑤

[해설] ㄱ. $\vec{AB} \perp \vec{CD}$ 이므로 $\vec{AB} \cdot \vec{CD} = 0$ (참)

ㄴ. $\vec{CB} \cdot \vec{CD} = 2 \cdot 2 \cdot \cos 60^\circ = 2$ 이므로

$$\vec{MB} \cdot \vec{CD} = \frac{1}{2} \vec{CB} \cdot \vec{CD} = 1 \quad (\text{참})$$

ㄷ. $\vec{AM} = \frac{1}{2}(\vec{AB} + \vec{AC})$ 이므로

$$\vec{AM} \cdot \vec{AD} = \frac{1}{2}(\vec{AB} + \vec{AC}) \cdot \vec{AD}$$

$$= \frac{1}{2}(\vec{AB} \cdot \vec{AD} + \vec{AC} \cdot \vec{AD})$$

$$= \frac{1}{2} \cdot 2 \cdot (2 \cdot 2 \cdot \cos 60^\circ) = 2 \quad (\text{참})$$

따라서 보기에서 옳은 것은 ㄱ, ㄴ, ㄷ이다.

다른 풀이

ㄷ. 점 M 에서 선분 AD 에 내린 수선의 발 H 는 선분 AD 의 중점이다.

$$\vec{AM} \cdot \vec{AD} = \vec{AH} \cdot \vec{AD} = 1 \cdot 2 = 2$$

119. 답 ①

[해설] $\vec{AF} = \vec{AB} + \vec{BF}$, $\vec{CE} = \vec{CB} + \vec{BE}$ 이므로

$$\vec{AF} \cdot \vec{CE} = (\vec{AB} + \vec{BF}) \cdot (\vec{CB} + \vec{BE})$$

$$\overrightarrow{AB} \cdot \overrightarrow{CB} + \overrightarrow{AB} \cdot \overrightarrow{BE} + \overrightarrow{BF} \cdot \overrightarrow{CB} + \overrightarrow{BF} \cdot \overrightarrow{BE}$$

이때, $\overrightarrow{AB} \cdot \overrightarrow{CB} = 2 \cdot 2 \cdot \cos 60^\circ = 2$

$$\overrightarrow{AB} \cdot \overrightarrow{BE} = 0$$

$$\overrightarrow{BF} \cdot \overrightarrow{CB} = 0$$

$$\overrightarrow{BF} \cdot \overrightarrow{BE} = 2 \cdot 2 \cdot \cos 120^\circ = -2$$

이므로

$$\overrightarrow{AF} \cdot \overrightarrow{CE} = 2 + 0 + 0 - 2 = 0$$

120. 답 ①

[해설] $\overrightarrow{AB} = \vec{b}$, $\overrightarrow{AD} = \vec{d}$ 라 하면

$$\overrightarrow{AE} = t\vec{d}, \overrightarrow{AF} = (1-t)\vec{d} \quad (t \text{는 실수})$$

사각형 $ABCD$ 가 평행사변형이므로

$$\overrightarrow{AC} = \overrightarrow{AB} + \overrightarrow{AD} = \vec{b} + \vec{d}$$

$$\therefore \overrightarrow{CE} = \overrightarrow{AE} - \overrightarrow{AC} = t\vec{d} - (\vec{b} + \vec{d}) = -\vec{b} - (1-t)\vec{d}$$

$$\overrightarrow{CF} = \overrightarrow{AF} - \overrightarrow{AC} = (1-t)\vec{d} - (\vec{b} + \vec{d}) = -\vec{b} - t\vec{d}$$

$\angle BAD = 60^\circ$ 이므로

$$\vec{b} \cdot \vec{d} = |\vec{b}||\vec{d}|\cos 60^\circ = \frac{1}{2}$$

$$\therefore \overrightarrow{CE} \cdot \overrightarrow{CF} = \{-\vec{b} - (1-t)\vec{d}\} \cdot (-\vec{b} - t\vec{d})$$

$$= |\vec{b}|^2 + \vec{b} \cdot \vec{d} + t(1-t)|\vec{d}|^2 = -t^2 + t + \frac{3}{2}$$

$$= -\left(t - \frac{1}{2}\right)^2 + \frac{7}{4}$$

따라서 내적 $\overrightarrow{CE} \cdot \overrightarrow{CF}$ 의 값이 최대일 때의 t 의 값은

$$t = \frac{1}{2}$$

121. 답 ①

[해설] $|\vec{a} - 2\vec{b}| = 6$ 의 양변을 제곱하면

$$|\vec{a}|^2 - 4\vec{a} \cdot \vec{b} + 4|\vec{b}|^2 = 36$$

$$|\vec{a}| = 2, |\vec{b}| = 3 \quad \text{이므로}$$

$$2^2 - 4\vec{a} \cdot \vec{b} + 4 \cdot 3^2 = 36$$

$$\therefore \vec{a} \cdot \vec{b} = 1$$

122. 답 ②

[해설] $|\vec{a} - 2\vec{b}|^2 = (\vec{a} - 2\vec{b}) \cdot (\vec{a} - 2\vec{b})$

$$= |\vec{a}|^2 - 4\vec{a} \cdot \vec{b} + 4|\vec{b}|^2$$

$$= 9 - 4\vec{a} \cdot \vec{b} + 16 = 9$$

$$\therefore \vec{a} \cdot \vec{b} = 4$$

$$|2\vec{a} + \vec{b}|^2 = (2\vec{a} + \vec{b}) \cdot (2\vec{a} + \vec{b})$$

$$= 4|\vec{a}|^2 + 4\vec{a} \cdot \vec{b} + |\vec{b}|^2$$

$$= 36 + 4 \times 4 + 4 = 56$$

$$\therefore |2\vec{a} + \vec{b}| = 2\sqrt{14}$$

123. 답 ③

[해설] $\vec{a} \cdot (2\vec{b} + 3\vec{c}) + \vec{b} \cdot (3\vec{c} - 2\vec{a})$

$$= 2\vec{a} \cdot \vec{b} + 3\vec{a} \cdot \vec{c} + 3\vec{b} \cdot \vec{c} - 2\vec{a} \cdot \vec{b}$$

$$= 3\vec{a} \cdot \vec{c} + 3\vec{b} \cdot \vec{c}$$

$$= 3(\vec{a} + \vec{b}) \cdot \vec{c} = 3(1, 2, 3) \cdot (-3, 4, 1)$$

$$= 3(-3 + 8 + 3) = 24$$

124. 답 7

[해설] $|\vec{a} - \vec{b}|^2 = (\vec{a} - \vec{b}) \cdot (\vec{a} - \vec{b})$

$$= \vec{a} \cdot (\vec{a} - \vec{b}) - \vec{b} \cdot (\vec{a} - \vec{b})$$

$$= \vec{a} \cdot \vec{a} - \vec{a} \cdot \vec{b} - \vec{b} \cdot \vec{a} + \vec{b} \cdot \vec{b}$$

$$= |\vec{a}|^2 - 2\vec{a} \cdot \vec{b} + |\vec{b}|^2$$

$$= 2 - 2(-1) + 3 = 7$$

125. 답 ④

[해설] $|\vec{b}| = 1$ 이므로

$$\vec{a} \cdot \vec{b} = |\vec{a}||\vec{b}|\cos 30^\circ = |\vec{a}| \times 1 \times \frac{\sqrt{3}}{2} = \frac{\sqrt{3}}{2}|\vec{a}|$$

$$|\vec{a} - \sqrt{3}\vec{b}|^2 = (\vec{a} - \sqrt{3}\vec{b}) \cdot (\vec{a} - \sqrt{3}\vec{b})$$

$$= |\vec{a}|^2 - 2\sqrt{3}\vec{a} \cdot \vec{b} + 3|\vec{b}|^2$$

$$= |\vec{a}|^2 - 3|\vec{a}| + 3 = 7$$

$$\therefore |\vec{a}|^2 - 3|\vec{a}| - 4 = 0, (|\vec{a}| - 4)(|\vec{a}| + 1) = 0$$

$$\therefore |\vec{a}| = 4 \quad (\because |\vec{a}| > 0)$$

126. 답 ⑤

[해설] 두 벡터 \vec{a}, \vec{b} 가 수직이므로 $\vec{a} \cdot \vec{b} = 0$ 이다.

$$|3\vec{a} - 2\vec{b}| = (3\vec{a} - 2\vec{b}) \cdot (3\vec{a} - 2\vec{b})$$

$$= 9|\vec{a}|^2 - 12\vec{a} \cdot \vec{b} + 4|\vec{b}|^2$$

$$= 9 \cdot 3^2 + 0 + 4 \cdot 1^2 = 85$$

$$\therefore |3\vec{a} - 2\vec{b}| = \sqrt{85}$$

127. 답 ④

[해설] $\overrightarrow{AB} = \vec{a}$, $\overrightarrow{AC} = \vec{b}$ 라 하면 선분 BC 를 1:2로 내분하는 점이 P 이므로

$$\overrightarrow{AP} = \frac{2}{3}\vec{a} + \frac{1}{3}\vec{b}$$

$$\text{따라서 } |\overrightarrow{AP}|^2 = \left(\frac{2}{3}\vec{a} + \frac{1}{3}\vec{b}\right) \cdot \left(\frac{2}{3}\vec{a} + \frac{1}{3}\vec{b}\right)$$

$$= \frac{4}{9}|\vec{a}|^2 + \frac{4}{9}\vec{a} \cdot \vec{b} + \frac{1}{9}|\vec{b}|^2$$

$$= \frac{4}{9} \times 6^2 + \frac{4}{9} \times 9 + \frac{1}{9} \times 12^2$$

$$= 16 + 4 + 16$$

$$= 36$$

이므로 $|\overrightarrow{AP}| = 6$

128. 답 ⑤

[해설] $|\vec{a} - \vec{b}| = 6$ 이므로

$$|\vec{a} - \vec{b}|^2 = |\vec{a}|^2 - 2\vec{a} \cdot \vec{b} + |\vec{b}|^2$$

$$36 = 16 - 2\vec{a} \cdot \vec{b} + 25$$

$$\therefore \vec{a} \cdot \vec{b} = \frac{5}{2}$$

$$\therefore (\vec{a} + 2\vec{b}) \cdot (3\vec{a} - \vec{b}) = 3|\vec{a}|^2 + 5\vec{a} \cdot \vec{b} - 2|\vec{b}|^2$$

$$= 3 \times 16 + 5 \times \frac{5}{2} - 2 \times 25 = \frac{21}{2}$$

129. 답 98

[해설] $|\overrightarrow{BC}| = 15$ 이므로

$$|\overrightarrow{AC} - \overrightarrow{AB}| = 15$$

양변을 제곱하면

$$|\overrightarrow{AC} - \overrightarrow{AB}|^2 = 225$$

$$|\overrightarrow{AC}|^2 - 2\overrightarrow{AC} \cdot \overrightarrow{AB} + |\overrightarrow{AB}|^2 = 225$$

$$225 - 2\overrightarrow{AB} \cdot \overrightarrow{AC} + 196 = 225$$

$$\therefore \overrightarrow{AB} \cdot \overrightarrow{AC} = 98$$

130. 답 ④

[해설] $9x^2 - 18x + 7 = 0$ 의 두 근이 α, β 이므로

$$\alpha + \beta = \frac{18}{9} = 2, \quad \alpha\beta = \frac{7}{9} \quad \dots \textcircled{1}$$

$\overrightarrow{AB} = \overrightarrow{OB} - \overrightarrow{OA}$ 에서

$$|\overrightarrow{AB}|^2 = |\overrightarrow{OB} - \overrightarrow{OA}|^2 = |\overrightarrow{OB}|^2 - 2\overrightarrow{OA} \cdot \overrightarrow{OB} + |\overrightarrow{OA}|^2$$

$$\therefore \overrightarrow{OA} \cdot \overrightarrow{OB} = \frac{1}{2} \{ |\overrightarrow{OA}|^2 + |\overrightarrow{OB}|^2 - |\overrightarrow{AB}|^2 \}$$

$$= \frac{1}{2} (\alpha^2 + \beta^2 - 1) \quad (\because |\overrightarrow{AB}| = 1)$$

$$= \frac{1}{2} \{ (\alpha + \beta)^2 - 2\alpha\beta - 1 \}$$

$$= \frac{13}{18} \quad (\because \textcircled{1})$$

131. 답 ①

$$\begin{aligned} [\text{해설}] \overrightarrow{BC} &= \overrightarrow{AC} - \overrightarrow{AB} = (k, 2, -3) - (1, 1, -1) \\ &= (k-1, 1, -2) \end{aligned}$$

$\overrightarrow{AB} \perp \overrightarrow{BC}$ 이므로

$$\begin{aligned} \overrightarrow{AB} \cdot \overrightarrow{BC} &= (1, 1, -1) \cdot (k-1, 1, -2) \\ &= k-1+1+2=0 \end{aligned}$$

$$\therefore k = -2$$

132. 답 25

[해설] 두 벡터 \vec{a}, \vec{b} 가 이루는 각의 크기를 θ 라 하면 벡터의 내적의 정의에서

$$\vec{a} \cdot \vec{b} = |\vec{a}||\vec{b}|\cos\theta$$

주어진 조건에서 $|\vec{a} \cdot \vec{b}| = |\vec{a}||\vec{b}|$ 이므로

$$\cos\theta = \pm 1, \quad \text{즉 } \theta = 0 \text{ 또는 } \theta = \pi$$

$$\therefore \vec{a} \parallel \vec{b}$$

따라서, 실수 k 에 대하여 $\vec{a} = k\vec{b} = (k, 0, k)$ 이고, $|\vec{a}| = 5\sqrt{2}$, 즉

$$|\vec{a}|^2 = 50 \text{ 이므로}$$

$$k^2 + 0 + k^2 = 50 \quad \therefore k^2 = 25$$

$$\therefore x^2 + y^2 = k^2 + 0 = 25$$

133. 답 ①

[해설] $\overrightarrow{OA} = \vec{a}, \overrightarrow{OB} = \vec{b}, \overrightarrow{OC} = \vec{c}$ 로 놓으면

$$\overrightarrow{AB} = \overrightarrow{OB} - \overrightarrow{OA} = \vec{b} - \vec{a}$$

$$\overrightarrow{AC} = \overrightarrow{OC} - \overrightarrow{OA} = \vec{c} - \vec{a}$$

또한,

$$|\overrightarrow{AB}|^2 = \overrightarrow{AB} \cdot \overrightarrow{AB} = (\vec{b} - \vec{a}) \cdot (\vec{b} - \vec{a}) = |\vec{b}|^2 - 2\vec{a} \cdot \vec{b} + |\vec{a}|^2$$

$$|\overrightarrow{AC}|^2 = \overrightarrow{AC} \cdot \overrightarrow{AC} = (\vec{c} - \vec{a}) \cdot (\vec{c} - \vec{a}) = |\vec{c}|^2 - 2\vec{a} \cdot \vec{c} + |\vec{a}|^2$$

이것을 $|\overrightarrow{AB}|^2 + |\overrightarrow{OC}|^2 = |\overrightarrow{AC}|^2 + |\overrightarrow{OB}|^2$ 에 대입하면

$$|\vec{b}|^2 - 2\vec{a} \cdot \vec{b} + |\vec{a}|^2 + |\vec{c}|^2 = |\vec{c}|^2 - 2\vec{a} \cdot \vec{c} + |\vec{a}|^2 + |\vec{b}|^2$$

$$-\vec{a} \cdot \vec{b} + \vec{a} \cdot \vec{c} = 0$$

$$\therefore \vec{a} \cdot (\vec{c} - \vec{b}) = 0$$

그런데 $\vec{c} - \vec{b} = \overrightarrow{OC} - \overrightarrow{OB} = \overrightarrow{BC}$ 이므로

$$\overrightarrow{OA} \perp \overrightarrow{BC}$$

134. 답 ㉓

[해설] \neg . $\vec{a} + \vec{b} + \vec{c} = \vec{0}$ 에서 $(\vec{a} + \vec{b} + \vec{c}) \cdot \vec{c} = 0$

$$\vec{a} \cdot \vec{c} + \vec{b} \cdot \vec{c} + |\vec{c}|^2 = 0$$

$$\therefore \vec{a} \cdot \vec{c} + \vec{b} \cdot \vec{c} = -|\vec{c}|^2 \quad (\text{참})$$

$$\hookrightarrow. |\vec{a} - \vec{c}|^2 + |\vec{b} - \vec{c}|^2 - (|\vec{a}|^2 + |\vec{b}|^2)$$

$$= -2(\vec{a} \cdot \vec{c} + \vec{b} \cdot \vec{c}) + 2|\vec{c}|^2$$

$$= 2|\vec{c}|^2 + 2|\vec{c}|^2 = 4|\vec{c}|^2 \quad (\text{참})$$

\dashv . $|\vec{a} - \vec{b}| = |\vec{b} - \vec{c}| = |\vec{c} - \vec{a}| = 1$ 이면 \hookrightarrow 의 결과에 의하여

$$2 - (|\vec{a}|^2 + |\vec{b}|^2) = 4|\vec{c}|^2 \quad \dots \textcircled{1}$$

$$2 - (|\vec{b}|^2 + |\vec{c}|^2) = 4|\vec{a}|^2 \quad \dots \textcircled{2}$$

$$2 - (|\vec{c}|^2 + |\vec{a}|^2) = 4|\vec{b}|^2 \quad \dots \textcircled{3}$$

$$\textcircled{1} + \textcircled{2} + \textcircled{3} \text{에서 } 6 = 6(|\vec{a}|^2 + |\vec{b}|^2 + |\vec{c}|^2)$$

$$\therefore |\vec{a}|^2 + |\vec{b}|^2 + |\vec{c}|^2 = 1$$

$$\textcircled{1}, \textcircled{3} \text{에서 } 2 - (1 - |\vec{c}|^2) = 4|\vec{c}|^2$$

$$\therefore |\vec{c}|^2 = \frac{1}{3}$$

따라서 $|\vec{a}|^2 = |\vec{b}|^2 = \frac{1}{3}$ 이므로 $|\vec{a}| = |\vec{b}| = |\vec{c}|$ (참)

따라서 옳은 것은 $\neg, \hookrightarrow, \dashv$ 이다.

135. 답 ㉑

[해설] $\overrightarrow{OA} = \vec{a}, \overrightarrow{OB} = \vec{b}, \overrightarrow{OC} = \vec{c}$ 라 하면

$$\overrightarrow{OA} \perp \overrightarrow{BC} \text{에서 } \vec{a} \cdot (\vec{c} - \vec{b}) = 0$$

$$\therefore \vec{a} \cdot \vec{c} = \vec{a} \cdot \vec{b} \quad \dots \textcircled{1}$$

마찬가지로

$$\overrightarrow{OB} \perp \overrightarrow{AC} \text{에서 } \vec{a} \cdot \vec{b} = \vec{b} \cdot \vec{c} \quad \dots \textcircled{2}$$

$$\overrightarrow{OC} \perp \overrightarrow{AB} \text{에서 } \vec{b} \cdot \vec{c} = \vec{a} \cdot \vec{c} \quad \dots \textcircled{3}$$

$$\textcircled{1}, \textcircled{2}, \textcircled{3} \text{에서 } \vec{a} \cdot \vec{b} = \vec{b} \cdot \vec{c} = \vec{c} \cdot \vec{a} \quad \dots \textcircled{4}$$

그런데

$$\vec{a} \cdot \vec{b} = |\vec{a}||\vec{b}|\cos 45^\circ = \frac{1}{\sqrt{2}}|\vec{a}||\vec{b}|$$

$$\vec{b} \cdot \vec{c} = |\vec{b}||\vec{c}|\cos 60^\circ = \frac{1}{2}|\vec{b}||\vec{c}|$$

$$\vec{c} \cdot \vec{a} = |\vec{c}||\vec{a}|\cos 60^\circ = \frac{1}{2}|\vec{c}||\vec{a}|$$

이므로 $\textcircled{4}$ 에서

$$\frac{1}{\sqrt{2}}|\vec{a}||\vec{b}| = \frac{1}{2}|\vec{b}||\vec{c}| = \frac{1}{2}|\vec{c}||\vec{a}|$$

$$\therefore |\vec{b}| = |\vec{a}|, |\vec{c}| = \sqrt{2}|\vec{a}|$$

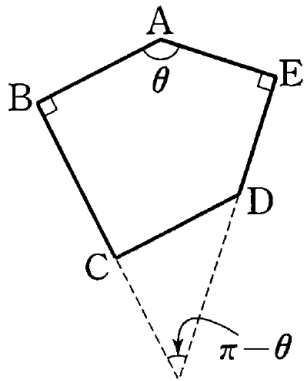
$$\therefore \overline{OA} : \overline{OB} : \overline{OC} = |\vec{a}| : |\vec{b}| : |\vec{c}| = 1 : 1 : \sqrt{2}$$

136. 답 ⑤

[해설] $\vec{AB} + \vec{AE} = 2\vec{AM}$ 이므로 $\vec{AB} + \vec{AE}$ 와 \vec{AM} 은 평행하다.

(참)

∴



$\angle B = \angle E = 90^\circ$ 이므로 \vec{AB} 와 \vec{AE} 가 이루는 각의 크기를 θ 라 하면 \vec{BC} 와 \vec{ED} 가 이루는 각의 크기는 $\pi - \theta$ 이다.

따라서

$$\vec{AB} \cdot \vec{AE} = |\vec{AB}||\vec{AE}| \cos \theta$$

$$\vec{BC} \cdot \vec{ED} = |\vec{BC}||\vec{ED}| \cos(\pi - \theta)$$

$$= -|\vec{BC}||\vec{ED}| \cos \theta$$

이때, $\vec{AB} = \vec{BC}$, $\vec{AE} = \vec{ED}$ 이므로

$$\therefore \vec{AB} \cdot \vec{AE} = -\vec{BC} \cdot \vec{ED} \quad (\text{참})$$

$$\therefore |\vec{BC} + \vec{ED}|^2 = |\vec{BC}|^2 + 2\vec{BC} \cdot \vec{ED} + |\vec{ED}|^2,$$

$$|\vec{BE}|^2 = |\vec{AE} - \vec{AB}|^2$$

$$= |\vec{AB}|^2 - 2\vec{AB} \cdot \vec{AE} + |\vec{AE}|^2$$

이때, $\vec{AB} = \vec{BC}$, $\vec{AE} = \vec{ED}$ 이고, '∴'에 의해

$$\therefore \vec{AB} \cdot \vec{AE} = -\vec{BC} \cdot \vec{ED} \text{가 성립하므로}$$

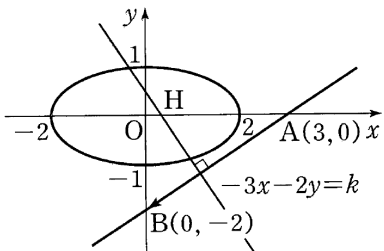
$$|\vec{BC} + \vec{ED}|^2 = |\vec{BE}|^2$$

$$\therefore |\vec{BC} + \vec{ED}| = |\vec{BE}| \quad (\text{참})$$

따라서, ㄱ, ㄴ, ㄷ 모두 옳다.

137. 답 ③

[해설]



$$\vec{AB} = \vec{OB} - \vec{OA} = (0, -2) - (3, 0) = (-3, -2)$$

타원 위의 점을 $P(x, y)$ 라 하면

$$\vec{OP} \cdot \vec{AB} = (x, y) \cdot (-3, -2) = -3x - 2y$$

타원의 방정식은 $\frac{x^2}{2^2} + \frac{y^2}{1^2} = 1$ 이므로 $-3x - 2y = k$ 라 하면

k 의 값은 타원과 이 직선이 만날 때의 값이다.

한편, 기울기가 $-\frac{3}{2}$ 인 접선의 방정식은

$$y = -\frac{3}{2}x \pm \sqrt{\left(-\frac{3}{2}\right)^2 \times 2^2 + 1^2} = -\frac{3}{2}x \pm \sqrt{10}$$

이므로 k 의 값의 범위는 $-\sqrt{10} \leq -\frac{k}{2} \leq \sqrt{10}$

$$\therefore -\sqrt{40} \leq k \leq \sqrt{40}$$

따라서 $\vec{OP} \cdot \vec{AB}$ 의 값 중 정수는

$-6, -5, -4, -3, -2, -1, 0, 1, 2, 3, 4, 5, 6$ 으로 13개다.

138. 답 43

$$[\text{해설}] |\vec{AB} + \vec{DC}|^2 = (\vec{AB} + \vec{DC}) \cdot (\vec{AB} + \vec{DC})$$

$$= |\vec{AB}|^2 + 2\vec{AB} \cdot \vec{DC} + |\vec{DC}|^2$$

이 때,

$$|\vec{AB}|^2 = 3^2 = 9$$

$$|\vec{DC}|^2 = \vec{AC}^2 + \vec{DA}^2$$

$$= 3^2 + 4^2 = 25$$

또, $\vec{AB} \perp \vec{AD}$ 에서 $\vec{AB} \cdot \vec{AD} = 0$ 이므로

$$\vec{AB} \cdot \vec{DC} = \vec{AB} \cdot (\vec{AC} - \vec{AD})$$

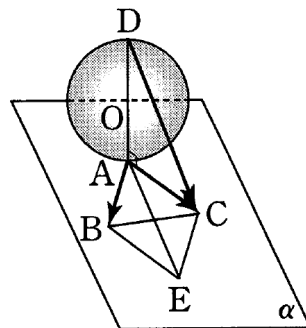
$$= \vec{AB} \cdot \vec{AC} - \vec{AB} \cdot \vec{AD}$$

$$= |\vec{AB}||\vec{AC}| \cos 60^\circ \quad (\because \vec{AB} \cdot \vec{AD} = 0)$$

$$= 3 \cdot 3 \cdot \frac{1}{2} = \frac{9}{2}$$

$$\therefore |\vec{AB}|^2 + 2\vec{AB} \cdot \vec{DC} + |\vec{DC}|^2 = 9 + 2 \times \frac{9}{2} + 25 = 43$$

다른 풀이



그림과 같이 두 선분 AB, AC 를 두 변으로 하는 평행사변형의 또 다른 꼭짓점을 E 라 하면 $\vec{AB} = \vec{CE}$ 이므로

$$\vec{AB} + \vec{DC} = \vec{CE} + \vec{DC} = \vec{DE}$$

선분 AD 는 구의 중심을 지나므로 선분 AD 는 구의 지름이고,

$$AD = 2 \times 2 = 4$$

또, $AD \perp \alpha$ 이므로 $AD \perp AE$ 이고,

$$AE = 2 \times 3 \cos \frac{\pi}{6} = 3\sqrt{3}$$

따라서 직각삼각형 DAE 에서

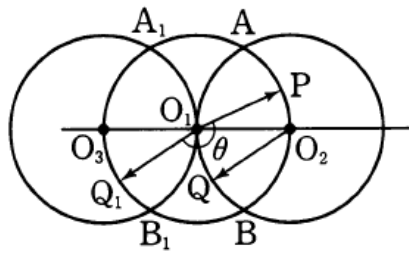
$$DE^2 = AD^2 + AE^2 = 4^2 + (3\sqrt{3})^2 = 43$$

$$\therefore |\vec{AB} + \vec{DC}|^2 = |\vec{DE}|^2 = DE^2 = 43$$

139. 답 ②

[해설] 그림과 같이 선분 O_1O_2 의 연장선 위에 O_3 를 잡고 반지름의 길이가 1인 원을 그려 원 O_1 과 만나는 점을 각각 A_1, B_1 이라 하

자.



이 때, $\overrightarrow{O_2Q} = \overrightarrow{O_1Q_1}$ 인 점 Q_1 을 잡고 두 벡터 $\overrightarrow{O_1P}$, $\overrightarrow{O_1Q_1}$ 이 이루는 각의 크기를 θ 라 하면

$$\begin{aligned} \overrightarrow{O_1P} \cdot \overrightarrow{O_2Q} &= \overrightarrow{O_1P} \cdot \overrightarrow{O_1Q_1} \\ &= |\overrightarrow{O_1P}| |\overrightarrow{O_1Q_1}| \cos \theta \\ &= \cos \theta \quad \dots\dots \textcircled{1} \end{aligned}$$

이 때, 네 삼각형 O_1O_2A , O_1BO_2 , $O_1A_1O_3$, $O_1O_3B_1$ 이 정삼각형이므로

$$\frac{\pi}{3} \leq \theta \leq \pi$$

따라서 $\textcircled{1}$ 은 $\theta = \frac{\pi}{3}$ 일 때 최댓값 $\frac{1}{2}$, $\theta = \pi$ 일 때 최솟값 -1 을 가지므로

$$M+m = \frac{1}{2} + (-1) = -\frac{1}{2}$$

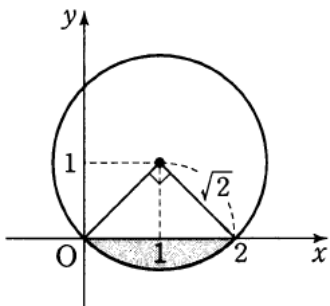
140. 답 ①

[해설] $A(x, y)$ 라고 하면 $|\vec{p}| = |\vec{q}| = 1$ 이므로

$$\begin{aligned} \overrightarrow{OA} \cdot \vec{p} &= (x, y) \cdot (1, 0) = x = 1 \\ \overrightarrow{OA} \cdot \vec{q} &= (x, y) \cdot (0, 1) = y = 1 \end{aligned}$$

에서 $A(1, 1)$ 이다.

또한 $|\overrightarrow{OB} - \overrightarrow{OA}| = |\overrightarrow{AB}| = \sqrt{2}$ 이므로 점 B 가 나타내는 도형은 중심이 $(1, 1)$ 이고 반지름의 길이가 $\sqrt{2}$ 인 원이다.



따라서 $(x-1)^2 + (y-1)^2 = 2$ 이고 원과 x 축으로 둘러싸인 도형 중에서 작은 부분은 오른쪽 그림과 같으므로 구하는 도형의 넓이는

$$\begin{aligned} \pi(\sqrt{2})^2 \times \frac{1}{4} - \frac{1}{2} \times \sqrt{2} \times \sqrt{2} \\ = \frac{\pi}{2} - 1 \end{aligned}$$

141. 답 ③

[해설] $\cos \theta = \frac{1 \cdot (-1) + 2 \cdot 0}{\sqrt{1^2 + 2^2} \sqrt{(-1)^2 + 0^2}} = -\frac{1}{\sqrt{5}} = -\frac{\sqrt{5}}{5}$

142. 답 ①

[해설] $AB = \begin{pmatrix} -2 & -1 & 4 \\ 1 & k & 3 \end{pmatrix} \begin{pmatrix} k & -1 \\ -2 & 3 \\ 1 & 2 \end{pmatrix} = \begin{pmatrix} -2k+6 & 7 \\ -k+3 & 3k+5 \end{pmatrix}$

연립일차방정식 $AB \begin{pmatrix} x \\ y \end{pmatrix} = \begin{pmatrix} 0 \\ 0 \end{pmatrix}$ 이 $x=y=0$ 이외의 해를 가지려면

$AB = \begin{pmatrix} -2k+6 & 7 \\ -k+3 & 3k+5 \end{pmatrix}$ 의 역행렬이 존재하지 않아야 하므로
 $(-2k+6)(3k+5) - 7(-k+3) = 0$
 $3(k-3)(2k+1) = 0$

이때, k 는 정수이므로 $k=3$
 $k=3$ 일 때,

$$BA = \begin{pmatrix} 3 & -1 \\ -2 & 3 \\ 1 & 2 \end{pmatrix} \begin{pmatrix} -2 & -1 & 4 \\ 1 & 3 & 3 \end{pmatrix} = \begin{pmatrix} -7 & -6 & 9 \\ 7 & 11 & 1 \\ 0 & 5 & 10 \end{pmatrix}$$

에서 $\vec{a} = (-7, 7, 0)$, $\vec{b} = (-6, 11, 5)$

$\vec{d} = (u, v, w)$ 가 \vec{a} , \vec{b} 에 각각 수직이므로

$$\vec{a} \cdot \vec{d} = -7u + 7v = 0$$

$$\vec{b} \cdot \vec{d} = -6u + 11v + 5w = 0$$

두 식을 연립하여 풀면

$$v = u, w = -u \dots \textcircled{1}$$

이므로 $\vec{d} = (u, u, -u)$ 이다. \vec{d} 는 단위벡터이므로

$$|\vec{d}|^2 = u^2 + u^2 + (-u)^2 = 1 \text{에서 } 3u^2 = 1 \dots \textcircled{2}$$

$\textcircled{1}$, $\textcircled{2}$ 에서

$$u^2 - v^2 + w^2 = u^2 - u^2 + (-u)^2 = u^2 = \frac{1}{3}$$

143. 답 ①

[해설] $\vec{a} \cdot \vec{b} = 2x - 2 - 3x + 3 = 0$

$$-x + 1 = 0 \quad \therefore x = 1$$

144. 답 ③

[해설] $\vec{a} \cdot \vec{b} = |\vec{a}| |\vec{b}| \cos 60^\circ$

$$= |\vec{a}| \cdot 1 \cdot \frac{1}{2} = \frac{1}{2} |\vec{a}|$$

그런데 $|\vec{a} - 3\vec{b}| = \sqrt{13}$ 이므로

$$|\vec{a} - 3\vec{b}|^2 = 13$$

$$(\vec{a} - 3\vec{b}) \cdot (\vec{a} - 3\vec{b}) = 13$$

$$|\vec{a}|^2 - 6\vec{a} \cdot \vec{b} + 9|\vec{b}|^2 = 13$$

$$|\vec{a}|^2 - 3|\vec{a}| + 9 = 13$$

$$|\vec{a}|^2 - 3|\vec{a}| - 4 = 0$$

$$(|\vec{a}| - 4)(|\vec{a}| + 1) = 0$$

$$\therefore |\vec{a}| = 4 \quad (\because |\vec{a}| > 0)$$

145. 답 ④

[해설] $|\vec{a} + 2\vec{b}| = \sqrt{3}$ 에서

$$\begin{aligned} |\vec{a} + 2\vec{b}|^2 &= (\vec{a} + 2\vec{b}) \cdot (\vec{a} + 2\vec{b}) \\ &= |\vec{a}|^2 + 4\vec{a} \cdot \vec{b} + 4|\vec{b}|^2 \\ &= 5 + 4\vec{a} \cdot \vec{b} = 3 \end{aligned}$$

$$\therefore \vec{a} \cdot \vec{b} = -\frac{1}{2}$$

두 벡터 \vec{a} , \vec{b} 가 이루는 각의 크기를 θ 라 하면

$$\vec{a} \cdot \vec{b} = |\vec{a}||\vec{b}|\cos\theta = \cos\theta = -\frac{1}{2}$$

$$\therefore \theta = \frac{2}{3}\pi$$

146. 답 ⑤

[해설] $|\vec{a}| = \sqrt{2^2 + (-3)^2 + 2^2} = \sqrt{17}$

$$|\vec{b}| = \sqrt{a^2 + (-4)^2 + 0} = \sqrt{17}$$

$$\vec{a} \cdot \vec{b} = 2 \cdot 1 + (-3) \cdot (-4) + 2 \cdot 0 = 14$$

$$\therefore \cos\theta = \frac{\vec{a} \cdot \vec{b}}{|\vec{a}||\vec{b}|} = \frac{14}{\sqrt{17}\sqrt{17}} = \frac{14}{17}$$

147. 답 12

[해설] 두 벡터 $\vec{a} = (9, x+1, -12)$, $\vec{b} = (-8, x, 7)$ 이 수직일 때,

$$\vec{a} \cdot \vec{b} = 0 \text{ 이므로}$$

$$9 \cdot (-8) + (x+1)x - 12 \cdot 7 = 0$$

$$-72 + x^2 + x - 84 = 0$$

$$x^2 + x - 156 = 0$$

$$(x-12)(x+13) = 0$$

$$\therefore x = 12 \quad (\because x > 0)$$

148. 답 ⑤

[해설] $|\vec{a} - 2\vec{b}|^2 = (\vec{a} - 2\vec{b}) \cdot (\vec{a} - 2\vec{b})$

$$= \vec{a} \cdot (\vec{a} - 2\vec{b}) - 2\vec{b} \cdot (\vec{a} - 2\vec{b})$$

$$= \vec{a} \cdot \vec{a} - 2\vec{a} \cdot \vec{b} - 2\vec{b} \cdot \vec{a} + 4\vec{b} \cdot \vec{b}$$

$$= |\vec{a}|^2 - 4\vec{a} \cdot \vec{b} + 4|\vec{b}|^2$$

$$\therefore \vec{a} \cdot \vec{b} = -\frac{7}{4}$$

이때, $(2\vec{a}) \cdot (-\vec{b}) = |2\vec{a}||-\vec{b}|\cos\theta = 2|\vec{a}||\vec{b}|\cos\theta$ 이므로

$$-2 \cdot \left(-\frac{7}{4}\right) = 2 \cdot \sqrt{7} \cdot 3 \cdot \cos\theta$$

$$\therefore \cos\theta = \frac{\sqrt{7}}{12}$$

149. 답 ②

[해설] $\vec{AB} = \vec{a}, \vec{AC} = \vec{b}$ 라 하면 두 벡터 \vec{a}, \vec{b} 가 이루는 각의 크기는 $\angle BAC$ 의 크기와 같다.

$$\vec{a} = \vec{OB} - \vec{OA} = (1, -1, 0),$$

$$\vec{b} = \vec{OC} - \vec{OA} = (0, -1, a-1) \text{ 이므로}$$

$$\cos(\angle BAC) = \cos 60^\circ = \frac{\vec{a} \cdot \vec{b}}{|\vec{a}||\vec{b}|} = \frac{1}{\sqrt{2}\sqrt{a^2 - 2a + 2}} = \frac{1}{2}$$

$$\therefore \sqrt{a^2 - 2a + 2} = \sqrt{2}, a^2 - 2a + 2 = 2, a(a-2) = 0$$

$$\therefore a = 0 \text{ 또는 } a = 2$$

따라서 구하는 모든 실수 a 의 값의 합은

$$0 + 2 = 2$$

150. 답 ②

[해설] $\vec{a} \cdot \vec{b} = 2 \cdot (-2) - 2 \cdot k + 3 \cdot 3 > 0$ 이어야 하므로

$$k < \frac{5}{2}$$

따라서 구하는 자연수 k 의 개수는 1, 2 의 2 개다.

151. 답 ②

[해설] $|\vec{b}| = x$ 라 하면

$$\vec{a} \cdot \vec{b} = |\vec{a}||\vec{b}|\cos\frac{\pi}{3} = \frac{1}{2}x \dots \textcircled{1}$$

$(\vec{a} + \vec{b}) \perp (2\vec{a} - \vec{b})$ 이므로

$$(\vec{a} + \vec{b}) \cdot (2\vec{a} - \vec{b}) = 0 \Leftrightarrow 2|\vec{a}|^2 + \vec{a} \cdot \vec{b} - |\vec{b}|^2 = 0$$

$$\Leftrightarrow \vec{a} \cdot \vec{b} = x^2 - 2 \dots \textcircled{2}$$

$$\textcircled{1}, \textcircled{2} \text{ 에서 } x^2 - 2 = \frac{1}{2}x, 2x^2 - x - 4 = 0$$

$$x > 0 \text{ 이므로 } x = \frac{1 + \sqrt{33}}{4}$$

$$\therefore |\vec{b}| = \frac{1 + \sqrt{33}}{4}$$

152. 답 ④

[해설] $|t\vec{a} + \vec{b}|^2 = t^2|\vec{a}|^2 + 2\vec{a} \cdot \vec{b}t + |\vec{b}|^2$

$$= t^2 + t\cos\theta + \frac{1}{4}$$

$$= \left(t + \frac{\cos\theta}{2}\right)^2 + \frac{1 - \cos^2\theta}{4}$$

$|t\vec{a} + \vec{b}|$ 의 최솟값이 $\frac{\sqrt{3}}{4}$ 이므로

$$\sqrt{\frac{1 - \cos^2\theta}{4}} = \frac{\sin\theta}{2} = \frac{\sqrt{3}}{4}$$

$$\text{에서 } \sin\theta = \frac{\sqrt{3}}{2}$$

$$0^\circ \leq \theta \leq 90^\circ \text{ 이므로 } \theta = 60^\circ$$

153. 답 ③

[해설] $\vec{a} - 2\vec{b} = (-2, 2, 1) - 2(-1, 0, 2) = (0, 2, -3)$

$$2\vec{a} + k\vec{b} = 2(-2, 2, 1) + k(-1, 0, 2)$$

$$= (-4 - k, 4, 2 + 2k)$$

이 때, $\vec{a} - 2\vec{b}$ 와 $2\vec{a} + k\vec{b}$ 가 수직이므로

$$(0, 2, -3) \cdot (-4 - 4k, 4, 2 + 2k)$$

$$= 0 + 8 - 3(2 + 2k) = 0$$

$$8 - 6 - 6k = 0$$

$$\therefore k = \frac{1}{3}$$

154. 답 ④

[해설] 조건 (가)에서 $x^2 + y^2 + z^2 = 1 \dots \textcircled{1}$

$$\text{조건 (가), (나)에서 } \vec{a} \cdot \vec{b} = x = \cos 120^\circ = -\frac{1}{2} \dots \textcircled{2}$$

$$\text{조건 (가), (다)에서 } \vec{b} \cdot \vec{c} = z = \cos 120^\circ = -\frac{1}{2} \dots \textcircled{3}$$

$\textcircled{2}, \textcircled{3}$ 을 $\textcircled{1}$ 에 대입하면

$$\frac{1}{4} + y^2 + \frac{1}{4} = 1 \quad \therefore y^2 = \frac{1}{2}$$

155. 답 ㉔

[해설] 점 $P(x, y, 0)$ 이라 하면 $x^2 + y^2 = 1 \dots \textcircled{1}$

$$\begin{aligned} \cos\theta &= \frac{\overrightarrow{OA} \cdot \overrightarrow{OP}}{|\overrightarrow{OA}| |\overrightarrow{OP}|} \\ &= \frac{\frac{1}{3}x + \frac{2}{3}y}{\sqrt{(\frac{1}{3})^2 + (\frac{2}{3})^2 + (\frac{2}{3})^2 \sqrt{x^2 + y^2}}} \\ &= \frac{1}{3}x + \frac{2}{3}y \end{aligned}$$

$\frac{1}{3}x + \frac{2}{3}y = k$ 로 놓으면 $\textcircled{1}$ 에서 $x^2 + y^2 = 1$ 이므로 k 의 최댓값은 직선 $x + 2y - 3k = 0$ 이 원 $x^2 + y^2 = 1$ 에 접할 때이다. 즉,

$$\frac{|0 + 2 \cdot 0 - 3k|}{\sqrt{1^2 + 2^2}} = 1$$

$$|3k| = \sqrt{5} \quad \therefore k = \pm \frac{\sqrt{5}}{3}$$

따라서 k 의 최댓값은 $\frac{\sqrt{5}}{3}$ 이다.

156. 답 ㉑

[해설] $\overrightarrow{AB} = \vec{a}, \overrightarrow{AC} = \vec{b}$ 라 하면

$|\vec{a}| = 3, |\vec{b}| = 2$ 이고

$$\overrightarrow{AG} = \frac{1}{3}(\vec{a} + \vec{b}) \text{ 이므로}$$

$$\begin{aligned} \overrightarrow{CG} &= \overrightarrow{AG} - \overrightarrow{AC} \\ &= \frac{1}{3}(\vec{a} - 2\vec{b}) \end{aligned}$$

이때, $\overrightarrow{GA} \perp \overrightarrow{GC}$ 이므로 $\overrightarrow{AG} \cdot \overrightarrow{CG} = 0$ 이다.

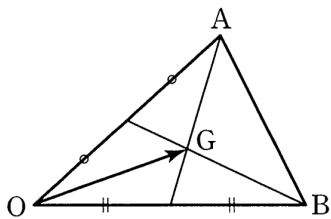
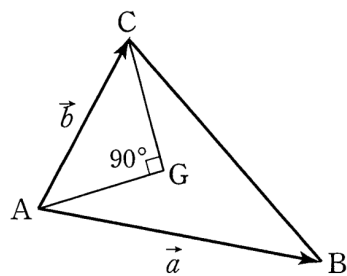
$$\begin{aligned} \therefore \overrightarrow{GA} \perp \overrightarrow{CG} &= \frac{1}{9}(\vec{a} + \vec{b}) \cdot (\vec{a} - 2\vec{b}) \\ &= \frac{1}{9}(\vec{a} \cdot \vec{a} - 2\vec{a} \cdot \vec{b} + \vec{b} \cdot \vec{a} - 2\vec{b} \cdot \vec{b}) \\ &= \frac{1}{9}(|\vec{a}|^2 - |\vec{a}||\vec{b}|\cos\theta - 2|\vec{b}|^2) \\ &= \frac{1}{9}(3^2 - 3 \cdot 2 \cdot \cos\theta - 2 \cdot 2^2) \\ &= \frac{1}{9}(1 - 6\cos\theta) = 0 \end{aligned}$$

$$\therefore \cos\theta = \frac{1}{6}$$

참고

$\triangle OAB$ 의 무게중심을 G 라 하면

$$\begin{aligned} \overrightarrow{OG} &= \frac{2 \times \frac{1}{2} \overrightarrow{OB} + 1 \times \overrightarrow{OA}}{2 + 1} \\ &= \frac{1}{3}(\overrightarrow{OA} + \overrightarrow{OB}) \end{aligned}$$



157. 답 ㉒

$$\begin{aligned} [\text{해설}] \vec{x} \cdot \vec{y} &= (t+1)(t^2 + kt + 1) + t^2(-t - k) \\ &= t^2 + (k+1)t + 1 \end{aligned}$$

에서 $f(t) = t^2 + (k+1)t + 1$ 로 놓으면

ㄱ. $t = 0$ 이면 $f(0) = 1 \neq 0$ 이므로 모든 실수 t 에 대하여 \vec{x}, \vec{y} 가 수

직이되게 하는 k 가 무수히 존재한다고 할 수 없다. (거짓)

ㄴ. \vec{x}, \vec{y} 가 수직일 때, $f(t) = t^2 + (k+1)t + 1 = 0$ 이 되는 실수 t 가 존재하려면 이차방정식 $f(t) = 0$ 이 실근을 가져야 하므로

$$D = (k+1)^2 - 4 \geq 0 \text{에서 } k \leq -3 \text{ 또는 } k \geq 1$$

따라서 k 가 임의의 자연수일 때, \vec{x}, \vec{y} 가 수직이 되는 실수 t 가 항상 존재한다. (참)

ㄷ. 모든 실수 t 에 대하여 \vec{x}, \vec{y} 가 항상 수직이 되지 않으려면 항상 $f(t) > 0$ 이어야 하므로

$$D = (k+1)^2 - 4 < 0 \text{에서 } -3 < k < 1$$

따라서 정수 k 는 $-2, -1, 0$ 의 3개다. (참)

그러므로 보기에서 옳은 것은 ㄴ, ㄷ이다.

- | | | | |
|----------|-----------|-----------|----------|
| 1. 답 ⑤ | 2. 답 7 | 3. 답 ② | 4. 답 ② |
| 5. 답 ② | 6. 답 ② | 7. 답 ③ | 8. 답 150 |
| 9. 답 ① | 10. 답 ⑤ | 11. 답 11 | 12. 답 ② |
| 13. 답 ⑤ | 14. 답 12 | 15. 답 ② | 16. 답 ② |
| 17. 답 ② | 18. 답 ④ | 19. 답 ② | 20. 답 ② |
| 21. 답 ② | 22. 답 ② | 23. 답 ③ | 24. 답 ③ |
| 25. 답 ③ | 26. 답 ① | 27. 답 ② | 28. 답 ④ |
| 29. 답 ④ | 30. 답 ① | 31. 답 ② | 32. 답 ① |
| 33. 답 ③ | 34. 답 ② | 35. 답 ⑤ | 36. 답 ① |
| 37. 답 40 | 38. 답 ② | 39. 답 ② | 40. 답 13 |
| 41. 답 ⑤ | 42. 답 216 | 43. 답 ① | 44. 답 19 |
| 45. 답 20 | 46. 답 ③ | 47. 답 135 | 48. 답 ① |
| 49. 답 ② | 50. 답 ① | 51. 답 ② | 52. 답 ② |
| 53. 답 ⑤ | 54. 답 ③ | 55. 답 ② | 56. 답 ③ |
| 57. 답 ③ | 58. 답 ④ | 59. 답 ③ | 60. 답 ④ |
| 61. 답 ③ | 62. 답 ④ | 63. 답 ① | 64. 답 ③ |
| 65. 답 18 | 66. 답 ④ | 67. 답 ① | 68. 답 15 |
| 69. 답 ② | 70. 답 ① | 71. 답 ③ | 72. 답 96 |
| 73. 답 3 | 74. 답 ② | 75. 답 24 | 76. 답 11 |
| 77. 답 ⑤ | 78. 답 ③ | 79. 답 16 | 80. 답 ③ |
| 81. 답 ③ | 82. 답 ⑤ | 83. 답 ② | 84. 답 ③ |
| 85. 답 ① | | | |

1. 답 ⑤

[해설] $2x = \frac{y-1}{2} = -z-3 \Leftrightarrow x = \frac{y-1}{4} = \frac{z+3}{-2}$
 이므로 구하는 직선은 점 $(-1, 2, 3)$ 을 지나고 방향벡터가 $(1, 4, -2)$ 인 직선이다.
 따라서 이 직선의 방정식은

$$x+1 = \frac{y-2}{4} = \frac{z-3}{-2}$$

이 직선의 방정식에 $x=1$ 을 대입하면

$$1+1 = \frac{y-2}{4} = \frac{z-3}{-2}$$

$$\therefore y=10, z=-1$$

$$\therefore a+b=10-1=9$$

2. 답 7

[해설] 직선 $\frac{x+2}{2} = \frac{y+1}{k} = \frac{z-3}{3}$ 과 z 축의 교점의 좌표를

$(0, 0, \beta)$ 로 놓고 주어진 직선의 방정식에 대입하면

$$\frac{0+2}{2} = \frac{0+1}{k} = \frac{\beta-3}{3}$$

$$\therefore k=\alpha=1, \beta=6$$

$$\therefore \alpha+\beta=7$$

3. 답 ②

[해설] 직선이 x 축, y 축, z 축의 양의 방향과 각각 $45^\circ, 60^\circ, 120^\circ$ 를 이루므로 방향벡터는

$$(\cos 45^\circ, \cos 60^\circ, \cos 120^\circ) = \left(\frac{\sqrt{2}}{2}, \frac{1}{2}, -\frac{1}{2} \right)$$

구하는 직선은 점 $(0, 1, -2)$ 를 지나고, 방향벡터가 $(\sqrt{2}, 1, -1)$ 이므로 직선의 방정식은

$$\frac{x}{\sqrt{2}} = \frac{y-1}{1} = \frac{z+2}{-1}$$

$x = \sqrt{2}, y = a, z = b$ 를 대입하면

$$1 = a-1 = -b-2$$

$$\therefore a=2, b=-3 \quad \therefore a+b=-1$$

4. 답 ②

[해설] $\vec{OG} = \frac{1}{3}(\vec{a} + \vec{b})$ 이고 $\vec{AC} = \vec{c} - \vec{a}$ 이므로 구하는 직선의 방정

$$\text{식은 } \vec{x} = \frac{1}{3}(\vec{a} + \vec{b}) + t(\vec{c} - \vec{a})$$

5. 답 ②

$$\begin{aligned} \text{[해설]} \quad \vec{AC} &= \vec{AB} + \vec{BC} = \vec{AB} - \vec{CB} \\ &= (1, 2, 3) - (1, 0, -1) \\ &= (0, 2, 4) \end{aligned}$$

이므로 직선의 방향벡터는

$$\vec{d} = (0, 2, 4)$$

이때, 이 직선이 점 $D(2, 1, 3)$ 을 지나므로 구하는 직선의 방정식은

$$x=2, \frac{y-1}{2} = \frac{z-3}{4}$$

이 직선이 zx 평면과 만나는 점은 $y=0$ 이므로 대입하면

$$x=2, \frac{0-1}{2} = \frac{z-3}{4}$$

$$\therefore x=2, y=0, z=1$$

따라서 구하는 점의 좌표는 $(2, 0, 1)$ 이다.

6. 답 ②

점 $(1, -2, 3)$ 에서 y 축에 내린 수선의 발의 좌표는 $(0, -2, 0)$ 이므로 직선 l 이 y 축과 만나는 점의 좌표는 $(0, -2, 0)$ 이다.

따라서 직선 l 은 두 점 $(1, -2, 3), (0, -2, 0)$ 을 지나는 직선이므로 직선 l 의

$$\text{방정식은 } \frac{x-0}{1-0} = \frac{z-0}{3-0}, y=-2$$

$$\therefore z=3x, y=-2$$

7. 답 ③

$$\begin{aligned} \text{[해설]} \quad \vec{CE} &= \vec{OE} - \vec{OC} = \vec{OE} - \vec{DG} \\ &= (1, 2, 3) - (-1, 1, 2) \\ &= (2, 1, 1) \end{aligned}$$

또, 점 E 의 좌표는 $(1, 2, 3)$ 이므로 구하는 직선 CE 의 방정식은

$$\frac{x-1}{2} = y-2 = z-3$$

$x=3$ 일 때, $y=3, z=4$ 이므로

$$a+b=3+4=7$$

8. 답 150

[해설] 두 점 $A(2, 1, 3), B(-1, 3, -1)$ 의 yz 평면에 대한 대칭점을 각각 A', B' 이라 하면

$$A'(-2, 1, 3), B'(1, 3, -1)$$

이때, 직선 l 과 yz 평면에 대하여 대칭인 직선은 두 점 A', B' 을 지나므로
 그 직선의 방정식은

$$\frac{x+2}{1+2} = \frac{y-1}{3-1} = \frac{z-3}{-1-3}$$

$\therefore \frac{x+2}{3} = \frac{y-1}{2} = \frac{z-3}{-4}$ 이 zx 평면과 만나는 점의 y 좌표는 0이므로

$$\frac{x+2}{3} = \frac{0-1}{2} = \frac{z-3}{-4}$$

$$\therefore x = -\frac{7}{2}, z = 5$$

따라서 $a = -\frac{7}{2}, b = 0, c = 5$ 이므로

$$100(a+b+c) = 100\left(-\frac{7}{2} + 0 + 5\right) = 150$$

9. 답 ①

[해설] $\overrightarrow{AB} = \overrightarrow{OB} - \overrightarrow{OA} = (1, 2, 3) - (2, -2, 4) = (-1, 4, -1)$

\overrightarrow{OA} 의 중점의 좌표는

$$\left(\frac{2}{2}, \frac{-2}{2}, \frac{4}{2}\right)$$

$$\therefore (1, -1, 2)$$

그러므로 구하는 직선의 방정식은

$$\frac{x-1}{-1} = \frac{y+1}{4} = \frac{z-2}{-1}$$

이때, 이 직선이 점 $(2, a, b)$ 를 지나므로 대입하면

$$\frac{2-1}{-1} = \frac{a+1}{4} = \frac{b-2}{-1}$$

$$\therefore a = -5, b = 3$$

$$\therefore a+b = -2$$

10. 답 ⑤

[해설] $\neg. F(2, 2, 2)$ 이므로 \overrightarrow{OF} 의 중점은 $M(1, 1, 1)$

또, $\overrightarrow{OF} \perp \pi$ 이므로 평면 π 는 점 M 을 지나고 \overrightarrow{OM} 에 수직이다.

$$\therefore 1 \cdot (x-1) + 1 \cdot (y-1) + 1 \cdot (z-1) = 0$$

$$\therefore x+y+z = 3 \quad \text{--- ① (참)}$$

$\neg.$ 직선 AE 의 방정식은 $x=2, y=0$ 이므로 이것을 ①에 대입하면 $z=1$

따라서 \overline{AE} 와 π 의 교점은 $H(2, 0, 1)$

그런데 $A(2, 0, 0), E(2, 0, 2)$ 이므로 점 H 는 \overline{AE} 의 중점이다. (참)

$\neg.$ 같은 방법으로 하면 평면 π 는 $\overline{AB}, \overline{BC}, \overline{CG}, \overline{DE}, \overline{GD}$ 와 각각 중점에서 만난다.

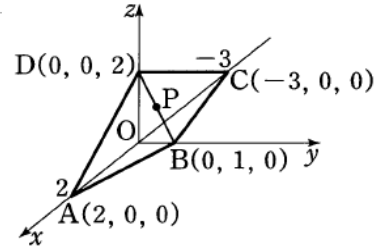
따라서 이들 6개의 중점을 연결하는 도형은 정육각형이다. (참)

그러므로 보기에서 옳은 것은 \neg, \neg, \neg 이다.

11. 답 11

[해설] 직선 BD 의 방정식은

$$\frac{y-1}{-1} = \frac{z}{2}, x=0$$



직선 위의 임의의 점 P 의 좌표를 $P(0, 1-t, 2t)$ 로 놓으면

$$\overline{PA}^2 + \overline{PC}^2$$

$$= (-2)^2 + (1-t)^2 + (2t)^2 + 3^2 + (1-t)^2 + (2t)^2$$

$$= 10t^2 - 4t + 15$$

$$= 10\left(t - \frac{1}{5}\right)^2 + \frac{73}{5}$$

$t = \frac{1}{5}$ 일 때, $\overline{PA}^2 + \overline{PC}^2$ 의 값은 최소이고, 그 때의 점 P 의

좌표는 $\left(0, \frac{4}{5}, \frac{2}{5}\right)$ 이다.

$$\therefore a+b+c = 0 + \frac{4}{5} + \frac{2}{5} = \frac{6}{5}$$

$$\therefore p+q = 5 + 6 = 11$$

12. 답 ②

[해설] $x = \frac{y}{2} = \frac{z}{3} = t, x-1 = \frac{y-1}{3} = \frac{z-2}{4} = s$ 로 놓으면

두 직선 위의 점은 각각

$(t, 2t, 3t), (s+1, 3s+1, 4s+2)$ 이므로

$$t = s+1, 2t = 3s+1, 3t = 4s+2$$

$$\therefore t = 2, s = 1$$

따라서 교점의 좌표는 $(2, 4, 6)$ 이므로

$$a+b+c = 12$$

13. 답 ⑤

[해설] $x-4 = \frac{y}{2} = z+1 = t$ (t 는 실수)라 하면

직선 $x-4 = \frac{y}{2} = z+1$ 위의 임의의 점 (x, y, z) 는

$$x = t+4, y = 2t, z = t-1$$

을 만족한다.

따라서 (x, y, z) 가 주어진 구 위에 있다고 하면

$$(t+4)^2 + (2t)^2 + (t-1)^2 = 17$$

$$6t^2 + 6t = 0$$

$$\therefore t = 0 \text{ 또는 } t = -1$$

이때, 두 교점의 좌표는 각각 $(4, 0, -1), (3, -2, -2)$ 이므로 구하는 중점의 좌표는

$$\left(\frac{4+3}{2}, \frac{0-2}{2}, \frac{-1-2}{2}\right), \text{ 즉 } \left(\frac{7}{2}, -1, -\frac{3}{2}\right)$$

$$\therefore a+b+c = \frac{7}{2} - 1 - \frac{3}{2} = 1$$

14. 답 12

[해설] 구하는 구의 지름의 길이는 두 직선 $x=2y=-2z+8,$

$$\frac{x+2}{2} = y-2 = 2-z \text{ 사이의 거리와 같다.}$$

그런데 두 직선 $x = 2y = -2z + 8$, $\frac{x+2}{2} = y-2 = 2-z$ 의 방향벡터는 각각 $(1, \frac{1}{2}, -\frac{1}{2})$, $(2, 1, -1)$ 이므로 서로 평행하다.

즉, 두 직선이 평행하므로 직선 $x = 2y = -2z + 8$ 위의 점 $A(0, 0, 4)$ 에서 직선 $\frac{x+2}{2} = y-2 = 2-z$ 에 내린 수선의 발을 H 라 하면 선분 AH 의 길이가 두 직선 사이의 거리이다.

$$\frac{x+2}{2} = y-2 = 2-z = t \quad (t \text{는 실수}) \text{로 놓으면}$$

$$x = 2t-2, y = t+2, z = -t+2$$

이므로 $H(2t-2, t+2, -t+2)$ 로 놓을 수 있다.

이때, 이 직선의 방향벡터 $\vec{u} = (2, 1, -1)$ 과 $\vec{AH} = (2t-2, t+2, -t-2)$ 는 수직이어야 하므로

$$\vec{u} \cdot \vec{AH} = (2, 1, -1) \cdot (2t-2, t+2, -t-2) = 4t-4+t+2-t-2 = 0$$

$$\therefore t = 0$$

즉, $\vec{AH} = (-2, 2, -2)$ 이므로

$$|\vec{AH}| = \sqrt{(-2)^2 + 2^2 + (-2)^2} = \sqrt{12} = 2\sqrt{3}$$

따라서 구하는 구의 반지름의 길이의 최솟값은

$$\frac{1}{2} \times 2\sqrt{3} = \sqrt{3}$$

이므로 구하는 구의 겹넓이의 최솟값은

$$S = 4\pi \times (\sqrt{3})^2 = 12\pi$$

$$\therefore \frac{S}{\pi} = 12$$

15. 답 ㉔

[해설] 직선 $\frac{x-2}{2} = -y = \frac{z-2}{2}$ 가 y 축의 양의 방향과 이루는 예각의 크기는 이 직선의 방향벡터 $\vec{u} = (2, -1, 2)$ 와 y 축이 이루는 예각의 크기와 같다.

이때, y 축의 방향벡터는 $\vec{y} = (0, 1, 0)$ 이므로

$$\cos\theta = \frac{|2 \cdot 0 - 1 \cdot 1 + 2 \cdot 0|}{\sqrt{2^2 + (-1)^2 + 2^2} \sqrt{0^2 + 1^2 + 0^2}} = \frac{1}{3}$$

16. 답 ㉔

두 직선 $x-2 = \frac{y+3}{k} = z+3$, $\frac{x}{k} = y = 3-z$ 의 방향벡터는 각각 $\vec{a} = (1, k, 1)$, $\vec{b} = (k, 1, -1)$ 이므로

$$\cos\frac{\pi}{3} = \frac{|\vec{a} \cdot \vec{b}|}{|\vec{a}||\vec{b}|} = \frac{|k+k-1|}{\sqrt{k^2+2} \sqrt{k^2+2}} = \frac{|2k-1|}{k^2+2} = \frac{1}{2}$$

(i) $k \geq \frac{1}{2}$ 일 때, $\frac{2k-1}{k^2+2} = \frac{1}{2}$ 이므로

$$4k-2 = k^2+2, k^2-4k+4 = (k-2)^2 = 0$$

$$\therefore k = 2$$

(ii) $k < \frac{1}{2}$ 일 때, $\frac{-2k+1}{k^2+2} = \frac{1}{2}$ 이므로

$$-4k+2 = k^2+2, k^2+4k = k(k+4) = 0$$

$$\therefore k = -4 \quad (\because k \neq 0)$$

(i), (ii)에서 구하는 모든 실수 k 의 값의 합은

$$2-4 = -2$$

17. 답 ㉔

[해설] 직선 $4x = 3y, z = 1$ 은 $\frac{x}{3} = \frac{y}{4}, z = 1$ 이므로 이 직선의 방향벡터

$$\vec{d}_1 \text{은 } \vec{d}_1 = (3, 4, 0)$$

또, 직선 $1-x = \frac{y}{2} = \frac{z-3}{2}$ 은 $\frac{x-1}{-1} = \frac{y}{2} = \frac{z-3}{2}$ 이므로

이 직선의 방향벡터 \vec{d}_2 는 $\vec{d}_2 = (-1, 2, 2)$

$$\therefore \cos\theta = \frac{|\vec{d}_1 \cdot \vec{d}_2|}{|\vec{d}_1||\vec{d}_2|} = \frac{|3 \cdot (-1) + 4 \cdot 2 + 0 \cdot 2|}{\sqrt{3^2+4^2} \sqrt{(-1)^2+2^2+2^2}}$$

18. 답 ㉔

[해설] 두 직선 l, m 의 방향벡터는 평행하므로 $l \parallel m$ 이다.

$\triangle ABC$ 에서 \overline{AB} 를 밑변이라 하면 높이 h 는 두 직선 l, m 사이의 거리는 항상 일정하다. 직선 m 위의 한 점 $O(0, 0, 0)$ 에서 직선 l 에 내린 수선의 발을 H 라 하면

$$\frac{x+2}{2} = y-2 = \frac{z-4}{-1} = t$$

에서 $H(2t-2, t+2, -t+4)$

\vec{OH} 와 직선 l 이 수직이므로 l 의 방향벡터를 \vec{d} 라 하면

$$\vec{OH} \cdot \vec{d} = 2(2t-2) + (t+2) - (-t+4) = 0$$

$$\therefore t = 1$$

따라서 $H(0, 3, 3)$ 이므로

$$h = \overline{OH} = 3\sqrt{2}$$

$$\therefore \triangle ABC = \frac{1}{2} \overline{AB} \cdot h = 6\sqrt{2}$$

19. 답 ㉔

$x-1 = \frac{y+1}{2} = -z+1 = t$ (t 는 실수)로 놓으면

$$x = t+1, y = 2t-1, z = -t+1$$

이므로

$H(t+1, 2t-1, -t+1)$ 이라

한편, 주어진 직선의 방향벡터

$$\vec{u} = (1, 2, -1) \text{이고}$$

$\vec{OH} \perp \vec{u}$ 이므로

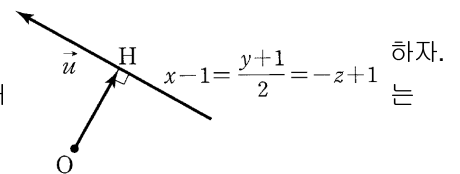
$$\vec{OH} \cdot \vec{u} = (t+1, 2t-1, -t+1) \cdot (1, 2, -1) = 0$$

$$t+1+2(2t-1)-(-t+1) = 6t-2 = 0$$

$$\therefore t = \frac{1}{3}$$

이때, $H(\frac{4}{3}, -\frac{1}{3}, \frac{2}{3})$ 이므로

$$\overline{OH} = \sqrt{\frac{16}{9} + \frac{1}{9} + \frac{4}{9}} = \frac{\sqrt{21}}{3}$$



20. 답 ㉔

[해설] $\overline{AH_1} \perp \alpha$ 이고 $\overline{H_1H_2} \perp l$ 이므로 삼수선의 정리에 의해

$$\overline{AH_2} \perp l \quad \dots \text{㉔}$$

이때, $H_2(x, y, z)$ 로 놓으면 $x = y = -\frac{z}{2} = t$ 에서

$$x = t, y = t, z = -2t$$

$$\therefore \overline{AH_2} = (t-1, t-2, -2t-3)$$

또, 직선 l 의 방향벡터는

$$\vec{d} = (1, 1, -2)$$

그러므로 ㉠에서

$$\begin{aligned} \overrightarrow{AH_2} \cdot \vec{d} &= (t-1, t-2, -2t-3) \cdot (1, 1, -2) \\ &= (t-1) + (t-2) + (4t+6) \\ &= 6t+3 = 0 \end{aligned}$$

$$\therefore t = -\frac{1}{2}$$

그러므로

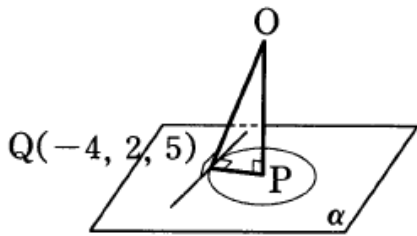
$$\overrightarrow{AH_2} = |\overrightarrow{AH_2}| = \left| \left(-\frac{3}{2}, -\frac{5}{2}, -2 \right) \right| = \sqrt{\left(-\frac{3}{2} \right)^2 + \left(-\frac{5}{2} \right)^2 + (-2)^2}$$

$$= \frac{5\sqrt{2}}{2}$$

$$\begin{aligned} \therefore H_1H_2 &= \sqrt{AH_2^2 - AH_1^2} \\ &= \sqrt{\left(\frac{5\sqrt{2}}{2} \right)^2 - 3^2} \\ &= \frac{\sqrt{14}}{2} \end{aligned}$$

21. 답 ㉡

[해설]



평면 α 의 법선벡터가 $\vec{h} = (1, -2, -2)$

$$\text{이므로 } \overrightarrow{OP} = t\vec{h} = (t, -2t, -2t)$$

점 P 가 평면 α 위의 점이므로

$$t - 2 \cdot (-2t) - 2 \cdot (-2t) + 18 = 0$$

$$9t + 18 = 0 \quad \therefore t = -2$$

$$\therefore P(-2, 4, 4)$$

한편, $\overrightarrow{PQ} \perp$ (접선)에서 $\overrightarrow{PQ} = (-2, -2, 1)$ 이고,

접선의 방향벡터가 $\vec{d} = \left(1, \frac{1}{a}, \frac{1}{b} \right)$ 이므로

$$\overrightarrow{PQ} \cdot \vec{d} = (-2, -2, 1) \cdot \left(1, \frac{1}{a}, \frac{1}{b} \right)$$

$$= -2 - \frac{2}{a} + \frac{1}{b} = 0 \quad \dots\dots \text{㉠}$$

또, $\overrightarrow{OP} \perp \alpha$, $\overrightarrow{PQ} \perp$ (접선)이므로 삼수선의 정리에 의하여

$$\overrightarrow{OQ} \perp$$
 (접선)

그러므로

$$\overrightarrow{OQ} \cdot \vec{d} = (-4, 2, 5) \cdot \left(1, \frac{1}{a}, \frac{1}{b} \right)$$

$$= -4 + \frac{2}{a} + \frac{5}{b} = 0 \quad \dots\dots \text{㉡}$$

㉠과 ㉡을 연립하여 풀면

$$a = -2, b = 1$$

$$\therefore a^2 + b^2 = 5$$

22. 답 ㉡

[해설] 구의 중심이 원점 O 이므로

$$\overrightarrow{OP} = (1, 2, 3)$$

따라서 이 평면은 점 $P(1, 2, 3)$ 을 지나므로 구하는 평면의 방정식은

$$1 \cdot (x-1) + 2 \cdot (y-2) + 3 \cdot (z-3) = 0$$

$$\therefore x + 2y + 3z = 14$$

23. 답 ㉢

[해설] 주어진 두 직선의 방향벡터는 각각 $(1, 1, 2), (2, -1, 1)$ 이고,

이 두 직선과 모두 수직인 직선의 방향벡터는 $(1, p, q)$ 이므로

$$(1, 1, 2) \cdot (1, p, q) = 1 + p + 2q = 0 \quad \dots \text{㉠}$$

$$(2, -1, 1) \cdot (1, p, q) = 2 - p + q = 0 \quad \dots \text{㉡}$$

㉠+㉡을 하면

$$3 + 3q = 0 \quad \therefore q = -1$$

이것을 ㉠에 대입하면

$$1 + p - 2 = 0 \quad \therefore p = 1$$

이때, 직선 $x = y - a = \frac{z-b}{-1}$ 가 점 $(2, 1, -1)$ 을 지나므로

$$2 = 1 - a = \frac{-1-b}{-1}$$

$$\therefore a = -1, b = 1$$

$$\therefore a + b + p + q = -1 + 1 + 1 - 1 = 0$$

24. 답 ㉢

점 $(p, 0, -1)$ 이 구 $x^2 + (y-1)^2 + (z+2)^2 = 3$ 위의 점이므로

$$p^2 + (0-1)^2 + (-1+2)^2 = 3, p^2 = 1$$

$$\therefore p = 1 (\because p > 0)$$

이때, 접하는 평면은 구의 중심 $(0, 1, -2)$ 와 접점 $(1, 0, -1)$ 을 지나는 직선에 수직이므로 이 평면의 법선벡터는

$$(1, 0, -1) - (0, 1, -2) = (1, -1, 1)$$

따라서 구하는 평면의 방정식은

$$1(x-1) - 1(y-0) + 1(z+1) = 0$$

$$\therefore x - y + z = 0$$

$$\therefore a + b + c = -1 + 1 + 0 = 0$$

25. 답 ㉢

[해설] 선분 AB 의 중점 M 의 좌표는

$$\left(\frac{1-3}{2}, \frac{2-2}{2}, \frac{3+1}{2} \right), \text{ 즉 } (-1, 0, 2)$$

이 때

$$\overrightarrow{AB} = (-3, -2, 1) - (1, 2, 3) = (-4, -4, -2)$$

이므로 평면은 점 $(-1, 0, 2)$ 를 지나고 법선벡터가

$(-4, -4, -2)$ 이다.

따라서 평면의 방정식은

$$-4(x+1) - 4(y-0) - 2(z-2) = 0$$

$$-4x - 4y - 2z = 0$$

$$\therefore 2x + 2y + z = 0$$

이 평면의 방정식에 $y = z = 0$ 을 대입하면

$$x = 0$$

따라서 구하는 x 좌표는 0이다.

26. 답 ①

[해설] 점 $(\alpha, \beta, 6)$ 이 구 $(x-1)^2 + (y-2)^2 + (z-3)^2 = 9$ 위의 점이므로

$$\begin{aligned} (\alpha-1)^2 + (\beta-2)^2 + (6-3)^2 &= 9 \\ (\alpha-1)^2 + (\beta-2)^2 &= 0 \\ \therefore \alpha &= 1, \beta = 2 \end{aligned}$$

이 때, 구하는 평면은 구의 중심 $(1, 2, 3)$ 과 점 $(1, 2, 6)$ 을 지나 는 직선에 수직이므로 이 평면의 법선벡터는

$$\begin{aligned} (1, 2, 3) - (1, 2, 6) &= (0, 0, -3) \\ \text{따라서 구하는 평면의 방정식은} \\ 0 \cdot (x-1) + 0 \cdot (y-2) - 3(z-6) &= 0 \\ \therefore z-6 &= 0 \\ \therefore a+b+c &= 0+0-6 = -6 \end{aligned}$$

27. 답 ②

[해설] $x = \frac{y-1}{2} = \frac{z-4}{3} = t$ 로 놓으면

$$\begin{aligned} x=t, y=2t+1, z=3t+4 \\ \text{이므로 이 직선 위의 임의의 점의 좌표는 } (t, 2t+1, 3t+4) \\ \text{이 직선의 방향벡터는 } \vec{d}=(1, 2, 3) \text{이므로 } \vec{OH} \cdot \vec{d}=0 \text{에서} \\ \vec{OH} \cdot \vec{d}=(t, 2t+1, 3t+4) \cdot (1, 2, 3) \\ =t+(4t+2)+(9t+12)=0 \\ \therefore t &= -1 \\ \text{따라서 점 } H \text{의 좌표는 } (-1, -1, 1) \text{이므로} \\ a+b+c &= -1 \end{aligned}$$

28. 답 ④

[해설] $1-x=2y+1=\frac{1}{3}z+4$ 에서

$$\frac{x-1}{-1} = \frac{y+\frac{1}{2}}{\frac{1}{2}} = \frac{z+12}{3}$$

이 때, 구하는 평면은 이 직선과 수직이므로 평면의 법선벡터 \vec{h} 는 이 직선의 방향벡터와 같다. 그러므로

$$\vec{h} = \left(-1, \frac{1}{2}, 3\right)$$

또, 점 $A(1, 0, -2)$ 를 지나므로 구하는 평면의 방정식은

$$(-1)(x-1) + \frac{1}{2}(y-0) + 3(z+2) = 0$$

따라서 x 축과 만나는 점은 y 좌표와 z 좌표가 0이므로 대입하면

$$(-1)(x-1) + \frac{1}{2}(0-0) + 3(0+2) = 0$$

$$\therefore x = 7$$

29. 답 ④

[해설] 삼각형 BCD 의 무게중심을 G 라 하면

$$\vec{OB} + \vec{OC} + \vec{OD} = (3, 0, -3) \text{에서}$$

$$\vec{OG} = \frac{1}{3}(\vec{OB} + \vec{OC} + \vec{OD}) = (1, 0, -1)$$

한편, \vec{AG} 는 밑면 BCD 와 수직이므로 구하는 평면의 법선벡터 \vec{h} 는 $\vec{h} = \vec{AG} = \vec{OG} - \vec{OA} = (1, 0, -1) - (2, 1, -3) = (-1, -1, 2)$

또, 이 평면은 점 $G(1, 0, -1)$ 을 지나므로 구하는 평면의 방정식은

$$\begin{aligned} (-1) \cdot (x-1) + (-1) \cdot (y-0) + 2 \cdot (z+1) &= 0 \\ -x-y+2z+3 &= 0 \\ x+y-2z-3 &= 0 \\ \therefore a^2+b^2+c^2 &= 1+4+9 = 14 \end{aligned}$$

30. 답 ①

[해설] 점 A 에서 평면 α 에 내린 수선의 발을 $H(x, y, z)$ 라 하면 평면의 법선벡터 $\vec{h}=(1, 2, 1)$ 에 대하여

$$\begin{aligned} \vec{AH} &= t\vec{h} \\ \text{이므로} \\ (x-1, y, z-2) &= t(1, 2, 1) \\ \therefore x &= t+1, y=2t, z=t+2 \end{aligned}$$

점 $H(t+1, 2t, t+2)$ 가 평면 α 위에 있으므로 대입하면

$$\begin{aligned} (t+1) + 4t + (t+2) &= 0 \\ \therefore t &= -\frac{1}{2} \end{aligned}$$

이 때, $\vec{AH} = \left(-\frac{1}{2}, -1, -\frac{1}{2}\right)$ 이므로

$$\begin{aligned} \vec{OB} &= \vec{OA} + 3\vec{AH} \\ &= (1, 0, 2) + 3\left(-\frac{1}{2}, -1, -\frac{1}{2}\right) \\ &= \left(-\frac{1}{2}, -3, \frac{1}{2}\right) \end{aligned}$$

$$\therefore a+b+c = \left(-\frac{1}{2}\right) + (-3) + \frac{1}{2} = -3$$

31. 답 ②

[해설] 구하는 평면의 방정식을 $ax+by+cz+d=0$ 으로 놓으면

$$\text{점 } A(2, 0, 0) \text{ 을 지나므로 } 2a+0+0+d=0 \quad \therefore a=-\frac{d}{2}$$

$$\text{점 } B(0, 3, 0) \text{ 을 지나므로 } 0+3b+0+d=0 \quad \therefore b=-\frac{d}{3}$$

$$\text{점 } C(0, 0, -3) \text{ 을 지나므로 } 0+0-3c+d=0 \quad \therefore c=\frac{d}{3}$$

따라서 구하는 평면의 방정식은

$$-\frac{d}{2}x - \frac{d}{3}y + \frac{d}{3}z + d = 0$$

이 때 $d=0$ 이면 $a=b=c=0$ 이므로 모순이다.

따라서 $d \neq 0$ 이므로

$$-\frac{1}{2}x - \frac{1}{3}y + \frac{1}{3}z + 1 = 0$$

$$\therefore \frac{1}{2}x + \frac{1}{3}y - \frac{1}{3}z = 1$$

이 평면이 점 (p, p, p) 를 지나므로

$$\frac{1}{2}p + \frac{1}{3}p - \frac{1}{3}p = 1$$

$$\therefore p = 2$$

32. 답 ①

[해설] 평면의 방정식을 $ax+by+cz+d=0$ 으로 놓으면 이 평면 위에 세 점 $A(1, 0, 0), B(0, 2, 0), C(0, 0, 3)$ 이 있으므로 대입하면

$$a+d=0$$

$$2b + d = 0$$

$$3c + d = 0$$

$$\therefore a = -d, b = -\frac{1}{2}d, c = -\frac{1}{3}d$$

그러므로

$$-dx - \frac{1}{2}dy - \frac{1}{3}dz + d = 0$$

$$\therefore 6x + 3y + 2z - 6 = 0$$

이 평면 위에 점 $D(k, k-1, k-1)$ 이 있으므로 대입하면

$$6k + 3(k-1) + 2(k-1) - 6 = 0$$

$$\therefore k = 1$$

33. 답 ㉓

[해설] 두 평면 $x + y + z + 1 = 0 \dots \textcircled{1}$

$$x - y - 2z - 3 = 0 \dots \textcircled{2}$$

에서 $\textcircled{1} + \textcircled{2}$ 을 하면

$$2x - z - 2 = 0$$

$$\therefore x = \frac{z+2}{2}$$

$2 \times \textcircled{1} + \textcircled{2}$ 을 하면

$$3x + y - 1 = 0$$

$$\therefore x = \frac{-y+1}{3}$$

그러므로 두 평면의 교선 l 의 방정식은

$$x = \frac{-y+1}{3} = \frac{z+2}{2}$$

교선 l 과 원점을 포함한 교선 l 위의 두 점 $(0, 1, -2)$, $(1, -2, 0)$ 과 원점 $(0, 0, 0)$ 을 지나므로 평면의 방정식의 일반형 $ax + by + cz + d = 0$ 에 대입하여 풀면 구하는 평면의 방정식은 $4x + 2y + z = 0 \dots \textcircled{3}$

ㄱ. 점 $(1, 0, 0)$ 을 $\textcircled{3}$ 에 대입하면 성립하므로 $\textcircled{3}$ 은 이 점을 포함한다. (참)

ㄴ. 두 점 $(0, 0, 0)$, $(1, 1, 2)$ 를 $\textcircled{3}$ 에 대입하면

$$4 \times 0 + 2 \times 0 + 0 = 0$$

$$4 \times 1 + 2 \times 1 + 2 = 8 \neq 0$$

이므로 두 점 $(0, 0, 0)$, $(1, 1, 2)$ 를 지나는 직선은 $\textcircled{3}$ 에 포함되지 않는다. (거짓)

ㄷ. 직선 $x = -y = \frac{z}{-2}$ 위의 서로 다른 두 점을 $\textcircled{3}$ 에 대입하여

만족하면 주어진 직선은 $\textcircled{3}$ 에 포함된다.

직선 $x = -y = \frac{z}{-2}$ 위의 서로 다른 두 점 $(0, 0, 0)$,

$(1, -1, -2)$ 를 $\textcircled{3}$ 에 대입하면

$$4 \times 0 + 2 \times 0 + 0 = 0, 4 \times 1 + 2 \times (-1) + (-2) = 0 \text{ 이므로}$$

직선 $x = -y = \frac{z}{-2}$ 는 평면 $\textcircled{3}$ 에 포함된다. (참)

따라서, 옳은 것은 ㄱ, ㄷ이다.

34. 답 ㉔

[해설] 점 P 의 좌표를 $(3, t, 1)$ (t 는 실수)로 놓으면

$$\overline{OP} = \sqrt{3^2 + t^2 + 1^2} = \sqrt{t^2 + 10}$$

이므로 $t = 0$ 일 때, \overline{OP} 의 최솟값은 $\sqrt{10}$ 이다

35. 답 ㉕

[해설] $x + y - z + 1 = 0 \dots \textcircled{1}$

$$2x - y - z + 3 = 0 \dots \textcircled{2}$$

$\textcircled{1} + \textcircled{2}$ 을 하면 $3x - 2z + 4 = 0$ 이므로

$$x = \frac{2z-4}{3} \dots \textcircled{3}$$

$\textcircled{1} - \textcircled{2}$ 을 하면 $-x + 2y - 2 = 0$ 이므로

$$x = 2y - 2 \dots \textcircled{4}$$

$\textcircled{3}$ 과 $\textcircled{4}$ 에서

$$x = 2y - 2 = \frac{2z-4}{3}$$

이 직선이 점 $(1, a, b)$ 를 지나므로 대입하면

$$1 = 2a - 2 = \frac{2b-4}{3}$$

$$\therefore a = \frac{3}{2}, b = \frac{7}{2}$$

$$\therefore ab = \frac{21}{4}$$

36. 답 ㉑

[해설] 교선 $x + 3 = \frac{y-a}{b} = \frac{z-c}{d}$ 는 점 $(-3, a, c)$ 를 지나고 방향벡터가 $(1, b, d)$ 인 직선이다.

(i) 점 $(-3, a, c)$ 가 두 평면 $x - y + z = 0$, $2x + y - 2z = 1$ 을 모두 지나므로

$$-3 - a - c = 0, -6 + a - 2c + 1 = 0$$

위 두 식을 연립하여 풀면

$$a = -11, c = -8$$

(ii) 벡터 $(1, b, d)$ 는 두 평면 $x - y + z = 0$, $2x + y - 2z = 1$ 의 법선벡터와 모두 수직이므로

$$(1, b, d) \cdot (1, -1, 1) = 1 - b + d = 0$$

$$(1, b, d) \cdot (2, 1, -2) = 2 + b - 2d = 0$$

위 두 식을 연립하여 풀면

$$b = 4, d = 3$$

(i), (ii)에서

$$a + b + c + d = -11 + 4 - 8 + 3 = -12$$

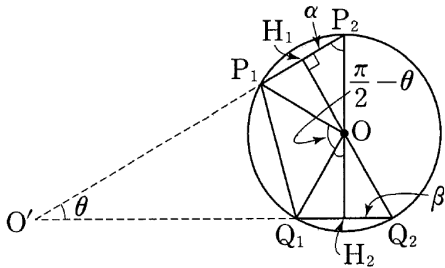
37. 답 40

[해설] 구의 중심 O 에서 평면 α, β 에 내린 수선의 발을 각각 H_1, H_2 라 하자. 구의 중심 O 와 두 점 H_1, H_2 에 의하여 결정되는 평면과 원 C_1 과 만나는 두 점을 각각 P_1, P_2 , 원 C_2 가 만나는 점을 각각 Q_1, Q_2 라 하면 구하는 선분 PQ 의 길이는 아래 그림에서 선분 P_1Q_1 의 길이이다.

한편 점과 평면 사이의 거리에 의하여

$$\overline{OH_1} = \frac{|0+0+0-15|}{\sqrt{1+1+4}} = \frac{5\sqrt{6}}{2}$$

$$\overline{OH_2} = \frac{|0+0+0-25|}{\sqrt{1+1+48}} = \frac{5\sqrt{2}}{2}$$



그러므로 직각삼각형 P_1OH_1 에서 $\angle OP_1H_1 = \frac{\pi}{3}$

또, 직각삼각형 Q_1H_2O 에서 $\angle OQ_1H_2 = \frac{\pi}{6}$

한편, 두 평면 α, β 가 이루는 각의 크기를 θ 라 하면

$$\begin{aligned} \angle P_1OQ_1 &= 2\pi - \angle OP_1O' - \angle OQ_1O' - \theta \\ &= 2\pi - \left(\pi - \frac{\pi}{3}\right) - \left(\pi - \frac{\pi}{6}\right) - \theta \\ &= \frac{\pi}{2} - \theta \end{aligned}$$

또, 두 평면의 법선벡터가 각각 $(1, 1, 2), (1, -1, -4\sqrt{3})$ 이므로

$$\cos\theta = \frac{|1 \cdot 1 + 1 \cdot (-1) + 2 \cdot (-4\sqrt{3})|}{\sqrt{1+1+4} \sqrt{1+1+48}} = \frac{4}{5}$$

따라서 $\sin\theta = \frac{3}{5}$ 이므로

$$\begin{aligned} \overline{P_1Q_1}^2 &= \overline{OP_1}^2 + \overline{OQ_1}^2 - 2\overline{OP_1} \cdot \overline{OQ_1} \cos\left(\frac{\pi}{2} - \theta\right) \\ &= (5\sqrt{2})^2 + (5\sqrt{2})^2 - 2 \cdot 5\sqrt{2} \cdot 5\sqrt{2} \cdot \frac{3}{5} \\ &= 40 \end{aligned}$$

38. 답 ㉔

평면 $x - 2y + 2z = 5$ 의 법선벡터는 $(1, -2, 2)$ 이고, xy 평면의 법선벡터는 $(0, 0, 1)$ 이므로 두 법선벡터가 이루는 각의 크기를 θ 라 하면 평면 $x - 2y + 2z = 5$ 와 xy 평면이 이루는 각의 크기는 θ 이다. 이때,

$$\cos\theta = \frac{|0 + 0 + 2|}{\sqrt{9} \sqrt{1}} = \frac{2}{3}$$

이고, 주어진 원의 넓이는 9π 이므로 구하는 정사영의 넓이를 S 라 하면

$$S = 9\pi \times \cos\theta = 9\pi \times \frac{2}{3} = 6\pi$$

39. 답 ㉔

[해설] 평면 $4x + 2y - 4z + 5 = 0$ 의 법선벡터를 \vec{h}_1 , xz 평면의 법선벡터를 \vec{h}_2 라 하면

$$\vec{h}_1 = (4, 2, -4), \vec{h}_2 = (0, 1, 0)$$

$$\therefore \cos\theta = \frac{|\vec{h}_1 \cdot \vec{h}_2|}{|\vec{h}_1| |\vec{h}_2|} = \frac{|4 \cdot 0 + 2 \cdot 1 + (-4) \cdot 0|}{\sqrt{4^2 + 2^2 + (-4)^2} \sqrt{0^2 + 1^2 + 0^2}} = \frac{1}{3}$$

40. 답 13

[해설] 구 $(x-2)^2 + (y-1)^2 + (z+2)^2 = 9$ 는 중심이 $(2, 1, -2)$ 이고 반지름의 길이가 3이다.

또 구의 방정식 $x^2 + y^2 + z^2 - 10x - 6y - 8z = k$ 에서

$$(x-5)^2 + (y-3)^2 + (z-4)^2 = k + 50$$

이므로 중심은 $(5, 3, 4)$ 이고, 반지름의 길이는 $\sqrt{k+50}$ 이다.

두 구가 점 P에서 내접 또는 외접할 때, 점 P를 지나고 두 구에 접하는 평면 α 의 법선벡터는 두 구의 중심을 시점과 종점으로 하는 벡터이다. 따라서 평면 α 의 법선벡터와 xy 평면이 법선벡터를 각각 \vec{h}_1, \vec{h}_2 라 하면

$$\begin{aligned} \vec{h}_1 &= (5, 3, 4) - (2, 1, -2) = (3, 2, 6), \\ \vec{h}_2 &= (0, 0, 1) \end{aligned}$$

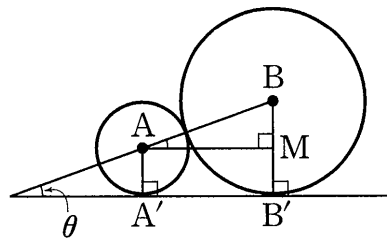
이므로 두 평면이 이루는 예각의 크기 θ 에 대하여

$$\cos\theta = \frac{|\vec{h}_1 \cdot \vec{h}_2|}{|\vec{h}_1| |\vec{h}_2|} = \frac{6}{\sqrt{3^2 + 2^2 + 6^2} \sqrt{0^2 + 0^2 + 1^2}} = \frac{6}{7}$$

$$\therefore p + q = 7 + 6 = 13$$

41. 답 ㉔

[해설] 두 점 A, B에서 평면 α 에 내린 수선의 발을 각각 A', B'이라고 하면 직선 AB와 직선 A'B'이 이루는 각의 크기는 두 평면 α, β 가 이루는 각의 크기인 θ 와 같다.



위의 그림에서 $\overline{AB} = 2 + 3 = 5$, $\overline{BM} = 3 - 2 = 1$ 이므로

$$\sin\theta = \frac{\overline{BM}}{\overline{AB}} = \frac{1}{5}$$

$$\therefore \cos\theta = \sqrt{1 - \frac{1}{25}} = \frac{2\sqrt{6}}{5}$$

42. 답 216

[해설] 점 P의 좌표를 $P(x, y, z)$ 라 하면

$Q(x, y, 0), R(0, y, z), S(x, 0, z)$ 이므로

$$\overline{PQ} = z, \overline{PR} = x, \overline{PS} = y$$

이 때, $\overrightarrow{PR} \perp \overrightarrow{PS}, \overrightarrow{PR} \perp \overrightarrow{PQ}, \overrightarrow{PS} \perp \overrightarrow{PQ}$ 이므로

$$\triangle PRS = \frac{1}{2} \times \overline{PR} \times \overline{PS} = \frac{1}{2}xy$$

따라서 사면체 PQRS의 부피 V는

$$V = \frac{1}{3} \triangle PRS \times \overline{PQ} = \frac{1}{6}xyz$$

그런데 $\overline{QR} = \sqrt{z^2 + x^2}, \overline{QS} = \sqrt{z^2 + y^2}$ 이고, $\overline{QR} = \overline{QS}$ 이어야 하므로 $x = y$

이 때, $x + 2y + 2z = 54$ 에서

$$2z = 54 - x - 2y = 54 - 3x \text{ 이므로}$$

$$V = \frac{1}{6}xyz = \frac{1}{6}x^2z = \frac{1}{12}x^2(54 - 3x) = \frac{1}{4}(-x^3 + 18x^2)$$

이 때, $\frac{dV}{dx} = \frac{1}{4}(-3x^2 + 36x) = 0$ 에서

$$-3x^2 + 36x = 0$$

$$x(x - 12) = 0$$

$$\therefore x = 12 \quad (\because x \neq 0)$$

$x < 12$ 일 때 $\frac{dV}{dx} > 0$ 이고, $x > 12$ 일 때, $\frac{dV}{dx} < 0$ 이므로

V는 $x = 12$ 에서 극대이면서 최대이다.

따라서 구하는 사면체 PQRS의 부피의 최댓값은

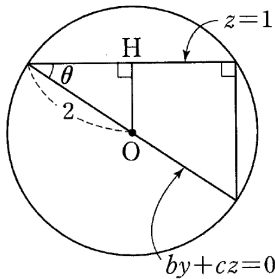
$$V = \frac{1}{4}(-12^3 + 18 \times 12^2) = 36(-12 + 18) = 36 \times 6 = 216$$

43. 답 ①

[해설] x축을 포함한 평면의 방정식은

$$by + cz = 0$$

한편, S₂의정사영이 S-1과 서로 다른 두 점에서 만나므로 아래 그림과 같다.



원점 O에서 평면 z = 1에 내린 수선의 발을 H라 하고, 두 평면 z = 1, by + cz = 0이 이루는 예각의 크기를 θ라 하면

$$\cos\theta = \frac{\sqrt{3}}{2}$$

한편, 두 평면 z = 1, by + cz = 0의 법선벡터는 각각 (0, 0, 1), (0, b, c)이므로

$$\cos\theta = \frac{|0 \cdot 0 + 0 \cdot b + 1 \cdot c|}{\sqrt{0^2 + 0^2 + 1^2} \sqrt{0^2 + b^2 + c^2}} = \frac{|c|}{\sqrt{b^2 + c^2}} = \frac{\sqrt{3}}{2}$$

이 식을 정리하면

$$4c^2 = 3(b^2 + c^2)$$

$$3b^2 = c^2$$

$$b = \frac{\sqrt{3}}{3}c \quad (\because b > 0, c > 0)$$

이때, $\vec{h} = (0, \frac{\sqrt{3}}{3}, 1)$ 이므로

$$\frac{\vec{h}}{|\vec{h}|} = \frac{1}{\sqrt{\frac{4}{3}}} \left(0, \frac{\sqrt{3}}{3}, 1\right) = \left(0, \frac{1}{2}, \frac{\sqrt{3}}{2}\right)$$

$$\therefore p + q + r = \frac{1 + \sqrt{3}}{2}$$

44. 답 19

[해설] 두 평면이 수직이기 위해서는 두 평면의 법선벡터가 수직이어야 한다. 두 평면의 법선벡터가 각각 (k, k, k-2), (k, -5, 2) 이므로

$$(k, k, k-2) \cdot (k, -5, 2) = 0$$

$$k \cdot k + k \cdot (-5) + (k-2) \cdot 2 = 0$$

$$k^2 - 3k - 4 = 0$$

$$(k-4)(k+1) = 0$$

$$\therefore k = 4 \quad (\because k > 0)$$

이 때 평면 kx - 5y + 2z + k = 0, 즉 4x - 5y + 2z + 4 = 0 과 x 축이 만나는 점의 좌표는 (-1, 0, 0) 이고,

y 축이 만나는 점의 좌표는 (0, 4/5, 0) 이고,

z 축이 만나는 점의 좌표는 (0, 0, -2) 이다.

이 때 세 벡터 $\vec{a} = (-1, 0, 0)$, $\vec{b} = (0, \frac{4}{5}, 0)$,

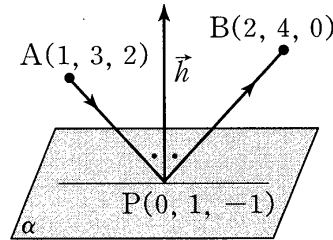
$\vec{c} = (0, 0, -2)$ 는 두 벡터끼리 모두 수직이므로 구하는 사면체의 부피 V는

$$V = \frac{1}{3} \times \frac{1}{2} \times 1 \times \frac{4}{5} \times 2 = \frac{4}{15}$$

$$\therefore p + q = 15 + 4 = 19$$

45. 답 20

[해설]



세 점 A, B, P 를 지나는 평면은 평면 α 에 수직이다.

이 때, $\vec{PA} = (1, 2, 3)$, $\vec{PB} = (2, 3, 1)$

그런데 $|\vec{PA}| = |\vec{PB}|$ 이므로 \overline{AB} 의 중점을 M 이라 하면

$$\vec{PM} \perp \alpha$$

이므로 평면 α 의 법선벡터는

$$\begin{aligned} \vec{PM} &= \left(\frac{1+2}{2}, \frac{2+3}{2}, \frac{3+1}{2}\right) \\ &= \left(\frac{3}{2}, \frac{5}{2}, 2\right) = \frac{1}{2}(3, 5, 4) \end{aligned}$$

따라서 벡터 (3, 5, 4) 는 평면 α 의 법선벡터이다.

$$\therefore a = 5, b = 4$$

$$\therefore ab = 20$$

46. 답 ③

[해설] 직선 $\frac{x}{2} = -y + 3 = 1 - z$ 의 방향벡터가

$\vec{u} = (2, -1, -1)$ 이고, yz 평면의 법선벡터가 $\vec{v} = (1, 0, 0)$ 이므로

$$\sin\theta = \frac{|\vec{u} \cdot \vec{v}|}{|\vec{u}| |\vec{v}|} = \frac{2}{\sqrt{6} \sqrt{1}} = \frac{\sqrt{6}}{3}$$

47. 답 135

[해설] 직선 $x - 3 = \frac{y+1}{\sqrt{2}} = z$ 의 방향벡터가 $\vec{u} = (1, \sqrt{2}, 1)$ 이

고, 평면 $x - y + \sqrt{2}z - 2 = 0$ 의 법선벡터가 $\vec{v} = (1, -1, \sqrt{2})$

이므로 이 직선과 평면이 이루는 예각의 크기를 θ 라 하면

$$\sin\theta = \frac{|\vec{u} \cdot \vec{v}|}{|\vec{u}| |\vec{v}|} = \frac{|1 - \sqrt{2} + \sqrt{2}|}{\sqrt{4} \sqrt{4}} = \frac{1}{4}$$

$$\therefore \cos\theta = \sqrt{1 - \sin^2\theta} = \frac{\sqrt{15}}{4} \quad (\because 0 \leq \theta \leq 90^\circ)$$

따라서 구하는 정사영의 길이는

$$l = 12 \times \frac{\sqrt{15}}{4} = 3\sqrt{15}$$

$$\therefore l^2 = (3\sqrt{15})^2 = 135$$

48. 답 ①

[해설] 직선의 방향벡터는 $(2, -1, 1)$, 평면의 법선벡터는 $(1, 2, k)$ 이므로

$$\begin{aligned} \cos\left(\frac{\pi}{2} - \theta\right) &= \sin\theta \\ &= \frac{|2 \times 1 + (-1) \cdot 2 + k|}{\sqrt{2^2 + (-1)^2 + 1^2} \sqrt{1^2 + 2^2 + k^2}} \\ &= \frac{|k|}{\sqrt{6} \sqrt{5 + k^2}} = \frac{1}{6} \end{aligned}$$

$$\frac{k^2}{6(5 + k^2)} = \frac{1}{36}, 6k^2 = 5 + k^2, k^2 = 1$$

$\therefore k = 1 (\because k > 0)$

49. 답 ②

[해설] x 축의 방향벡터는 $\vec{d} = (1, 0, 0)$
 평면의 법선벡터는 $\vec{h} = (1, 2, 2)$
 그러므로

$$\begin{aligned} \cos\left(\frac{\pi}{2} - \theta\right) &= \frac{|\vec{d} \cdot \vec{h}|}{|\vec{d}||\vec{h}|} \\ &= \frac{|1 + 0 + 0|}{\sqrt{1^2 + 0^2 + 0^2} \sqrt{1^2 + 2^2 + 2^2}} = \frac{1}{3} \end{aligned}$$

$\therefore \sin\theta = \frac{1}{3}$

50. 답 ①

[해설] 두 점 A, B 를 지나는 직선의 방정식은

$$\frac{x-4}{2-4} = \frac{y+3}{a+3} = \frac{z+2}{4+2}$$

이 직선이 z 축 위의 점 $(0, 0, t)$ 를 지난다고 하면

$$\frac{0-4}{-2} = \frac{0+3}{a+3} = \frac{t+2}{6}$$

$$2 = \frac{3}{a+3} = \frac{t+2}{6}$$

$\therefore a = -\frac{3}{2}$

51. 답 ②

[해설] 직선 $\frac{x-3}{a} = 1-y = \frac{z+3}{b}$ 의 방향벡터는

$$\vec{u} = (a, -1, b)$$

직선 $x = y = -z$ 의 방향벡터는

$$\vec{v} = (1, 1, -1)$$

직선 $x+2 = y-2 = \frac{z-1}{c}$ 의 방향벡터는

$$\vec{w} = (1, 1, c)$$

이때, $\vec{u} \parallel \vec{v}$ 이므로

$$\frac{a}{1} = \frac{-1}{1} = \frac{b}{-1}$$

$\therefore a = -1, b = 1$

또, $\vec{u} \perp \vec{w}$ 이므로

$$\vec{u} \cdot \vec{w} = a - 1 + bc = 0$$

$\therefore c = 2$

$\therefore a + b + c = 2$

52. 답 ②

[해설] 평면 $x + 2y + 3z = 0$ ㉠의 법선벡터는 $\vec{h} = (1, 2, 3)$

ㄱ. 직선 $x = y = 1 - z$ 의 방향벡터는 $\vec{u}_1 = (1, 1, -1)$ 이고

$$\vec{h} \cdot \vec{u}_1 = (1, 2, 3) \cdot (1, 1, -1) = 1 + 2 - 3 = 0$$

$\therefore \vec{h} \perp \vec{u}_1$

또, 직선 위의 점 $(1, 1, 0)$ 을 평면 ㉠에 대입하면 만족하지 않으므로 직선과 평면은 평행하다.

ㄴ. $2x = y = 1 - z$ 의 방향벡터는 $\vec{u}_2 = (1, 2, -2)$ 이고

$$\vec{h} \cdot \vec{u}_2 = (1, 2, 3) \cdot (1, 2, -2) = 1 + 4 - 6 = -1 \neq 0$$

이므로 평면 ㉠과 직선은 만난다.

ㄷ. $2x + 4y + 6z = 1$ 에서 $x + 2y + 3z = \frac{1}{2}$ 이므로 ㉠과 평행하다.

즉, 만나지 않는다.

따라서 평면 ㉠과 만나는 것은 ㄴ뿐이다.

53. 답 ⑤

[해설] 직선 l 은 방향벡터가 \vec{a} 이고 원점을 지나는 직선이다.

평면 α 는 법선벡터가 \vec{b} 이고, 점 $C(c_1, c_2, c_3)$ 를 지나는 평면이다.

ㄱ. $\vec{a} \parallel \vec{b}$ 이면 직선 l 의 방향벡터와 평면 α 의 법선벡터가 평행하므로 $l \perp \alpha$ (참)

ㄴ. $\vec{a} \perp \vec{b}$ 이면 직선 l 의 방향벡터와 평면 α 의 법선벡터가 수직이므로 직선 l 은 평면 α 와 평행하거나 포함된다.

이 때, 평면 α 는 $\vec{a} \perp \vec{c}$ 인 점 $C(c_1, c_2, c_3)$ 를 지나고 직선 l 은 원점을 지나므로 $l \parallel \alpha$ (참)

ㄷ. $\vec{a} \perp \vec{b}$ 이므로 ㄴ에서 직선 l 은 평면 α 와 평행하거나 포함된다.

이 때, $\vec{a} \parallel \vec{c}$ 이므로 $C(c_1, c_2, c_3)$ 은 직선 l 위의 점이다.

그러므로 직선 l 은 평면 α 에 포함된다. (참)

따라서 옳은 것은 ㄱ, ㄴ, ㄷ이다.

54. 답 ③

[해설] 직선 $x + 1 = \frac{y-2}{2} = \frac{z-3}{-1}$ 과 yz 평면의 교점의 x 좌표는 0

이므로 직선의 방정식에 $x = 0$ 을 대입하면

$$0 + 1 = \frac{y-2}{2} = \frac{z-3}{-1}$$

$\therefore y = 4, z = 2$

따라서 구하는 교점의 좌표는 $(0, 4, 2)$ 이다.

$\therefore a + b + c = 0 + 4 + 2 = 6$

55. 답 ②

[해설] $\frac{x-2}{2} = y + 3 = z - 2$ 에 $z = 0$ 을 대입하면

$$\frac{x-2}{2} = y + 3 = 0 - 2 \text{ 이므로 } x = -2, y = -5$$

$\therefore P(-2, -5, 0)$

$\frac{x-2}{2} = y + 3 = z - 2$ 에 $x = 0$ 을 대입하면

$$\frac{0-2}{2} = y+3 = z-2 \text{ 이므로 } y = -4, z = 1$$

$$\therefore Q(0, -4, 1)$$

$$\frac{x-2}{2} = y+3 = z-2 \text{ 에 } y=0 \text{ 을 대입하면}$$

$$\frac{x-2}{2} = 0+3 = z-2 \text{ 이므로 } x = 8, z = 5$$

$$\therefore R = (8, 0, 5)$$

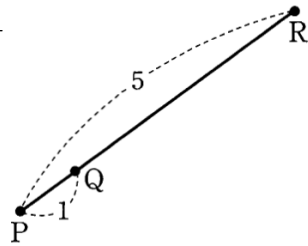
$$\text{이때, } \overrightarrow{PQ} = (0, -4, 1) - (-2, -5, 0) = (2, 1, 1)$$

$$\overrightarrow{PR} = (8, 0, 5) - (-2, -5, 0) = (10, 5, 5) = 5\overrightarrow{PQ}$$

이므로 점 Q는 선분 PR를 1:4로

내분 하는 점이다.

\therefore (가) 4, (나) 내분



56. 답 ③

[해설] $\frac{x+1}{2} = \frac{y}{3} = -z-2 = t$ (t 는 실수)로 놓으면

$$x = 2t-1, y = 3t, z = -t-2$$

즉 교점의 좌표를 $(2t-1, 3t, -t-2)$ 로 놓으면

이 점은 평면 $2x+y+z=8$ 위의 점이므로

$$2(2t-1) + 3t + (-t-2) = 8, 6t = 12$$

$$\therefore t = 2$$

따라서 교점의 좌표는 $(2 \cdot 2 - 1, 3 \cdot 2, -2 - 2)$,

즉 $(3, 6, -4)$ 이므로 구하는 교점의 x 좌표는 3이다.

57. 답 ③

[해설] $x^2 + y^2 + z^2 + 2x - 6y - 4z = 0$ 에서

$$(x+1)^2 + (y-3)^2 + (z-2)^2 = 14$$

에서 구의 중심은 $C(-1, 3, 2)$

그러므로, 두 점 $A(1, 2, 3), C(-1, 3, 2)$ 를 지나는 직선의 방정식은

$$\frac{x-1}{-1-1} = \frac{y-2}{3-2} = \frac{z-3}{2-3}$$

$$\therefore \frac{x-1}{-2} = y-2 = \frac{z-3}{-1}$$

이때, xy 평면과 만나는 점의 z 좌표는 0이므로 대입하면

$$\frac{x-1}{-2} = y-2 = 3$$

$$\therefore x = -5, y = 5$$

따라서 구하는 점의 좌표는 $(-5, 5, 0)$ 이므로

$$a + b + c = (-5) + 5 + 0 = 0$$

58. 답 ④

[해설] 평면의 법선벡터를 \vec{h} 라 하면

$$\vec{h} = (1, 2, 3)$$

이고, \overrightarrow{AH} 는 평면과 수직이므로 $\overrightarrow{AH} = k\vec{h}$ (k 는 실수)이다.

$$\overrightarrow{AH} = \overrightarrow{OH} - \overrightarrow{OA}$$

$$= (a, b, c) - (1, 1, 2) = (a-1, b-1, c-2)$$

이므로

$$(a-1, b-1, c-2) = k(1, 2, 3)$$

$$\therefore a = k+1, b = 2k+1, c = 3k+2$$

즉, $H(k+1, 2k+1, 3k+2)$ 이고, 이 점은 주어진 평면 위의 점이므로 대입하면

$$(k+1) + 2(2k+1) + 3(3k+2) + 5 = 0$$

$$\therefore k = -1$$

따라서 $H(0, -1, -1)$ 이므로

$$a + b + c = -2$$

59. 답 ③

[해설] 구의 중심 $O(0, 0, 0)$ 에서 직선

$$x-1 = \frac{y+1}{2} = \frac{z-2}{3} = t \text{ 에 내린 수선의 발을 } H \text{라 하면}$$

$$H(t+1, 2t-1, -3t+2)$$

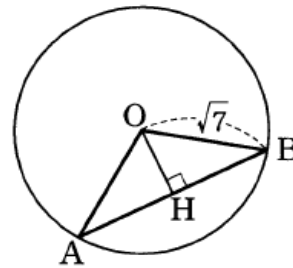
\overrightarrow{OH} 는 직선의 방향벡터 $\vec{d} = (1, 2, -3)$ 가 수직이므로

$$\overrightarrow{OH} \cdot \vec{d} = (t+1, 2t-1, -3t+2) \cdot (1, 2, -3)$$

$$= (t+1) + 2(2t-1) - 3(-3t+2)$$

$$= 14t - 7 = 0$$

$$\therefore t = \frac{1}{2}$$



따라서 $\overrightarrow{OH} = \left(\frac{3}{2}, 0, \frac{1}{2}\right)$ 이므로

$$|\overrightarrow{OH}| = \sqrt{\left(\frac{3}{2}\right)^2 + 0^2 + \left(\frac{1}{2}\right)^2} = \frac{\sqrt{10}}{2}$$

그림에서 $AB = 2AH = 2\sqrt{OA^2 - OH^2}$

$$= 2\sqrt{7 - \frac{10}{4}} = 2 \times \frac{3\sqrt{2}}{2} = 3\sqrt{2}$$

60. 답 ④

[해설] xz 평면과 만나는 점은 y 좌표가 0이므로 대입하면

$$1-x = \frac{0-2}{2} = \frac{z-2}{2}$$

$$\therefore x = 2, z = 0$$

그러므로 $A(2, 0, 0)$

또, yz 평면과 만나는 점은 x 좌표가 0이므로 대입하면

$$1-0 = \frac{y-2}{2} = \frac{z-2}{2}$$

$$\therefore y = 4, z = 4$$

그러므로 $B(0, 4, 4)$

$$\text{이때, } |\overrightarrow{AB}| = \sqrt{2^2 + (-4)^2 + (-4)^2} = 6$$

한편, 직선 $1-x = \frac{y-2}{2} = \frac{z-2}{2}$ 와 평면 $x+y+z=0$ 이 이루는 예

각의 크기를 θ 라 하면

$$\cos\left(\frac{\pi}{2} - \theta\right) = \frac{|(-1)+2+2|}{\sqrt{(-1)^2+2^2+2^2} \sqrt{1^2+1^2+1^2}} = \frac{\sqrt{3}}{3}$$

즉, $\sin\theta = \frac{\sqrt{3}}{3}$ 이므로

$$\cos\theta = \sqrt{1 - \sin^2\theta} = \frac{\sqrt{6}}{3}$$

따라서 정사영의 길이는

$$\overline{AB} \cos\theta = 6 \times \frac{\sqrt{6}}{3} = 2\sqrt{6}$$

61. 답 ㉓

[해설] 원점 O가 구의 중심이고, 두 점 A, B는 구 위의 점이므로

$$\overline{OA} = \overline{OB} = r$$

따라서 삼각형 OAB가 정삼각형이라면 원점 O에서 직선 $x-1=y+2=z+2$ 에 내린 수선의 발 H는 선분 AB의 중점이므로

$$\overline{OH} = \frac{\sqrt{3}}{2} r$$

이어야 한다.

$x-1=y+2=z+2=t$ (t 는 실수)에서 이 직선 위의 임의의 점을 $P(t+1, t-2, t-2)$ 로 놓을 수 있다. 이때

$$\begin{aligned} \overline{OP} &= \sqrt{(t+1)^2 + (t-2)^2 + (t-2)^2} = \sqrt{3t^2 - 6t + 9} \\ &= \sqrt{3(t-1)^2 + 6} \geq \sqrt{6} \end{aligned}$$

이므로 \overline{OP} 는 $t=1$ 일 때, 최솟값 $\sqrt{6}$ 을 갖는다.

이 때 $\overline{OH} = \sqrt{6}$ 이므로

$$\frac{\sqrt{3}}{2} r = \sqrt{6}$$

$$\therefore r = \frac{2\sqrt{6}}{\sqrt{3}} = 2\sqrt{2}$$

62. 답 ㉔

[해설] 두 구의 반지름의 길이가 같고, 중심의 좌표가 각각 $P(3, 0, 1)$, $Q(-5, 4, 3)$ 이므로 주어진 평면은 선분 PQ의 중점을 지나고 벡터 \overrightarrow{PQ} 에 수직이어야 한다.

\overline{PQ} 의 중점의 좌표는

$$\left(\frac{3-5}{2}, \frac{0+4}{2}, \frac{1+3}{2} \right), \text{ 즉 } (-1, 2, 2)$$

또한 $\overrightarrow{PQ} = (-5, 4, 3) - (3, 0, 1) = (-8, 4, 2)$ 이므로

구하는 평면의 방정식은

$$-8(x+1) + 4(y-2) + 2(z-2) = 0$$

$$8x - 4y - 2z + 20 = 0$$

$$\therefore 4x - 2y - z + 10 = 0$$

$$\therefore a+b+c = 4-2-1 = 1$$

63. 답 ㉑

[해설] 두 구의 중심의 좌표는 $C_1(1, 2, 3)$, $C_2(-3, -2, -1)$ 이므로 구하는 평면의 법선벡터를 \vec{h} 라 하면

$$\vec{h} = \overrightarrow{C_1C_2} = \overrightarrow{OC_2} - \overrightarrow{OC_1} = (-4, -4, -4)$$

또, 구하는 평면은 $\overline{C_1C_2}$ 의 중점 $(-1, 0, 1)$ 을 지나므로 구하는

평면의 방정식은

$$-4 \cdot \{x - (-1)\} - 4 \cdot (y - 0) - 4 \cdot (z - 1) = 0$$

$$\therefore x + y + z = 0$$

64. 답 ㉓

[해설] 선분 AB의 중점 M에서 평면에 내린 수선의 발을 M'으로

놓으면

$$|\overrightarrow{PA} + \overrightarrow{PB}| = 2|\overrightarrow{PM}| \geq 2|\overrightarrow{MM'}|$$

그런데 M의 좌표는 $(2, -1, 0)$ 이고, 점 M과 평면 $x-y+z=0$ 사이의 거리는 선분 MM' 의 길이이므로

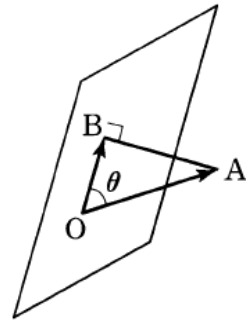
$$\frac{|2+1+0|}{\sqrt{3}} = \sqrt{3}$$

따라서 $|\overrightarrow{PA} + \overrightarrow{PB}|$ 의 최솟값은 $2|\overrightarrow{MM'}| = 2\sqrt{3}$ 이다

65. 답 18

[해설] 원점 O는 평면 $\sqrt{3}y-z=0$ 위의 점이므로 두 벡터 \overrightarrow{OB} , \overrightarrow{BA} 는

서로 수직이다.



점 $A(3, 6, 0)$ 과 평면 $\sqrt{3}y-z=0$ 사이의 거리는

$$\frac{|\sqrt{3} \cdot 6 - 0|}{\sqrt{(\sqrt{3})^2 + (-1)^2}} = \frac{6\sqrt{3}}{2} = 3\sqrt{3}$$

이고, $\overline{OA} = \sqrt{3^2 + 6^2 + 0^2} = 3\sqrt{5}$ 이므로 직각삼각형 OAB에서

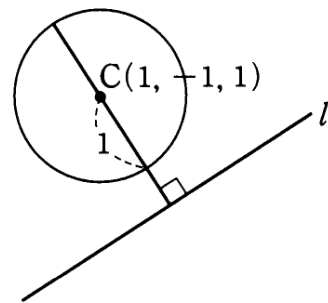
$$\overline{OB} = \sqrt{45 - 27} = 3\sqrt{2}$$

$\angle AOB = \theta$ 라 하면 $\cos\theta = \frac{\overline{OB}}{\overline{OA}}$ 이므로

$$\overrightarrow{OA} \cdot \overrightarrow{OB} = \overline{OA} \times \overline{OB} \times \cos\theta = \overline{OB}^2 = (3\sqrt{2})^2 = 18$$

66. 답 ㉔

[해설] 직선 l을 포함하는 평면이 구의 중심 $C(1, -1, 1)$ 을 지날 때 생기는 단면은 다음 그림과 같다.



이때, $x=y=z=t$ 라 하면 직선 l 위의 점은

$P(t, t, t)$ 이고, $C(1, -1, 1)$ 에서 직선 l까지의 거리 d는

$$\begin{aligned} \sqrt{(t-1)^2 + (t+1)^2 + (t-1)^2} &= \sqrt{3t^2 - 2t + 3} \\ &= \sqrt{3\left(t - \frac{1}{3}\right)^2 + \frac{8}{3}} \end{aligned}$$

에서 $t = \frac{1}{3}$ 일 때, $d = \frac{2\sqrt{6}}{3}$ 이다.

따라서 $m = \frac{2\sqrt{6}}{3} - 1$, $M = \frac{2\sqrt{6}}{3} + 1$ 이므로

$$M + m = \frac{4\sqrt{6}}{3}$$

67. 답 ①

[해설] 구 $(x-1)^2 + (y-1)^2 + (z-1)^2 = 9$ 의 반지름의 길이가 3이므로

$$|\overrightarrow{CP}| = |\overrightarrow{CQ}| = 3$$

두 벡터 $\overrightarrow{CP}, \overrightarrow{CQ}$ 가 이루는 각의 크기를 θ 라 하면

$$\overrightarrow{CP} \cdot \overrightarrow{CQ} = |\overrightarrow{CP}| |\overrightarrow{CQ}| \cos \theta = 9 \cos \theta$$

이므로 $\cos \theta$ 의 값이 최소일 때, $\overrightarrow{CP} \cdot \overrightarrow{CQ}$ 의 값도 최솟값을 갖는다.

또한, $0 \leq \theta \leq \pi$ 일 때 θ 의 값이 클수록 $\cos \theta$ 의 값이 작아지므로 구와 평면의 교선인 원 S 위의 점 P, Q 가 지름의 양 끝점일 때, $\cos \theta$ 의 최솟값을 갖는다.

구의 중심 $C(1, 1, 1)$ 에서 평면 $x+y+z=6$ 에 이르는 거리는 $\frac{|1+1+1-6|}{\sqrt{1^2+1^2+1^2}} = \sqrt{3}$ 이고, 구의 반지름의 길이가 3이므로 원 S 의

반지름의 길이를 r 라 하면

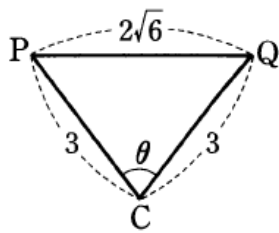
$$r = \sqrt{3^2 - (\sqrt{3})^2} = \sqrt{6}$$

삼각형 CPQ 에서 제이코사인법칙에 의하여

$$\cos \theta = \frac{3^2 + 3^2 - (2\sqrt{6})^2}{2 \cdot 3 \cdot 3} = -\frac{1}{3}$$

이므로 구하는 $\overrightarrow{CP} \cdot \overrightarrow{CQ}$ 의 최솟값은

$$|\overrightarrow{CP}| |\overrightarrow{CQ}| \cos \theta = 9 \cos \theta = 9 \left(-\frac{1}{3}\right) = -3$$

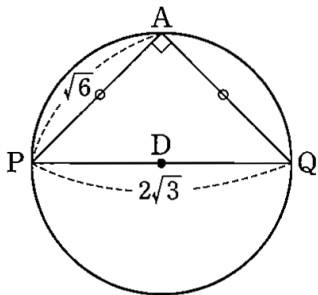


68. 답 15

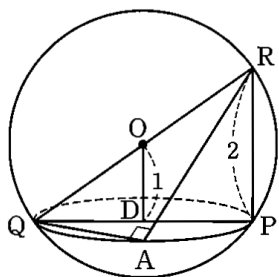
[해설] 구 S 의 중심 $(0,0,0)$ 과 평면 α 사이의 거리 d 는

$$d = \frac{|-2|}{\sqrt{1^2 + (-\sqrt{3})^2}} = 1$$

이므로 구 S 와 평면 α 가 만나서 생기는 원 C 의 반지름의 길이 r 는 $r = \sqrt{2^2 - 1} = \sqrt{3}$ 이다 원 C 위의 세 점 A, P, Q 의 위치관계는 다음과 같다.



또한 원 C 의 중심을 D 라 하면 다음 그림에서 $\overrightarrow{PR} = 2$ 이고 선분 QR 는 구 S 의 지름임을 알 수 있다.



이때, 점 A 는 구위의 점이므로 삼각형 APQ 는 $\angle A = 90^\circ$ 인 직각삼각형이다. 즉

$$\begin{aligned} \overline{AR} &= \sqrt{QR^2 - QA^2} \\ &= \sqrt{16 - 6} = \sqrt{10} \end{aligned}$$

$$\begin{aligned} \therefore s &= \frac{1}{2} \times \overline{AQ} \times \overline{AR} \\ &= \frac{1}{2} \times \sqrt{6} \times \sqrt{10} = \sqrt{15} \\ \therefore s^2 &= 15 \end{aligned}$$

69. 답 ②

[해설] $x = y = z = s$ 로 놓으면 $P(s, s, s)$

또, $x-1 = y = \frac{z}{2} = t$ 로 놓으면 $Q(t+1, t, 2t)$

이므로

$$\overrightarrow{PQ} = (t-s+1, t-s, 2t-s)$$

이때, 두 직선 $x = y = z, x-1 = y = \frac{z}{2}$ 의 방향벡터는 각각

$\vec{d}_1 = (1, 1, 1), \vec{d}_2 = (1, 1, 2)$ 이므로 선분 PQ 의 길이가 최소가 될 때는

$$\overrightarrow{PQ} \perp \vec{d}_1, \overrightarrow{PQ} \perp \vec{d}_2$$

$$\overrightarrow{PQ} \cdot \vec{d}_1 = (t-s+1, t-s, 2t-s) \cdot (1, 1, 1)$$

$$= 4t - 3s + 1 = 0 \quad \dots \text{㉠}$$

또,

$$\overrightarrow{PQ} \cdot \vec{d}_2 = (t-s+1, t-s, 2t-s) \cdot (1, 1, 2)$$

$$= 6t - 4s + 1 = 0 \quad \dots \text{㉡}$$

㉠과 ㉡을 연립하여 풀면

$$t = \frac{1}{2}, s = 1$$

따라서 구하는 길이의 최솟값은 $t = \frac{1}{2}, s = 1$ 일 때, $|\overrightarrow{PQ}|$ 의 크기이므로

$$|\overrightarrow{PQ}| = \left| \left(\frac{1}{2}, -\frac{1}{2}, 0 \right) \right| = \frac{\sqrt{2}}{2}$$

70. 답 ①

[해설] $\vec{x} = s\overrightarrow{OA} + t\overrightarrow{OB}$

이때, $t+s=1$ 이므로 $\overrightarrow{OX} = \vec{x}$ 라 하면 점 X 는 두 점 $A(1,1,2), B(0,1,0)$ 을 지나는 직선 위의 점이다.

그러므로 이 직선의 방정식은

$$\frac{x-0}{1-0} = \frac{z-0}{2-0}, y=1$$

$$\text{즉, } x = \frac{z}{2}, y=1 \quad \dots \text{㉠}$$

또,

$$\vec{y} = u\overrightarrow{AC} + v\overrightarrow{BC}$$

$$= u(\overrightarrow{OC} - \overrightarrow{OA}) + v(\overrightarrow{OC} - \overrightarrow{OB})$$

$$= u(0,1,1) + v(1,1,3)$$

u, v 는 임의의 실수이므로 $\overrightarrow{OY} = \vec{y}$ 라 하면 점 Y 는 두 점 $(0,1,1), (1,1,3)$ 과 원점 $O(0,0,0)$ 을 지나는 평면이다.

이때, 평면의 방정식을 $ax + by + cz + d = 0$ 으로 놓고 대입하면 $d = 0$

$$b + c + d = 0$$

$$a + b + 3c + d = 0$$

$$\therefore a = -2c, b = -c$$

이므로

$$-2x - y + z = 0 \quad \dots \text{㉡}$$

그러므로, $|\vec{x}-\vec{y}|$ 의 최솟값은 ㉠과 ㉡의 거리이고, 이 거리는 ㉠ 위의 점 $(1,1,2)$ 에서 평면 $-2x-y+z=0$ 사이의 거리이다.

따라서 구하는 최솟값은

$$\frac{|(-2)+(-1)+2|}{\sqrt{(-2)^2+(-1)^2+1^2}} = \frac{1}{\sqrt{6}} = \frac{\sqrt{6}}{6}$$

71. 답 ㉢

[해설] 구의 중심의 좌표는 $M(0, -3, 4)$ 이고, 평면 $x+y+2z=0$ 의 법선벡터는 $\vec{h}=(1, 1, 2)$ 이다.

이 때 $|\vec{OM}| = \sqrt{0^2+(-3)^2+4^2} = 5$,

$|\vec{h}| = \sqrt{1^2+1^2+2^2} = \sqrt{6}$ 이므로 직선 OM 과 평면

$x+y+2z=0$ 이 이루는 예각의 크기를 θ 라 하면

$$\sin\theta = \frac{|0 \cdot 1 - 3 \cdot 1 + 4 \cdot 2|}{5\sqrt{6}} = \frac{\sqrt{6}}{6}$$

$$\therefore \cos\theta = \sqrt{1 - \frac{6}{36}} = \frac{\sqrt{30}}{6}$$

$$\therefore \overline{OH} = \overline{OM} \times \cos\theta = \frac{5\sqrt{30}}{6}$$

이 때, 구 $x^2+(y+3)^2+(z-4)^2=4$ 위의 점 P 에서 직선 OH 에 내린 수선의 발을 Q 라 하면

오른쪽 그림에서

$$\begin{aligned} \overline{OH} \cdot \overline{OP} &= |\overline{OH}| \cdot |\overline{OP}| \cos\theta \\ &= \overline{OH} \cdot \overline{OQ} \\ &\leq \frac{5\sqrt{30}}{6} \left(\frac{5\sqrt{30}}{6} + 2 \right) \\ &= \frac{125}{6} + \frac{5\sqrt{30}}{3} \end{aligned}$$

따라서 구하는 최댓값은 $\frac{125}{6} + \frac{5\sqrt{30}}{3}$ 이다.

$$\therefore p+q = \frac{125}{6} + \frac{5}{3} = \frac{135}{6} = \frac{45}{2}$$

72. 답 96

[해설] $P(x, y, z)$ 라 하면

$$\begin{aligned} |\vec{OA}-2\vec{OP}| &= |(2, 0, 2) - 2(x, y, z)| \\ &= |(2-2x, -2y, 2-2z)| \\ &= \sqrt{(2-2x)^2 + (-2y)^2 + (2-2z)^2} \\ &= 2\sqrt{(x-1)^2 + y^2 + (z-1)^2} \end{aligned}$$

이 때 $\sqrt{(x-1)^2 + y^2 + (z-1)^2}$ 은 점 $(1, 0, 1)$ 을 중심으로 하고 구 $x^2+(y-2)^2+(z-2)^2=6$ 위의 점 $P(x, y, z)$ 를 지나는 구의 반지름의 길이이다.

이 때 점 $(1, 0, 1)$ 과 구 $x^2+(y-2)^2+(z-2)^2=6$ 의 중심 사이의 거리는

$$\sqrt{(1-0)^2 + (0-2)^2 + (1-2)^2} = \sqrt{6}$$

이므로 $\sqrt{(x-1)^2 + y^2 + (z-1)^2}$ 의 최댓값은

$$\sqrt{6} + \sqrt{6} = 2\sqrt{6}$$

따라서 구하는 $|\vec{OA}-2\vec{OP}| = 2\sqrt{(x-1)^2 + y^2 + (z-1)^2}$ 의 최댓값은

$$M = 2 \times 2\sqrt{6} = 4\sqrt{6}$$

$$\therefore M^2 = 96$$

73. 답 3

[해설] 구 $(x-1)^2+(y+1)^2+z^2=r^2$ 의 중심 $(1, -1, 0)$ 에서 평면

$x-y+\sqrt{2}z+8=0$ 에 이르는 거리 d 는

$$\begin{aligned} d &= \frac{|1 \cdot 1 - 1 \cdot (-1) + \sqrt{2} \cdot 0 + 8|}{\sqrt{1^2 + (-1)^2 + (\sqrt{2})^2}} \\ &= \frac{10}{\sqrt{4}} = 5 \end{aligned}$$

이 때, 구의 반지름의 길이가 r 이므로 오른쪽 그림에서 선분 PQ 의 길이의 최솟값은

$$d-r = 5-r = 2$$

$$\therefore r = 3$$

74. 답 ㉡

[해설] 구 $x^2+y^2+z^2=1$ 의 중심 $(0,0,0)$ 에서 평면

$ax-2ay-2az=1$ 사이의 거리가 구의 반지름의 길이 1과 같아야 하므로

$$\frac{|-1|}{\sqrt{a^2 + (-2a)^2 + (-2a)^2}} = 1, \sqrt{9a^2} = 1$$

$$3a = 1 (\because a > 0)$$

$$\therefore a = \frac{1}{3}$$

75. 답 24

[해설] 사면체 $OABC$ 의 모든 면에 내접하는 구의 반지름의 길이를 r 라 하면 xz, yz, zx 평면에 모두 접하므로 구의 중심은 (r, r, r) 이다. 구의 중심 (r, r, r) 와 평면 $x+2y+2z=8$ 사이의 거리는 r 이므로

$$\frac{|r+2r+2r-8|}{\sqrt{1^2+2^2+2^2}} = \frac{|5r-8|}{3} = r$$

$$5r-8=3r \text{ 또는 } 5r-8=-3r$$

$$\therefore r = 1 (\because r < \frac{8}{3})$$

$$\therefore a = 4\pi$$

또한 $A(8,0,0), B(0,4,0), C(0,0,4)$ 이므로 사면체 $OABC$ 의 네 꼭짓점을 지나는 구의 방정식을 $x^2+y^2+z^2+\alpha x+\beta y+\gamma z=0$ 이라고 하면 $64+8\alpha=0, 16+4\beta=0, 16+4\gamma=0$ 이므로

$$\alpha=-8, \beta=-4, \gamma=-4$$

$$x^2+y^2+z^2-8x-4y-4z=0$$

$$(x-4)^2+(y-2)^2+(z-2)^2=24$$

따라서 사면체 $OABC$ 의 네 꼭짓점을 지나는 구의 반지름의 길이는 $2\sqrt{6}$ 이므로

$$b = 4\pi(2\sqrt{6})^2 = 96\pi$$

$$\therefore \frac{b}{a} = 24$$

76. 답 11

[해설] 평면 α 의 방정식을 $ax+by+cz+d=0$ 이라 하자.

α 가 세 점 $(34, 0, 0), (0, 17, 0), (0, 0, -17)$ 을 지나므로

$$34a+d=0, 17b+d=0, -17c+d=0$$

$$\therefore a = -\frac{1}{34}d, b = -\frac{1}{17}d, c = \frac{1}{17}d$$

따라서 평면 α 의 방정식은

$$-\frac{1}{34}dx - \frac{1}{17}dy + \frac{1}{17}dz + d = 0 \dots \textcircled{1}$$

$d=0$ 이면 $a=b=c=0$ 이므로 $d \neq 0$ 이다.

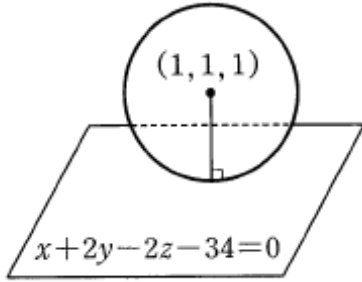
$\textcircled{1}$ 의 양변에 $-\frac{34}{d}$ 를 곱하면

$$x + 2y - 2z - 34 = 0$$

구하는 반지름의 길이는 구의 중심 $(1, 1, 1)$ 에서 평면 $x + 2y - 2z - 34 = 0$ 에 이르는 거리와 같다.

따라서 구하는 구의 반지름의 길이는

$$r = \frac{|1 + 2 - 2 - 34|}{\sqrt{1^2 + 2^2 + (-2)^2}} = \frac{33}{3} = 11$$



77. 답 ⑤

[해설] 구 S 의 중심 $C(1, 0, 0)$ 에서 평면 α 까지의 거리 d 는

$$d = \frac{|2 - k|}{\sqrt{4 + 1 + 4}} = \frac{|k - 2|}{3}$$

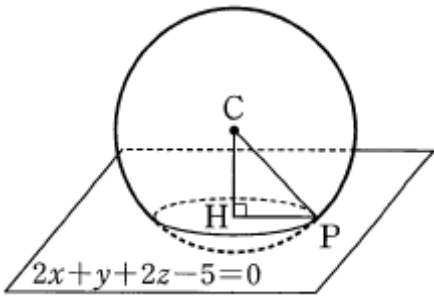
ㄱ. 평면 α 와 구 S 가 접할 때 교점이 한 개이므로

$$\frac{|k - 2|}{3} = 2 \text{에서 } k \text{의 값은 } k = -4 \text{ 또는 } k = 8 \text{의 2개다. (참)}$$

ㄴ. d 가 반지름의 길이 2보다 클 때, 평면 α 와 구 S 가 만나지 않으므로

$$d = \frac{|k - 2|}{3} > 2 \text{에서 } k < -4 \text{ 또는 } k > 8 \text{ (참)}$$

ㄷ. $k = 5$ 일 때, 구 S 와 평면 $2x + y + 2z - 5 = 0$ 의 교선은



위의 그림에서 반지름의 길이가 \overline{HP} 인 원이다.

$$\overline{CH} = \frac{|2 - 5|}{\sqrt{4 + 1 + 4}} = 1$$

이므로 직각삼각형 CHP 에서

$$\overline{HP} = \sqrt{\overline{CP}^2 - \overline{CH}^2} = \sqrt{4 - 1} = \sqrt{3}$$

따라서 구하는 원의 넓이는 3π 이다. (참)

그러므로 보기에서 참인 것은 ㄱ, ㄴ, ㄷ이다.

78. 답 ③

점 $A(1, 1, 1)$ 과 평면 $x + 2y - 2z = 31$ 사이의 거리 d 는

$$d = \frac{|1 + 2 \cdot 1 - 2 \cdot 1 - 31|}{\sqrt{1^2 + 2^2 + (-2)^2}} = 10$$

조건 (가)에서 두 구 C_1, C_2 의 부피의 비는 $1 : 8$, 즉 $1 : 2^3$ 이므로 반지름의 길이의 비는 $1 : 2$ 이다.

구 C_2 와 평면 α 의 접점을 B 라 하면 조건 (나), (다)에서 구 C_1 의 반지름의 길이가 최소일 때에는 오른쪽 그림과 같이 점 A 와 구 C_2 의 중심 및 점

B 가 한 직선 위에 있을 때이다.

이때, 두 구 C_1, C_2 의 반지름의 길이를 각각 $r, 2r$ 라 하면

$$\overline{AB} = d = r + 2 \cdot 2r = 5r = 10$$

$$\therefore r = 2$$

따라서 구하는 구 C_1 의 반지름의 길이의 최솟값은 2이다.

79. 답 16

[해설] 구 $x^2 + (y - 1)^2 + (z + 1)^2 = 1$ 의 중심 $(0, 1, -1)$ 에서 평면 $2x - 3y + 6z + d = 0$ 까지의 거리가 반지름의 길이와 같으면 접하므로

$$\frac{|0 - 3 - 6 + d|}{\sqrt{4 + 9 + 36}} = 1 \text{에서 } |d - 9| = 7$$

$$\therefore d = 2 \text{ 또는 } d = 16 \dots \textcircled{1}$$

또, 구 $(x + 1)^2 + (y - 1)^2 + (z + 3)^2 = 1$ 에 대해서도 마찬가지로 생각하면

$$\frac{|-2 - 3 - 18 + d|}{\sqrt{4 + 9 + 36}} = 1 \text{에서 } |d - 23| = 7$$

$$\therefore d = 16 \text{ 또는 } d = 30 \dots \textcircled{2}$$

$\textcircled{1}, \textcircled{2}$ 에서 $d = 16$

80. 답 ③

[해설] 두 구의 중심을 $A(2, 0, -2), B(5, 0, 2)$ 라 하자.

두 구가 만나서 생기는 원을 포함하는 평면은 두 구의 중심 A, B 를 지나는 직선에 수직이므로 평면 α 의 법선벡터를 \vec{n}_1 이라 하면

$$\vec{n}_1 = \overrightarrow{AB} = (3, 0, 4)$$

yz 평면의 법선벡터를 \vec{n}_2 라 하면

$$\vec{n}_2 = (1, 0, 0)$$

이라 할 수 있다.

평면 α 와 yz 평면이 이루는 각의 크기는 두 법선벡터 \vec{n}_1, \vec{n}_2 가 이루는 각의 크기와 같으므로

$$\cos\theta = \frac{\vec{n}_1 \cdot \vec{n}_2}{|\vec{n}_1||\vec{n}_2|} = \frac{3}{\sqrt{9+16}\sqrt{1}} = \frac{3}{5}$$

81. 답 ③

[해설] 두 평면이 평행하므로 법선벡터도 평행하다.

$$\text{따라서 } \frac{2}{1} = \frac{a}{2} = \frac{b}{-1} \text{ 이므로}$$

$$a = 4, b = -2$$

이 때, 평면 $x + 2y - z = 0$ 은 원점을 지나므로 두 평면 사이의 거리는 원점 $(0, 0, 0)$ 과 평면 $2x + 4y - 2z + 9 = 0$ 사이의 거리 d 와 같다.

$$\text{이 때 } d = \frac{|9|}{\sqrt{2^2 + 4^2 + (-2)^2}} = \frac{9}{2\sqrt{6}} = \frac{3\sqrt{6}}{4} \text{ 이므로 구하는 반}$$

지름의 길이 r 은

$$r = \frac{d}{2} = \frac{3\sqrt{6}}{8}$$

82. 답 ⑤

[해설] 평면 $x + y + z = 1$ 위의 점 $P(0, 0, 1)$ 을 잡으면 두 평면 사이의 거리는 점 $P(0, 0, 1)$ 과 평면 $x + y + z - 3 = 0$ 사이의 거리와 같다. 따라서 거리를 d 라 하면

$$d = \frac{|0+0+1-3|}{\sqrt{1^2+1^2+1^2}} = \frac{2\sqrt{3}}{3}$$

83. 답 ②

[해설] 선분 AB의 중점을 M이라 하면

$$|\overrightarrow{PA}| + |\overrightarrow{PB}| = |2\overrightarrow{PM}| = 2|\overrightarrow{PM}|$$

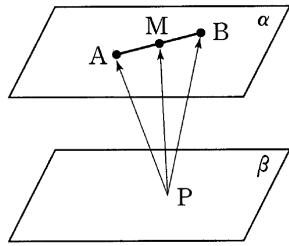
점 M에서 평면 β에 내린 수선의 발이 P 일 때, 최솟값을 갖는다.

이때, PM의 길이의 최솟값은 두 평면 α, β사이의 거리이고, 두 평면 사이의 거리는 평면 α 위의 점(0,0,0)과 평면 β사이의 거리이므로 최솟값은

$$\frac{|0+0-0-3|}{\sqrt{1^2+2^2+(-2)^2}} = 1$$

따라서 ∠PMA = π/2 이므로

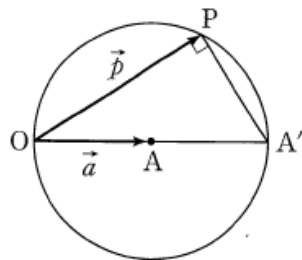
$$|\overrightarrow{PA}| + |\overrightarrow{PB}| = 2\sqrt{PM^2 + MA^2} = 2\sqrt{1^2+1^2} = 2\sqrt{2}$$



84. 답 ③

$$\begin{aligned} [해설] 0 &= |\vec{p}|^2 - 2\vec{a} \cdot \vec{p} = |\vec{p}|^2 - 2\vec{a} \cdot \vec{p} + |\vec{a}|^2 - |\vec{a}|^2 \\ &= |\vec{p} - \vec{a}|^2 - |\vec{a}|^2 \\ \therefore |\vec{p} - \vec{a}|^2 &= |\vec{a}|^2, \text{ 즉 } |\vec{p} - \vec{a}| = |\vec{a}| \end{aligned}$$

이것은 중심이 A이고 반지름의 길이가 |a| 인 원의 벡터방정식이므로 개형은 오른쪽 그림과 같다.



85. 답 ①

[해설] OA = a, OB = b, OP = x로 놓으면

$$|2\overrightarrow{AP} + \overrightarrow{BP}| = 4$$

$$\text{에서 } |2(\overrightarrow{OP} - \overrightarrow{OA}) + (\overrightarrow{OP} - \overrightarrow{OB})| = 4$$

$$\text{즉, } |2(\vec{x} - \vec{a}) + (\vec{x} - \vec{b})| = 4 \text{에서}$$

$$|3\vec{x} - (2\vec{a} + \vec{b})| = 4$$

$$\therefore \left| \vec{x} - \frac{2\vec{a} + \vec{b}}{3} \right| = \frac{4}{3}$$

따라서 점 P는 1/3(2a + b)를 중심으로 하고 반지름의 길이가 4/3인 원

위의 점이다. 그러므로 원 위의 임의의 점 Q에 대하여 |QR|가 항상 일정하게 되는 점 R는 원의 중심뿐이다.