

제 2교시

2021학년도 대학수학능력시험 대비 秀 모의고사 3회

수학 영역 (가형)

성명	
----	--

수험 번호						-				
-------	--	--	--	--	--	---	--	--	--	--

- 자신이 선택한 유형(가형/ 나형)의 문제인지 확인하시오.
- 문제지의 해당란에 성명과 수험번호를 정확히 쓰시오.
- 답안지의 필적 확인란에 다음의 문구를 정자로 기재하시오.

넌 머지않아 예쁜 꽃이 될 테니까

- 답안지의 해당란에 성명과 수험번호를 쓰고, 또 수험번호, 문형 (홀수/짝수), 답을 정확히 표시하시오.
- 단답형 정답에 '0'이 포함되면 그 '0'도 답란에 반드시 표시하시오
- 문항에 따라 배점이 다르니, 각 물음의 끝에 표시된 배점을 참고하시오. 배점은 2점, 3점 또는 4점입니다.
- 계산은 문제지의 여백을 활용하시오.

※ 시험이 시작되기 전까지 표지를 넘기지 마시오.

제 2 교시

수학 영역(가형)

출수형

5지선다형

1. $\sqrt[3]{\log_2 3 \times \log_3 256}$ 의 값은? [2점]

- ① 1 ② 2 ③ 3 ④ 4 ⑤ 5

2. $\lim_{x \rightarrow 0} \frac{\cos^2 x + \cos x - 2}{x^2}$ 의 값은? [2점]

- ① $-\frac{3}{2}$ ② $-\frac{1}{2}$ ③ 0 ④ $\frac{1}{2}$ ⑤ $\frac{3}{2}$

3. 두 사건 A, B 가 서로 독립이고,

$P(A^c \cap B) = 2P(A \cap B) = \frac{1}{6}$ 일 때, $P(B|A^c)$ 의 값은?

(단, A^c 은 A 의 여사건이고, $P(A^c) \neq 0$ 이다.) [2점]

- ① $\frac{1}{12}$ ② $\frac{1}{6}$ ③ $\frac{1}{4}$ ④ $\frac{1}{3}$ ⑤ $\frac{5}{12}$

4. $\sum_{n=1}^{\infty} \left(\frac{a_n}{n} - \frac{n^2+1}{2n^2} \right) = 2021$ 일 때, $\lim_{n \rightarrow \infty} \left(\frac{a_n}{n} + \frac{1}{a_n} \right)$ 의 값은? [3점]

- ① 4 ② 2 ③ 1 ④ $\frac{1}{2}$ ⑤ $\frac{1}{4}$

5. 연속확률변수 X 가 가지는 값의 범위는 $0 \leq X \leq 4$ 이고,

X 의 확률밀도함수 $f(x)$ 가 연속함수일 때, 함수 $F(x)$ 를

$$F(x) = \int_x^4 f(t) dt \text{라 하자. } F(1) = \frac{1}{2}, F(2) = \frac{1}{3} \text{일 때,}$$

$P(1 \leq X < 2)$ 의 값은? [3점]

- ① $\frac{1}{12}$ ② $\frac{1}{6}$ ③ $\frac{1}{4}$ ④ $\frac{1}{3}$ ⑤ $\frac{5}{12}$

6. $\int_e^{e^9} \frac{1}{x\sqrt{\ln x}} dx$ 의 값은? [3점]

- ① $\sqrt{2}$ ② $\sqrt{3}$ ③ $2\sqrt{2}$ ④ $2\sqrt{3}$ ⑤ 4

7. 매개변수 t ($t > 0$)으로 나타내어진 함수

$$x = \ln t, y = \frac{1}{3}t^3 - \frac{3}{2}t^2 - 9t \text{에서 } \frac{dy}{dx} \text{는 } t = a \text{에서 극값 } b \text{를}$$

가질 때, $a+b$ 의 값은? [3점]

- ① -24 ② -23 ③ -22
④ -21 ⑤ -20

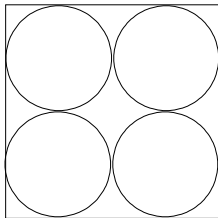
8. 수열 $\{a_n\}$ 이 모든 자연수 n 에 대하여

$$a_{n+1}^2 = a_n \times a_{n+2}$$

를 만족시킨다. $\lim_{n \rightarrow \infty} \frac{a_n}{4^n - 2} = 3$ 일 때, a_2 의 값은? [3점]

- ① 3 ② 6 ③ 12 ④ 24 ⑤ 48

9. 그림과 같이 정사각형과 정사각형에 내접하면서 서로 접하고 크기가 같은 원 4개가 있다. 원의 내부 또는 정사각형의 내부에 만들어지는 13개의 영역에 서로 다른 13가지 색을 모두 사용하여 칠하려고 한다. 한 영역에 한 가지 색만을 칠할 때, 색칠한 결과로 나올 수 있는 모든 경우의 수는? (단, 회전하여 일치하는 것은 같은 것으로 본다.) [3점]



- ① $\frac{13!}{6}$ ② $\frac{13!}{5}$ ③ $\frac{13!}{4}$ ④ $\frac{13!}{3}$ ⑤ $\frac{13!}{2}$

10. 수열 $\{a_n\}$ 이 모든 자연수 n 에 대하여

$$a_{n+1} = \frac{3}{4-a_n}, \quad \sum_{k=1}^n a_k = na_n$$

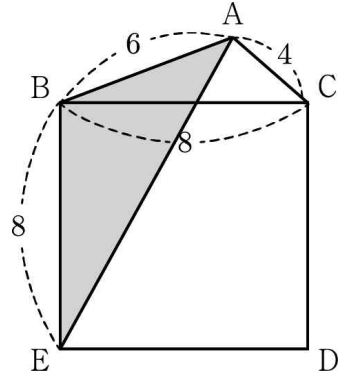
을 만족시킬 때, 서로 다른 모든 a_1 의 값의 합은? [3점]

- ① 1 ② 2 ③ 3 ④ 4 ⑤ 5

11. 직선 $y = -\frac{4}{3}x + k$ 가 두 곡선 $y = f(x)$, $y = \log_3 x$ 와 만나는 점을 각각 A, B라 할 때, 선분 AB의 길이는 실수 k 의 값에 관계없이 항상 5이다. 곡선 $y = f(x)$ 가 x 축, y 축과 만나는 점을 $(a, 0)$, $(0, b)$ 라 할 때, $a+b$ 의 값은?
(단, 점 A의 x 좌표는 점 B의 x 좌표보다 작다.) [3점]

- ① $\frac{163}{81}$ ② $\frac{164}{81}$ ③ $\frac{55}{27}$
- ④ $\frac{166}{81}$ ⑤ $\frac{167}{81}$

12. 그림과 같이 $\overline{AB}=6$, $\overline{BC}=8$, $\overline{AC}=4$ 인 삼각형 ABC에서 선분 BC를 한 변으로 하는 사각형 BEDC가 정사각형이 되도록 두 점 D, E를 잡을 때, 삼각형 ABE의 넓이는?
[3점]



- ① 18 ② 21 ③ 24 ④ 27 ⑤ 30

13. 표준편차가 25인 정규분포를 따르는 모집단에서 크기가 36,

144, n 인 표본을 임의추출한 결과를 이용하여 구한 모평균 m 에 대한 신뢰도 95%의 신뢰구간이 각각 $a \leq m \leq b$, $b \leq m \leq c$, $a \leq m \leq c$ 이다. $n \times (c-a)$ 의 값은? (단, Z 가 표준정규분포를 따르는 확률변수일 때 $P(0 \leq Z \leq 1.96) = 0.475$ 로 계산한다.) [3점]

- ① 98 ② 196 ③ 294 ④ 392 ⑤ 490

14. 열린구간 $(0, \frac{\pi}{2})$ 에서 정의된 함수

$$f(x) = \ln\left(\frac{p}{\csc x + \cot x}\right)$$

의 역함수를 $g(x)$ 라 할 때, $\lim_{x \rightarrow 1} \frac{x-1}{g(x) - \frac{\pi}{3}} = q$ 이다.

두 상수 p, q 의 곱 $p \times q$ 의 값은? [4점]

- ① e ② $\frac{3}{2}e$ ③ $2e$ ④ $\frac{5}{2}e$ ⑤ $3e$

15. 1보다 큰 세 양의 실수 a, b, c ($a < b < c$)가 다음 조건을 만족시킬 때, $\log_a c$ 의 값은? [4점]

(가) $\log_a b + \log_b c + \log_c a = \frac{47}{10}$
(나) $\log_a c + \log_c b + \log_b a = \frac{59}{10}$

- ① 3 ② $\frac{7}{2}$ ③ 4 ④ $\frac{9}{2}$ ⑤ 5

16. 수열 $\{a_n\}$ 에 대하여

$$\begin{cases} a_1 = \frac{1}{2} \\ (n+1)(n+2)a_{n+1} = n^2 a_n \quad (n=1, 2, 3 \dots) \end{cases}$$

일 때, 다음은 모든 자연수 n 에 대하여

$$\sum_{k=1}^n a_k = \sum_{k=1}^n \frac{1}{k^2} - \frac{n}{n+1} \quad \dots (*)$$

이 성립함을 수학적 귀납법으로 증명한 것이다.

(i) $n=1$ 일 때, (좌변) = $\frac{1}{2}$, (우변) = $1 - \frac{1}{2} = \frac{1}{2}$ 이므로

(*)이 성립한다.

(ii) $n=k$ 일 때, (*)이 성립한다고 가정하면

$$\sum_{i=1}^k a_i = \sum_{i=1}^k \frac{1}{i^2} - \frac{k}{k+1} \text{ 이다.}$$

$n=k+1$ 일 때,

$$\begin{aligned} \sum_{i=1}^{k+1} a_i &= \sum_{i=1}^k \frac{1}{i^2} - \frac{k}{k+1} + a_{k+1} \\ &= \sum_{i=1}^k \frac{1}{i^2} - \frac{k}{k+1} + \boxed{\text{(가)}} \times a_k \end{aligned}$$

이다.

$$\boxed{\text{(가)}} \times a_k = \frac{k^2}{(k+1)(k+2)} \times \frac{(k-1)^2}{k(k+1)} \times \dots \times \frac{1^2}{2 \times 3} \times a_1$$

이므로

$$\begin{aligned} \sum_{i=1}^{k+1} a_i &= \sum_{i=1}^k \frac{1}{i^2} - \frac{k}{k+1} + \boxed{\text{(나)}} \\ &= \sum_{i=1}^k \frac{1}{i^2} - \frac{k}{k+1} + \frac{1}{(k+1)^2} - \boxed{\text{(다)}} \\ &= \sum_{i=1}^{k+1} \frac{1}{i^2} - \frac{k+1}{k+2} \end{aligned}$$

이다.

그러므로 $n=k+1$ 일 때도 (*)이 성립한다.

따라서 모든 자연수 n 에 대하여 (*)이 성립한다.

위에 (가), (나), (다)에 알맞은 식을 차례로 $f(k), g(k), h(k)$ 라 할 때, $f(2)+g(2)+h(2)$ 의 값은? [4점]

- ① $\frac{1}{9}$ ② $\frac{2}{9}$ ③ $\frac{1}{3}$ ④ $\frac{4}{9}$ ⑤ $\frac{5}{9}$

17. 1부터 12까지의 자연수가 하나씩 적혀 있는 12개의 공이 들어 있는 상자에서 임의로 4개의 공을 동시에 꺼낼 때, 꺼낸 공에 적혀 있는 네 수 중 어떤 세 수의 합이 3의 배수인 경우가 존재할 확률은? [4점]

- ① $\frac{4}{5}$ ② $\frac{43}{55}$ ③ $\frac{42}{55}$ ④ $\frac{41}{55}$ ⑤ $\frac{8}{11}$

18. 실수 전체의 집합에서 미분가능한 함수 $f(x)$ 와 상수 a ($0 < a < \pi$)는 다음 조건을 만족시킬 때, $f(a)+f(2a)+f(3a)$ 의 값은? [4점]

- (가) 닫힌구간 $[-a, a]$ 에서 $f(x) = \sin x$ 이다.
 (나) 모든 실수 x 에 대하여 $f'(x+2a) = f'(x)$ 이다.
 (다) 실수 t 의 값에 관계없이 방정식 $f(x) = t$ 의 서로 다른 모든 실근의 개수는 5이다.

- ① 2 ② $\frac{7}{3}$ ③ $\frac{8}{3}$ ④ 3 ⑤ $\frac{10}{3}$

19. 정육각형 ABCDEF의 꼭짓점 A에 점 P가 있다.

1부터 18까지의 자연수가 하나씩 적혀 있는 18장의 카드가 들어 있는 주머니에서 한 장의 카드를 꺼내어 수를 확인하고 다시 주머니에 넣는다. 꺼낸 카드에 적혀 있는 수가 3의 배수이면 점 P가 나온 수만큼 꼭짓점을 따라 시계 방향으로 이동하고, 꺼낸 카드에 적혀 있는 수가 3의 배수가 아니면 점 P는 이동하지 않는다. 이와 같은 시행을 n 번 반복한 후 점 P가 점 A에 있을 확률을 p_n 이라 하자. 수열 $\{p_n\}$ 이 $p_{n+1} = a \times p_n + b$ 를 만족시킬 때, 두 상수 a, b 의 합 $a+b$ 의 값은? [4점]

- ① $\frac{1}{3}$ ② $\frac{1}{2}$ ③ $\frac{2}{3}$ ④ $\frac{5}{6}$ ⑤ 1

20. 함수 $f(x) = e^{\cos x}$ 에 대하여 함수 $g(x)$ 를

$g(x) = \int_0^x f(t) dt$ 라 할 때, <보기>에서 옳은 것만을 있는 대로 고른 것은? [4점]

<보 기>

- ㄱ. 모든 실수 x 에 대하여 $f(x) = f(2\pi - x)$ 이다.
 ㄴ. 모든 자연수 n 에 대하여 $g(n\pi) = ng(\pi)$ 이다.
 ㄷ. $\int_{\pi}^{5\pi} xf(x)dx = \int_{\pi}^{5\pi} g(x)dx$

- ① ㄱ ② ㄴ ③ ㄱ, ㄴ
 ④ ㄱ, ㄷ ⑤ ㄱ, ㄴ, ㄷ

21. 함수 $f(x) = e^x + x^2 - x - 1$ 과 양의 실수 s 에 대하여

함수 $F(x)$ 를 $F(x) = \int_0^x t\{f'(x-t) - s\} dt$ 라 하자.

$F'(x)$ 가 $x = a$ 에서 최소일 때, 실수 a 의 값을 $g(s)$ 라 하자.
 양의 실수 전체의 집합에서 미분가능한 함수 $g(s)$ 에 대하여

$$\int_{f'(1)}^{f'(10)} \frac{3\{g(s)\}^2}{e^{g(s)} + 2} ds \text{ 의 값은? [4점]}$$

- ① 995 ② 996 ③ 997
 ④ 998 ⑤ 999

단답형

22. $\left(2x - \frac{1}{x}\right)^6$ 의 전개식에서 x^2 의 계수를 구하시오. [3점]

23. 함수 $f(x) = \frac{e^{x-1}}{x} + \ln(5x-4)^x$ 에 대하여 $f'(1)$ 의 값을 구하시오. [3점]

24. 부등식 $\left(\frac{1}{9}\right)^{\log_2(x-6)} > \left(\frac{1}{3}\right)^{\log_2(x+6)}$ 을 만족시키는 모든 정수 x 의 값의 합을 구하시오. [3점]

25. 닫힌구간 $[0, 1]$ 에서 연속이고, 열린구간 $(0, 1)$ 에서 이계도함수가 존재하는 함수 $f(x)$ 의 역함수 $g(x)$ 가 존재할 때, 함수 $f(x)$ 는 다음 조건을 만족시킨다.

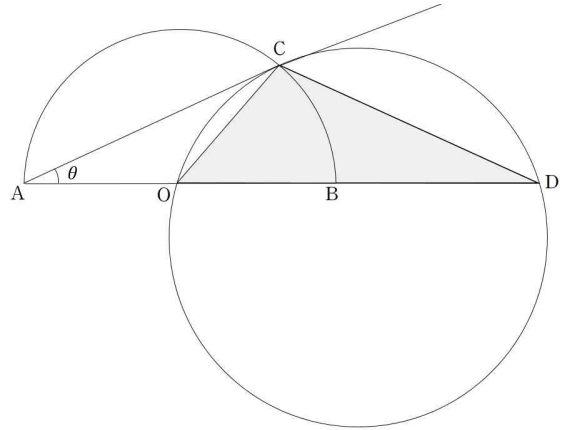
(가) $f(0)=0, f(1)=1$
 (나) $0 < x < 1$ 인 모든 x 에 대하여
 $f'(x) > 0, f''(x) > 0$ 이다.

$\lim_{n \rightarrow \infty} \sum_{k=1}^n \left\{ f\left(\frac{k}{n}\right) + g\left(\frac{k}{n}\right) - f\left(\frac{k-1}{n}\right) - g\left(\frac{k-1}{n}\right) \right\} \frac{k}{n}$ 의 값은 p 일 때, $100p$ 의 값을 구하시오. [3점]

26. 두 사람 A와 B가 각각 동전 한 개를 동시에 던지는 시행을 한다. 이 시행에서 앞면이 적어도 하나 나오면 A가 2점을 얻고, 그렇지 않으면 B가 3점을 얻는다. 이와 같은 시행을 16번 반복한 후 A가 얻는 점수를 X , B가 얻는 점수를 Y 라 할 때, $E(X^2) - E(Y^2)$ 의 값을 구하시오. [4점]

27. 자연수 n 에 대하여 $m - \frac{1}{2} < \sqrt{n} < m + \frac{1}{2}$ 을 만족시키는 자연수 m 의 값을 a_n 이라 하자. 예를 들어, $a_2 = 1$ 이고 $a_3 = 2$ 일 때, $\sum_{k=1}^{420} \frac{1}{a_k}$ 의 값을 구하시오. [4점]

28. 그림과 같이 중심이 O 이고 길이가 2인 선분 AB 를 지름으로 하는 반원 위에 점 C 를 $\angle CAB = \theta$ 가 되도록 잡는다. 점 O 를 지나고 직선 AC 와 점 C 에서 접하는 원이 직선 AB 와 만나는 점 중 점 O 가 아닌 점을 D 라 하자. 삼각형 OCD 의 넓이를 $S(\theta)$ 라 할 때, $\lim_{\theta \rightarrow 0^+} \frac{S(\theta)}{\theta}$ 의 값을 구하시오. (단, $0 < \theta < \frac{\pi}{6}$) [4점]



29. 집합 $A = \{1, 2, 3, 4\}$ 에서 집합 $B = \{1, 2, 3, \dots, 7\}$ 로의 함수 $f: A \rightarrow B$ 중에서 $f(1)+f(2)+f(3)+f(4)=16$ 을 만족시키는 모든 함수 f 의 개수를 구하시오. [4점]

30. 최고차항의 계수가 6인 이차함수 $f(x)$ 에 대하여 함수 $g(x)$ 를

$$g(x) = \int_{-1}^{\cos x} f(t) dt$$

라 하자. $g(x)$ 가 $x=a$ 에서 극대 또는 극소이고, $a \geq 0$ 인 모든 a 의 값을 작은 수부터 크기순으로 나열한 것을 $a_1, a_2, a_3 \dots$ 라 할 때, 다음 조건이 성립한다.

$$\begin{aligned} \text{(가)} \quad & a_6 - a_2 = \frac{3}{2}\pi \\ \text{(나)} \quad & f'(0) \leq 0 \end{aligned}$$

$g(0)$ 의 최솟값을 m 이라 할 때, m^2 의 값을 구하시오. [4점]

※ 확인 사항 ※

문제지와 답안지의 해당란을 정확히 기입(표기)했는지 확인하시오.

- ※ 시험이 시작되기 전까지 표지를 넘기지 마시오.
- ※ 이 문제지에 대한 저작권은 메가스터디학원에 있습니다.