

제작 : 김기대 T

### <안내사항>

1. EBS는 최근 체감연계율이 매우 높아졌기 때문에, 전문항 1회독 후 선별문항 2회독 이상 하길 추천합니다.
2. 본 파일은 EBS를 한 번도 보지 않은 학생들을 기준으로 선별되었습니다.  
따라서 EBS를 전문항 1회독을 한 학생들은 별표 (중요도)가 3개 이상인 문제들만 보아도 좋습니다.

### <중요도 관련 안내>

※ 문항의 절대적 난이도와 중요도는 상관관계가 없습니다.

- 3점짜리 쉬운 문제여도 신박한 표현이나 완성도 높은 문항은 上등급,  
4점짜리 매우 어려운 문제여도 수능스럽지 않은 문항은 下등급을 부여했습니다.

※ 선별 기준 및 별표 등급 안내

선별 기준: 타 교재에서 흔히 볼 수 있고 쉬운 문제는 선별에서 제외, 흔한 문제지만 중요한 문제는 선별.

★등급, ★★등급)

수능 연계 가능성이 적거나 흔한 문제.

★★★등급)

적절한 변형을 가하면 수능 연계 가능성이 약간 보이는 문항, 시중 퀄리티를 보이는 문항

★★★★등급)

적절한 변형을 가하면 수능 연계 가능성이 꽤 높아보이는 문항

★★★★★등급)

자체적으로 완성형인 문제. (=탈 EBS 퀄리티 문항)

오히려 이 완결성 때문에 직접연계가 아닌 간접연계가 되어야하는 아이러니함을 가진 문제.

### <주의사항>

1. 본 파일은 수작업한 파일이므로, 간단한 오타와 순서 뒤틀림 등이 있을 수 있습니다.  
정오사항을 말씀해주시면 신속히 공지하겠습니다. (Comment에서의 문법적인 오타도 있지만, 작업량이 너무 많아 적당한 건 넘어갔습니다. 맞춤법이 아쉬운 부분이 이쎬도 바주도록 하자.)
2. 문항을 제외한 *Comment에 대한 인용* 은 저자 외에 불허합니다.

7. 다음 조건을 만족시키는 음이 아닌 정수  $a, b, c, d$ 의 모든 순서쌍  $(a, b, c, d)$ 의 개수는? [3점]

(가)  $a+b+c+d=8$   
 (나)  $a$ 는 홀수이다.  
 (다)  $c \geq d$

- ① 32      ② 34      ③ 36      ④ 38      ⑤ 40

중요도	★★★★★	쪽 번	028 001	문항코드	2009-0051
-----	-------	--------	------------	------	-----------

**기대 Comment**

전형적으로 ‘출제자’와 ‘해설자’가 달라서 생긴 문제의 가치를 고재 스스로가 평가하면 아쉬운 문제이다.  
 해설대로 풀면 절대 1등급의 눈을 가졌다고 자부할 수 없다. 이번 10월 교육청에서도 나온, 대충성을 적극적으로 활용할 수 있어야 한다.

(가), (나)는 전제조건이라고 하자.  $c > d$ 인 경우의 수와  $c < d$ 인 경우의 수는 같기 때문에, 전체 경우의 수에서  $c = d$ 인 경우의 수를 빼고 반딩을 하면 구할 수 있다. 따라서 전체 경우의 수를  $m$ 이라 하고  $c = d$ 인 경우의 수를  $n$ 이라고 하면, 정답은  $\frac{m-n}{2} + n = \frac{m+n}{2}$  이다.

이것만큼은 반드시 이해하고 들어가자. 초은 3기년간 학종에서의 대충성이 많이 쓰였다. (대부분 풀이들이 논리 없이 ‘이렇게 하면 정답 나오니까 알아둬라~’라고 쓴 풀이들이라 수학전공자로서 안타깝...)

이번 가형 10월 교육청 29번에서도 비슷한 논리가 쓰였는데, 다음 페이지 칼럼에서 대충성 꼭 잡고 가기로 하자.

**<칼럼과 통계 칼럼 - 대충성>**

본 칼럼은 내년에 출간될 기대의 실전기법서에 들어가는 내용으로, 합부로 옮겨 쓰면 큰일나요 ^^

29. 다음 조건을 만족시키는 자연수  $a, b, c$ 의 모든 순서쌍  $(a, b, c)$ 의 개수를 구하시오. [4점]

(가)  $a < b < c \leq 20$   
 (나) 세 변의 길이가  $a, b, c$ 인 삼각형이 존재한다.

위 문제는 이번 10월 교육청 가형 29번에 있는 문제이다. 나형에는 다른 문제가 대체되어 나왔으므로 문과 친구들은 알기 전에 물어보도록 하고, 이 문제를 풀아본 이과 친구들 역시 다시 한 번 물어보도록 하자. 내 생각엔 10명 중 8명은 비효율적인 방법으로 풀었을 것이라 생각하고, 효율적인 방법을 찾은 나머지 2명 미더도 이 중 1명은 논리가 반박할 것이라 생각한다.

자, 그럼 풀이 스타트

(가)에 의하여  $a, b, c$ 는 20이하의 자연수이다.  
 또한 (가), (나)에 의하여  $a < b < c < a+b$  이다. (삼각형의 곁정조건 물론  $a < b+c, b < c+a$ 도 만족시켜야 하지만, (가)의 조건식 때문에 쉽게 만족시킴을 알 수 있다)

여기서 주목할 식은  $c < a+b$ 이다. 이 식을 포함하여, 비슷한 식 3개를 써 보겠다.

- ①  $a < b < c$  이면서  $c < a+b$
- ②  $a < b < c$  이면서  $c > a+b$
- ③  $a < b < c$  이면서  $c = a+b$

우오오오오오오 ①, ②가 부등식 방향만 다르니까 대충적이에오오오오오

... 그렇다. 그렇게 하면 정답은 나온다. 근데 이렇게 풀면 논리부족이다. 왜냐면 ①~③의 조건 말고도  $a < b < c$ 의 조건이 있기 때문이다.

직관적으로 생각해보면  $c$ 보다 작은  $a, b$ 를 대한  $a+b$ 란 값은  $c$ 보다 클 확률보다는 작을 확률이 좀 더 높아보이는데 일반적인 직관이다. (아니면 그 반대거나.)

적어도  $a+b < c$ 인 경우와  $a+b > c$ 인 경우가 정확히 같을 것이라곤 손을 꼽을만한 직관을 가진 사람은 없을거라 생각한다.

1. 1쪽에 보통 2문제씩 문제들이 있고, 하단에 해당 문제에 대한 Comment가 있습니다. 위 문항을 직접 푼 후 읽는 것이 좋습니다.
2. 우측단에 있는 내용처럼 문항에 관련된 칼럼이나 자작문제가 실릴 때가 있습니다. 해당 칼럼/자작문제 역시 EBS 본문항을 푼 후 보시는걸 추천드립니다.
3. 배점표시 ([2점] [3점] [4점])는 무시해주시면 됩니다.

제 2 교시

# 수능완성 가형 수학1 모음

홀수형

**5지선다형**

1.  $2^{a-1} = 3, 6^{b+1} = 96$  일 때,  $2^{ab}$ 의 값은? [2점]

- ① 12      ② 14      ③ 16      ④ 18      ⑤ 20

중요도	★★	쪽 번	009 007	문항코드	20050-0007
-----	----	--------	------------	------	------------

2.  $a > 1$ 인 실수  $a$ 에 대하여 곡선  $y = a^x$ 과 원

$$C: x^2 + \left(y - \frac{5}{3}\right)^2 = \frac{73}{36}$$

이 만나는 서로 다른 두 점을 각각 A,

B라 하자. 두 점 A, B가 원 C의 지름의 양 끝점일 때,  $a$ 의 값은? [3점]

- ① 9      ② 8      ③ 7      ④ 6      ⑤ 5

중요도	★★★★	쪽 번	013 021	문항코드	20050-0021
-----	------	--------	------------	------	------------

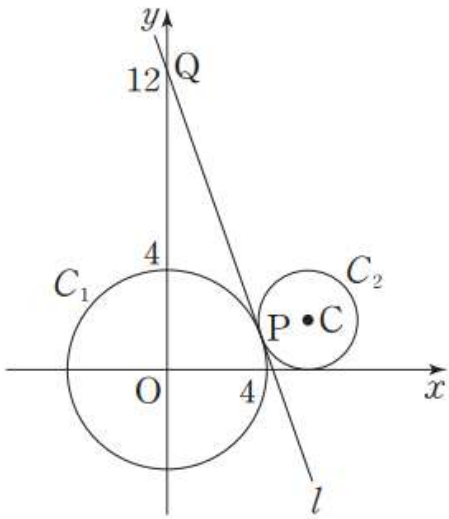
**기대T Comment**

단순해보이지만 당황할 수 있는 문제.  
한 식만 계속 바라보지 말고, 두 식을 계속 왔다갔다하며 볼 필요가 있다.

**기대T Comment**

좋은 문제. 재작년 수능기출문제가 떠오르는 문제다.

3. 그림과 같이 좌표평면에서 원  $C_1 : x^2 + y^2 = 16$  위의 제1사분면에 있는 점 P에서의 접선  $l$ 과  $y$ 축이 만나는 점 Q의  $y$ 좌표는 12이다. 원  $C_1$ 과 점 P에서 접하고  $x$ 축에 동시에 접하는 원을  $C_2$ 라 하고, 원  $C_2$ 의 중심을 C라 하자.  
 $\tan^2 (\angle CQP) = \frac{q}{p}$ 일 때,  $p+q$ 의 값을 구하시오. (단,  $p$ 와  $q$ 는 서로소인 자연수이다.) [3점]

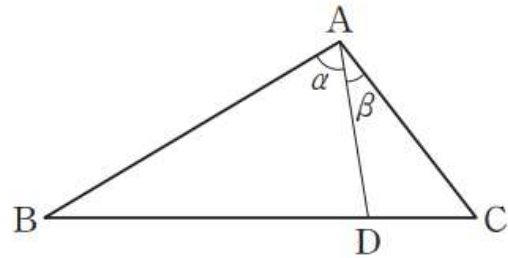


중요도	★★★★	쪽 번	025 011	문항코드	20050-0049
-----	------	--------	------------	------	------------

**기대T Comment**

원에 접선이 나왔을 때 해야할 행동들(원의 중심과 접점 잇고 수직표시)을 하고나서 관찰하자.

4. 그림과 같이 삼각형 ABC에서 변 BC를 3 : 1로 내분하는 점을 D라 하고,  $\angle DAB = \alpha, \angle CAD = \beta$ 라 하자.  
 $\sin \beta = \frac{8}{15} \sin \alpha$ 일 때,  $\frac{AB}{AC} = \frac{q}{p}$ 이다.  $p+q$ 의 값을 구하시오. (단,  $p$ 와  $q$ 는 서로소인 자연수이다.) [3점]



중요도	★★★★★	쪽 번	029 021	문항코드	20050-0072
-----	-------	--------	------------	------	------------

**기대T Comment**

각 ADB와 각 ADC의 sin값이 같음을 주목하자. 출제 매우 유력 소재!

# <수능 후 이과 수리논술 Final 개강안내 - 대치오르비>

자세한 수업시간은 아래 QR코드로 확인 가능합니다.

1주차 (Basic, 한양, 건국, 동국, 과기대)	2주차 (연세, 광운+세종, 중앙, 이대, 아주, 에리카)	3주차 (인하대)
		

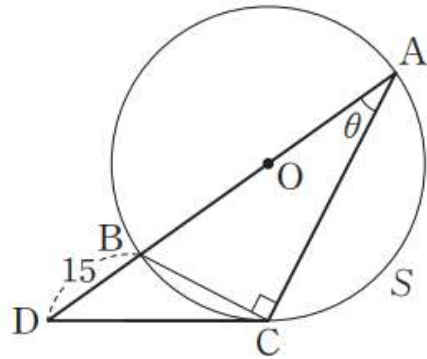
개강학교 (근교순)	회차* (기간)	수업일	수업소개 / 마감주의알림 (작년 마감속도 기준)
논술 Basic	1회 (1일)	3(수능 당일) 저녁	- 논술을 본격적으로 준비한 기간이 4개월 이하인 학생들은 수강 강력 추천! - <b>작년 기준 빠른 마감, 수능 전 등록 추천</b>
건국대	2회 (1일)	4(금) 점심+저녁	- 아주대와 약간 다른 수학적 자료해석형. 덕분에 충분히 도전해볼만한 난이도. - 당일 집중 특강으로 건국대 스타일 파악? 핵가능!
동국대	1회 (1일)	5(토) 점심	- 독보적 출제 스타일을 가진 학교. 이에 당황하지 않도록 동국대 유형에 필수인 '수학적 모델링 전략'을 제시
광운대 & 세종대	4회 (4일)	8(화) 아침 + 9(수)~11(금) 점심	- 광운대의 제시문이 더 친절하다는 점을 제외하고, 많은 점이 닮은 두 학교. 과목별 패턴분석으로 효율적 정복 가능! - <b>작년 기준 빠른 접수, 수능 전 예약/등록 추천</b>
연세대	4회 (2일)	6(일) 저녁 + 7(월) 아침+점심+저녁	- 쉬워지는 과학논술, 수리논술 고득점은 필수! - 예상모의고사로 최근 3년간 급변하고 있는 연대 수리논술 경향을 간접경험 - <b>올해 최대 응시자수! 빠른 마감 예상, 수능 전 등록 추천</b>
에리카	3회 (1일)	13(일) 아침+점심+저녁	- 본캠 시험출제에 영감을 주는 본캠이 있다?? 우수한 출제력, 그 때문에 지원자들에게겐 버거운 난이도... <b>Final 수강 추천</b>
아주대	3회 (1일)	12(토) 아침+점심+저녁	- 까다로운 자료해석형 시험출제경향. 이를 아는 것과 모르는 것의 차이가 체감난이도로 직결되는 학교!
이화여대	3회 (1일)	9(수)~11(금) 아침	- 문제는 어려우나 합격자 점수를 보면 '해볼만한데?'란 생각이 드는 학교. - 타학교보다 감점에 신경 써야하는 특수성이 있는 학교. 꼼꼼한 첨삭 제공!
인하대	6회 (6일)	14(월)~19(토) ① 점심반 ② 저녁반	- 인하대 논술이 한양대보다 어렵다고? 그래, 어려운 시험이지.. 떨어지기 어려운 시험! 인하대의 특성을 아는 순간, 체감 난이도는 급하강 - 기대T의 시그니처 수리논술 Final로, 모든 Final 중 수업 후 만족도가 제일 높은 수업** <b>작년 기준 매우 빠른 마감, 수능 전 등록 강추</b>
서울 과기대	3회 (2일)	5(토) 저녁 + 6(일) 아침+점심	- 지원자 실력 대비 어렵게 출제하는 과기대는, 중앙대와 달리 살짝 선 넘을 필요가 있다. 그 선, 내가 제시해줄게.
중앙대	4회 (4일)	8(월) ~ 11(목) 저녁	- 수능 전에 굳이 하지 마라. 중앙대는 Final로 충분히 준비되는 학교니까. - 과유불급! 합격의 선을 정확히, 과하지 않게 제시하는 수업 <b>Final 수강 추천</b>
한양대	4회 (1일)	4(금) 아침+점심+ 점저+저녁	- 작년보다 빨라진 한양대의 논술시계 ... 예상모의고사 4회분으로 실력 점검하고 역대 우수기출 총정리된 자습자료로 빠르게 한양대 스타일 흡수! - <b>작년 기준 매우 빠른 마감, 수능 전 등록 강추</b>
한양대 (의예과)	1회 (일)	5(토) 점심	- 다른 학원 한양대의대 Final 수업내용과 겹치지 않아 중복수강할 수 있음. - 고난도 모의고사 2회분으로 자신의 실력을 한번 더 체크해볼 수 있는 기회

\* : 회차가 구분된 수업은 모두 '다른 수업'입니다. 내용이 같은 수업은 인하대 점심반/저녁반 이외에 없습니다.

\*\* : 수업 후 설문조사 결과 97.64%가 수업/첨삭 '모두 만족' 답변 ('모두 불만족' 응답률 0%)

5. 그림과 같이  $\angle ACB=90^\circ$  인 직각삼각형 ABC의 빗변 AB를 지름으로 하고 중심이 O인 원을 S라 하고,  $\angle CAB=\theta$ 라 하자. 원 S 위의 점 C에서의 접선이 반직선 AB와 만나는 점을 D라 할 때, 다음 조건을 만족시킨다. [4점]

- (가)  $\overline{DB}=15$
- (나)  $\overline{AB} \times 5 \sin^2 \theta = 21$



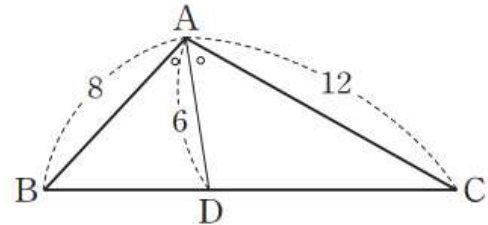
선분 DC의 길이를 구하시오.

중요도	★★★★	쪽 번	032 036	문항코드	20050-0074
-----	------	--------	------------	------	------------

**기대 Comment**

접현각 BCD의 존재를 잊지마시게나..

6. 그림과 같이 삼각형 ABC에서  $\angle A$ 의 이등분선이 변 BC와 만나는 점을 D라 하자.  $\overline{AB}=8, \overline{AC}=12, \overline{AD}=6$ 일 때, 선분 BC의 길이를 l이라 하자. l<sup>2</sup>의 값을 구하시오. [4점]



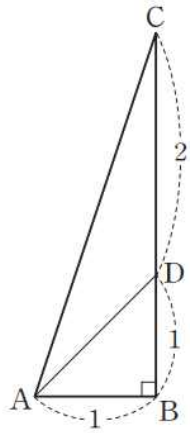
중요도	★★★★	쪽 번	032 037	문항코드	20050-0075
-----	------	--------	------------	------	------------

**기대 Comment**

각의 이등분선 정리 이후 두 각 ADB, ADC의 코사인값이 똑같음을 이용하여 푸는 문제.

사실, 스투와트정리라는 유명한 공식이 있지만, 수능이 얼마 남지 않았으므로 우선 Pass

7. 그림과 같이  $B=90^\circ$  이고,  $\overline{AB}=1, \overline{BC}=3$ 인 직각삼각형 ABC에서 선분 BC를 1:2로 내분하는 점을 D라 하자.  $\cos(\angle CAD)$ 의 값은? [4점]

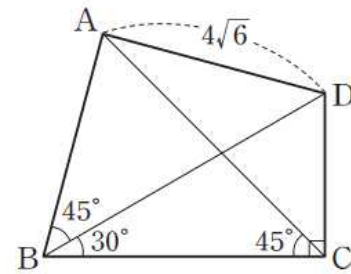


- ①  $\frac{\sqrt{5}}{5}$     ②  $\frac{\sqrt{5}}{4}$     ③  $\frac{3\sqrt{5}}{10}$     ④  $\frac{7\sqrt{5}}{20}$     ⑤  $\frac{2\sqrt{5}}{5}$

중요도	★★★	쪽 번	034 041	문항코드	20050-0079
-----	-----	--------	------------	------	------------

기대 Comment					
코사인법칙을 쓸 것인가, 탄젠트 공식을 쓸 것인가. 그것은 묻는 것이 정한다. cos값을 묻고 있으므로, 전자의 전략을 취하자.					

8. 그림과 같이  $C=90^\circ$ ,  $AD=4\sqrt{6}$ 인 사각형 ABCD에서  $\angle ABD=45^\circ, \angle DBC=30^\circ, \angle BCA=45^\circ$  때, 선분 BC의 길이는? [4점]



- ① 8    ② 10    ③ 12    ④ 14    ⑤ 16

중요도	★★★★	쪽 번	035 046	문항코드	20050-0084
-----	------	--------	------------	------	------------

기대 Comment					
75도는 45도와 30도로 나눌 수 있음을 항상 인지할 필요가 있다.					

9. X [3점]

10. 첫째항이 20인 등차수열  $\{a_n\}$ 의 첫째항부터 제n항까지의 합을  $S_n$ 이라 하자.  $S_{10} = S_{11}$ 일 때,  $S_n < 0$ 을 만족시키는 자연수 n의 최솟값은? [3점]

- ① 17      ② 18      ③ 19      ④ 21      ⑤ 22

중요도	★★★★	쪽 번	042 011	문항코드	20050-0101
-----	------	--------	------------	------	------------

기대 Comment

$S_{10} = S_{11}$  이기 위한 조건인  $a_{11} = 0$ 을 바로 캐치할 수 있어야겠다.



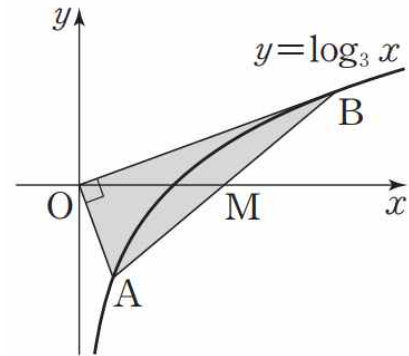
11. X [3점]

- ① 17      ② 18      ③ 19      ④ 20      ⑤ 21

12. 그림과 같이 함수  $y = \log_3 x$ 의 그래프 위의 서로 다른 두 점 A, B가 다음 조건을 만족시킨다.

- (가) 선분 AB의 중점 M은  $x$ 축 위에 있다.  
 (나) 두 직선 OA, OB는 서로 수직이다.

삼각형 OAB의 넓이는? (단, O는 원점이다.) [3점]



- ①  $\frac{3}{2}$       ②  $\frac{5}{3}$       ③  $\frac{11}{6}$       ④ 2      ⑤  $\frac{13}{6}$

중요도	★★★★★	쪽 번	148 012	문항코드	20050-0386
-----	-------	--------	------------	------	------------

기대T Comment

좋은 문제. 작년 6평 15번 문제가 생각난다면 당신은 기.마  
 (기출마스터라는 뜻)

13. 모든 항이 음이 아닌 정수로 이루어진 수열  $\{a_n\}$ 이 다음 조건을 만족시킨다.

(가) 모든 자연수  $n$ 에 대하여

$$a_{n+1} = \begin{cases} \frac{1}{2}a_n & (a_n \text{이 } 0 \text{ 또는 짝수인 경우}) \\ \frac{1}{2}(a_n - 1) & (a_n \text{이 } 0 \text{ 홀수인 경우}) \end{cases}$$

가 성립한다.

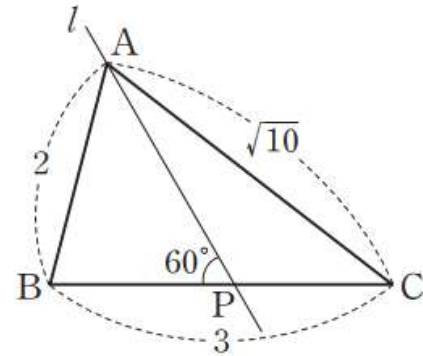
(나) 수열  $\{a_n\}$ 에서  $a_n \neq 0$ 을 만족시키는 항의 개수는 5이다.

$\sum_{k=1}^{10} a_k = 47$ 일 때,  $a_1 + a_5$ 의 값은? [3점]

- ① 24      ② 26      ③ 28      ④ 30      ⑤ 32

중요도	★★★★	쪽 번	150 019	문항코드	20050-0393
-----	------	--------	------------	------	------------

14. 그림과 같이 삼각형 ABC에서  $\overline{AB}=2, \overline{BC}=3, \overline{AC}=\sqrt{10}$ 이고, 점 A를 지나는 직선  $l$ 이 변 BC 위의 점 P에서 만난다.  $\angle BPA = 60^\circ$ 일 때, 점 P는 선분 BC를  $2:(a+b\sqrt{5})$ 로 내분하는 점이다.  $a^2 + b^2$ 의 값을 구하시오. (단,  $a, b$ 는 유리수이다.) [3점]



- ① 16      ② 18      ③ 20      ④ 22      ⑤ 24

중요도	★★★★★	쪽 번	153 029	문항코드	20050-0403
-----	-------	--------	------------	------	------------

기대T Comment
수열의 귀납적 정의의 해법은, 노가다를 여러번 해보는 것이 대비드비아.

기대T Comment
6번을 거꾸로 간다고 생각하면 편하다.

15. 모든 항이 양수인 등비수열  $\{a_n\}$ 의 공비가 1보다 작은 유리수이고, 수열  $\{b_n\}$ 이 모든 자연수  $n$ 에 대하여

$$b_n = \begin{cases} a_n & (n \text{이 홀수인 경우}) \\ \frac{1}{a_n} & (n \text{이 짝수인 경우}) \end{cases} \text{을 만족시킨다.}$$

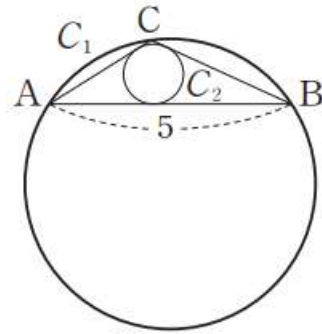
$b_5$ 가 소수인 자연수이고, 수열  $\{b_n\}$ 의 항 중 자연수인 모든 항의 합이 637일 때,  $a_{11} = \frac{\beta}{\alpha}$ 이다.  $\alpha + \beta$ 의 값을 구하시오. (단,  $\alpha$ 와  $\beta$ 는 서로소인 자연수이다.) [3점]

중요도	★★★★	쪽 번	160 027	문항코드	20050-0431
-----	------	--------	------------	------	------------

16. 그림과 같이 삼각형 ABC의 외접원을  $C_1$ , 내접원을  $C_2$ 라 하고, 두 원  $C_1, C_2$ 의 반지름의 길이를 각각  $R_1, R_2$ 라 하자.

$$\overline{AB} = 5 \text{이고 } \cos A = \frac{4}{5}, \cos B = \frac{2\sqrt{5}}{5} \text{ 일 때, } \frac{R_1}{R_2} = \frac{a+b\sqrt{5}}{4} \text{ 이다.}$$

$a+b$ 의 값을 구하시오. (단,  $a, b$ 는 자연수이다.) [3점]



중요도	★★★★	쪽 번	161 029	문항코드	20050-0433
-----	------	--------	------------	------	------------

기대T Comment	
역대급 난이도의 문제이지만 난이도의 근원지가 '소수'라는 교과과정상 지엽적개념이기 때문에 별로 추천되는 문제는 아니다.	
하지만 긴 호흡을 참아내고 어려운 수열문제를 풀어낼 수 있는 능력을 기르기에 괜찮은 문항.	

기대T Comment	
코사인법칙/사인법칙을 자유롭게 쓸 수 있는 수준에 도달해야 한다. 실전에 나오기 딱 좋은 난이도의 문항.	
만약 나에게 변형할 수 있는 기회가 있다면 원주각 정도를 섞고 싶다.	

# <수능 후 이과 수리논술 Final 개강안내 - 대치오르비>

자세한 수업시간은 아래 QR코드로 확인 가능합니다.

1주차 (Basic, 한양, 건국, 동국, 과기대)	2주차 (연세, 광운+세종, 중앙, 이대, 아주, 에리카)	3주차 (인하대)
		

개강학교 (근교순)	회차* (기간)	수업일	수업소개 / 마감주의알림 (작년 마감속도 기준)
논술 Basic	1회 (1일)	3(수능 당일) 저녁	- 논술을 본격적으로 준비한 기간이 4개월 이하인 학생들은 수강 강력 추천! - <b>작년 기준 빠른 마감, 수능 전 등록 추천</b>
건국대	2회 (1일)	4(금) 점심+저녁	- 아주대와 약간 다른 수학적 자료해석형. 덕분에 충분히 도전해볼만한 난이도. - 당일 집중 특강으로 건국대 스타일 파악? 핵가능!
동국대	1회 (1일)	5(토) 점심	- 독보적 출제 스타일을 가진 학교. 이에 당황하지 않도록 동국대 유형에 필수인 '수학적 모델링 전략'을 제시
광운대 & 세종대	4회 (4일)	8(화) 아침 + 9(수)~11(금) 점심	- 광운대의 제시문이 더 친절하다는 점을 제외하고, 많은 점이 닮은 두 학교. 과목별 패턴분석으로 효율적 정복 가능! - <b>작년 기준 빠른 접수, 수능 전 예약/등록 추천</b>
연세대	4회 (2일)	6(일) 저녁 + 7(월) 아침+점심+저녁	- 쉬워지는 과학논술, 수리논술 고득점은 필수! - 예상모의고사로 최근 3년간 급변하고 있는 연대 수리논술 경향을 간접경험 - <b>올해 최대 응시자수! 빠른 마감 예상, 수능 전 등록 추천</b>
에리카	3회 (1일)	13(일) 아침+점심+저녁	- 본캠 시험출제에 영감을 주는 본캠이 있다?? 우수한 출제력, 그 때문에 지원자들에게겐 버거운 난이도... <b>Final 수강 추천</b>
아주대	3회 (1일)	12(토) 아침+점심+저녁	- 까다로운 자료해석형 시험출제경향. 이를 아는 것과 모르는 것의 차이가 체감난이도로 직결되는 학교!
이화여대	3회 (1일)	9(수)~11(금) 아침	- 문제는 어려우나 합격자 점수를 보면 '해볼만한데?'란 생각이 드는 학교. - 타학교보다 감점에 신경 써야하는 특수성이 있는 학교. 꼼꼼한 첨삭 제공!
인하대	6회 (6일)	14(월)~19(토) ① 점심반 ② 저녁반	- 인하대 논술이 한양대보다 어렵다고? 그래, 어려운 시험이지.. 떨어지기 어려운 시험! 인하대의 특성을 아는 순간, 체감 난이도는 급하강 - 기대T의 시그니처 수리논술 Final로, 모든 Final 중 수업 후 만족도가 제일 높은 수업** <b>작년 기준 매우 빠른 마감, 수능 전 등록 강추</b>
서울 과기대	3회 (2일)	5(토) 저녁 + 6(일) 아침+점심	- 지원자 실력 대비 어렵게 출제하는 과기대는, 중앙대와 달리 살짝 선 넘을 필요가 있다. 그 선, 내가 제시해줄게.
중앙대	4회 (4일)	8(월) ~ 11(목) 저녁	- 수능 전에 굳이 하지 마라. 중앙대는 Final로 충분히 준비되는 학교니까. - 과유불급! 합격의 선을 정확히, 과하지 않게 제시하는 수업 <b>Final 수강 추천</b>
한양대	4회 (1일)	4(금) 아침+점심+ 점저+저녁	- 작년보다 빨라진 한양대의 논술시계 ... 예상모의고사 4회분으로 실력 점검하고 역대 우수기출 총정리된 자습자료로 빠르게 한양대 스타일 흡수! - <b>작년 기준 매우 빠른 마감, 수능 전 등록 강추</b>
한양대 (의예과)	1회 (일)	5(토) 점심	- 다른 학원 한양대의대 Final 수업내용과 겹치지 않아 중복수강할 수 있음. - 고난도 모의고사 2회분으로 자신의 실력을 한번 더 체크해볼 수 있는 기회

\* : 회차가 구분된 수업은 모두 '다른 수업'입니다. 내용이 같은 수업은 인하대 점심반/저녁반 이외에 없습니다.

\*\* : 수업 후 설문조사 결과 97.64%가 수업/첨삭 '모두 만족' 답변 ('모두 불만족' 응답률 0%)

17. 모든 자연수  $n$ 에 대하여 두 등차수열  $\{a_n\}$   $\{b_n\}$ 은 다음을 만족시킨다.

$$\frac{\sum_{k=1}^n a_k}{\sum_{k=1}^n b_k} = \frac{2n+1}{4n+1} \left( \text{단, } \sum_{k=1}^n b_k \neq 0 \right)$$

보기에서 옳은 것만을 있는 대로 고른 것은? [3점]

< 보 기 >

ㄱ.  $\frac{a_1}{b_1} = \frac{3}{5}$

ㄴ.  $n = 2m - 1$ 일 때,  $\frac{a_m}{b_m} = \frac{4m-1}{8m-3}$  (단,  $m$ 은 자연수)

ㄷ.  $a_5 = 38$ 이면  $\sum_{k=1}^9 b_k = 666$ 이다.

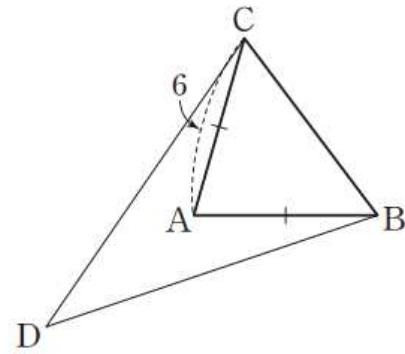
- ① ㄱ    ② ㄴ    ③ ㄱ, ㄷ    ④ ㄴ, ㄷ    ⑤ ㄱ, ㄴ, ㄷ

중요도	★★★★★	쪽 번	174 019	문항코드	20050-0483
-----	-------	--------	------------	------	------------

기대 Comment	
등차수열의 합에는 항상 $\frac{n}{2}$ 이 곱해져 있는 $n$ 에 대한 이차식이라는 것을 명심하고, 이를 통해서 두 등차수열의 공차관계를 유추할 수 있다.	

18. 그림과 같이  $\sin A = \frac{24}{25}$ 이고  $\overline{AB} = \overline{AC} = 6$ 인 이등변삼각형

ABC가 있다. 직선 BC에 대하여 점 A와 같은 쪽에  $\sin D = \frac{3}{5}$ 이 되도록 점 D를 정할 때, 삼각형 CDB의 넓이의 최댓값은  $\frac{q}{p}$ 이다.  $p+q$ 의 값을 구하시오. (단,  $p$ 와  $q$ 는 서로소인 자연수이다.) [3점]



중요도	★★★★★	쪽 번	177 029	문항코드	20050-0493
-----	-------	--------	------------	------	------------

기대 Comment	
각 D가 일정하게 잡히기 때문에 sin값이 고정되는 것이다. 이럴 때 점 D의 무빙은 원 위를 돌게 되는데, 그 이유를 원주각과 관련지어 생각해보자.	

19. 첫째항이  $a (a > 0)$ , 공비가  $r (r \neq 1, r < 0)$ 인 등비수열  $\{a_n\}$ 에 대하여

$$S_n = a_1 + a_2 + a_3 + \dots + a_n,$$

$$T_n = |a_1| + |a_2| + |a_3| + \dots + |a_n|,$$

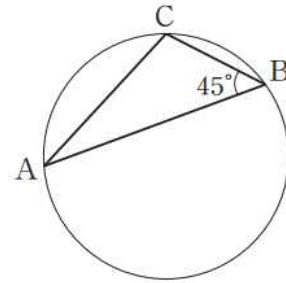
$$R_n = a_1^2 + a_2^2 + a_3^2 + \dots + a_n^2$$

이라 하자.  $T_{10} = 2S_{10}, T_{20} = 3R_{10}$ 일 때,  $a+r$ 의 값은? [3점]

- ①  $\frac{1}{18}$     ②  $\frac{1}{9}$     ③  $\frac{1}{6}$     ④  $\frac{2}{9}$     ⑤  $\frac{5}{18}$

중요도	★★★	쪽 번	182 019	문항코드	20050-0513
-----	-----	--------	------------	------	------------

20. 그림과 같이 원에 내접하는 삼각형 ABC가 다음 조건을 만족시킬 때, 이 원의 넓이는  $a\pi$ 이다. 상수  $a$ 의 값을 구하시오. [3점]



- (가)  $\angle ABC = 45^\circ$   
 (나)  $\overline{AC} : \overline{BC} = \sqrt{5} : \sqrt{2}$   
 (다) 삼각형 ABC의 넓이는 15이다.

중요도	★★★	쪽 번	184 028	문항코드	20050-0522
-----	-----	--------	------------	------	------------

기대 Comment
S, T, R의 차이점을 생각해 보는 난이도는 어렵지 않은 문제가 되겠다.

기대 Comment
변의 길이의 비는 사인의 비와 같다. 이를 명심하면 어렵지 않은 문제.

## 기대모의고사 가형/나형 Vol. 1, 2, 3 링크

Vol.1, 2 : 1등급컷 84~88, 신선태과 동시에 수능스러운 정제됨을 경험할 수 있는 모의고사  
Vol.3 (가형) : 올해 6, 9, EBS 반영한 Final 모의고사 (나형은 Vol.3 제작 불발했습니다. )

Atom.ac  
접속

## 김기대T 수능 후 논술 Final 개강 안내사항

실시간 수능 후 Final 시간표를 확인할 수 있습니다.



1)

[정답/모범답안]

3

[해설]

$$2^{a-1} = 3 \text{에서}$$

$$2^a = 6 \text{에서}$$

$$6^{b+1} = 96$$

$$6^b = 16$$

$$\text{따라서 } 2^{ab} = (2^a)^b = 6^b = 16$$

2) [정답/모범답안]

1

[해설]

두 점 A, B의 x좌표를 각각  $s, t (s < t)$ 로 놓으면

두 점 A, B의 좌표는 각각  $(s, a^s), (t, a^t)$ 이고,

두 점 A, B가 원 C의 지름의 양 끝점이므로 선분 AB의 중점

$\left(\frac{s+t}{2}, \frac{a^s+a^t}{2}\right)$ 은 원 C의 중심  $\left(0, \frac{5}{3}\right)$ 와 같다.

$$\frac{s+t}{2} = 0 \text{에서 } s+t=0, \text{ 즉 } t=-s \quad \text{.....㉠}$$

$$\frac{a^s+a^t}{2} = \frac{5}{3} \text{에서 } a^s+a^t = \frac{10}{3} \quad \text{.....㉡}$$

㉠을 ㉡에 대입하면

$$a^s+a^{-s} = \frac{10}{3}$$

$$3a^{2s}-10a^s+3=0$$

$$(3a^s-1)(a^s-3)=0$$

$$a^s = \frac{1}{3} \text{ 또는 } a^s = 3$$

$$s = \log_a \frac{1}{3} \text{ 또는 } s = \log_a 3$$

$$s = \log_a \frac{1}{3} \text{ 이면 ㉠에서}$$

$$t = -\log_a \frac{1}{3} = \log_a 3$$

$$s = \log_a 3 \text{ 이면 ㉠에서}$$

$$t = -\log_a 3 = \log_a \frac{1}{3}$$

$a > 1$ 에서  $\log_a \frac{1}{3} < \log_a 3$ 이고,  $s < t$ 이므로

$$s = \log_a \frac{1}{3} \text{ 이고, } t = \log_a 3 \text{이다.}$$

그러므로 두 점 A, B의 좌표는 각각

$$\left(\log_a \frac{1}{3}, \frac{1}{3}\right), (\log_a 3, 3) \text{이다.}$$

두 점  $A\left(\log_a \frac{1}{3}, \frac{1}{3}\right), B(\log_a 3, 3)$ 이 원 C의 지름의 양 끝점이면

선분 AB는 원 C의 지름이므로

$$\overline{AB}^2 = 4 \times \frac{73}{36}$$

$$\left(\log_a 3 - \log_a \frac{1}{3}\right)^2 + \left(3 - \frac{1}{3}\right)^2 = \frac{73}{9}$$

$$(\log_a 3 + \log_a 3)^2 + \left(\frac{8}{3}\right)^2 = \frac{73}{9}$$

$$(\log_a 9)^2 = \frac{73}{9} - \frac{64}{9} = 1$$

$$\log_a 9 = -1 \text{ 또는 } \log_a 9 = 1$$

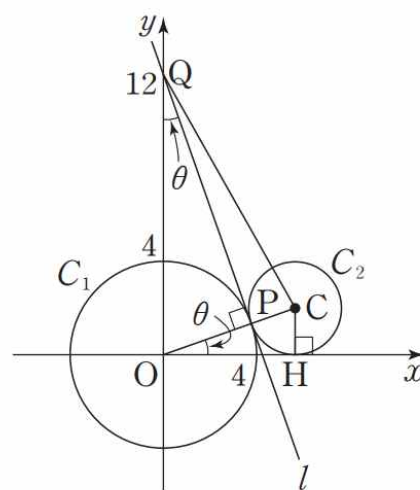
$$a = \frac{1}{9} \text{ 또는 } a = 9$$

따라서  $a > 1$ 이므로  $a = 9$

3)

[해설]

원  $C_1$ 의 반지름의 길이는 4이므로  $\overline{OP} = 4$ 이고,  $\overline{OQ} = 12$ 이다.



원점 O에 대하여 삼각형 OPQ는  $\angle OPQ = \frac{\pi}{2}$ 인 직각삼각형이므로

$\angle PQO = \theta$ 로 놓으면

$$\sin \theta = \frac{\overline{OP}}{\overline{OQ}} = \frac{4}{12} = \frac{1}{3} \text{ 이고,}$$

$$\overline{PQ} = \sqrt{\overline{OQ}^2 - \overline{OP}^2} = \sqrt{12^2 - 4^2} = \sqrt{128} = 8\sqrt{2}$$

원  $C_2$ 는 점 P에서 원  $C_1$ 과 접하고, 직선 OP는 원  $C_2$ 의 중심 C를 지나므로 직선 PQ와 직선 OC는 서로 수직이다.

원  $C_2$ 의 중심 C에서 x축에 내린 수선의 발을 H로 놓으면  $\angle COH = \theta$ 이다.

원  $C_2$ 의 반지름의 길이를 r라 하면

$$\overline{OC} = \overline{OP} + \overline{PC} = 4 + r, \overline{CH} = r \text{ 이고,}$$

삼각형 OHC는  $\angle OHC = \frac{\pi}{2}$ 인 직각삼각형이므로

$$\sin \theta = \frac{\overline{CH}}{\overline{OC}} = \frac{r}{4+r} = \frac{1}{3}$$

$$3r = r + 4$$

$$\text{따라서 } 2r = 4 \text{ 이므로 } r = 2$$

직각삼각형 CQP에서

$$\tan^2(\angle CQP) = \left(\frac{\overline{PC}}{\overline{PQ}}\right)^2 = \left(\frac{2}{8\sqrt{2}}\right)^2 = \frac{1}{32}$$

$$\text{따라서 } p = 32, q = 1 \text{ 이므로 } p + q = 32 + 1 = 33$$

4)

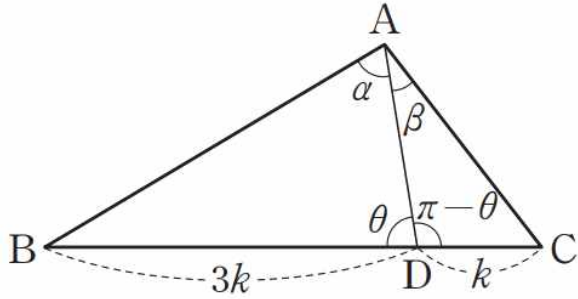


[정답/모범답안]

13

[해설]

$\angle BDA = \theta$ 로 놓으면  $\angle ADC = \pi - \theta$ 이고,  
삼각형 ABC에서 변 BC를 3:1로 내분하는 점은 D이므로  
 $\overline{BD} = 3k, \overline{DC} = k (k > 0)$ 으로 놓으면



삼각형 ABD에서 사인법칙에 의하여

$$\frac{\overline{BD}}{\sin \alpha} = \frac{\overline{AB}}{\sin \theta} \text{에서}$$

$$\sin \theta = \frac{\overline{AB} \sin \alpha}{\overline{BD}} = \frac{\overline{AB} \sin \alpha}{3k} \dots\dots \textcircled{1}$$

삼각형 ADC에서 사인법칙에 의하여

$$\frac{\overline{DC}}{\sin \beta} = \frac{\overline{AC}}{\sin(\pi - \theta)} \text{에서 } \frac{\overline{DC}}{\sin \beta} = \frac{\overline{AC}}{\sin \theta} \text{이므로}$$

$$\sin \theta = \frac{\overline{AC} \sin \beta}{\overline{DC}} = \frac{\overline{AC} \sin \beta}{k} \dots\dots \textcircled{2}$$

$\textcircled{1}, \textcircled{2}$ 에서

$$\frac{\overline{AB} \sin \alpha}{3k} = \frac{\overline{AC} \sin \beta}{k} \text{이고,}$$

$$\sin \beta = \frac{8}{15} \sin \alpha \text{이므로}$$

$$\frac{\overline{AB} \sin \alpha}{3k} = \frac{\overline{AC} \times \frac{8}{15} \sin \alpha}{k}$$

$$\text{그러므로 } \frac{\overline{AB}}{\overline{AC}} = 3 \times \frac{8}{15} = \frac{8}{5}$$

따라서  $p = 5, q = 8$ 이므로  $p + q = 5 + 8 = 13$

5)

[정답/모범답안]

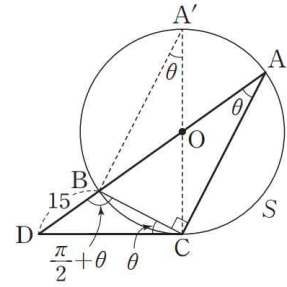
20

[해설]

원 S 위의 점 C와 원의 중심 O를 지나는 직선이 원 S와 만나는 점을

$A'$ 이라 하면 원주각의 성질에 의하여  $\angle CA'B = \angle CAB = \theta$ 이므로

$\angle DCB = \theta$ 이고,  $\angle CBD = \frac{1}{2} + \theta$ 이다.



$\overline{DB} = 15$ 이므로 삼각형 BDC에서 사인법칙에 의하여

$$\frac{\overline{DC}}{\sin(\frac{\pi}{2} + \theta)} = \frac{\overline{DB}}{\sin \theta} \text{에서}$$

$$\frac{\overline{DC}}{\cos \theta} = \frac{15}{\sin \theta}$$

$$\overline{DC} = \frac{15 \cos \theta}{\sin \theta} \dots\dots \textcircled{1}$$

원 S의 반지름의 길이를 R로 놓으면

$\overline{DB} = 15$ 이고,  $\overline{DA} = \overline{DB} + \overline{AB} = 15 + 2R = 2R + 15$ 이므로  
원의 성질에 의하여

$$\overline{DB} \times \overline{DA} = \overline{DC}^2 \text{에서}$$

$$15(2R + 15) = \overline{DC}^2 \dots\dots \textcircled{2}$$

$\textcircled{1}$ 을  $\textcircled{2}$ 에 대입하면

$$15(2R + 15) = \frac{15^2 \cos^2 \theta}{\sin^2 \theta}$$

$$2R + 15 = \frac{15 \cos^2 \theta}{\sin^2 \theta}$$

$$2R \sin^2 \theta + 15 \sin^2 \theta = 15 \cos^2 \theta \dots\dots \textcircled{3}$$

조건 (나)에서

$$2R \sin^2 \theta = \frac{21}{5} \dots\dots \textcircled{4}$$

$\textcircled{4}$ 을  $\textcircled{3}$ 에 대입하면

$$\frac{21}{5} + 15 \sin^2 \theta = 15 \cos^2 \theta$$

$$\frac{21}{5} + 15 \sin^2 \theta = 15(1 - \sin^2 \theta)$$

$$\sin^2 \theta = \frac{9}{25}$$

$\textcircled{1}$ 에서

$$\overline{DC}^2 = \frac{15^2 \times \frac{16}{25}}{\frac{9}{25}} = 20^2 \text{이므로}$$

$$\overline{DC} = 20$$

6)

[정답/모범답안]

250

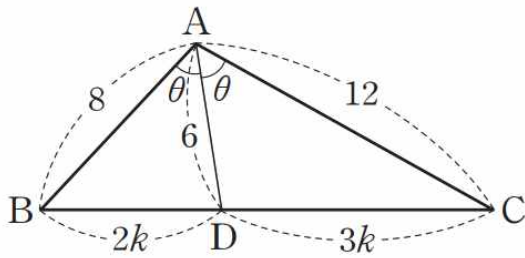
[해설]

선분 AD가  $\angle A$ 를 이등분하므로

삼각형의 각의 이등분선의 성질에 의하여

$$\overline{BD} : \overline{CD} = \overline{AB} : \overline{AC} = 8 : 12 = 2 : 3$$

$\angle DAB = \angle CAD = \theta, \overline{BD} = 2k, \overline{CD} = 3k (k > 0)$ 으로 놓으면



두 삼각형 ABD와 ADC에서 코사인법칙에 의하여

$$\cos \theta = \frac{8^2 + 6^2 - (2k)^2}{2 \times 8 \times 6} = \frac{12^2 + 6^2 - (3k)^2}{2 \times 12 \times 6}$$

$$k^2 = 10$$

$k$ 는 양수이므로  $k = \sqrt{10}$

그러므로  $\overline{BC} = \overline{BD} + \overline{CD} = 2k + 3k = 5k = 5\sqrt{10}$

따라서  $l = 5\sqrt{10}$ 이므로

$$l^2 = 250$$

[정답/모범답안]

4

7)

[정답/모범답안]

5

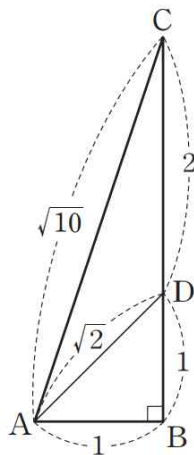
[해설]

삼각형 ABD에서 피타고라스 정리에 의하여

$$\overline{AD} = \sqrt{\overline{AB}^2 + \overline{BD}^2} = \sqrt{1^2 + 1^2} = \sqrt{2} \text{ 이고,}$$

삼각형 ABC에서 피타고라스 정리에 의하여

$$\overline{AC} = \sqrt{\overline{AB}^2 + \overline{BC}^2} = \sqrt{1^2 + 3^2} = \sqrt{10} \text{ 이므로}$$



삼각형 ADC에서 코사인법칙에 의하여

$$\begin{aligned} \cos (\angle CAD) &= \frac{(\sqrt{2})^2 + (\sqrt{10})^2 - 2^2}{2 \times \sqrt{2} \times \sqrt{10}} \\ &= \frac{2 + 10 - 4}{2 \times \sqrt{2} \times \sqrt{10}} \\ &= \frac{8}{4\sqrt{5}} = \frac{2}{\sqrt{5}} \end{aligned}$$

$$= \frac{2\sqrt{5}}{5}$$

8)

[정답/모범답안]

128

[해설]

삼각형 ABC의 넓이가  $16\sqrt{2}$ 이므로

$$\frac{1}{2} \times 8 \times 6 \times \sin B = 16\sqrt{2}$$

$$\sin B = \frac{2\sqrt{2}}{3}$$

$0^\circ < B < 90^\circ$ 이므로

$$\begin{aligned} \cos B &= \sqrt{1 - \sin^2 B} \\ &= \sqrt{1 - \left(\frac{2\sqrt{2}}{3}\right)^2} = \sqrt{\frac{1}{9}} = \sqrt{\left(\frac{1}{3}\right)^2} = \frac{1}{3} \end{aligned}$$

삼각형 ABC에서 코사인법칙에 의하여

$$\begin{aligned} \overline{AC}^2 &= 6^2 + 8^2 - 2 \times 6 \times 8 \times \cos B \\ &= 100 - 96 \times \frac{1}{3} = 100 - 32 \\ &= 68 \end{aligned}$$

$B + D = 180^\circ$ 에서  $D = 180^\circ - B$ 이므로

$$\cos D = \cos (180^\circ - B) = -\cos B = -\frac{1}{3}$$

삼각형 ACD에서 코사인법칙에 의하여

$$\cos D = \frac{4^2 + \overline{AD}^2 - 68}{2 \times 4 \times \overline{AD}}$$

$$\frac{\overline{AD}^2 - 52}{8\overline{AD}} = -\frac{1}{3}$$

$$3\overline{AD}^2 + 8\overline{AD} - 156 = 0$$

$$(3\overline{AD} + 26)(\overline{AD} - 6) = 0$$

$$3\overline{AD} + 26 > 0 \text{이므로 } \overline{AD} = 6$$

따라서 삼각형 ACD의 넓이는

$$\begin{aligned} \frac{1}{2} \times \overline{AD} \times \overline{CD} \times \sin D &= \frac{1}{2} \times 6 \times 4 \times \sin(180^\circ - B) \\ &= 12 \sin B \\ &= 12 \times \frac{2\sqrt{2}}{3} = 8\sqrt{2} \end{aligned}$$

따라서  $S = 8\sqrt{2}$ 이므로

$$S^2 = 128$$

9)

10)

[정답/모범답안]

3

[해설]

등차수열  $\{a_n\}$ 에서 공차를  $d$ 라 하면

$$\begin{aligned} a_1 + a_n &= a_1 + a_1 + (n-1)d \\ &= dn + (2a_1 - d) \\ &= 2n - 8 \text{에서} \end{aligned}$$

$$d = 2, 2a_1 - d = -8$$

$$\text{이므로 } a_1 = -3$$

등차수열  $\{a_n\}$ 의 첫째항부터 제  $n$ 항까지의 합을  $S_n$ 이라 하면

$$\begin{aligned} a_{11} + a_{12} + a_{13} + \dots + a_{20} \\ &= S_{20} - S_{10} \\ &= \frac{20(-6+192)}{2} - \frac{10(-6+92)}{2} \end{aligned}$$

$$= 320 - 60 = 260$$

{다른 풀이}

$$a_1 = -3, d = 2 \text{에서}$$

$$a_n = -3 + (n-1) \times 2 = 2n - 5$$

$$\text{이므로 } a_{11} = 17, a_{20} = 35$$

따라서

$$\begin{aligned} a_{11} + a_{12} + a_{13} + \dots + a_{20} &= \frac{10(17+35)}{2} \\ &= 260 \end{aligned}$$

11)

12)

[정답/모범답안]

2

[해설]

두 점 A, B의 좌표를 각각  $(p, \log_3 p), (q, \log_3 q)$  ( $0 < p < q$ )라 하면

조건 (가)에서 선분 AB의 중점 M의  $y$ 좌표는 0이므로

$$\frac{\log_3 p + \log_3 q}{2} = 0 \text{에서}$$

$$\log_3 pq = 0, pq = 1 \quad \dots\dots \textcircled{㉠}$$

조건 (나)에서 두 직선 OA, OB의 기울기의 곱은 -1이어야 하므로

로

$$\frac{\log_3 p}{p} \times \frac{\log_3 q}{q} = \frac{\log_3 p \times \log_3 q}{pq} = -1$$

$$\log_3 p \times \log_3 q = -pq \quad \dots\dots \textcircled{㉡}$$

㉠과 ㉡에서

$$\log_3 p \times \log_3 q = \frac{1}{p}, (\log_3 p)^2 = 1$$

$$\log_3 p = \pm 1$$

즉,  $p = \frac{1}{3}$ 일 때,  $q = 3$ 이다.

따라서  $A(\frac{1}{3}, -1), B(3, 1)$ 이므로 삼각형 OAB의 넓이는

$$\begin{aligned} \frac{1}{2} \times \overline{OA} \times \overline{OB} &= \frac{1}{2} \times \sqrt{\left(\frac{1}{3}\right)^2 + (-1)^2} \times \sqrt{3^2 + 1^2} \\ &= \frac{1}{2} \times \frac{\sqrt{10}}{3} \times \sqrt{10} \\ &= \frac{5}{3} \end{aligned}$$

13)

[정답/모범답안]

2

[해설]

수열  $\{a_n\}$ 의 항 중에서 처음으로  $a_n = 0$ 을 만족시키는  $n$ 의 값을  $m$ 이라 하자.

(i)  $m \leq 5$ 인 경우

$$a_{m+1} = \frac{1}{2} a_m \text{ 이어야 하므로 } a_m = a_{m+1} = a_{m+2} = \dots = 0$$

따라서 수열  $\{a_n\}$ 은  $a_n \neq 0$ 인 항의 개수가 5보다 작다.

(ii)  $m = 6$  ( $a_6 = 0$ )인 경우

$$a_{m+1} = \frac{1}{2} a_m \text{ 인 경우 } m \geq 7 \text{인 모든 항은 } 0 \text{이고}$$

$$a_6 = \frac{1}{2} a_5 \text{ 또는 } a_6 = \frac{1}{2}(a_5 - 1) \text{ 이므로 } a_5 = 1 \text{이다.}$$

그러므로 조건 (가)로부터 얻은 수열  $\{a_n\}$ 과  $\sum_{k=1}^{10} a_k$ 는 다음과 같다.

$\sum_{k=1}^{10} a_k$	$\{a_n\}$										
	$a_1$	$a_2$	$a_3$	$a_4$	$a_5$	$a_6$	$a_7$	$a_8$	$a_9$	$a_{10}$	...
31	16	8	4	2	1	0	0	0	0	0	...
32	17										
34	18	9									
35	19	10									
38	20										
39	21	5									
41	22		11								
42	23		6								
46	24	12									
47	25	13									
49	26										
50	27	3									
53	28		14								
54	29		7								
56	30	15									
57	31										

위의 표에서 조건 (나)를 만족시키고  $\sum_{k=1}^{10} a_k = 47$ 인 수열

$\{a_n\}$ 은  $a_1 = 25, a_5 = 1$ 이다.

따라서  $a_1 + a_5 = 25 + 1 = 26$

(iii)  $m = 7 (a_7 = 0)$ 인 경우

조건 (가)로부터  $a_6 = 1$ 이면  $a_1, a_2, a_3, a_4, a_5$ 가 모두 0이 아니므로 조건 (나)를 만족시키지 않는다.

(iv)  $m \geq 8$ 인 경우 (iii)과 같은 결과를 얻는다.

따라서 (i) ~ (iv)로부터

$$a_1 + a_5 = 26$$

14)

[정답/모범답안]

34

[해설]

삼각형 ABC에서 코사인법칙에 의하여

$$\cos B = \frac{2^2 + 3^2 - (\sqrt{10})^2}{2 \times 2 \times 3} = \frac{1}{4}$$

$$\text{이므로 } \sin B = \sqrt{1 - \cos^2 B} = \frac{\sqrt{15}}{4}$$

또한, 삼각형 ABP에서 사인법칙에 의하여

$$\frac{\overline{AP}}{\sin B} = \frac{2}{\sin 60^\circ} \text{ 이므로}$$

$$\frac{\overline{AP}}{\frac{\sqrt{15}}{4}} = \frac{2}{\frac{\sqrt{3}}{2}}$$

$$\overline{AP} = \frac{4}{\sqrt{3}} \times \frac{\sqrt{15}}{4} = \sqrt{5}$$

또, 점 A에서 변 BP에 내린 수선의 발을 H라 하면

$$\begin{aligned} \overline{BP} &= \overline{BH} + \overline{HP} \\ &= \overline{AB} \times \cos B + \overline{AP} \times \cos 60^\circ \\ &= 2 \times \frac{1}{4} + \sqrt{5} \times \frac{1}{2} \\ &= \frac{1}{2}(1 + \sqrt{5}) \end{aligned}$$

$$\begin{aligned} \overline{PC} &= \overline{BC} - \overline{BP} \\ &= 3 - \frac{1}{2}(1 + \sqrt{5}) \\ &= \frac{1}{2}(5 - \sqrt{5}) \end{aligned}$$

$$\begin{aligned} \overline{BP} : \overline{PC} &= \frac{1}{2}(1 + \sqrt{5}) : \frac{1}{2}(5 - \sqrt{5}) \\ &= 1 : \frac{-5 + 3\sqrt{5}}{2} = 2 : (-5 + 3\sqrt{5}) \end{aligned}$$

따라서  $a = -5, b = 3$ 이므로

$$a^2 + b^2 = (-5)^2 + 3^2 = 34$$

15)

[정답/모범답안]

736

[해설]

등비수열  $\{a_n\}$ 의 첫째항을  $a (a > 0)$ , 공비를  $r (0 < r < 1, r$ 는 유리수)라 하고,  $b_5 = a_5 = p$  ( $p$ 는 소수)라 하자.

(i) ①  $b_6 = \frac{1}{pr}$ 이 자연수라 가정하면

어떤 자연수  $m$ 에 대하여  $r = \frac{1}{mp}$ 이어야 한다.

따라서  $b_6 = m, b_8 = p^2 m^3, b_{10} = p^4 m^5, \dots$ 이므로 수열  $\{b_n\}$

의

항 중 자연수인 항이 무수히 많고, 그 합이 637이 될 수 없다.

그러므로  $b_6$ 은 자연수가 아니다.

②  $b_8 = \frac{1}{pr^3}$ 이 자연수라 가정하면

어떤 자연수  $s$ 에 대하여  $r^3 = \frac{1}{ps}$ , 즉  $r = \frac{1}{\sqrt[3]{ps}}$ 이어야 한다.

이때  $r = \frac{1}{\sqrt[3]{ps}}$ 은 유리수이므로  $s = p^2 t^3$  ( $t$ 는 자연수)라 할 수

있고,  $r = \frac{1}{pt}$ 이다.

따라서  $b_{10} = p^4 t^5, b_{12} = p^6 t^7, b_{14} = p^8 t^9, \dots$ 이므로 수열  $\{b_n\}$ 의

항 중 자연수인 항이 무수히 많고, 그 합이 637이 될 수 없다.

그러므로  $b_{10}$ 은 자연수가 아니다.

③ ①, ②와 같은 방법으로 생각하면

$b_{10}, b_{12}, b_{14}, \dots$ 도 자연수가 아님을 알 수 있다.

(ii)  $b_7 = pr^2, b_9 = pr^4, b_{11} = pr^6, \dots$ 에서

$p$ 는 소수이고  $0 < r^2 < 1, 0 < r^4 < 1, 0 < r^6 < 1, \dots$ 이므로

$b_7, b_9, b_{11}, \dots$ 은 자연수가 아니다.

(iii)  $b_2 = \frac{1}{a_2} = \frac{r^3}{p}, b_4 = \frac{1}{a_4} = \frac{r}{p}$ 에서

$0 < \frac{r^3}{p} < \frac{1}{p} < 1, 0 < \frac{r}{p} < 1$ 이므로  $b_2, b_4$ 는 자연수가 아니다.

(i), (ii), (iii)에 의하여  $b_2, b_4, b_6, b_7, b_8, \dots$ 은 자연수가 아니다.

$b_1, b_3$ 이 모두 자연수가 아니면  $b_5 = 637 = 7^2 \times 13$ 으로 소수가 아니다.

한편,  $b_3 = \frac{p}{r^2}$ 가 자연수이면 어떤 자연수  $t_1$ 에 대하여  $r = \frac{1}{t_1}$ 이므로

$$b_1 = \frac{p}{r^4} = pt_1^4 \text{으로 } b_1 \text{도 자연수이다.}$$

$$b_1 = \frac{p}{r^4} \text{가 자연수이면 어떤 자연수 } t_2 \text{에 대하여 } r = \frac{1}{t_2} \text{이므로}$$

$$b_1 = \frac{p}{r^2} = pt_2^2 \text{으로 } b_3 \text{도 자연수이다.}$$

따라서  $b_1, b_3$ 이 모두 자연수이므로

$$b_1 + b_3 + b_5 = \frac{p}{r^4} + \frac{p}{r^2} + p = p \left( \frac{1}{r^4} + \frac{1}{r^2} + 1 \right)$$

$$\text{즉, } p \left( \frac{1}{r^4} + \frac{1}{r^2} + 1 \right) = 7^2 \times 13$$

$p = 7$ 일 때,

$$\frac{1}{r^4} + \frac{1}{r^2} + 1 = 91 \text{에서 } \left( \frac{1}{r} + 3 \right) \left( \frac{1}{r} - 3 \right) \left( \frac{1}{r^2} + 10 \right) = 0$$

$0 < r < 1$ 이므로  $r = \frac{1}{3}$

$p = 13$ 일 때,

$\frac{1}{r^4} + \frac{1}{r^2} + 1 = 49$ 에서  $\frac{1}{r^2} = R$ 라 하면  $R^2 + R - 48 = 0$

$R \equiv \frac{1}{r^2} = \frac{-1 \pm \sqrt{193}}{2}$  이므로  $r$ 가 유리수인 조건을 만족시키지 못한다.

따라서  $a_5 = 7$ 이고  $r = \frac{1}{3}$  이므로  $a_{11} = a_5 \times r^6 = 7 \times \frac{1}{3^6} = \frac{7}{729}$

따라서  $\alpha = 729, \beta = 7$ 이므로  $\alpha + \beta = 729 + 7 = 736$

16)

[정답/모범답안]

10

[해설]

$\sin A = \sqrt{1 - \cos^2 A} = \sqrt{1 - \left(\frac{4}{5}\right)^2} = \frac{3}{5} = \overset{\text{A}}{\text{A}}$

$\sin B = \sqrt{1 - \cos^2 B} = \sqrt{1 - \left(\frac{2\sqrt{5}}{5}\right)^2} = \frac{\sqrt{5}}{5} = \overset{\text{A}}{\text{A}}$

이므로

$\sin C = \sin(\pi - (A + B)) = \sin(A + B)$

$= \sin A \cos B + \cos A \sin B$   
 $= \frac{3}{5} \times \frac{2\sqrt{5}}{5} + \frac{4}{5} \times \frac{\sqrt{5}}{5} = \frac{2\sqrt{5}}{5}$

삼각형 ABC에서 사인법칙에 의하여

$\frac{\overline{BC}}{\sin A} = \frac{\overline{AC}}{\sin B} = \frac{\overline{AB}}{\sin C} = 2R_1$ 에서

$R_1 = \frac{\overline{AB}}{2 \sin C} = \frac{5}{2 \times \frac{2\sqrt{5}}{5}} = \frac{5\sqrt{5}}{4}$  이므로

$\overline{BC} = 2R_1 \sin A = 2R_1 \times \frac{3}{5} = \frac{6}{5} \times \frac{5\sqrt{5}}{4} = \frac{3\sqrt{5}}{2}$

$\overline{AC} = 2R_1 \sin B = 2R_1 \times \frac{\sqrt{5}}{5} = \frac{2\sqrt{5}}{5} \times \frac{5\sqrt{5}}{4} = \frac{5}{2}$

따라서

$(\triangle ABC \text{의 넓이}) = \frac{1}{2} \times \overline{AB} \times \overline{AC} \times \sin A$   
 $= \frac{1}{2} \times 5 \times \frac{5}{2} \times \frac{3}{5} = \frac{15}{4}$  .....㉠

내접원의 중심을 O라 하면

( $\triangle ABC$ 의 넓이)

$= (\triangle AOB \text{의 넓이}) + (\triangle BOC \text{의 넓이}) + (\triangle COA \text{의 넓이})$

$= \frac{1}{2} \times \overline{AB} \times R_2 + \frac{1}{2} \times \overline{BC} \times R_2 + \frac{1}{2} \times \overline{CA} \times R_2$

$= \frac{R_2}{2} (\overline{AB} + \overline{BC} + \overline{CA})$

$= \frac{R_2}{2} \left( 5 + \frac{3\sqrt{5}}{2} + \frac{5}{2} \right)$

$= \frac{R_2}{2} \times \frac{15 + 3\sqrt{5}}{2}$

$= \frac{15 + 3\sqrt{5}}{4} R_2$  .....㉡

㉠, ㉡에서  $\frac{15}{4} = \frac{15 + 3\sqrt{5}}{4} R_2$  이므로  $R_2 = \frac{5}{5 + \sqrt{5}}$

따라서  $\frac{R_1}{R_2} = \frac{5\sqrt{5}}{4} \times \frac{5 + \sqrt{5}}{5} = \frac{5 + 5\sqrt{5}}{4}$  이므로  $a = 5, b = 5$ 이고

$a + b = 5 + 5 = 10$

17)

[정답/모범답안]

5

[해설]

ㄱ. 주어진 식에  $n=1$ 을 대입하면  $\frac{\sum_{k=1}^1 a_k}{\sum_{k=1}^1 b_k} = \frac{3}{5}$

즉,  $\frac{a_1}{b_1} = \frac{3}{5}$  (참)

ㄴ.  $\sum_{k=1}^{2m-1} a_k = \frac{(2m-1)(a_1 + a_{2m-1})}{2} = (2m-1)a_m$

마찬가지로 하면  $\sum_{k=1}^{2m-1} b_k = (2m-1)b_m$

$\frac{\sum_{k=1}^{2m-1} a_k}{\sum_{k=1}^{2m-1} b_k} = \frac{2(2m-1)+1}{4(2m-1)+1}$  이 성립하므로

$\frac{a_m}{b_m} = \frac{4m-1}{8m-3}$  (참)

ㄷ. ㄴ에서 성립한 식에  $m=5$ 를 대입하면

$\frac{a_5}{b_5} = \frac{19}{37}$

이때  $a_5 = 38$ 이므로  $b_5 = 74$

$\sum_{k=1}^9 b_k = 9b_5 = 666$  (참)

따라서 옳은 것은 ㄱ, ㄴ, ㄷ이다.

18)

[정답/모범답안]

997

[해설]

삼각형 ABC의 점 A에서 선분 BC에 내린 수선의 발을 H라 하면

$\overline{BC} = 2\overline{BH} = 2\overline{AB} \sin \frac{A}{2} = 12 \sin \frac{A}{2} \cdot 2 = 12' \sin A$

선분 BC의 길이와  $\sin D = \frac{3}{5}$ 이 일정하므로 점 D의 위치에 관

계없이

삼각형 CDB에 외접하는 원은 유일하게 결정된다.

외접원의 반지름의 길이를 R라 하면 사인법칙에 의하여

$2R = \frac{\overline{BC}}{\sin D}, R = \frac{5}{6} \overline{BC}$

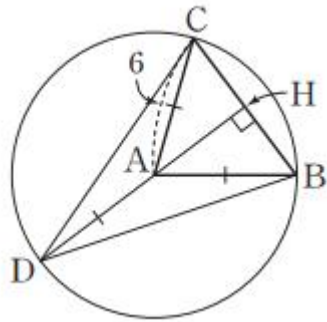
이때  $\sin 2D = 2 \sin D \cos D = 2 \times \frac{3}{5} \times \frac{4}{5} = \frac{24}{25} = \sin A$

이므로  $A=2D$

$\overline{BC} = 12 \sin \frac{A}{2} = 12 \sin D = \frac{36}{5}$

R=6

그림과 같이 점 D는 중심이 A이고 반지름의 길이가 6인 원을 움직이는 점이다.



삼각형 CDB의 넓이를 S라 하면 S는 선분 DH가 선분 BC의 수직이등

분선이 될 때, 최대가 된다.

$$\begin{aligned} \overline{DH} &= 6 + \overline{AH} \\ &= 6 + 6 \cos \frac{A}{2} \\ &= 6 + 6 \cos D = \frac{54}{5} \end{aligned}$$

따라서 넓이 S의 최댓값은

$$\begin{aligned} S &= \frac{1}{2} \times \overline{BC} \times \overline{DH} = \frac{18}{5} \overline{DH} \\ &= \frac{18}{5} \times \frac{54}{5} = \frac{972}{25} \end{aligned}$$

이고  $p = 25, q = 972$ 이므로  $p + q = 25 + 972 = 997$

19)

[정답/모범답안]

2

[해설]

$$\begin{aligned} S_{10} &= \frac{a(r^{10} - 1)}{r - 1} \\ T_{10} &= \frac{a\{(-r)^{10} - 1\}}{-r - 1} = \frac{a(r^{10} - 1)}{-r - 1} \\ T_{10} &= 2S_{10} \text{에서} \\ \frac{a(r^{10} - 1)}{-r - 1} &= 2 \times \frac{a(r^{10} - 1)}{-r - 1} \\ \frac{1}{-r - 1} &= \frac{2}{r - 1}, r - 1 = -2r - 2, 3r = -1 \\ r &= -\frac{1}{3} \\ T_{20} &= \frac{a\{(-r)^{20} - 1\}}{-r - 1} = \frac{a(r^{20} - 1)}{-r - 1} \\ R_{10} &= \frac{a^2\{(r^2)^{10} - 1\}}{r^2 - 1} = \frac{a^2(r^{20} - 1)}{(r + 1)(r - 1)} \\ T_{20} &= 3R_{10} \text{에서} \\ \frac{a(r^{20} - 1)}{-r - 1} &= \frac{3a^2(r^{20} - 1)}{(r + 1)(r - 1)} \\ -1 &= \frac{3a}{r - 1} = \frac{3a}{-\frac{4}{3}}, \frac{4}{3} = 3a \text{에서 } a = \frac{4}{9} \end{aligned}$$

따라서  $a + r = \frac{4}{9} + \left(-\frac{1}{3}\right) = \frac{1}{9}$

20)

[정답/모범답안]

25

[해설]

조건 (나)에 의하여

$$\overline{AC} = \sqrt{5}k, \overline{BC} = \sqrt{2}k (k > 0) \text{이라 하면}$$

조건 (가)에서  $\angle ABC = 45^\circ$  이므로

$$\overline{AB} = x \text{라 하면}$$

삼각형 ABC에서 코사인법칙에 의하여

$$(\sqrt{5}k)^2 = (\sqrt{2}k)^2 + x^2 - 2 \times \sqrt{2}k \times x \times \frac{\sqrt{2}}{2}$$

$$x^2 - 2kx - 3k^2 = 0, (x + k)(x - 3k) = 0$$

따라서  $x = 3k$ , 즉  $\overline{AB} = 3k$

조건 (다)에서 삼각형 ABC의 넓이가 15이므로

$$\frac{1}{2} \times \sqrt{2}k \times 3k \times \frac{\sqrt{2}}{2} = 15$$

$$3k^2 = 30, k^2 = 10$$

$$\text{따라서 } k = \sqrt{10}, \text{ 즉 } \overline{AC} = \sqrt{5} \times \sqrt{10} = 5\sqrt{2}$$

이때 원의 반지름의 길이를 R라 하면 삼각형 ABC에서 사인법칙에 의하여

$$\frac{\overline{AC}}{\sin 45^\circ} = 2R, \frac{5\sqrt{2}}{\frac{\sqrt{2}}{2}} = 2R$$

따라서  $R = 5$ 이므로 원의 넓이는  $R^2 \times \pi = 25\pi$

즉,  $a = 25$