

정답 & 해설

[난문현답 기출 정답]

1. ③
2. ③
3. 10
4. ⑤
5. 180
6. 21
7. 17
8. 45
9. 14
10. ⑤

[추가 과제 해설]

1) 정답 $\frac{e}{2}$

$f(t) = e^{t^2}$, $F'(t) = f(t)$ 로 놓으면

$$\begin{aligned} \lim_{x \rightarrow 1} \frac{1}{x-1} \int_1^{\sqrt{x}} e^{t^2} dt &= \lim_{x \rightarrow 1} \frac{1}{x-1} \int_1^{\sqrt{x}} f(t) dt \\ &= \lim_{x \rightarrow 1} \frac{F(\sqrt{x}) - F(1)}{x-1} \\ &= \lim_{x \rightarrow 1} \frac{F(\sqrt{x}) - F(1)}{\sqrt{x}-1} \cdot \frac{1}{\sqrt{x}+1} \\ &= \frac{1}{2} F'(1) \\ &= \frac{1}{2} f(1) = \frac{e}{2} \end{aligned}$$

2) 정답 ①

$f(x) = x^2$, $g'(x) = e^x$ 으로 놓으면

$$f'(x) = 2x, g(x) = e^x$$

$$\begin{aligned} \therefore \int_0^{\ln 2} x^2 e^x dx &= \left[x^2 e^x \right]_0^{\ln 2} - \int_0^{\ln 2} 2x e^x dx \\ &= 2(\ln 2)^2 - 2 \int_0^{\ln 2} x e^x dx \quad \dots \textcircled{1} \end{aligned}$$

$\int_0^{\ln x} x e^x dx$ 에서 $u(x) = x$, $v'(x) = e^x$ 으로 놓으면

$$u'(x) = 1, v(x) = e^x$$

$$\begin{aligned} \therefore \int_0^{\ln 2} x e^x dx &= \left[x e^x \right]_0^{\ln 2} - \int_0^{\ln 2} e^x dx = 2 \ln 2 - \left[e^x \right]_0^{\ln 2} \\ &= 2 \ln 2 - (2 - 1) = 2 \ln 2 - 1 \quad \dots \textcircled{2} \end{aligned}$$

①을 ②에 대입하면

$$\begin{aligned} \int_0^{\ln 2} x^2 e^x dx &= 2(\ln 2)^2 - 2(2 \ln 2 - 1) \\ &= 2(\ln 2)^2 - 4 \ln 2 + 2 \end{aligned}$$

3) 정답 $\frac{\pi}{4}$

$$\begin{aligned} \lim_{n \rightarrow \infty} \sum_{k=1}^n \frac{1}{n^2} \sqrt{n^2 - k^2} &= \lim_{n \rightarrow \infty} \sum_{k=1}^n \frac{1}{n} \sqrt{1 - \left(\frac{k}{n}\right)^2} \\ &= \int_0^1 \sqrt{1-x^2} dx \end{aligned}$$

이때 $x = \sin \theta$ ($-\frac{\pi}{2} \leq \theta \leq \frac{\pi}{2}$)로 놓으면

$$\frac{dx}{d\theta} = \cos \theta$$

또한 $x=0$ 일 때 $\theta=0$, $x=1$ 일 때 $\theta=\frac{\pi}{2}$ 이므로

$$\begin{aligned} \int_0^1 \sqrt{1-x^2} dx &= \int_0^{\frac{\pi}{2}} \sqrt{1-\sin^2 \theta} \cdot \cos \theta d\theta \\ &= \int_0^{\frac{\pi}{2}} \cos^2 \theta d\theta \\ &= \int_0^{\frac{\pi}{2}} \frac{1+\cos 2\theta}{2} d\theta \\ &= \left[\frac{1}{2}\theta + \frac{1}{4}\sin 2\theta \right]_0^{\frac{\pi}{2}} = \frac{\pi}{4} \end{aligned}$$

4) 정답 2

$$\begin{aligned} \lim_{n \rightarrow \infty} \frac{1}{\sqrt{n}} \left(1 + \frac{1}{\sqrt{2}} + \frac{1}{\sqrt{3}} + \dots + \frac{1}{\sqrt{n}} \right) \\ &= \lim_{n \rightarrow \infty} \sum_{k=1}^n \frac{1}{\sqrt{k}} \cdot \frac{1}{\sqrt{n}} \\ &= \lim_{n \rightarrow \infty} \sum_{k=1}^n \frac{1}{\sqrt{\frac{k}{n}}} \cdot \frac{1}{n} \\ &= \int_0^1 \frac{1}{\sqrt{x}} dx \end{aligned}$$

$$= \int_0^1 x^{-\frac{1}{2}} dx = \left[2x^{\frac{1}{2}} \right]_0^1 = 2$$

5) 정답 $\frac{8}{\ln 3}$

$$\int_0^1 \{f(x) + f(2-x)\} dx = \int_0^1 f(x) dx + \int_0^1 f(2-x) dx$$

$$\int_0^1 f(2-x) dx \text{에서 } 2-x=t \text{로 놓으면 } \frac{dt}{dx} = -1$$

또한 $x=0$ 일 때 $t=2$, $x=1$ 일 때 $t=1$ 이므로

$$\int_0^1 f(2-x) dx = \int_2^1 f(t) \cdot (-1) dt = \int_1^2 f(t) dt$$

$$\begin{aligned} \therefore \int_0^1 f(x) dx + \int_0^1 f(2-x) dx &= \int_0^1 f(x) dx + \int_1^2 f(t) dt \\ &= \int_0^1 f(x) dx + \int_1^2 f(x) dx \\ &= \int_0^2 f(x) dx = \int_0^2 3^x dx \\ &= \left[\frac{3^x}{\ln 3} \right]_0^2 = \frac{9}{\ln 3} - \frac{1}{\ln 3} \\ &= \frac{8}{\ln 3} \end{aligned}$$

6) 정답 ②

$$e^t = t \text{로 놓으면 } \frac{dt}{dx} = e^x$$

또한 $x=-2$ 일 때 $t=e^{-2}$, $x=2$ 일 때 $t=e^2$ 이므로

$$\begin{aligned} \int_{-2}^2 \frac{1}{e^x + 1} dx &= \int_{e^{-2}}^{e^2} \frac{e^x}{e^x(e^x + 1)} dx \\ &= \int_{e^{-2}}^{e^2} \frac{1}{t(t+1)} dt \\ &= \int_{e^{-2}}^{e^2} \left(\frac{1}{t} - \frac{1}{t+1} \right) dt \\ &= \left[\ln |t| - \ln |t+1| \right]_{e^{-2}}^{e^2} \\ &= \{2 - \ln(e^2 + 1)\} - \{-2 - \ln(e^{-2} + 1)\} \\ &= 2 - \ln(e^2 + 1) + 2 + \ln \frac{e^2 + 1}{e^2} \\ &= 4 + \ln \frac{e^2 + 1}{e^2(e^2 + 1)} = 4 + (-2) \\ &= 2 \end{aligned}$$

정답 & 해설

7) 정답 ④

$$\begin{aligned}
 f'(x) &= \cos x + 2 \cos 2x \cos x - \sin 2x \sin x \\
 &= \cos x + 2 \cos 2x \cos x - 2 \sin x \cos x \sin x \\
 &= \cos x(1 + 2 \cos 2x - 2 \sin^2 x) \\
 &= 3 \cos x \cos 2x \\
 f'(x) = 0 &\text{에서 } \cos x = 0 \text{ 또는 } \cos 2x = 0 \\
 \therefore x &= \frac{\pi}{4} \text{ 또는 } x = \frac{\pi}{2} \left(\because 0 \leq x \leq \frac{\pi}{2} \right)
 \end{aligned}$$

x	0	...	$\frac{\pi}{4}$...	$\frac{\pi}{2}$
$f'(x)$		+	0	-	
$f(x)$	0	↗	$\sqrt{2}$	↘	1

따라서 함수 $f(x)$ 의 최댓값은 $f\left(\frac{\pi}{4}\right) = \sqrt{2}$ 이다.

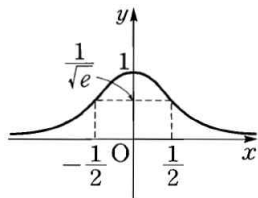
8) 정답 ①

$$\begin{aligned}
 f'(x) &= -4xe^{-2x^2} \\
 f''(x) &= -4e^{-2x^2} + (-4x) \cdot (-4xe^{-2x^2}) \\
 &= 4e^{-2x^2}(4x^2 - 1) \\
 &= 4e^{-2x^2}(2x+1)(2x-1) \\
 f'(x) = 0 &\text{에서 } x = 0 \\
 f''(x) = 0 &\text{에서 } x = -\frac{1}{2} \text{ 또는 } x = \frac{1}{2}
 \end{aligned}$$

x	...	$-\frac{1}{2}$...	0	...	$\frac{1}{2}$...
$f'(x)$	+	+	+	0	-	-	-
$f''(x)$	+	0	-	-	-	0	+
$f(x)$	↗	$\frac{1}{\sqrt{e}}$	↖	1	↘	$\frac{1}{\sqrt{e}}$	↙

또 $\lim_{x \rightarrow \infty} e^{-2x^2} = 0$, $\lim_{x \rightarrow -\infty} e^{-2x^2} = 0$ 이므로

$y = f(x)$ 의 그래프는 오른쪽 그림과 같다.



ㄱ. 모든 실수 x 에 대하여

$$f(-x) = e^{-2(-x)^2} = e^{-2x^2} = f(x)$$

이므로 $y = f(x)$ 의 그래프는 y 축에 대하여 대칭이다.

ㄴ. 치역은 $\{y \mid 0 < y \leq 1\}$ 이다.

ㄷ. 변곡점은 $\left(-\frac{1}{2}, \frac{1}{\sqrt{e}}\right)$, $\left(\frac{1}{2}, \frac{1}{\sqrt{e}}\right)$ 의 2개이다.

이상에서 보기 중 옳은 것은 ㄱ뿐이다.

9) 정답 6

[해설] $3x^2 + 2y^2 = 6$, 즉 $\frac{x^2}{2} + \frac{y^2}{3} = 1$ 에서 $\overline{FP} = a$, $\overline{F'P} = b$ 라 하면

타원의 정의에 의하여

$$a + b = 2\sqrt{3}$$

$$\therefore \overline{FP}^2 + \overline{F'P}^2 = a^2 + b^2 = (a+b)^2 - 2ab = 12 - 2ab$$

$a > 0$, $b > 0$ 이므로 산술평균과 기하평균의 관계에 의하여

$$\frac{a+b}{2} \geq \sqrt{ab} \quad (\text{단, 등호는 } a=b \text{일 때 성립})$$

$$\sqrt{3} \geq \sqrt{ab} \quad \therefore ab \leq 3$$

$$\therefore \overline{FP}^2 + \overline{F'P}^2 = 12 - 2ab \geq 12 - 2 \cdot 3 = 6$$

따라서 $\overline{FP}^2 + \overline{F'P}^2$ 의 최솟값은 6이다.

10) 정답 ④

[해설] 주어진 타원의 장축의 길이가 32m, 단축의 길이가 20m이므로

타원의 방정식을 $\frac{x^2}{10^2} + \frac{y^2}{16^2} = 1$ 이라 할 수 있다.

구하는 폭은 $y = 12$ 와 타원 $\frac{x^2}{10^2} + \frac{y^2}{16^2} = 1$ 의 교점 사이의 거리와

같으므로 $\frac{x^2}{10^2} + \frac{y^2}{16^2} = 1$ 에서

$$x^2 = \frac{7}{16} \cdot 10^2 \quad \therefore x = \pm \frac{5\sqrt{7}}{2}$$

따라서 구하는 폭은

$$\frac{5\sqrt{7}}{2} \cdot 2 = 5\sqrt{7}(\text{m})$$

11) 정답 ②

[해설] 오른쪽 그림과 같이 벡터 \vec{a} , \vec{b} 를 정하면

$$\overrightarrow{AB} = 2\vec{a} - \vec{b}, \quad \overrightarrow{AC} = \vec{a} + 2\vec{b}$$

$$\overrightarrow{AD} = 4\vec{a} + 2\vec{b}$$

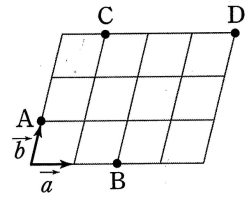
$$\overrightarrow{AD} = p\overrightarrow{AB} + q\overrightarrow{AC} \text{에서}$$

$$4\vec{a} + 2\vec{b} = p(2\vec{a} - \vec{b}) + q(\vec{a} + 2\vec{b}) = (2p+q)\vec{a} + (-p+2q)\vec{b}$$

서 $2p+q=4$, $-p+2q=2$ 이므로

$$p = \frac{6}{5}, \quad q = \frac{8}{5}$$

$$\therefore p - q = -\frac{2}{5}$$



따라

12) 정답 ④

[해설] 정팔각형의 외접원의 중심을 O 라 하면

$$\begin{aligned}
 \overrightarrow{AB} + \overrightarrow{AF} &= (\overrightarrow{OB} - \overrightarrow{OA}) + (\overrightarrow{OF} - \overrightarrow{OA}) \\
 &= (\overrightarrow{OB} + \overrightarrow{OF}) - 2\overrightarrow{OA} \\
 &= -2\overrightarrow{OA}
 \end{aligned}$$

즉 $|\overrightarrow{AB} + \overrightarrow{AF}| = |-2\overrightarrow{OA}| = 2|\overrightarrow{OA}| = 8$ 이므로

$$|\overrightarrow{OA}| = 4$$

따라서 구하는 팔각형의 넓이는 두 변의 길이가 4이고 그 끼인 각의

크기가 $\frac{360^\circ}{8} = 45^\circ$ 인 삼각형의 넓이의 8배이므로

$$\begin{aligned}
 8 \cdot \frac{1}{2} \cdot 4 \cdot 4 \cdot \sin 45^\circ &= 8 \cdot \frac{1}{2} \cdot 4 \cdot 4 \cdot \frac{\sqrt{2}}{2} \\
 &= 32\sqrt{2}
 \end{aligned}$$

13) 정답 3

[해설] 반원에 대한 원주각의 크기는 90° 이므로

$$\angle BAC = 90^\circ$$

즉 $\triangle ABC$ 는 직각삼각형이므로

$$\overline{BC} = \sqrt{(\sqrt{6})^2 + (\sqrt{2})^2} = 2\sqrt{2}$$

따라서 $\overline{OB} = \overline{OA} = \overline{OC} = \overline{AC} = \sqrt{2}$ 에서 $\triangle OCA$ 는 정삼각형이므로

$$\angle OAB = 90^\circ - 60^\circ = 30^\circ$$

$$\begin{aligned}
 \therefore \overline{AO} \cdot \overline{AB} &= |\overline{AO}| |\overline{AB}| \cos 30^\circ \\
 &= \sqrt{2} \times \sqrt{6} \times \frac{\sqrt{3}}{2} = 3
 \end{aligned}$$

14) 정답 ②

[해설] $\angle B = 120^\circ$ 이므로

$$\angle ABD = \angle DBE = \angle EBF = \angle FBC = 30^\circ$$

$$\therefore \overline{BA} \cdot \overline{BC} = |\overline{BA}| |\overline{BC}| \cos 120^\circ$$

$$12 \times 8 \times \left(-\frac{1}{2}\right) = -48$$

$$\therefore \overline{BA} \cdot \overline{BE} = |\overline{BA}| |\overline{BE}| \cos 60^\circ$$

$$= 12 \times |\overline{BE}| \times \frac{1}{2} = 6|\overline{BE}|$$

$$\therefore \overline{BA} \cdot \overline{BF} = |\overline{BA}| |\overline{BF}| \cos 90^\circ = 0$$

$$\therefore \overline{BC} \cdot \overline{BE} = |\overline{BC}| |\overline{BE}| \cos 60^\circ$$

$$= 8 \times |\overline{BE}| \times \frac{1}{2} = 4|\overline{BE}|$$

이상에서 그 값이 가장 큰 것은 ㄴ, 가장 작은 것은 ㄱ이다.

15) 정답 ④

(i) $f(1) = 2$, $f(4) = 6$ 인 경우

$f(2)$ 와 $f(3)$ 의 값이 될 수 있는 수는

2 또는 3 또는 4 또는 5 또는 6

이고, $f(1) \leq f(2) \leq f(3) \leq f(4)$ 이어야 하므로

2, 3, 4, 5, 6의 5개에서 2개를 택하는 중복조합의 수와 같다.

$$\therefore {}_5H_2 = {}_6C_2 = 15$$

또 $f(5)$ 와 $f(6)$ 의 값이 될 수 있는 수는

6 또는 7

이고, $f(4) \leq f(5) \leq f(6)$ 이어야 하므로 6, 7의 2개에서 2개를

택하는 중복조합의 수와 같다.

$$\therefore {}_2H_2 = {}_3C_2 = 3$$

따라서 $f(1) = 2$, $f(4) = 6$ 인 함수 f 의 개수는

정답 & 해설

$$15 \cdot 3 = 45$$

(ii) $f(1) = 3, f(4) = 4$ 인 경우

$f(2)$ 와 $f(3)$ 의 값이 될 수 있는 수는

3 또는 4

이고, $f(1) \leq f(2) \leq f(3) \leq f(4)$ 이어야 하므로 3, 4의 2개에서 2개를 택하는 중복조합의 수와 같다.

$$\therefore {}_2H_2 = {}_3C_2 = 3$$

또 $f(5)$ 와 $f(6)$ 의 값이 될 수 있는 수는

4 또는 5 또는 6 또는 7

이고 $f(4) \leq f(5) \leq f(6)$ 이어야 하므로 4, 5, 6, 7의 4개에서 2개를 택하는 중복조합의 수와 같다.

$$\therefore {}_4H_2 = {}_5C_2 = 10$$

따라서 $f(1) = 3, f(4) = 4$ 인 함수 f 의 개수는

$$3 \cdot 10 = 30$$

(i), (ii)에서 구하는 함수의 개수는

$$45 + 30 = 75$$

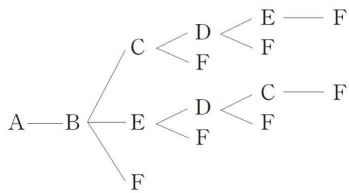
16) 정답 21

구하는 항의 개수는 3개의 문자 a, b, c 중에서 5개를 택하는 중복조합의 수와 같으므로

$${}_3H_5 = {}_7C_5 = {}_7C_2 = 21$$

17) 정답 28

주어진 팔면체의 꼭짓점 A에서 출발하여 꼭짓점 B로 움직인 후 꼭짓점 F에 도착하는 경우를 구해 보면 다음과 같다.



같은 방법으로 꼭짓점 A에서 출발하여 꼭짓점 C 또는 D 또는 E로 움직인 후 꼭짓점 F에 도착하는 경우도 각각 7가지씩이다.

따라서 구하는 방법의 수는

$$7 \cdot 4 = 28$$

18) 정답 81

(i) 4개의 집합으로 분할하는 경우

네 집합의 원소가 각각 1개, 1개, 1개, 3개인 경우의 수는

$${}_6C_1 \cdot {}_5C_1 \cdot {}_4C_1 \cdot {}_3C_3 \cdot \frac{1}{3!} = 6 \cdot 5 \cdot 4 \cdot 1 \cdot \frac{1}{6} = 20$$

네 집합의 원소가 각각 1개, 1개, 2개, 2개인 경우의 수는

$${}_6C_1 \cdot {}_5C_1 \cdot {}_4C_2 \cdot {}_2C_2 \cdot \frac{1}{2!} \cdot \frac{1}{2!} = 6 \cdot 5 \cdot 6 \cdot 1 \cdot \frac{1}{2} \cdot \frac{1}{2} = 45$$

이므로 $S(6, 4) = 20 + 45 + 65$

(ii) 5개의 집합으로 분할하는 경우

다섯 집합의 원소가 각각 1개, 1개, 1개, 1개, 2개인 경우의 수는

$$S(6, 4) = {}_6C_1 \cdot {}_5C_1 \cdot {}_4C_1 \cdot {}_3C_1 \cdot {}_2C_2 \cdot \frac{1}{4!}$$

$$= 6 \cdot 5 \cdot 4 \cdot 3 \cdot 1 \cdot \frac{1}{24} = 15$$

(iii) 6개의 집합으로 분할하는 경우

여섯 집합의 원소가 각각 1개씩이므로

$$S(6, 6) = 1$$

이상에서 구하는 방법의 수는

$$65 + 15 + 1 = 81$$

19) 정답 81

(i) 4개의 집합으로 분할하는 경우

네 집합의 원소가 각각 1개, 1개, 1개, 3개인 경우의 수는

$${}_6C_1 \cdot {}_5C_1 \cdot {}_4C_1 \cdot {}_3C_3 \cdot \frac{1}{3!} = 6 \cdot 5 \cdot 4 \cdot 1 \cdot \frac{1}{6} = 20$$

네 집합의 원소가 각각 1개, 1개, 2개, 2개인 경우의 수는

$${}_6C_1 \cdot {}_5C_1 \cdot {}_4C_2 \cdot {}_2C_2 \cdot \frac{1}{2!} \cdot \frac{1}{2!} = 6 \cdot 5 \cdot 6 \cdot 1 \cdot \frac{1}{2} \cdot \frac{1}{2} = 45$$

$$\text{이므로 } S(6, 4) = 20 + 45 + 65$$

(ii) 5개의 집합으로 분할하는 경우

다섯 집합의 원소가 각각 1개, 1개, 1개, 1개, 2개인 경우의 수는

$$S(6, 4) = {}_6C_1 \cdot {}_5C_1 \cdot {}_4C_1 \cdot {}_3C_1 \cdot {}_2C_2 \cdot \frac{1}{4!}$$

$$= 6 \cdot 5 \cdot 4 \cdot 3 \cdot 1 \cdot \frac{1}{24} = 15$$

(iii) 6개의 집합으로 분할하는 경우

여섯 집합의 원소가 각각 1개씩이므로

$$S(6, 6) = 1$$

이상에서 구하는 방법의 수는

$$65 + 15 + 1 = 81$$

20) 정답 186

세 정류장 A, B, C 중에서 승객이 내리는 2개의 정류장을 택하는 방법의 수는 ${}_3C_2 = 3$

6명을 2개의 조로 나눌 때, 각 조의 인원 수는

1, 5 또는 2, 4 또는 3, 3

(i) 승객을 1명, 5명으로 나누는 방법의 수는

$${}_6C_1 \cdot {}_5C_5 = 6 \cdot 1 = 6$$

(ii) 승객을 2명, 4명으로 나누는 방법의 수는

$${}_6C_2 \cdot {}_4C_4 = 15 \cdot 1 = 15$$

(iii) 승객을 3명, 3명으로 나누는 방법의 수는

$${}_6C_3 \cdot {}_3C_3 \cdot \frac{1}{2!} = 20 \cdot 1 \cdot \frac{1}{2} = 10$$

이상에서 승객을 2개의 조로 나누는 방법의 수는

$$6 + 15 + 10 = 31$$

2개의 조를 2개의 정류장에 분배하는 방법의 수는

$$2! = 2$$

따라서 구하는 방법의 수는

$$3 \cdot 31 \cdot 2 = 186$$

21) 정답 ②

ㄱ. $a > b > 1$ 이므로

$$\log_a b < \log_a a = 1, \log_b a > \log_b b = 1$$

$$\therefore \log_a b < \log_b a$$

ㄴ. [반례] $a = 3, b = 2$ 이면 $3^2 > 2^3$

ㄷ. $2^a = 3^b$ 의 양변에 밑이 2인 로그를 취하면

$$a = b \log_2 3 \quad \therefore \frac{a}{b} = \log_2 3$$

이때 $\log_2 3 > 1$ 이므로 $\frac{a}{b} > 1 \quad \therefore a > b$

ㄹ. [반례] $a = 8, b = 27$ 이면 $\log_2 8 = \log_3 27 = 3$ 이지만 $b > a$ 이다.

이상에서 옳은 것은 ㄱ, ㄷ 이다.

22) 정답 ①

$1 < x < 4$ 에서 각 변에 밑이 2인 로그를 취하면

$$\log_2 1 < \log_2 x < \log_2 4 \quad \therefore 0 < \log_2 x < 2$$

(i) $A - B = \log_2 x^2 - (\log_2 x)^2$

$$= 2 \log_2 x - (\log_2 x)^2$$

$$= \log_2 x (2 - \log_2 x) > 0$$

$$\therefore A > B$$

(ii) $0 < \log_2 x \leq 1$ 일 때

$$0 < (\log_2 x)^2 \leq 1, \log_2 (\log_2 x) \leq 0$$

$$\therefore (\log_2 x)^2 > \log_2 (\log_2 x) \quad \dots \textcircled{7}$$

$1 < \log_2 x < 2$ 일 때

$$1 < (\log_2 x)^2 < 4, 0 < \log_2 (\log_2 x) < 1$$

$$\therefore (\log_2 x)^2 > \log_2 (\log_2 x) \quad \dots \textcircled{8}$$

㉞, ㉟에서 $B > C$

(i), (ii)에서 $A > B > C$

23) 정답 $-\frac{1}{2}$

$$\sin\left(\frac{\pi}{2} - \frac{\pi}{6}\right) = \cos \frac{\pi}{6}, \sin\left(\frac{3}{2}\pi + \frac{\pi}{6}\right) = -\cos \frac{\pi}{6}$$

정답 & 해설

$$\cos\left(\frac{\pi}{2} + \frac{\pi}{6}\right) = -\sin\frac{\pi}{6}, \quad \cos\left(\pi - \frac{\pi}{6}\right) = -\cos\frac{\pi}{6}.$$

$$\cos\left(3\pi + \frac{\pi}{6}\right) = -\cos\frac{\pi}{6}$$

∴ (주어진

$$= \cos\frac{\pi}{6} - \cos\frac{\pi}{6} - \sin\frac{\pi}{6} - \cos\frac{\pi}{6} + \cos\frac{\pi}{6}$$

$$= -\sin\frac{\pi}{6} = -\frac{1}{2}$$

24) 정답 A < B

$$A - B = x \sin y + y \sin x - (x \cos x + y \cos y) \\ = x(\sin y - \cos x) + y(\sin x - \cos y)$$

$0 < x < \frac{\pi}{4}, 0 < y < \frac{\pi}{4}$ 인 모든 x, y ($x \neq y$) 에 대하여

$$\sin x < \cos y, \quad \sin y < \cos x$$

$$\therefore \sin x - \cos y < 0, \quad \sin y - \cos x < 0$$

따라서 $x(\sin y - \cos x) + y(\sin x - \cos y) < 0$ 이므로

$$A - B < 0 \quad \therefore A < B$$

25) 정답 ③

$f(x) = x + \sqrt{1-x^2}$ 에서 $0 < x \leq 1$ 이고

$$f'(x) = 1 + \frac{-2x}{2\sqrt{1-x^2}} = \frac{\sqrt{1-x^2}-x}{\sqrt{1-x^2}}$$

$$f'(x) = 0 \text{ 에서 } \sqrt{1-x^2} = x$$

양변을 제곱하여 정리하면 $x^2 = \frac{1}{2}$

$$\therefore x = \frac{1}{\sqrt{2}} \quad (\because 0 < x \leq 1)$$

x	(0)	...	$\frac{1}{\sqrt{2}}$...	1
$f'(x)$		+	0	-	
$f(x)$		↗	$\sqrt{2}$	↘	1

따라서 $f(x)$ 의 극댓값은 $f\left(\frac{1}{\sqrt{2}}\right) = \sqrt{2}$

26) 정답 ②

$f(x) = x(\ln x)^2$ 에서 $x > 0$ 이고

$$f'(x) = (\ln x)^2 + x \cdot 2 \ln x \cdot \frac{1}{x} = (\ln x + 2) \ln x$$

$$f'(x) = 0 \text{ 에서 } \ln x = -2 \text{ 또는 } \ln x = 0$$

$$\therefore x = \frac{1}{e^2} \text{ 또는 } x = 1$$

x	(0)	...	$\frac{1}{e^2}$...	1	...
$f'(x)$		+	0	-	0	+
$f(x)$		↗	$\frac{4}{e^2}$	↘	0	↗

따라서 $f(x)$ 의 극댓값은 $f\left(\frac{1}{e^2}\right) = \frac{4}{e^2}$, 극솟값은 $f(1) = 0$ 이므로 극댓

값과 극솟값의 합은 $\frac{4}{e^2}$ 이다.

27) 정답 ③

$$f'(x) = ax + 3 \cos x + 1, \quad f''(x) = a - 3 \sin x$$

곡선 $y = f(x)$ 가 변곡점을 가지려면 방정식 $f''(x) = 0$ 이 실근을 갖고, 그 근의 좌우에서 $f''(x)$ 의 부호가 바뀌어야 한다.

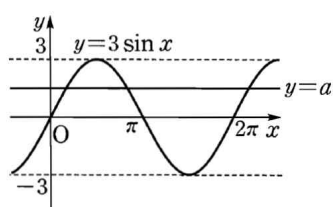
$$f''(x) = 0 \text{ 에서 } a - 3 \sin x = 0$$

$$\therefore 3 \sin x = a$$

이 방정식이 실근을 가지려면 곡선 $y = 3 \sin x$ 와 직선 $y = a$ 가 만나야 하므로 오른쪽 그림에서

$$-3 \leq a \leq 3$$

이때 $a = -3$ 또는 $a = 3$ 이면



$$f''(x) = -3(1 + \sin x)$$

$$\text{또는 } f''(x) = 3(1 - \sin x)$$

$$\therefore f''(x) \leq 0 \text{ 또는 } f''(x) \geq 0$$

따라서 $f''(x) = 0$ 을 만족시키는 x 의 값의 좌우에서 $f''(x)$ 의 부호가 바뀌지 않으므로 변곡점이 될 수 없다.

$$\therefore -3 < a < 3$$

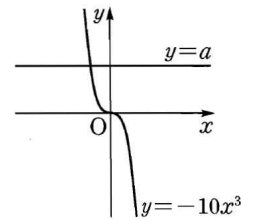
28) 정답 1

$$f'(x) = 5x^4 + 2ax + b, \quad f''(x) = 20x^3 + 2a$$

$$f''(x) = 0 \text{ 에서 } 20x^3 + 2a = 0$$

$$\therefore -10x^3 = a$$

오른쪽 그림에서 곡선 $y = -10x^3$ 과 직선 $y = a$ 는 한 점에서 만나므로 방정식 $f''(x) = 0$ 은 1개의 실근을 갖고, 그 근의 좌우에서 $f''(x)$ 의 부호가 바뀌므로 함수 $f(x)$ 의 변곡점의 개수는 1이다.



29) 답 24

[해설] 오른쪽 그림과 같이 점 D에서 BC에 내린 수선의 발을 H라 하고, $\overline{FD} = k$,

$\overline{FC} = 2k$ ($k > 0$)로 놓으면

$$\overline{AD} = \overline{BH} = \overline{CH} = k$$

이므로 직각삼각형 DHC에서

$$\overline{DH} = \sqrt{(3k)^2 - k^2} = 2\sqrt{2}k$$

이때 사다리꼴 ABCD의 넓이가 $192\sqrt{2}$ 이

$$\frac{1}{2}(k+2k) \cdot 2\sqrt{2}k = 192\sqrt{2}$$

$$k^2 = 64 \quad \therefore k = 8 \quad (\because k > 0)$$

$$\therefore \overline{CD} = 3k = 24$$

30) 답 4

[해설] 오른쪽 그림과 같이 점 B에서

\overline{AH} 에 내린 수선의 발을 I라 하면 직

$$\overline{AI} = \overline{AB} \cos 60^\circ = 16 \cdot \frac{1}{2} = 8$$

포물선의 정의에 의하여 $\overline{AH} = \overline{AF}$,

$$\overline{BK} = \overline{BF} \text{ 이므로}$$

$$\overline{AH} + \overline{BK} = \overline{AF} + \overline{BF} = \overline{AB} = 16$$

$$(\overline{AI} + \overline{IH}) + \overline{BK} = 16, \quad 8 + \overline{BK} + \overline{BK} = 16$$

$$2\overline{BK} = 8 \quad \therefore \overline{BK} = 4$$

31) 답 45°

[해설]

주어진 전개도로 만든 사각뿔은 오른쪽 그림과 같다.

점 P에서 \overline{AD} 에 내린 수선의 발을 H라

하면 $\overline{PH} = 2$ 이므로 $\triangle PAH$ 에서

$$\overline{PA} = \sqrt{2^2 + 1^2} = \sqrt{5}$$

점 P에서 \overline{AB} 에 내린 수선의 발을 H'이

라 하면 $\triangle PAH'$ 에서

$$\overline{PH'} = \sqrt{(\sqrt{5})^2 - (\sqrt{3})^2} = \sqrt{2}$$

점 H'에서 \overline{CD} 에 내린 수선의 발을 M이라 하면 옆면 PAB와 밑면 ABCD가 이루는 각의 크기는 $\overline{PH'}$ 과 $\overline{MH'}$ 이 이루는 각의 크기와 같다.

따라서 $\angle PH'M = \theta$ 라 하면

$$\cos \theta = \frac{\frac{1}{2} \overline{MH'}}{\overline{PH'}} = \frac{1}{\sqrt{2}} = \frac{\sqrt{2}}{2}$$

$$\therefore \theta = 45^\circ$$

32) 답 $\frac{1}{6}$

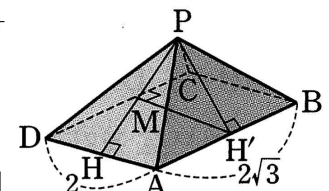
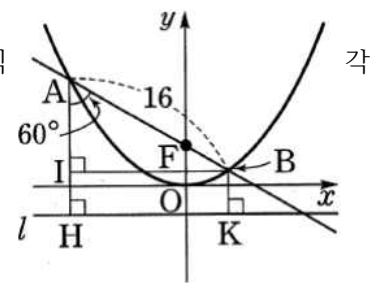
[해설]

선분 BC를 삼등분하는 점 중 점 C와

가까운 점을 A'이라 하면 선분 CD

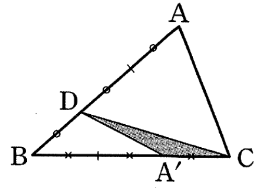
를 접는 선으로 하여 평면 ABC를

접을 때, 꼭짓점 A의 평면 BCD 위로



정답 & 해설

의 정사영이 점 A' 이므로 오른쪽 그림에서 $\triangle ADC$ 의 평면 BCD 위로의 정사영은 $\triangle A'DC$ 이다.



즉 $\triangle A'CD = \triangle ADC \cos \theta$ 이므로

$$\cos \theta = \frac{\triangle A'CD}{\triangle ADC}$$

$\triangle A'CD = S$ 라 하면

$$\triangle ADC = 2\triangle BCD = 2 \times 3\triangle A'CD = 6\triangle A'CD = 6S$$

$$\therefore \cos \theta = \frac{S}{6S} = \frac{1}{6}$$

33) 답 $\frac{2\sqrt{3}}{3}$

[해설] 두 평면 $2x+y-z=1$, $x-2y-z=2$ 의 법선벡터를 각각 n_1, n_2 라 하면

$$\vec{n}_1 = (2, 1, -1), \vec{n}_2 = (1, -2, -1)$$

두 평면이 이루는 각의 크기를 $\theta (0 \leq \theta \leq \frac{\pi}{2})$ 라 하면

$$\cos \theta = \frac{|2 \times 1 + 1 \times (-2) + (-1) \times (-1)|}{\sqrt{2^2 + 1^2 + (-1)^2} \sqrt{1^2 + (-2)^2 + (-1)^2}} = \frac{1}{6}$$

이때 $\triangle ABC$ 의 넓이는 $\frac{\sqrt{3}}{4} \cdot 4^2 = 4\sqrt{3}$

이므로 구하는 정사영의 넓이는

$$4\sqrt{3} \times \frac{1}{6} = \frac{2\sqrt{3}}{3}$$

34) 답 $\frac{\pi}{4}$

[해설] 두 구 $x^2 + y^2 + (z-1)^2 = 4$, $x^2 + (y-1)^2 + (z-2)^2 = 1$ 의 교선을 포함하는 평면 α 의 방정식은

$$2y + 2z - 7 = 0$$

평면 α 의 법선벡터는 $(0, 2, 2)$ 이고 xy 평면의 법선벡터는 $(0, 0, 1)$ 이므로 평면 α 와 xy 평면이 이루는 예각의 크기를 θ 라 하면

$$\cos \theta = \frac{|2 \times 1|}{\sqrt{2^2 + 2^2}} = \frac{\sqrt{2}}{2} \quad \therefore \theta = \frac{\pi}{4}$$

35) 정답 ⑤

7개의 문자 A, A, A, B, B, C, D를 일렬로 나열하는 방법의 수는

$$\frac{7!}{3! \cdot 2!} = 420$$

C, D를 한 문자 T로 생각하여 6개의 문자 A, A, A, B, B, T를 일렬로 나열하는 방법의 수는

$$\frac{6!}{3! \cdot 2!} = 60$$

이때 C와 D가 자리를 바꾸는 방법의 수는 $2! = 2$ 이므로 C, D가 이웃하도록 나열하는 방법의 수는

$$60 \cdot 2 = 120$$

따라서 구하는 방법의 수는 $420 - 120 = 300$

[다른 풀이]

C, D를 제외한 5개의 문자 A, A, A, B, B를 일렬로 나열하는 방법

$$\text{의 수는 } \frac{5!}{3! \cdot 2!} = 10$$

이때 A, A, A, B, B의 사이사이와 양 끝의 6개의 자리에 C, D를 나열하는 방법의 수는 ${}^6P_2 = 30$

따라서 구하는 방법의 수는 $10 \cdot 30 = 300$

36) 정답 136

[전략] $f(3)$ 의 값을 기준으로 경우를 나누어 생각한다.

[풀이]

(i) $f(3) = 1$ 인 경우

$f(4), f(5), f(6)$ 의 값이 존재하지 않으므로 f 는 함수가 아니다.

(ii) $f(3) = 3$ 인 경우

$f(1)$ 과 $f(2)$ 가 될 수 있는 수는

4 또는 5 또는 6

$f(4), f(5), f(6)$ 의 값이 될 수 있는 수는

1 또는 2

따라서 f 의 개수는

$${}_3P_2 \cdot {}_2P_3 = 3^2 \cdot 2^3 = 72$$

(iii) $f(3) = 3$ 인 경우

$f(1)$ 과 $f(2)$ 가 될 수 있는 수는 6

$f(4), f(5), f(6)$ 의 값이 될 수 있는 수는

1 또는 2 또는 3 또는 4

따라서 f 의 개수는

$$1 \cdot {}_4P_3 = 1 \cdot 4^3 = 64$$

이상에서 구하는 함수의 개수는

$$72 + 64 = 136$$

37) 정답 9

$\left(x + \frac{1}{x^n}\right)^{10}$ 의 전개식의 일반항은

$${}_{10}C_r x^{10-r} \left(\frac{1}{x^n}\right)^r = {}_{10}C_r x^{10-(n+1)r}$$

상수항은 $10 - (n+1)r = 0$ 일 때이므로 $(n+1)r = 10$

이를 만족시키는 r, n 의 순서쌍 (r, n) 은

$(1, 9), (2, 4), (5, 1)$

따라서 n 의 최댓값은 9이다.

38) 정답 ⑤

$$(1+x) + (1+x)^2 + \dots + (1+x)^{10} \quad \dots \textcircled{5}$$

⑤는 첫째항이 $1+x$, 공비가 $1+x$, 항의 개수가 10인 등비수열의 합이므로

$$\frac{(1+x)\{(1+x)^{10} - 1\}}{(1+x) - 1} = \frac{(1+x)^{11} - (1+x)}{x} \quad \dots \textcircled{6}$$

⑤의 전개식에서 x 의 계수는 ⑥의 $(1+x)^{11}$ 의 전개식에서 x^2 의 계수와 같다.

$(1+x)^{11}$ 의 전개식의 일반항은 ${}_{11}C_r x^r$

$x^r = x^2$ 에서 $r = 2$

따라서 구하는 계수는 ${}_{11}C_2 = 55$

39) 정답 ③

빨간 공이 x 번, 노란 공이 y 번 나온다고 하면

$$x + y = 5, \quad x + 2y = 7$$

두 식을 연립하여 풀면 $x = 3, y = 2$

따라서 7점을 얻으려면 빨간 공이 3번, 노란 공이 2번 나와야 하므로

$$\text{구하는 확률은 } {}_5C_3 \left(\frac{3}{7}\right)^3 \left(\frac{4}{7}\right)^2$$

40) 정답 $\frac{11}{64}$

(i) 소수가 적힌 공을 꺼내고, 동전을 3번 던져서 3번 모두 앞면이 나올 확률은

$$\frac{3}{8} \cdot {}_3C_3 \left(\frac{1}{2}\right)^3 \left(\frac{1}{2}\right)^0 = \frac{3}{64}$$

(ii) 짝수가 적힌 공을 꺼내고, 동전을 4번 던져서 앞면이 3번 나올 확률은

$$\frac{4}{8} \cdot {}_4C_3 \left(\frac{1}{2}\right)^3 \left(\frac{1}{2}\right)^1 = \frac{1}{8}$$

(i), (ii)에서 구하는 확률은 $\frac{3}{64} + \frac{1}{8} = \frac{11}{64}$